



سوالات زیست شناسی

- ۱- کدام، تقسیم میتوز ندارد؟
 (۱) آمیب (۲) هاگ اسپرژیلوس (۳) گندم تریپلوئید (۴) استرپتوکوس نومونیا
- ۲- باز جذب کدام از لوله‌ی خمیده‌ی نزدیک، در جهت شیب غلظت است؟
 (۱) گلوکز (۲) H^+ (۳) HCO_3^- (۴) NaCl
- ۳- در بدن انسان، از تجزیه‌ی کدام، ترکیب نیتروژن دار حاصل می‌شود؟
 (۱) لپاز (۲) مالتوز (۳) گلیکوژن (۴) تری گلیسرید
- ۴- تحت تأثیر..... صورت نمی‌گیرد.
 (۱) اکسین، چیرگی رأسی (۲) اکسین، ریزش برگ‌ها
 (۳) اتیلن، رسیدن میوه‌ها (۴) ژبیرلین، درشت شدن میوه‌ها
- ۵- دئوکسی ریبوز، جزئی از ساختار کدام است؟
 (۱) ویروئید (۲) پرویون (۳) آندوسپور (۴) TMV
- ۶- در مقایسه‌ی تنفس نوری و تنفس سلولی کدام عبارت صحیح است؟
 (۱) هر دو فرآیند وابسته به نوراند. (۲) ATP محصول مشترک هر دو فرآیند است.
 (۳) هر دو فرآیند با فتوسنتز رابطه‌ی مستقیم دارند. (۴) بخشی از هر دو فرآیند در میتوکندری انجام می‌شود.
- ۷- در انسان، سلول‌هایی که در ایمنی فعال نقش دارند، از کدام بافت اصلی منشأ گرفته‌اند؟
 (۱) پیوندی (۲) پوششی (۳) ماهیچه‌ای (۴) عصبی
- ۸- هر تخمک کاج، در اولین سال تشکیل، دارای کدام است؟
 (۱) آندوسپرم (۲) دو پوسته (۳) هاگ ماده (۴) سفت
- ۹- کدام عامل می‌تواند در کاهش پدیده‌ی حباب‌دار شدگی عناصر آوندی، مؤثر باشد؟
 (۱) تعریق (۲) تعرق شدید (۳) انجماد (۴) شکستن شاخه
- ۱۰- در مورد مویرگ‌های انسان، کدام عبارت نادرست است؟
 (۱) در همه‌ی بافت‌ها نفوذپذیری یکسانی ندارند.
 (۲) در دیواره‌ی اغلب آنها، منافذ کمی وجود دارد.
 (۳) سطح خارجی آنها توسط پلی‌ساکارید پوشیده شده است.
 (۴) از بافت سنگ‌فرشی یک لایه‌ای ساخته شده‌اند.
- ۱۱- اگر برای ژن خودناسازگار در گیاهی چهار الل فرض شود، در جمعیت این گیاه، چند نوع ژنوتیپ می‌تواند وجود داشته باشد؟
 (۱) ۴ (۲) ۶ (۳) ۸ (۴) ۱۰



سوالات کنکور ۸۵ تجربی

۱۲- در مورد خط جانبی ماهی‌ها، کدام عبارت نادرست است؟

- (۱) حاوی گیرنده‌های مکانیکی است.
- (۲) برای تشخیص اجسام ساکن و متحرک کمک می‌کند.
- (۳) در بعضی گیرنده‌ی الکتریکی نیز وجود دارد.
- (۴) مخصوص پردازش اطلاعات حسی در همه‌ی ماهی‌ها است.

۱۳- نوار قلب انسان، ثبت نام دارد.

- (۱) جریان الکتریکی قلب است و الکتروکاردیوگرام
- (۲) جریان الکتریکی و مکانیکی قلب است و کاردیوگرام
- (۳) تغییرات الکتریکی و مکانیکی قلب است و الکتروکاردیوگرام
- (۴) تغییرات فشار درون حفره‌های قلب است و کاردیوگرام

۱۴- کدام، از اجزای چشم پروانه‌ی موناک است؟

- (۱) مردمک
- (۲) قرینه
- (۳) عنیه
- (۴) عدسی و مردمک

۱۵- کدام عمل به مایع شفاف کره‌ی چشم، اختصاص دارد؟

- (۱) تغذیه‌ی شبکیه
- (۲) جمع‌آوری مواد دفعی
- (۳) دقت و تیزبینی
- (۴) حفظ شکل کره‌ی چشم

۱۶- در ساختار اصلی کدام، سلول‌های ماهیچه‌ای دوکی شکل وجود ندارد؟

- (۱) میزنای
- (۲) میوکارد
- (۳) روده
- (۴) کاردیا

۱۷- در بررسی هم‌زمان دو صفت وابسته به جنس دو آلی، که آل‌های آن‌ها از رابطه‌ی هم توانی تبعیت می‌کنند. حداکثر

چند نوع فنوتیپ برای زنان محتمل است؟

- (۱) ۳
- (۲) ۴
- (۳) ۸
- (۴) ۹

۱۸- شبکه‌ی آندوپلاسمی صاف در انسان، در کدام مورد نقش ندارد؟

- (۱) انقباض ماهیچه
- (۲) تجزیه‌ی گلیکوژن کبد
- (۳) ساخت انسولین
- (۴) ساخت استروژن

۱۹- کدام یک، مانع از استمرار تنوع در جمعیت‌ها می‌شود؟

- (۱) رانش ژن
- (۲) انتخاب گسلنده
- (۳) کراسینگ‌اور
- (۴) انتخاب متوازن‌کننده

۲۰- در ارتباط با غلاف میلین، کدام عبارت نادرست است؟

- (۱) بر سطح خارجی اکسون و دندریت قرار می‌گیرد.
- (۲) توسط یک دسته از سلول‌های غیرعصبی ویژه ساخته می‌شود.
- (۳) باعث افزایش سرعت سیر پیام عصبی در طول رشته‌ی عصبی می‌شود.
- (۴) سبب افزایش تماس غشای سلولی رشته‌ی عصبی، با محیط اطراف می‌شود.

۲۱- شکل مقابل، مرحله‌ای از چرخه‌ی زندگی را نشان می‌دهد.

- (۱) سینورابدیتیس
- (۲) آگاو
- (۳) اوگلنا
- (۴) تاژک‌دار چرخان





سوالات کنکور ۸۵ تجربی

- ۲۲- کدام، در جدا ماندن خزانه‌ی ژنی گونه‌ها از یکدیگر دخالتی ندارد؟
 (۱) تشکیل دو رگه‌ی نازا
 (۲) تشکیل گیاهان تریپلوئید
 (۳) عدم تشکیل لوله‌ی گرده، توسط ژن خودناسازگار
 (۴) عدم تشکیل لوله‌ی گرده روی کلاله‌ی گونه‌ی نزدیک
- ۲۳- کدام عامل، توان بقای جمعیت را افزایش می‌دهد؟
 (۱) افزایش همانندی
 (۲) شارش ژنی در جمعیت مبدأ
 (۳) افزایش آمیزش‌های ناهمسان پسندانه
 (۴) کاهش اندازه‌ی جمعیت
- ۲۴- کدام سلول زنده، می‌تواند فاقد اندامک باشد؟
 (۱) آبکش
 (۲) همراه
 (۳) پارانشیم
 (۴) اپیدرم
- ۲۵- کدام، در گیاه آفتابگردان، حاصل مستقیم تقسیم میوز است؟
 (۱) تخم‌زا
 (۲) گرده‌ی نارس
 (۳) آنتروزوئید
 (۴) سلول رویشی
- ۲۶- در ارتباط با عمل پمپ سدیم- پتاسیم، واقع در غشای نوروها، کدام عبارت نادرست است؟
 (۱) ایجاد پتانسیل آرامش در سلول
 (۲) افزایش بار مثبت در بیرون غشا
 (۳) انتقال یون‌های با بار مثبت به دو سوی غشا
 (۴) منفی‌تر کردن درون سلول، به‌علت ورود یون‌هایی با بار منفی
- ۲۷- در تریکودینا، محصول فعالیت کدام آنزیم، دارای آنتی‌کدون آغاز است؟
 (۱) RNA پلی‌مراز II
 (۲) RNA پلی‌مراز III
 (۳) RNA پلی‌مراز I
 (۴) RNA پلی‌مراز پروکاریوتی
- ۲۸- سلول‌های و به یک نوع بافت اصلی گیاه تعلق دارند.
 (۱) پارانشیم- تار کشنده
 (۲) نگهبان روزنه- پارانشیم
 (۳) کلانشیم- ترشح‌کننده‌ی کوتین
 (۴) تار کشنده- ترشح‌کننده‌ی کوتین
- ۲۹- در انسان، افزایش فعالیت کدام بخش، در جلوگیری از پس زدن عضو پیوندی نقش دارد؟
 (۱) قشری فوق کلیه
 (۲) مرکزی فوق کلیه
 (۳) درون‌ریز پانکراس
 (۴) پسین هیپوفیز
- ۳۰- در دیواره‌ی لوله‌ی گوارش انسان، بین لایه‌های مخاطی و ماهیچه‌ای حلقوی، کدام بافت (بافت‌ها) قرار دارد؟
 (۱) ماهیچه‌ای طولی
 (۲) پوششی با آستر پیوندی
 (۳) پیوندی با رگ‌های خونی فراوان
 (۴) پیوندی و ماهیچه‌ای طولی
- ۳۱- گامت نر در کدام جاندار، فاقد وسیله‌ی حرکتی است؟
 (۱) خزه
 (۲) هویج
 (۳) کلامیدوموناس
 (۴) کاهوی دریایی
- ۳۲- در دستگاه تنفس انسان، هوای مکمل
 (۱) هوایی است که گازهای آن با خون مبادله نمی‌شود
 (۲) با فعالیت ماهیچه‌های بازدم، از شش‌ها خارج می‌شود.
 (۳) با فعالیت ماهیچه‌های دم، به شش‌ها وارد می‌شود.
 (۴) حتی با بازدم عمیق، از شش‌ها خارج نمی‌شود.



سوالات کنکور ۸۵ تجربی

۳۳- واحدهای سازنده‌ی کدام، می‌تواند با سایرین تفاوت اساسی داشته باشد؟
 (۱) آنتی‌ژن (۲) پرفورین (۳) ایترفرون (۴) گیرنده‌ی آنتی‌ژنی

۳۴- سیستم تنفسی نایی، در کدام وجود دارد؟

(۱) عروس دریایی (۲) زنبور عسل

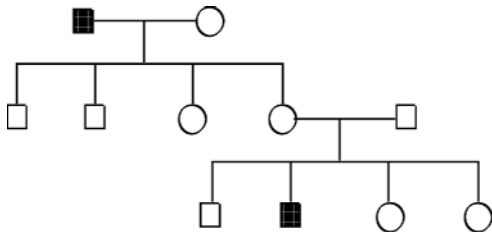
(۳) کرم خاکی

(۴) خرچنگ دراز

۳۵- نحوه‌ی وراثت کدام بیماری با دودمانه‌ی مقابل مطابقت ندارد؟

(۱) هانتینگتون (۲) هموفیلی

(۳) تالاسمی ماژور (۴) زالی



۳۶- پروتئین ریوزومی آرآیدوپسیس به کدام، شباهت بیشتری دارد؟

(۱) هموفیلوس

(۲) اشیشیاکلی

(۳) هالوفیل

(۴) ریزوبیوم

۳۷- در انسان، افزایش ضخامت و حفظ دیواره‌ی رحم پس از تخمک‌گذاری، به‌طور مستقیم بر عهده‌ی کدام است؟

(۱) LH و FSH

(۲) LH و استروژن

(۳) FSH و پروژسترون

(۴) استروژن و پروژسترون

۳۸- در آسکومیست‌ها، آسکوکارپ در چه مرحله‌ای ساخته می‌شود؟

(۱) در تولیدمثل غیرجنسی

(۲) قبل از ادغام هسته‌های نوع آمیزشی + و -

(۳) بعد از ادغام هسته‌های نوع آمیزشی + و - (۴) به هنگام رشد نخینه‌ها بعد از ادغام هسته‌های آمیزشی

۳۹- زردپی آشیل، کدام ماهیچه را به استخوان متصل می‌کند؟

(۱) توأم

(۲) خیاطه

(۳) دو سر ران

(۴) چهار سر ران

۴۰- در چرخه‌ی زندگی بازیدیومیست‌ها (به شیوه‌ی جنسی) کدام عبارت نادرست است؟

(۱) فرد پرسلولی هاپلوئید است.

(۲) با رشد و نمو زیگوت نخینه تشکیل می‌شود.

(۳) زیگوت تنها سلول دیپلوئید است.

(۴) با تقسیم میتوز، گامت تولید می‌شود.

۴۱- هنگامی برگچه‌های برگ‌های مرکب افاقیا، روی هم تا می‌خورند که

(۱) در تاریکی قرار بگیرند

(۲) در روشنایی قرار بگیرند

(۳) آن‌ها را لمس کنیم

(۴) جسم خارجی به آن‌ها برخورد کند

۴۲- عامل مولد کدام بیماری، فاقد غشاهای درونی است؟

(۱) مالاریا

(۲) توکسوپلاسموز

(۳) برفک دهان

(۴) ذات‌الریه

۴۳- هر سلول زاینده‌ی زنی با گروه خونی A⁺ و مبتلا به تالاسمی مینور، چند نوع گامت تولید می‌کند؟

(۱) ۱

(۲) ۲

(۳) ۴

(۴) ۸


۴۴- ویژگی آغازیانی که توانایی هضم چوب را دارند، کدام است؟

(۱) مژک‌های فراوان

(۲) پوشش سیلیسی

(۳) بدن تک‌سلولی

(۴) وجود کلروپلاست



سوالات کنکور ۸۵ تجربی

۴۵- کدام، در مورد انسان صحیح است؟

- (۱) ماکروفاژها به وسیله دیپدز، از دیواره‌ی مویزگ‌ها عبور می‌کنند.
- (۲) ماکروفاژها، تنها فاگوسیت‌های فعال، در خارج خون هستند.
- (۳) تنها گلبول‌های مربوط به دفاع غیراختصاصی در خون، مونوسیت‌ها هستند.
- (۴) دفاع غیراختصاصی ممکن است بدون نیاز به پاسخ دمایی باشد.

۴۶- درباره‌ی مشخصات هر سارکومر کدام عبارت نادرست است؟

- (۱) خط M وسط یک سارکومر قرار دارد.
- (۲) خط M وسط صفحه‌ی روشن قرار دارد.
- (۳) صفحه‌ی هسنن وسط صفحه‌ی روشن قرار دارد.
- (۴) خط Z میان دو بخش روشن قرار دارد.

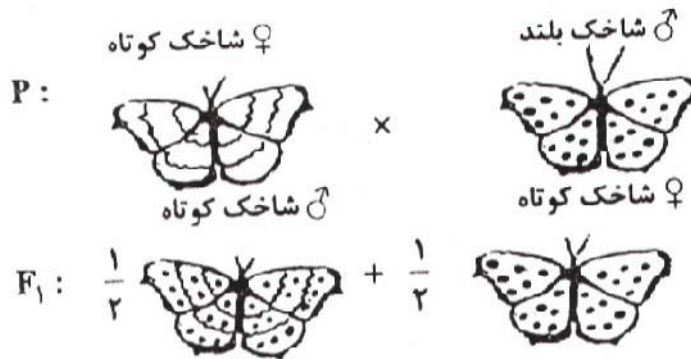
۴۷- سلولی که در پروفاز I دارای ۲۴ رشته‌ی پلی‌نوکلئوتیدی است، در تلوفاز I همان تقسیم در هر یک از هسته‌ها چند سانترومر خواهد داشت؟

- (۱) ۳
- (۲) ۴
- (۳) ۶
- (۴) ۱۲

۴۸- تولیدمثل غیرجنسی در..... مانند یکدیگر است.

- (۱) اسپیروژیر و هیدر
- (۲) آمیب و مایکوباکتریوم توبرکلوسیز
- (۳) دیاتوم و کاندیدا آلیکنز
- (۴) هیدر و ساکارومایسز سرویزیه

با توجه به آمیزش در شکل زیر که وضعیت بال و طول شاخک را در پروانه نشان می‌دهد، به دو سؤال بعدی پاسخ دهید:



۴۹- چه نسبتی از ماده‌های نسل دوم شاخک بلند خواهند داشت؟

- (۱) $\frac{1}{16}$
- (۲) $\frac{1}{8}$
- (۳) $\frac{3}{16}$
- (۴) $\frac{3}{8}$

۵۰- چه نسبتی از افراد نسل دوم و شاخک کوتاه خواهند داشت؟

- (۱) $\frac{1}{16}$
- (۲) $\frac{1}{8}$
- (۳) $\frac{3}{16}$
- (۴) $\frac{3}{8}$

سوالات زمین شناسی

۵۱- کدام عامل سبب شکسته شدن مولکول‌های CFC در استراتوسفر می‌شود؟

- (۱) اتم کلر
- (۲) گاز ازون
- (۳) اشعه‌ی ماوراء بنفش
- (۴) اتم‌های آزاد اکسیژن



سوالات کنکور ۸۵ تجربی

۵۲- دشت مگاکي با کدام ویژگی‌ها شناخته می‌شود؟

- (۱) مسطح و مرتفع
(۲) هموار و عمیق
(۳) مسطح با کوه‌های بلند منفرد
(۴) زمین‌های صاف با گودال‌های عمیق

۵۳- شکل‌گیری دریاچه‌ی بایکال حاصل کدام عامل تغییر شکل سنگ‌ها است؟

- (۱) تنش کششی
(۲) تنش برشی
(۳) تنش فشاری
(۴) تغییر شکل الاستیک

۵۴- کدام ویژگی کانی‌ها بیشتر به ترکیب شیمیایی آن‌ها ارتباط دارد؟

- (۱) رخ
(۲) رنگ
(۳) سختی
(۴) شکل بلور

۵۵- حاصل اثر فشار و گرمای زیاد بر روی چه موادی، تشکیل کردندوم سرخ است؟

- (۱) سنگ‌های کربناتی و یون سیلیسیم
(۲) سنگ‌های کربناتی و یون آهن
(۳) سنگ‌های آذرین درشت بلور و یون آهن
(۴) سنگ‌های کربناتی و یون آلومینیم

۵۶- کانی اصلی کیمبرلیت کدام است؟

- (۱) الیوین
(۲) الماس
(۳) گرافیت
(۴) پلاژیوکلاز

۵۷- کدام یک حاصل عمل‌کرد نیروهای تکتونیکی و عمل سیمان‌شدگی است؟

- (۱) توف
(۲) گرابن
(۳) برش
(۴) کوکینا

۵۸- سیمانی از جنس اکسید آهن، سبب قرمزی رنگ کدام سنگ می‌شود؟

- (۱) شیل
(۲) سنگ نمک
(۳) ژپس
(۴) آركوز

۵۹- محل بهره‌برداری از پوک‌های معدنی معمولاً نزدیک کدام است؟

- (۱) مخروط افکنه
(۲) کوه آتشفشان
(۳) باتولیت هوازده
(۴) هاله‌ی دگرگونی فرسایش‌یافته

۶۰- ویژگی‌های ظاهری یک سنگ دگرگون شده در جدول مقابل آمده است. عامل اصلی دگرگون‌شدگی این سنگ کدام است؟

اندازه دانه	مقاومت	جهت یافتگی	رنگ
ریز	زیاد	ندارد	سیاه

- (۱) گرما
(۲) فشار جهت‌دار
(۳) تبلور دوباره
(۴) آب داغ کربن‌دار

۶۱- شکل مقابل، نقشه‌ی زمین‌شناسی منطقه‌ای در ناحیه‌ی مرطوب حاره‌ای را نشان می‌دهد. فراوان‌ترین ماده‌ی معدنی، در



خاک زمین‌های هموار نزدیک به این ناحیه کدام است؟

- (۱) هماتیت
(۲) فلدسپات
(۳) کلسیت
(۴) بوکسیت

۶۲- کدام نوع فرسایش در گسترش حوضه‌ی آبریز یک رود نقش مهم‌تری دارد؟

- (۱) قائم
(۲) ورقه‌ای
(۳) قهقرایی
(۴) جانبی



سوالات کنکور ۸۵ تجربی

۶۳- روی دایره‌ی استوا میله‌ای را به صورت عمود بر زمین نصب کرده‌ایم. طول سایه‌ی این میله به هنگام ظهر شرعی چه روزهایی، تقریباً یکسان است؟

- (۱) اول تیر و اول دی (۲) اول مهر و اول تیر (۳) اول فروردین و اول تیر (۴) همه‌ی روزهای سال

۶۴- وسعت قسمت خارجی هسته‌ی زمین با اندازه‌گیری کدام یک ممکن گردیده است؟

(۱) سرعت امواج P (۲) توقف امواج S (۳) محل کانون‌های زلزله (۴) منطقه‌ی سایه‌ی امواج زلزله


۶۵- در میانه‌های بزرگترین ورقه‌ی تشکیل‌دهنده‌ی بستر اقیانوس آرام، جزیره‌ی آتش‌فشانی و فعال وجود دارد. مهم‌ترین پدیده‌ی زمین‌شناسی نزدیک به این جزیره کدام است؟

- (۱) گودال عمیق (۲) جزایر قوسی (۳) نقطه‌ی داغ (۴) گسل امتداد لغزنده

۶۶- در کدام منطقه، زلزله‌ها کانون عمیق‌تری دارند؟

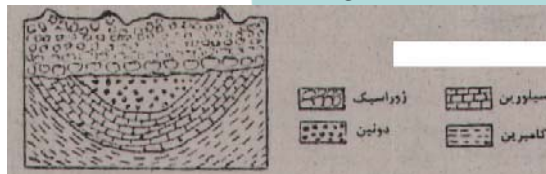
- (۱) در کنار هم لغزیدن دو ورقه‌ی مجاور هم (۲) محدوده‌ی برخورد دو ورقه‌ی قاره‌ای با هم
(۳) در امتداد حاشیه‌ی دو ورقه‌ی دور شونده (۴) فرورانش ورقه‌ی اقیانوسی به زیر ورقه‌ی قاره‌ای

۶۷- سه لایه موازی و بدون چین‌خوردگی، تریاس، ژوراسیک و کرتاسه با چه نوع گسل‌هایی شکل زیر را به وجود آورده‌اند؟



- (۱) دو معکوس (۲) دو عادی
(۳) سه رانده (۴) دو عادی و یک رانده

۶۸- در چه زمانی عقب‌نشینی دریا سبب ایجاد ناپیوستگی موازی در منطقه‌ی مقابل شده است؟



- (۱) اردوویسین (۲) کربونیفر
(۳) تریاس (۴) پرمین

۶۹- در دگرشیبی‌ها، سری رسوبات زیرین از حالت خارج می‌شوند و در روی آن‌ها، سری رسوبات قرار می‌گیرد.

- (۱) زاویه‌دار- موازی (۲) موازی- افقی (۳) افقی- جوان‌تر (۴) لایه‌لایه- چین‌خورده

۷۰- سازندهای تشکیل‌دهنده‌ی یک گروه باید کدام ویژگی را داشته باشد؟

- (۱) موازی (۲) توالی (۳) هم‌زمانی (۴) هم‌جنسی

۷۱- بالاترین لایه‌ی مخروط یک آتش‌فشان را نوعی برش تشکیل داده است، موادی که در آخرین فعالیت، از دهانه این آتش‌فشان خارج شده کدام‌اند؟

- (۱) خمیر و گاز (۲) خاکستر و بمب (۳) گدازه و گاز (۴) لایلی و گدازه

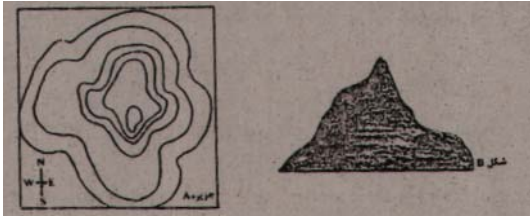
۷۲- فاصله‌ی سیاره‌ی مشتری از خورشید $5/2$ واحد ستاره‌شناسی است. شدت نور خورشید بر روی زمین تقریباً چند برابر شدت نور خورشید بر روی مشتری است؟

- (۱) $10/45$ (۲) $15/6$ (۳) ۲۷ (۴) ۱۲۵




سوالات کنکور ۸۵ تجربی

۷۳- در یک شب مهتابی مسافران قایقی که در حال نزدیک شدن به جزیره‌ی A هستند، جزیره را تقریباً به شکل B می‌بینند. قایق در چه سمتی از جزیره قرار دارد؟



- (۱) شمال
(۲) جنوب
(۳) شرق
(۴) غرب

۷۴- دایکی قائم با ضخامت ثابت داخل دره‌ای قرار دارد که شیب طرف غرب دره ۲ برابر شیب طرف شرق دره است. این دایک بر روی نقشه‌ی زمین‌شناسی محل به چه شکلی رسم می‌شود؟



۷۵- منظور از غنی‌سازی اورانیوم کدام است؟

- (۱) بالا بردن نسبت اورانیوم ۲۳۵ به اورانیوم ۲۳۸
(۲) جداسازی ناخالصی‌های مختلف سنگ معدن اورانیوم
(۳) بالا بردن تعداد نوترون‌های اورانیوم ۲۳۵ تا اورانیوم ۲۳۸ حاصل شود.
(۴) بالا بردن نسبت اورانیوم ۲۳۸ به سایر ایزوتوپ‌های اورانیوم

سوالات ریاضی

۷۶- اگر $f = \{(1, 2), (2, 5), (0, 3), (4, -1)\}$ و $g = \{(2, 3), (-1, 4), (4, 1), (3, 0)\}$ ، تابع $g \circ f^{-1}$ کدام است؟

- (۱) $\{(1, 3), (0, 0)\}$ (۲) $\{(2, 4), (3, 5)\}$ (۳) $\{(2, 0), (-1, 4)\}$ (۴) $\{(5, 3), (-1, 1)\}$

۷۷- اگر ماتریس $A = \begin{bmatrix} 1 & 0 \\ 0 & -1 \end{bmatrix}$ ، گزیده، $A^2 - A$ کدام است؟

- (۱) $\begin{bmatrix} 1 & 0 \\ 0 & 1 \end{bmatrix}$ (۲) $\begin{bmatrix} 1 & 0 \\ 0 & -1 \end{bmatrix}$ (۳) $\begin{bmatrix} -1 & 0 \\ 0 & -1 \end{bmatrix}$ (۴) $\begin{bmatrix} 1 & -1 \\ 0 & 1 \end{bmatrix}$

۷۸- مجموع اعداد طبیعی فرد، بخش‌پذیر بر ۳ و کوچکتر از ۱۰۱، کدام است؟

- (۱) ۸۱۶ (۲) ۸۵۲ (۳) ۸۶۷ (۴) ۸۸۴

۷۹- جواب کلی معادله‌ی مثلثاتی $\sqrt{2} \sin\left(\frac{\pi}{4} - x\right) = 1 + \sin\left(\frac{5\pi}{2} + x\right)$ کدام است؟

- (۱) $k\pi + \frac{\pi}{2}$ (۲) $2k\pi - \frac{\pi}{4}$ (۳) $2k\pi - \frac{\pi}{2}$ (۴) $2k\pi + \frac{\pi}{4}$

۸۰- کوچک‌ترین و بزرگ‌ترین داده‌های آماری ۳۱ و ۵۲ می‌باشد. این داده‌ها در ۷ دسته، دسته‌بندی شده‌اند. ۳۷ درصد داده‌ها کمتر از ۴۰ و ۴۸ درصد آن‌ها بیشتر یا مساوی ۴۳ می‌باشند. اگر فراوانی کل ۸۰ باشد، فراوانی دسته‌ی وسط کدام است؟

- (۱) ۹ (۲) ۱۲ (۳) ۱۵ (۴) ۱۶



سوالات کنکور ۸۵ تجربی

۸۱- در ۶۰ داده‌ی آماری، میانگین ۳ و انحراف معیار ۱/۲ محاسبه شده است. اگر به تمام داده‌ها ۹ واحد اضافه شود، ضریب تغییرات داده‌های جدید کدام است؟

- (۱) ۰/۱ (۲) ۰/۲ (۳) ۰/۳ (۴) ۰/۴

۸۲- در تابع با ضابطه‌ی

- (۱) صفر (۲) $4x$ (۳) $2x^2$ (۴) $4x^2$

، حاصل $f(1+x) - f(1-x)$ کدام است؟

۸۳- حاصل $\lim_{x \rightarrow 2} \left(\frac{1}{4x-8} - \frac{1}{x^2-4} \right)$ کدام است؟

- (۱) $\frac{3}{8}$ (۲) $\frac{3}{16}$ (۳) $\frac{1}{8}$ (۴) $\frac{1}{16}$

۸۴- تابع با ضابطه‌ی $f(x) = \begin{cases} \frac{\sin x}{2x + |x|} & x \neq 0 \\ 1 & x = 0 \end{cases}$ از نظر پیوستگی در $x = 0$ چگونه است؟

- (۱) از چپ پیوسته- از راست پیوسته
(۲) از چپ پیوسته- از راست ناپیوسته
(۳) از چپ ناپیوسته- از راست پیوسته
(۴) از چپ ناپیوسته- از راست ناپیوسته

۸۵- اگر ، آن گاه $f' \left(\frac{1}{\sqrt{6}} \right)$ کدام است؟

- (۱) $\frac{\pi\sqrt{2}}{2}$ (۲) $\frac{\pi\sqrt{3}}{2}$ (۳) $\pi\sqrt{2}$ (۴) $\pi\sqrt{3}$

۸۶- معادله‌ی خط مماس بر منحنی به معادله‌ی $x = \frac{\pi}{3}$ واقع بر آن کدام است؟

- (۱) $y = -\frac{3}{4}$ (۲) $y = \frac{3}{4}$ (۳) $y = -x + \frac{\pi}{3} - 1$ (۴) $y = x + \frac{\pi}{3}$

۸۷- آزمایشی فقط دو نتیجه‌ی شکست و پیروزی دارد. احتمال پیروزی $\frac{3}{4}$ است و X تعداد پیروزی‌ها در ۱۶ بار تکرار این

آزمایش‌ها است. $P(0 \leq X \leq 16)$ کدام است؟

- (۱) $\left(\frac{3}{4}\right)^{16}$ (۲) $1 - \left(\frac{1}{4}\right)^{16}$ (۳) $2 \left(\frac{16}{8}\right) \left(\frac{3}{4}\right)$ (۴) ۱

۸۸- در آزمایشگاهی ۷ موش نگهداری می‌شوند که بر روی ۳ موش آزمون مهارت انجام شده است، اگر ۲ موش از بین آنان تصادفی انتخاب شود، با کدام احتمال، لااقل بر روی یکی از آن دو، آزمون انجام شده است؟

- (۱) $\frac{10}{21}$ (۲) $\frac{4}{7}$ (۳) $\frac{5}{7}$ (۴) $\frac{16}{21}$



سوالات کنکور ۸۵ تجربی

۸۹- از دستگاه معادلات $\frac{x-1}{2} = \frac{y}{3} = z+2$ و $2x + y - 2z = 16$ و $2x + y - 2z = 16$ مقدار $(x+y)$ کدام است؟

(۱) ۹ (۲) ۱۰ (۳) ۱۱ (۴) ۱۲

۹۰- اگر معادله $4x^2 + 2mx + m = 0$ دارای ۴ ریشهی حقیقی متمایز باشد، مجموعه مقادیر m به کدام صورت است؟

(۱) $m < -4$ (۲) $m > 4$ (۳) $-4 < m < 4$ (۴) $4 < m < 9$

۹۱- اگر $a_n = \frac{(-1)^n}{n}$ ، (n) عدد طبیعی است) آن گاه دنباله جزء صحیح a_n چگونه است؟

(۱) صعودی - کران دار از بالا (۲) نزولی - کران دار از پایین
(۳) فاقد کران بالا و پایین (۴) نه صعودی، نه نزولی - کران دار

۹۲- اگر $4\sqrt{2} = 4^x$ و $1 + \text{Log} \sqrt{x+1} = \text{Log} y$ مقدار y کدام است؟

(۱) $7/5$ (۲) $12/5$ (۳) ۱۵ (۴) ۲۵

۹۳- فاصله نقطه تلاقی مجانب‌های منحنی به معادله $y = \frac{x - \sqrt{x}}{x^2 - 3x + 2}$ از مبدأ مختصات کدام است؟

(۱) $\sqrt{2}$ (۲) ۲ (۳) $\sqrt{5}$ (۴) ۵

۹۴- از رابطه $y = \frac{3}{5}x$ مقدار مشتق y نسبت به x در نقطه $(2, 1)$ کدام است؟

(۱) $\frac{2}{5}$ (۲) $\frac{3}{5}$ (۳) $\frac{2}{5}$ (۴) $\frac{3}{5}$

۹۵- نقاط بحرانی تابع با ضابطه $f(x) = x^2(x-2)^2$ سه رأس یک مثلث اند. نوع این مثلث کدام است؟

(۱) متساوی الاضلاع (۲) فقط متساوی الساقین
(۳) فقط قائم الزاویه (۴) قائم الزاویه و متساوی الساقین

۹۶- ماکسیمم مطلق تابع با ضابطه $f(x) = \frac{1}{x^4 - 4x^3 + 4x^2 + 5}$ کدام است؟

(۱) $\frac{1}{6}$ (۲) $\frac{1}{5}$ (۳) $\frac{1}{3}$ (۴) $\frac{1}{2}$



سوالات کنکور ۸۵ تجربی

۹۷- به ازای کدام مقدار a دایره به معادله $x^2 + y^2 - 2x + 4y + a = 0$ بر خط به معادله $x + 3y = 0$ مماس است؟

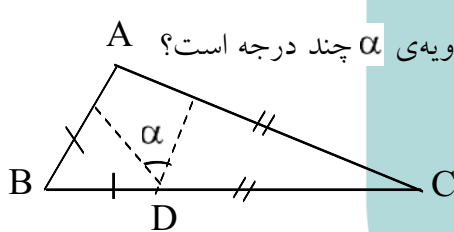
- (۱) $\frac{3}{2}$ (۲) $\frac{5}{2}$ (۳) ۳ (۴) ۵

۹۸- اگر نقاط $F(0, 3)$ و $F'(0, -3)$ کانون‌های یک هذلولی با خروج از مرکز $\frac{3\sqrt{2}}{4}$ باشند، معادله آن کدام است؟

- (۱) $y^2 - 3x^2 = 4$ (۲) $x^2 - 3y^2 = 4$ (۳) $x^2 - 8y^2 = 8$ (۴) $y^2 - 8x^2 = 8$

۹۹- اگر $\int x(1 - 5\sqrt{x}) dx = \frac{x^2}{2} \cdot f(x) + C$ تابع $f(x)$ کدام است؟

- (۱) $1 - 4\sqrt{x}$ (۲) $1 - 2\sqrt{x}$ (۳) $x - 2\sqrt{x}$ (۴) $x - x\sqrt{x}$

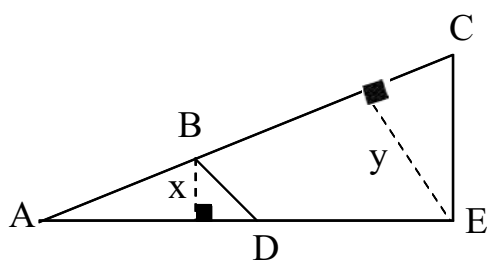


۱۰۰- در شکل مقابل زاویه $\hat{A} = 112^\circ$ و دو مثلث کناری متساوی الساقین اند. زاویه α چند درجه است؟

- (۱) ۳۲ (۲) ۳۴ (۳) ۳۶ (۴) ۳۸

۱۰۱- در داخل مثلث قائم‌الزاویه و متساوی الساقین، بزرگترین مربع ممکن را قرار می‌دهیم، نسبت مساحت این مربع به مساحت مثلث مفروض چه قدر است؟

- (۱) $\frac{4}{9}$ (۲) $\frac{5}{9}$ (۳) $\frac{1}{2}$ (۴) $\frac{2}{3}$



۱۰۲- در شکل مقابل $BC = 10, AB = 6, DE = 4, AD = 8$ ، نسبت $\frac{x}{y}$ کدام است؟

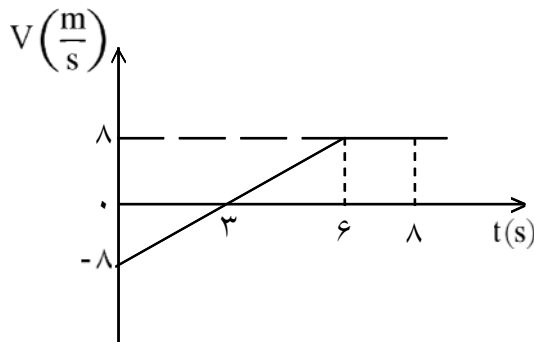
- (۱) $\frac{1}{2}$ (۲) $\frac{5}{9}$ (۳) $\frac{2}{3}$ (۴) $\frac{4}{5}$

۱۰۳- در یک هرم منتظم با قاعده‌ی مربع، ارتفاع هر وجه جانبی ۱۳ و ارتفاع هرم ۱۲ واحد است. سطح کل هرم چند واحد مربع است؟

- (۱) ۲۸۵ (۲) ۳۲۰ (۳) ۳۲۵ (۴) ۳۶۰



سوالات فیزیک



۱۰۴- نمودار سرعت- زمان جسمی که در مسیر مستقیم حرکت می کند مطابق شکل مقابل است. سرعت متوسط جسم در مدت ۸ ثانیه‌ی نشان داده شده چند متر بر ثانیه است؟

- ۲ (۱)
- ۳ (۲)
- ۴ (۳)
- ۵ (۴)

۱۰۵- گلوله‌ای را در شرایط خلأ با سرعت اولیه $40 \frac{m}{s}$ در راستای قائم رو به بالا پرتاب می کنیم. سرعت گلوله در نیمه‌ی راه خود تا رسیدن به نقطه‌ی اوج چند متر بر ثانیه است؟

$(g = 10 \frac{m}{s^2})$

- ۲۰ (۱)
- ۲۵ (۲)
- $10\sqrt{2}$ (۳)
- $20\sqrt{2}$ (۴)

۱۰۶- معادله‌ی حرکت متحرکی در SI به صورت $\vec{r} = (t^3 + 4t)\vec{i} + (2t^2)\vec{j}$ است. بردار شتاب متوسط در بازه‌ی زمانی $t = 0$ تا $t = 2s$ کدام است؟

- $3\vec{i} + 2\vec{j}$ (۱)
- $12\vec{i} + 8\vec{j}$ (۲)
- $6\vec{i} + 4\vec{j}$ (۳)
- $4\vec{i} + 2\vec{j}$ (۴)

۱۰۷- فنری با ثابت $50 \frac{N}{m}$ را به وزنه‌ای به جرم 5 kg بسته ایم و آن را با سرعت ثابت، روی یک سطح افقی می کشیم. اگر فنر در حالت کشش بوده و 10 cm افزایش طول پیدا کرده باشد، ضریب اصطکاک جنبشی بین جسم و سطح چه قدر است؟

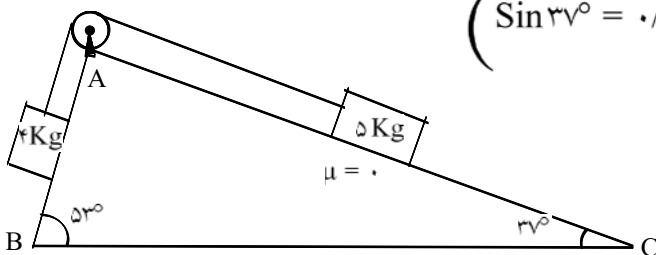
$(g = 10 \frac{m}{s^2})$

- ۰/۱ (۱)
- ۰/۲ (۲)
- ۰/۳ (۳)
- ۰/۴ (۴)

۱۰۸- در شکل مقابل ضریب اصطکاک سطح AC ناچیز است. ضریب اصطکاک ایستایی روی سطح AB حداقل چقدر

$(\sin 37^\circ = 0.6, g = 10 \frac{m}{s^2})$

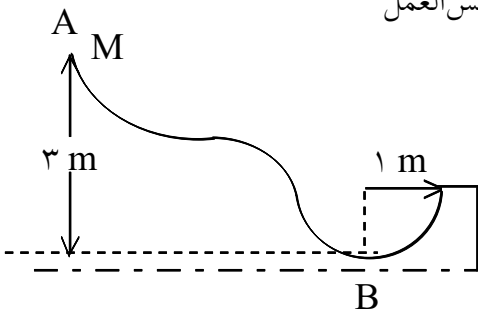
- $\frac{1}{5}$ (۱)
- $\frac{1}{6}$ (۲)
- $\frac{3}{5}$ (۳)
- $\frac{1}{12}$ (۴)





سوالات کنکور ۸۵ تجربی

۱۰۹- در شکل مقابل، جسم روی سطح بدون اصطکاک از نقطه‌ی A رها می‌شود و در انتها وارد یک مسیر نیم‌دایره‌ای به شعاع ۱m می‌شود. اندازه‌ی نیروی عکس‌العمل سطح در پایین‌ترین نقطه‌ی مسیر چند برابر وزن جسم است؟



- (۱) ۴
(۲) ۵
(۳) ۶
(۴) ۷

۱۱۰- فنری روی سطح افقی با نیروی کشسانی 20 N کشیده شده و به حالت تعادل قرار دارد. اگر انرژی کشسانی ذخیره شده در فنر در این حالت 2 J باشد، ثابت فنر چند نیوتن بر متر است؟

- (۱) ۵۰
(۲) ۱۰۰
(۳) ۲۰۰
(۴) ۴۰۰

۱۱۱- چند لیتر آب 80°C درجه‌ی سلسیوس را با 40 لیتر آب 10°C درجه‌ی سلسیوس مخلوط کنیم تا به دمای تعادل تقریبی 40°C درجه‌ی سلسیوس برسند؟

- (۱) ۲۵
(۲) ۳۰
(۳) ۴۵
(۴) ۵۰

۱۱۲- در درون یک مکعب فلزی به ضلع 20 cm حفره‌ی خالی کروی به شعاع 5 cm وجود دارد. اگر در اثر افزایش دما ضلع مکعب به اندازه‌ی 0.004 میلی‌لیتر افزایش یابد، شعاع حفره می‌یابد.

- (۱) 0.001 میلی‌لیتر کاهش
(۲) 0.001 میلی‌لیتر افزایش
(۳) 0.003 میلی‌لیتر کاهش
(۴) 0.003 میلی‌لیتر افزایش

۱۱۳- 2 لیتر گاز کامل با فشار یک اتمسفر و دمای 27°C درجه‌ی سلسیوس زیر پیستون قرار دارد. پیستون را به عقب می‌کشیم و حجم گاز را به 4 لیتر می‌رسانیم. اگر در این عمل دمای گاز 12°C درجه‌ی سلسیوس کاهش یافته باشد، فشار آن به چند اتمسفر رسیده است؟

- (۱) 0.23
(۲) 0.48
(۳) 0.63
(۴) 0.98

۱۱۴- آینه‌ی تختی به دیوار نصب شده و شخص، یک متر از طول بدن خود را در آن می‌بیند، اگر این تصویر کل طول آینه را پوشانده باشد، طول آینه چند متر است؟

- (۱) ۱
(۲) ۲
(۳) $\frac{1}{2}$
(۴) $\frac{1}{4}$

۱۱۵- کدام پرتو در ورود از هوا به شیشه کمتر منحرف می‌شود؟

- (۱) قرمز
(۲) سبز
(۳) آبی
(۴) بنفش

۱۱۶- توان یک عدسی $+4$ دیوپتر است. این عدسی از جسمی که روی محور اصلی و در 0.5 متری عدسی قرار دارد چگونه تصویری تشکیل می‌دهد؟

- (۱) مجازی، کوچکتر از جسم
(۲) مجازی، بزرگتر از جسم
(۳) حقیقی، هم‌اندازه‌ی جسم
(۴) حقیقی، بزرگتر از جسم



سوالات کنکور ۸۵ تجربی

۱۱۷- اگر فشار هوا 10^5 پاسکال باشد، فشار در عمق ۲ متری آب یک استخر چند پاسکال است؟

$$\left(\frac{g}{cm} = 10 \frac{m}{s^2}, g = 10 \frac{m}{s^2} \right)$$

(۴) 3×10^6

(۳) 3×10^5

(۲) $1/2 \times 10^6$

(۱) $1/2 \times 10^5$

۱۱۸- بار الکتریکی ۸ میکروکولنی از فاصله r بر بار ۲ میکروکولنی نیروی F وارد می‌کند، بار ۲ میکروکولنی از چه فاصله‌ای بر بار ۸ میکروکولنی نیرویی به اندازه F را وارد می‌کند؟

(۴) $\frac{\sqrt{2}}{2} r$

(۳) $\frac{1}{2} r$

(۲) $\sqrt{2} r$

(۱) $2r$

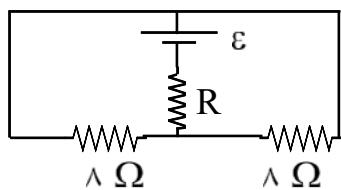
۱۱۹- لامپی با مشخصات $12 V$ و $36 W$ را به منبع برق 8 ولت وصل می‌کنیم. اگر مقاومت الکتریکی لامپ ثابت بماند، توان در این حالت چند وات می‌شود؟

(۴) 24

(۳) 20

(۲) 18

(۱) 16



۱۲۰- اگر در مدار مقابل، توان هر سه مقاومت با هم برابر باشند، R چند اهم است؟

(۲) 2

(۱) 1

(۴) 16

(۳) 4

۱۲۱- دو خازن 30 میکروفارادی و 60 میکروفارادی را با هم به‌طور متوالی بسته و دو سر مجموعه را به یک منبع ولتاژ ثابت وصل می‌کنیم. در این مدار انرژی خازن 60 میکروفارادی چند برابر انرژی خازن دیگر است؟

(۴) $\frac{\sqrt{2}}{2}$

(۳) $\sqrt{2}$

(۲) $\frac{1}{2}$

(۱) 2

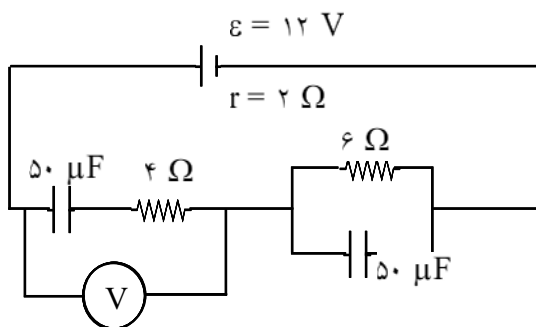
۱۲۲- در شکل مقابل، ولت‌سنج چند ولت را نشان می‌دهد؟

(۲) 4

(۱) صفر

(۴) 12

(۳) 6



۱۲۳- پیچهای از 50 حلقه تشکیل شده و شار مغناطیسی آن در SI به صورت $\phi = 10^{-3} \cos 100\pi t$ است. بیشینه نیروی محرکه‌ی القایی آن چند ولت است؟

(۴) 0.5π

(۳) 5π

(۲) 5

(۱) 0.5



سوال‌ت کنکور ۸۵ تجربی

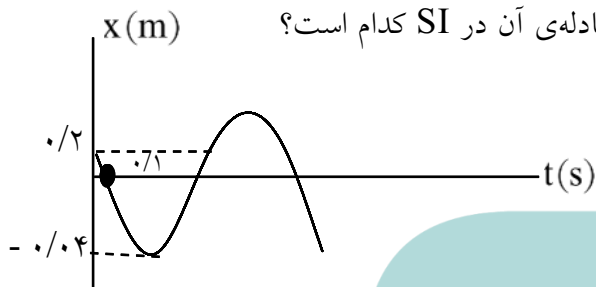
۱۲۴- در مکانی که میدان مغناطیسی یکنواخت 0.04 تسلا برقرار است، ذره‌ای با بار الکتریکی $50 \mu C$ با سرعت $200 \frac{m}{s}$

به سمت مغرب در حرکت است. اگر خطوط میدان مغناطیسی افقی و جهت میدان به سمت شمال باشد، نیروی

الکترومغناطیسی وارد بر ذره چند نیوتن و به کدام جهت است؟

- (۱) 2×10^{-3} ، شمال (۲) 2×10^{-3} ، جنوب (۳) 4×10^{-4} ، بالا (۴) 4×10^{-4} ، پایین

۱۲۵- نمودار مکان-زمان نوسان‌گر ساده‌ای مطابق شکل مقابل است. معادله‌ی آن در SI کدام است؟



$$x = 0.04 \sin\left(\frac{5\pi}{3}t + \frac{5\pi}{6}\right) \quad (1)$$

$$x = 0.04 \sin\left(\frac{5\pi}{3}t + \frac{\pi}{6}\right) \quad (2)$$

$$x = 0.04 \sin\left(\frac{5\pi}{4}t + \frac{5\pi}{6}\right) \quad (3)$$

$$x = 0.04 \sin\left(\frac{5\pi}{4}t + \frac{\pi}{6}\right) \quad (4)$$

است. این نوسان‌گر در فاصله‌ی زمانی

۱۲۶- معادله‌ی هماهنگ ساده‌ای در SI به صورت

$0 < t < 3$ چند سانتی‌متر مسافت را پیموده است؟

- (۱) ۳ (۲) ۶ (۳) ۹ (۴) ۱۲

۱۲۷- موجی در یک طناب منتشر می‌شود و پس از بازتاب از انتهای ثابت طناب تشکیل موج ایستاده می‌دهد. اگر عدد موج

10π رادیان بر متر باشد، گره‌ها در چند متری از انتهای ثابت تشکیل می‌شوند؟ ($n = 0, 1, 2, \dots$)

- (۱) $n/1$ (۲) $0.5n$ (۳) $(n-1)(0.1)$ (۴) $(2n+1)(0.05)$

۱۲۸- معادله‌ی موجی در SI به صورت $u_y = 0.2 \sin(500t - 50\pi x)$ است. این موج است و با سرعت متر بر ثانیه منتشر می‌شود.

- (۱) عرضی، $\frac{\pi}{10}$ (۲) طولی، $\frac{\pi}{10}$ (۳) عرضی، $\frac{10}{\pi}$ (۴) طولی، $\frac{10}{\pi}$

۱۲۹- طول لوله‌ی دو انتها بازی، ۴۰ سانتی‌متر و سرعت صوت در هوای درون آن $320 \frac{m}{s}$ است. بسامد هماهنگ سوم

صوت اصلی آن چند هرتز است؟

- (۱) ۳۰۰ (۲) ۶۰۰ (۳) ۹۰۰ (۴) ۱۲۰۰

۱۳۰- کدام اشعه برای ضد عفونی کردن وسایل و تجهیزات بیمارستانی مناسب است؟

- (۱) آلفا (۲) بتا (۳) گاما (۴) ایکس



سوالات کنکور ۸۵ تجربی

۱۳۱- تابع کار فلزی 2 eV است. اگر در پدیده‌ی فتوالکتریک بر آن فلز نوری با طول موج 270 nm تابانیم، بیشینه‌ی انرژی جنبشی فتوالکترون‌ها چند الکترون‌ولت می‌شود؟

$$\left(h = 4/14 \times 10^{-15} \text{ eVs}, C = 3 \times 10^8 \frac{\text{m}}{\text{s}} \right)$$

- (۱) $1/4$ (۲) $2/6$ (۳) $3/4$ (۴) $4/6$

۱۳۲- اگر در اتم هیدروژن، الکترون از مدار $n = 2$ به $n = 3$ برود، انرژی آن چند برابر می‌شود؟

- (۱) $2/3$ (۲) $3/2$ (۳) $4/9$ (۴) $9/4$

۱۳۳- با واپاشی اورانیوم $^{238}_{92}\text{U}$ یک ذره‌ی آلفا گسیل می‌شود. عنصر ایجاد شده از این واپاشی به ترتیب چند

نوترون و چند پروتون خواهد داشت؟

- (۱) 144 و 90 (۲) 146 و 90 (۳) 91 و 144 (۴) 91 و 146

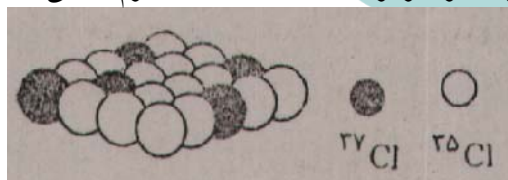
سوالات شیمی

۱۳۴- کدام مطلب نادرست است؟

- (۱) نخستین بار، تامسون توانست نسبت بار به جرم الکترون را اندازه‌گیری کند.
- (۲) نخستین بار، رابرت میلیکان توانست مقدار بار الکتریکی الکترون را حساب کند.
- (۳) محاسبه‌ی جرم الکترون با استفاده از نسبت بار به جرم الکترون توسط تامسون، انجام گرفت.
- (۴) ماری کوری پس از سال‌ها تلاش، دریافت که تابش کشف شده توسط بکرل، خود شامل چند تابش متمایز است.

۱۳۵- بر اساس شکل زیر، که توزیع نسبی اتم‌های کلر را در کلر طبیعی نشان می‌دهد، می‌توان دریافت که..... درصد کلر

طبیعی را ایزوتوپ ^{35}Cl تشکیل می‌دهد، جرم اتمی میانگین کلر برابر با..... واحد جرم اتمی است و ایزوتوپ..... پایدارتر است.



- (۱) $^{35}\text{Cl} - 35/50 - 80$ (۲) $^{35}\text{Cl} - 35/50 - 75$
 (۳) $^{37}\text{Cl} - 35/485 - 20$ (۴) $^{37}\text{Cl} - 35/485 - 25$

۱۳۶- کروم (^{24}Cr)، از دسته عنصرهای..... است که زیر لایه‌ی..... اتم آن‌ها در حال پر شدن است و آرایش

الکترونی لایه‌ی ظرفیت اتم آن به صورت..... است.

- (۱) اصلی - $4p - 4s^2 4p^4$ (۲) اصلی - $4p - 4s^2 4p^3$ (۳) واسطه - $3d - 3d^4 4s^2$ (۴) واسطه - $3d - 3d^5 4s^1$

۱۳۷- فلزهای قلیایی خاکی در..... جدول تناوبی جای دارند. در آخرین زیرلایه اشغال شده اتم آن‌ها که.....

است،..... الکترون وجود دارد و واکنش‌پذیری آن‌ها از فلزهای قلیایی..... است.

- (۱) گروه (I A)، ۱، ns بیشتر (۲) گروه (I B)، ۱، بیشتر
 (۳) گروه (IIA)، ۲، ns کمتر (۴) گروه (IIA)، ۲، کمتر



سوالات کنکور ۸۵ تجربی

۱۳۸- با توجه به شکل روبه‌رو، که روند تغییر انرژی یونش (E_1) عنصرهای دوره‌ی دوم و سوم را نسبت به

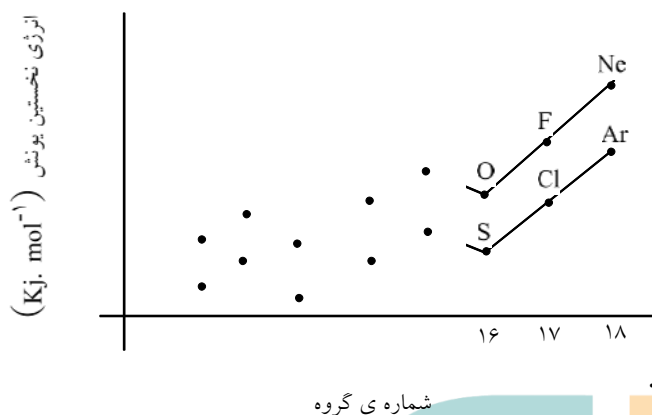
شماره‌ی گروه آن‌ها نشان می‌دهد، کدام مطلب نادرست است؟

(۱) در هر گروه با افزایش عدد اتمی عنصرها، انرژی نخستین یونش آن‌ها کاهش می‌یابد.

(۲) در هر دوره، با افزایش شماره‌ی گروه، انرژی نخستین یونش عنصرها، پیوسته افزایش می‌یابد.

(۳) عنصرهایی که آخرین زیرلایه‌ی s اتم آن‌ها پر شده است، در مقایسه با عنصر بعد از خود، E_1 بزرگتری دارند.

(۴) عنصرهایی که آخرین زیرلایه‌ی p اتم آن‌ها نیم‌پر است، در مقایسه با عنصر بعد از خود، E_1 بزرگتری دارند.



۱۳۹- کدام مطلب درست است؟

(۱) انرژی شبکه‌ی بلور CaO از انرژی شبکه‌ی بلور MgO بیشتر است.

(۲) جامدهای یونی به دلیل در برداشتن ذرات باردار، رسانای جریان برق‌اند.

(۳) انرژی شبکه‌ی بلور یونی، با شعاع کاتیون رابطه‌ی وارونه و با بار آن رابطه‌ی مستقیم دارد.

(۴) انرژی شبکه‌ی بلور جامد یونی برابر مقدار انرژی آزاد شده هنگام تشکیل یک مول از آن، از یون‌های جامد سازنده آن است.

۱۴۰- اگر فرمول مولکولی یک ترکیب آلی، $C_6H_{12}O_6$ باشد، فرمول تجربی آن کدام است و چند درصد آن را کربن

تشکیل می‌دهد؟ ($H = 1, C = 12, O = 16$)

(۱) CH_2O , ۴۰ (۲) CHO , ۳۵ (۳) $C_2H_4O_2$, ۴۰ (۴) $C_3H_6O_3$, ۳۵

۱۴۱- کدام مطلب، توصیفی نادرست درباره‌ی مولکول $SiCl_4$ است؟

(۱) زاویه‌ی پیوندی در آن برابر $109/5^\circ$ است.

(۲) شکل هندسی آن چهاروجهی و ترکیبی ناقطبی است.

(۳) اتم مرکزی آن چهار قلمرو الکترونی دارد که همگی پیوندی‌اند.

(۴) در لایه‌ی ظرفیت اتم‌های آن ۱۴ جفت الکترون وجود دارد.

۱۴۲- نام و ساختار لوویس کدام مولکول به‌طور کامل درست است؟

(۲) HCN ، هیدروژن سیانید، $H-C \equiv N:$

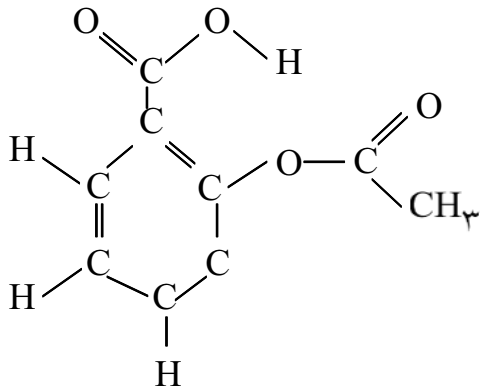
(۱) O_3 ، اوزون، $O = \ddot{O} - \ddot{O}:$

(۴) CCl_4 ، متان تتراکلرید، $\begin{array}{c} \ddot{Cl} \\ | \\ \ddot{Cl} - C - \ddot{Cl} \\ | \\ \ddot{Cl} \end{array}$

(۳) SO_3 ، گوگرد (III) اکسید، $\begin{array}{c} \ddot{O} - \ddot{S} - \ddot{O} \\ | \\ \ddot{O} \end{array}$



سوالات کنکور ۸۵ تجربی



۱۴۳- کدام عبارت درباره‌ی ترکیبی با فرمول ساختاری روبه‌رو، درست است؟

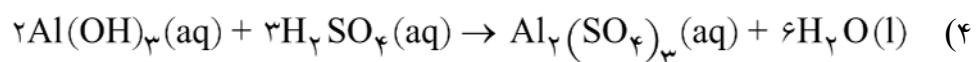
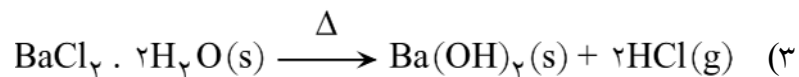
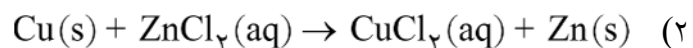
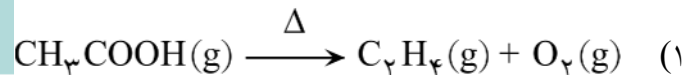
- (۱) فاقد گروه عاملی استری است.
- (۲) فرمول مولکولی آن $C_4H_6O_2$ است.
- (۳) دارای گروه عاملی کربوکسیل و حلقه‌ی آروماتیک است.
- (۴) دارای گروه عاملی هیدروکسیل و خواص الکلی است.

۱۴۴- برای برداشتن حجم معینی از مایع‌ها و تعیین جرم حجمی اجسام جامد، کدام وسیله‌ی آزمایشگاهی کاربرد دارد؟
 (۱) ارلن (۲) بالون حجمی (۳) پیپت مدرج (۴) استوانه‌ی مدرج

۱۴۵- کدام عبارت درست است؟

- (۱) واکنش فلز روی با سولفوریک اسید، نوعی واکنش ترکیب است.
- (۲) از واکنش سدیم هیدروکسید با محلول $Fe(NO_3)_3(aq)$ ، $Fe(OH)_3(aq)$ تشکیل می‌شود.
- (۳) یون هیدروکسید می‌تواند برم را به صورت $Br^-(aq)$ از محلول C_2H_5Br آزاد کند.
- (۴) واکنش: $6CO_2(g) + 6H_2O(g) \rightarrow C_6H_{12}O_6(aq) + 6O_2(g)$ ، نوعی واکنش جابه‌جایی دوگانه است.

۱۴۶- کدام واکنش، به صورتی که معادله‌ی آن نوشته شده است، انجام می‌گیرد؟



۱۴۷- در واکنش سوختن کامل ۰/۱ مول گاز اتان، چند لیتر گاز اکسیژن در شرایط STP، مصرف و چند گرم آب تشکیل می‌شود (عددها را از راست به چپ بخوانید). (H = ۱، O = ۱۶)

- (۱) ۵/۴، ۷/۸۴ (۲) ۵/۴، ۸/۹۶ (۳) ۶/۳، ۷/۸۴ (۴) ۶/۳، ۸/۹۶

۱۴۸- اگر بازده درصدی واکنش ۸۵ گرم سیلیسیم تتراکلرید با فلز منیزیم، برابر با ۹۰ درصد باشد، در این صورت چند گرم سیلیسیم به دست می‌آید؟ (Si = ۲۸، Cl = ۳۵/۵)

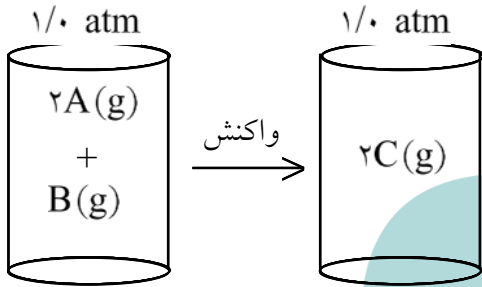
- (۱) ۱۲/۶ (۲) ۸/۰۹ (۳) ۱۰/۲۵ (۴) ۱۱/۱۵



سوالات کنکور ۸۵ تجربی

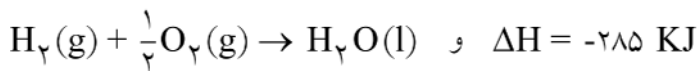
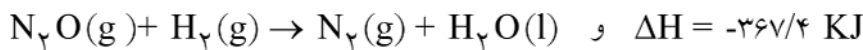
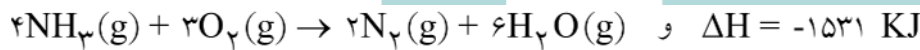
- ۱۴۹- اگر دو لیوان یکسان موجود باشد، که اولی دارای ۱۰۰ mL آب و دومی دارای ۲۰۰ mL آب، هر دو در دمای ۲۵°C باشد، کدام مطلب درباره‌ی آن‌ها نادرست است؟
- (۱) میانگین سرعت حرکت مولکول‌های آب در هر دو لیوان برابر است.
 - (۲) ظرفیت گرمایی ویژه‌ی آب، در دو لیوان با هم برابر است.
 - (۳) ظرفیت گرمایی آب در لیوان دوم در مقایسه با لیوان اول بیشتر است.
 - (۴) برای رساندن دمای آب در هر یک از دو لیوان به ۳۵°C، گرمای برابری لازم است.

- ۱۵۰- با توجه به شکل روبه‌رو، اگر مقدار ΔE واکنش گازی مطرح شده در شرایط آزمایش برابر ۱۸۶- کیلوژول باشد، مقدار ΔH آن، چند کیلوژول است؟



- (۱) -۱۸۲/۸۷
(۲) -۱۸۳/۷۴
(۳) -۱۸۷/۲۶
(۴) -۱۸۹/۳۹

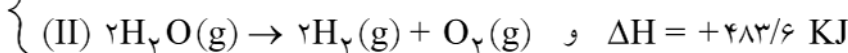
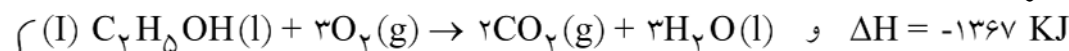
- ۱۵۱- با توجه به واکنش‌های زیر،



ΔH واکنش: $2\text{NH}_3(\text{g}) + 3\text{N}_2\text{O}(\text{g}) \rightarrow 4\text{N}_2(\text{g}) + 3\text{H}_2\text{O}(\text{l})$ برابر چند کیلوژول است؟

- (۱) -۹۸۴/۲
(۲) -۹۹۲/۸
(۳) -۱۰۱۰
(۴) -۱۱۱۰

- ۱۵۲- با توجه به واکنش‌های زیر:



کدام مطلب درست است؟

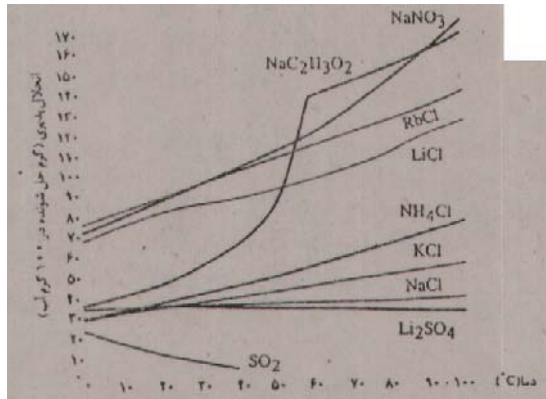
- (۱) واکنش II، غیرخودبه‌خودی است، زیرا ΔS برای آن نامناسب است.
- (۲) چون ΔS برای واکنش II مناسب است، با وجود گرماگیر بودن، خودبه‌خودی است.
- (۳) واکنش I، غیرخودبه‌خودی است، زیرا، ΔS برای آن نامناسب است.
- (۴) با وجود این‌که ΔS برای واکنش I نامناسب است، به دلیل گرمادهی زیاد، خودبه‌خودی است.

- ۱۵۳- کدام مطلب درباره‌ی نمک خوراکی نادرست است؟

- (۱) انحلال آن در آب، با وجود گرماگیر بودن، خودبه‌خودی است.
- (۲) انحلال‌پذیری آن در آب، وابستگی چندانی به دما ندارد.
- (۳) تغییر آنتروپی در انحلال‌پذیری آن در آب نقش عمده‌ای دارد.
- (۴) گرمای انحلال آن در آب، حدود ۵۰ کیلوژول بر مول است.

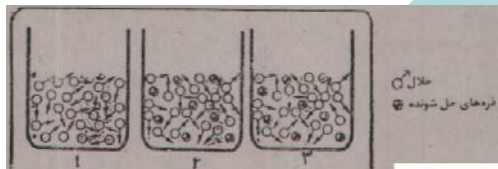


سوالات کنکور ۸۵ تجربی



۱۵۴- با توجه به نمودار روبه‌رو، محلول ۶۰ گرم آمونیم کلرید در ۱۰۰ گرم آب، در کدام دما سیر نشده و در کدام دما فراسیر شده است؟ (عددها را از راست به چپ بخوانید.)
 (۱) ۸۵ و ۶۰
 (۲) ۶۵ و ۷۵
 (۳) ۶۵ و ۸۰
 (۴) ۹۵ و ۸۵

۱۵۵- با توجه به شکل زیر که حجم یکسانی از آب مقطر (ظرف ۱)، محلول ۱ مولال نمک خوراکی (ظرف ۲) و محلول ۱ مولال شکر (ظرف ۳) را در زیر یک سرپوش در دمای ثابت نشان می‌دهد. پس از برقراری حالت تعادل «بخار- مایع» با گذشت زمان، کدام مقایسه درباره‌ی ارتفاع مایع در سه ظرف درست است؟



- (۱) $1 > 2 = 3$
 (۲) $2 > 3 > 1$
 (۳) $1 > 2 > 3$
 (۴) $2 < 1 = 3$

۱۵۶- کدام ماده، فاقد خاصیت امولسیون‌کنندگی است؟
 (۱) صابون
 (۲) چربی
 (۳) لسیتین
 (۴) سدیم دودسیل بنزن سولفونات

سرعت واکنش پس از گذشت مدت کوتاهی از آغاز واکنش $(\text{mol} \cdot \text{L}^{-1} \cdot \text{s}^{-1})$	غلظت واکنش دهنده‌ها در آغاز واکنش $(\text{mol} \cdot \text{L}^{-1})$		شماره آزمایش
	$[\text{NO}(\text{g})]$	$[\text{H}_2(\text{g})]$	
$1/23 \times 10^{-3}$	۰/۱	۰/۱	۱
$2/46 \times 10^{-3}$	۰/۱	۰/۲	۲
$4/92 \times 10^{-3}$	۰/۲	۰/۱	۳

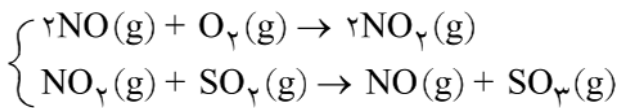
۱۵۷-

با توجه به داده‌های جدول فوق، که به واکنش $2\text{NO}(\text{g}) + 2\text{H}_2(\text{g}) \rightarrow \text{N}_2(\text{g}) + 2\text{H}_2\text{O}(\text{g})$ مربوط است، کدام مطلب درباره‌ی آن نادرست است؟
 (۱) این واکنش در دو مرحله انجام می‌گیرد.
 (۲) سرعت این واکنش، با حاصل ضرب $[\text{H}_2][\text{NO}]^2$ متناسب است.
 (۳) تغییر غلظت گاز H_2 در مقایسه با گاز NO ، تأثیر کمتری در سرعت این واکنش دارد.
 (۴) تغییر غلظت مولی هر یک از واکنش دهنده‌ها، اثر یکسانی در افزایش سرعت واکنش دارد.

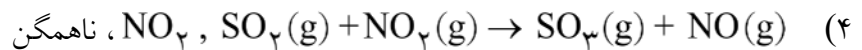
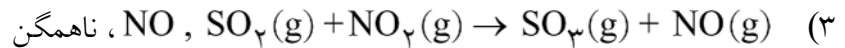
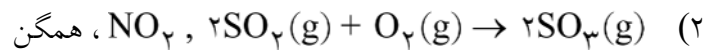
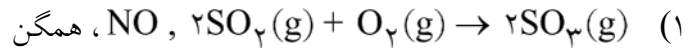


سوالات کنکور ۸۵ تجربی

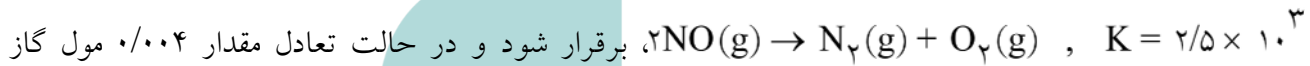
۱۵۸- با توجه به ساز و کار دو مرحله‌ای:



واکنش کلی به صورت است. در آن نقش کاتالیزگر را دارد و واکنشی از نوع کاتالیزگر شده است.



۱۵۹- اگر مقداری گاز NO را در ظرف سربسته‌ی ۴ لیتری گرما دهیم تا تعادل گازی:



NO باقی مانده باشد، مقدار اولیه‌ی این گاز، چند گرم بوده است؟ (N = ۱۴, O = ۱۶)

(۱) ۱۰/۱۵ (۲) ۴/۰۴ (۳) ۱۲/۱۲ (۴) ۳/۰۳

۱۶۰- با توجه به واکنش تعادلی: $\text{PCl}_5(g) \rightarrow \text{PCl}_3(g) + \text{Cl}_2(g), K = 1/7 \text{ mol.L}^{-1}$ ، در لحظه‌ای که

غلظت‌های مولی PCl_5 ، Cl_2 به ترتیب برابر با ۰/۰۳، ۰/۲ مولار است،

(۱) Q با K برابر است. (۲) Q از K بزرگتر است.

(۳) تعادل در حال پیشرفت در جهت رفت است. (۴) واکنش به حالت تعادل رسیده است.

۱۶۱- اگر واکنش تعادلی گازی: $2\text{NO}_2(g) \rightleftharpoons \text{N}_2\text{O}_4(g); \Delta H < 0$ ، که در یک ظرف سربسته در دمای معین

برقرار است، دما را افزایش دهیم، تعادل در جهت جابه‌جا می‌شود و ثابت تعادل،

(۱) برگشت- کوچکتر می‌شود. (۲) رفت- بزرگتر می‌شود.

(۳) برگشت- بدون تغییر باقی می‌ماند. (۴) رفت- بدون تغییر باقی می‌ماند.

۱۶۲- کدام یک از گونه‌های شیمیایی پیشنهاد شده در ستون‌های I و II جدول روبه‌رو

از نظر اسید- بازی، مزدوج یکدیگرند؟

(۱) a و d (۲) b و c

(۳) b و c (۴) a و d

I		H	
۱	NH_4^+	a	OH^-
۲	NO_3^-	b	H_2O
۳	H_3O^+	c	NH_3
۴	H^+	d	NO_2^-



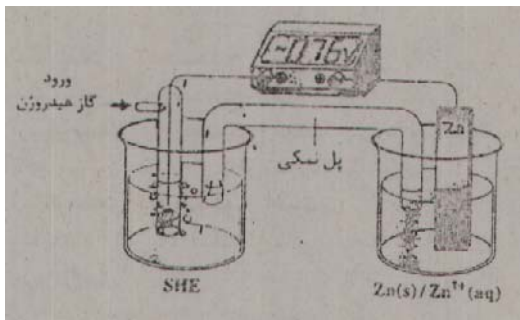
سوالات کنکور ۸۵ تجربی

۱۶۳- اگر PH محلولی برابر با ۳ باشد، غلظت یون $\text{OH}^- (\text{aq})$ در آن، چند مول بر لیتر است، متیل نارنجی و تورنسل (لیموس) در آن، به ترتیب به کدام رنگ درمی آیند؟

- (۱) 10^{-3} ، زرد، آبی (۲) 10^{-3} ، سرخ، سرخ (۳) 10^{-11} ، زرد، آبی (۴) 10^{-11} ، سرخ، سرخ

۱۶۴- به ۵۰ میلی لیتر محلول 0.1 molL^{-1} هیدروکلریک اسید، چند میلی لیتر 0.25 molL^{-1} سدیم هیدروکسید باید اضافه شود تا PH محلول به ۷ برسد و این نقطه روی نمودار سنجش حجمی اسید-باز، چه نامیده می شود؟

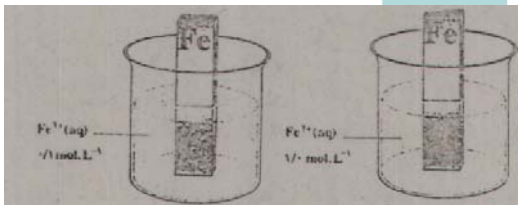
(۱) نقطه پایانی (۲) نقطه هم‌ارزی (۳) نقطه پایانی (۴) نقطه هم‌ارزی



۱۶۵- با توجه به شکل روبه‌رو، که طرح ساده‌ای از سلول الکتروشیمیایی استاندارد «روی-هیدروژن» را نشان می‌دهد، کدام مطلب درباره آن درست است؟

$$E^\circ (\text{Zn}^{2+} / \text{Zn}) = -0.76 \text{ (ولت)}$$

- (۱) E° سلول برابر -0.76 ولت است.
 (۲) الکترولیت در بخش آندی، محلول ۱ M هیدروکلریک اسید است.
 (۳) در سطح تیغه پلاتینی الکتروود هیدروژن، نیم‌واکنش اکسایش، انجام می‌گیرد.
 (۴) واکنش سلول، $\text{Zn}(\text{s}) + 2\text{H}^+(\text{aq}) \rightarrow \text{Zn}^{2+}(\text{aq}) + \text{H}_2(\text{g})$ و E° آن، $+0.76$ ولت است.



۱۶۶- با اتصال یافتن کامل دو نیم‌سلول نشان داده شده در شکل روبه‌رو به یکدیگر، یک سلول می‌شود که E° آن برابر با ولت است.

- (۱) غلظتی - $+0.295$ (۲) غلظتی - $+0.059$
 (۳) الکترولیتی - $+0.295$ (۴) الکترولیتی - $+0.059$

۱۶۷- هرگاه دو قطعه فلزی متفاوت در هوای مرطوب با یکدیگر در تماس باشند بین آنها نوعی سلول الکتروشیمیایی به وجود می‌آید که در آن فلزی که E° دارد، نقش را دارد و بر اثر یافتن، دچار خوردگی می‌شود.

- (۱) کوچکتري - کاتد - کاهش
 (۲) کوچکتري - آند - اکسایش
 (۳) بزرگتری - کاتد - اکسایش
 (۴) بزرگتری - آند - کاهش

سوالات زبان انگلیسی

168- The land next to our house.....sold to the government recently.

- 1) is 2) will be 3) has been 4) had been

169- I think it is..... late for us to provide the computer.


- 1) so 2) too 3) very 4) such

170- all of the students had done poorly on the test, the teacher decided to give it again.

- 1) Since 2) Unless 3) So that 4) Until



- 171- Why are you always worried? Is your life really.....?
 1) bore 2) bored 3) to bore 4) boring
- 172- A: "I'm looking for Tom. Do you know where he is?"
 B: "He..... have gone out."
 1) would 2) might 3) have to 4) could
- 173- The government is to take new..... to reduce prices.
 1) abilities 2) function 3) measures 4) services
- 174- The man is being..... the police station for further questioning.
 1) held at 2) tired of 3) used for 4) influenced
- 175- The blood..... were sent to the laboratory for analysis.
 1) vessels 2) injuries 3) samples 4) aspects
- 176- The office is going to..... working hours from 25 to 30 per week.
 1) estimate 2) increase 3) evaluate 4) research
- 177- In some countries trade is very good, where as in others it is not good. "Trade" is a kind of.....
 1) partner 2) mission 3) financial activity 4) artificial charity
- 178- Peter is learning to cook, so he is on his family.
 1) experimenting 2) exemplifying 3) experiencing 4) exercising
- 179- Unfortunately, there is little real..... between Ted and his daughter.
 1) comparison 2) culture 3) transfer 4) communication
- 180- These plants cannot..... in very cold conditions.
 1) locate 2) survive 3) protect 4) include
- 181- He always wants something..... to eat. He's never satisfied with what he's given.
 1) extra 2) extreme 3) irrelevant 4) superion
- 182-, Bob didn't break any of his bones.
 1) Confidently 2) Primarily 3) Basically 4) Luckily



جاهای خالی زیر را با استفاده از ۵ سؤال بعدی پر کنید.

Victor Hugo is a famous character in literature. He was the son of a general who(1)..... in the armies of Napoleon I. Hugo went to Paris with his mother at the age of ten. His first book of poetry was so(2)..... that he decided to be a writer. He became a chief(3)..... of the Romantic movement, which was trying to change styles and themes of writing. He published(4)..... of literary works such as: novels, plays and epic poetry. Many of his novels and plays(5)..... his interest in politics. After France became a republic Hugo returned to Paris as a hero. In 1878 he fell ill and died.

- 183- 1) hired 2) located 3) served 4) joined
- 184- 1) successful 2) aware 3) served 4) explicit
- 185- 1) winner 2) labourer 3) foreigner 4) member
- 186- 1) any 2) a lot 3) much 4) a little
- 187- 1) prepared 2) reacted 3) reflected 4) entered

متن زیر را به دقت بخوانید و به ۵ سؤال بعدی پاسخ دهید.

In 1876 George Bernard Shaw, a young man of 20, came to London from his birthplace in Dublin, Ireland, looking for his fortune as a writer. He was to become the most famous writer for the theater. His first attempts were not at plays, however, and when his name did begin to be known it was for his essays, books, and speeches on behalf of the Fabian Society. As a young man Shaw saw the need for changes and reforms in government, and when he became a socialist he joined the Fabian Society, which had come into being to make the ideas of socialism more widely known and better understood.

Politics were not Shaw's only interest, for he loved art, music, and theater and wrote about these subjects for newspapers and magazines. He himself had a very clear mind, and he wanted to make other people think as clearly as he did about all kinds of subjects. It was for this that he began writing plays, for he felt that he could best do it through them.

- 188- According to the passage, Bernard Shaw came to London to..... .
- 1) visit his birthplace 2) learn more about politics
- 3) get rest and continue his life 4) become a successful writer
- 189- Which sentence is not true according to the passage?
- 1) He was a great writer before he came to London.
- 2) Bernard Shaw's first attempts were not writing plays.
- 3) His fame was because of his essays, books and speeches.
- 4) Bernard Shaw did not have an interest in writing for the theater.



- 190- Bernard Shaw felt the need for changes and reforms in government when he..... .
- 1) was young 2) became a socialist
3) joined the Fabian society 4) made the social ideas known more widely
- 191- The passage says that Bernard Shaw's work were directly related to all of the following EXCEPT..... .
- 1) plays 2) art of writing 3) art and music 4) theater
- 192- The word "fortune" in line 2 is closest in meaning to..... .
- 1) posture 2) purpose 3) occasion 4) success

سوالات عربی

۱۹۳- «كان النبيّ (ص) لا يدع التأكيد على احترام الصغار و الأطفال أبداً»:

- ۱) نبي اکرم (ص) تاکید بر احترام به کوچکتها و کودکان را ابدآ رها نکرده بود.
 ۲) پیامبر (ص) تاکید بر احترام گذاشتن به کودکان و اطفال را هرگز ترک نمی کرد.
 ۳) هرگز رسول الله (ص) تاکید بر محترم شمردن اطفال و کودکان را بی ارزش نمی شمرد.
 ۴) پیامبر اکرم (ص) هیچ گاه تاکید بر احترام کردن کودکان و فرزندان کوچکترا وانگذاشت.

۱۹۴- «اعتقد أنّ الناس لا يفوزون في حياتهم الا المجدّين منهم!»:


- ۱) بر این باورم که انسان های کوشا در زندگی خود رستگار هستند!
 ۲) معتقدم که فقط مردمان کوشا در زندگی خویش موفق می شوند!
 ۳) اعتقاد دارم که در زندگی خویش جز تلاشگران از مردم، پیروز نمی شوند!
 ۴) بر این عقیده ام که فقط انسان های تلاشگر در زندگی برنده خواهند شد!

۱۹۵- «كان المشركون يظنّون أنّهم يستطيعون ان يقتلوا النبيّ، لكنّ امرأة مسلمة دافعت عنه دفاعاً رائعاً!»: مشركان ...

- ۱) که فکر می کردند پیامبر را می کشند دیدند زن مسلمانی حقیقتاً فداکارانه از او دفاع می کند!
 ۲) فقط گمان می کردند می توانند پیامبر را بکشند، ولی زنی مسلمان دفاعی فداکارانه از او کرد!
 ۳) که قصد داشتند پیامبر را به قتل برسانند، با زنی مسلمان که از او دفاعی فداکارانه کرد مواجه شدند!
 ۴) تصور می کردند که می توانند پیامبر را به قتل برسانند، ولی یک زن مسلمان از او دفاع زیبا و جانانه ای کرد!

۱۹۶- «يندفع ابناء أمتنا نحو التقدّم و المجد لبناء مجتمع سعيد على اساس العدالة»:

- ۱) جوانان امت ما برای بنای اجتماع سعادت مند بر پایه ی عدل، به سوی ترقی و عظمت پیشتازی می کنند.
 ۲) افراد ملت ما به خاطر برپایی یک جامعه ی سعادت مند بر پایه ی عدل، به سمت تغییر و دگرگونی رهسپار می گردند.
 ۳) فرزندان ملت ما برای ساختن جامعه ای خوشبخت براساس عدالت به سوی پیشرفت و عظمت راهی می شوند.
 ۴) فرزندان امت ما برای ساختن مجتمعی خوشبخت براساس عدل و داد، به سوی تحول و عظمت، تلاش می کنند.



سوالات کنکور ۸۵ تجربی

۱۹۷- «يجب علينا ان نظهر قلوبنا من التشاوم حتى نرى جمال الحقيقة!»:

- (۱) بر ماست پاکیزه کردن قلبها از بدی تا زیبایی حق را نظاره کنیم!
- (۲) ما باید دل‌هایمان را از بدبینی پاک کنیم تا زیبایی حقیقت را ببینیم!
- (۳) بر ماست که دل‌هایمان را از بدبینی پاک شود تا جمال حقیقی را مشاهده کنیم!
- (۴) پاکیزگی قلوب را از امور شوم بر ما واجب کرده‌اند تا شاید زیبایی حقیقت را بنگریم!

۱۹۸- عین الخطأ:

(۱) لا تُضَيِّعْ نعم الله بالاستفادة منها في غير طريق الحق! : نعمت‌های خدا را با استفاده‌ی از آن‌ها در راه غیر حق تباه مساز!

- (۲) انّ النامل في القرآن يُغيّر أسلوبنا في الحياة: دقت کردن در قرآن روش ما را در زندگی دگرگون می‌کند.
- (۳) انّ القرآن هاد الى افضل و اقوى الطرق: قرآن به سوی برترین و استوارترین راه‌ها هدایت‌گر است.
- (۴) الفتن كقطع اللّيل مظلم فاجتنبوها!: فتنه‌ها چون پاره‌ی شب تاریک است پس از آن دوری کردند!

۱۹۹- «آیا ندانستی که خدا بر ما شاهد و گواه است؟!».

- (۱) ألم تعلم انّ الله شاهد علينا؟! (۲) ألا تعلم بانّ الله هو الشاهد بنا؟! (۳) هل انت ما علمت انّ الله علينا شاهداً و بصيراً؟! (۴) هل انت ما فهمت انّ الله يشهد علينا بصيراً?!

۲۰۰- «ما تا به حال فقط چهار درس از کتاب تاریخمان را خوانده‌ایم!»:

- (۱) قرانا حتّى الآن من کتابنا التاريخ الدرّس الرابع!
- (۲) انما قرانا من کتب تاریخنا حتّى الآن اربع الدروس!
- (۳) نحن ما قرانا حتّى الآن من کتاب تاریخنا الا اربعة دروس!
- (۴) نحن لم نقرأ من کتابنا التاريخ الا الدروس الرابعة حتّى الآن!

متن زیر را بخوانید و به ۹ سوال بعدی پاسخ دهید:

الثبات عامل اساسي للنجاح. فالمشكلات التي تظهر امام الانسان كثيرة في حياته لا يذللها (ذليل) الا الثبات. قد تمرّ على المرء لحظات يياس فيها، و لكنّ الانسان الصبور لا يستسلم، لانّ جميع المشكلات تُلقى سلاحها امام الثبات. يُقال انّ طالباً يئس من عمله فترك درسه، فرأى في طريقه امرأة عجوزاً تضرب قطعة كبيرة من الحديد على حجر لتصنع (لتعمل) منها ابرة (سوزن)! فنجّل الطالب و عاد الى عمله!

۲۰۱- ماهو السبب الاصلي لفوز الناجحين؟

- (۱) ارادتهم و عزمهم
- (۲) مواهبهم و قدراتهم الذاتية
- (۳) غناؤهم و ثروتهم
- (۴) اخلاقهم و مساعدتهم الاخرين

۲۰۲- ما هي النتيجة الموجودة في عمل المرأة العجوز؟

- (۱) القوة و الفكر
- (۲) الامل و سلامة الجسم
- (۳) العزم و عدم التعب
- (۴) الفكر و النشاط



سوالات كنكور ٨٥ تجربى

٢٠٣- عَيْنِ الخطَا فِي مَفْهُومِ النَّصِّ:

- (١) اِذَا ارَدْتَ خَيْرًا فَعَجِّلْ!
 (٢) الْعَلَى وَقْفٌ عَلَى مَنْ لَا يَنَامُ!
 (٣) فَمَنْ نَامَ، لَمْ تَنْتَظِرْهُ الْحَيَاةُ!
 (٤) لَنْ تَبْلُغَ الْمَجْدَ حَتَّى تَعْلُقَ الصَّبْرَ!

٢٠٤- عَيْنِ الْخَطَا:

- (١) سَبَبُ نَجَاحِ الْعُلَمَاءِ يَعُودُ إِلَى مِمَارَسَتِهِمْ فِي الْعَمَلِ وَ عَدَمِ تَكَاسُلِهِمْ.
 (٢) الْإِسْتِعْدَادَاتُ الذَّائِقَةُ هِيَ السَّبَبُ لِلنَّجَاحِ وَ إِنْ لَمْ تَكُنْ مَعَهَا الْإِرَادَةُ.
 (٣) فَوْزُ النَّاجِحِينَ لَمْ يَكُنْ بِسَبَبِ أَسْرَتِهِمْ الْغَنِيَّةِ، بَلْ هُوَ بِسَبَبِ عَزْمِهِمْ وَ جَدِّيتِهِمْ.
 (٤) النَّجَاحُ يَرْتَبِطُ بِالْإِرَادَةِ وَ الْعَمَلِ أَكْثَرَ مِنْ أَنْ يَرْتَبِطَ بِبِنُوعِ الْإِنْسَانِ وَ مَوَاهِبِهِمْ.

٢٠٥- عَيْنِ الصَّحِيحِ فِي التَّشْكِيلِ:

«المشكلات التي تظهر امام الانسان كثيرة في حياته»:

- (١) اِمَامٌ - الْاِنْسَانِ - كَثِيْرَةٌ - حَيَاةٍ
 (٢) اَلْتِي - تَطَهَّرَ - اِمَامٌ - الْاِنْسَانِ
 (٣) اَلْتِي - تَطَهَّرَ - اِمَامٌ - كَثِيْرَةٌ
 (٤) تَطَهَّرُ - اِمَامٌ - كَثِيْرَةٌ - حَيَاةٍ

٢٠٦- عَيْنِ الصَّحِيحِ فِي التَّشْكِيلِ:

«رأى في طريقه امرأة عجوزاً تضرب قطعة كبيرة من الحديد على حجر»:

- (١) اِمْرَاةٌ - عَجُوْزًا - قِطْعَةً - كَبِيْرَةً
 (٢) رَأَى - طَرِيْقَهُ - اِمْرَاةٌ - تَضْرِبُ
 (٣) طَرِيْقٍ - اِمْرَاةٌ - تَضْرِبُ - قِطْعَةً
 (٤) عَجُوْزًا - تَضْرِبُ - الْحَدِيْدِ - حَجْرٍ

٢٠٧- عَيْنِ الصَّحِيحِ فِي الْاِعْرَابِ وَ التَّحْلِيْلِ الصَّرْفِيِّ:


«تَمَرٌ»:

- (١) مَزِيْدٌ ثَلَاثِيٌّ - مَتَعَدٌ - مَبْنِيٌّ لِلْمَعْلُوْمِ - مَعْرَبٌ / فَعْلٌ وَ فَاعِلُهُ ضَمِيْرٌ «هِيَ» الْمَسْتَتِرُ
 (٢) مَجْرَدٌ ثَلَاثِيٌّ - لَازِمٌ - مَبْنِيٌّ لِلْمَعْلُوْمِ - مَبْنِيٌّ عَلَى الضَّمِّ / فَعْلٌ مَرْفُوْعٌ وَ فَاعِلُهُ «لِحِظَاتٌ»
 (٣) فَعْلٌ مَضَارِعٌ - لِلْغَائِبَةِ - مَجْرَدٌ ثَلَاثِيٌّ - مَعْرَبٌ / فَعْلٌ مَرْفُوْعٌ، وَ فَاعِلُهُ «لِحِظَاتٌ» وَ الْجُمْلَةُ فَعْلِيَّةٌ
 (٤) مَضَارِعٌ - لِلْمَخَاطَبِ - مَجْرَدٌ ثَلَاثِيٌّ - مَتَعَدٌ - مَبْنِيٌّ لِلْمَعْلُوْمِ / فَعْلٌ وَ فَاعِلُهُ ضَمِيْرٌ «هِيَ» الْمَسْتَتِرُ وَ الْجُمْلَةُ فَعْلِيَّةٌ

٢٠٨- عَيْنِ الصَّحِيحِ فِي الْاِعْرَابِ وَ التَّحْلِيْلِ الصَّرْفِيِّ:

«يَبْأَسُ»:

- (١) مَضَارِعٌ - لِلْغَائِبِ - مَزِيْدٌ ثَلَاثِيٌّ - لَازِمٌ - مَبْنِيٌّ لِلْمَعْلُوْمِ - مَعْرَبٌ / فَعْلٌ وَ فَاعِلٌ
 (٢) مَجْرَدٌ ثَلَاثِيٌّ - مَعْتَلٌ وَ اِجْوَفٌ - مَبْنِيٌّ لِلْمَعْلُوْمِ / فَعْلٌ وَ فَاعِلٌ، وَ الْجُمْلَةُ فَعْلِيَّةٌ وَ نَعْتٌ
 (٣) فَعْلٌ مَضَارِعٌ - لِلْغَائِبِ - مَتَعَدٌ - مَبْنِيٌّ عَلَى الضَّمِّ / فَعْلٌ وَ فَاعِلٌ ضَمِيْرٌ هُوَ الْمَسْتَتِرُ
 (٤) لِلْغَائِبِ - مَجْرَدٌ ثَلَاثِيٌّ - لَازِمٌ / فَعْلٌ مَرْفُوْعٌ وَ فَاعِلُهُ ضَمِيْرٌ «هُوَ» الْمَسْتَتِرُ، وَ الْجُمْلَةُ فَعْلِيَّةٌ



سواتات كنكور ٨٥ تجربى

٢٠٩- عيّن الصحيح في الاعراب و التحليل الصرفي:

«كبيرة»:

- (١) اسم- مشتق و صفة مشبهة- نكرة- معرب- منصرف/ نعت و منصوب بالتبعية
- (٢) معرف بالاضافة- معرب- منصرف/ صفة و منصوب بالتبعية لمنعوتها «قطعة»
- (٣) مفرد مؤنث- نكرة- مبني- منصرف/ نعت و مجرور بالتبعية للمنعوت «قطعة»
- (٤) اسم- مفرد مؤنث- مشتق- معرف بالاضافة- معرب/ صفة و منصوب بالتبعية

٢١٠- عيّن الخطا في الاعلال:

- (١) أ لم تلقَ جزاء عملك في الدنيا؟! (٢) هُنَّ يرضون عن اعمالهنّ الصحيحة.
- (٣) ايّتها الطفلة! قومي لاداء الواجبات! (٤) لا ترمين كتبك في زاوية من الساحة!

٢١١- «الذين قُتلوا في سبيل الله ليسوا امواتاً!». عيّن الصحيح في المبني للمعلوم: الذين ليسوا امواتاً.
 (١) قتلهم المشركين (٢) قتلهم الكفار (٣) قتلهم المشركون (٤) قتلوا بيد الكفار

٢١٢- «معلمو المدرسة يتحملون المصاعب العديدة». عيّن الصحيح للفراغ:
 (١) المجتهدين (٢) مجتهدون (٣) المجتهدة (٤) المجتهدون

٢١٣- عيّن العبارة التي تعيّن مكان وقوع الفعل:

- (١) هو الذي ارسل رسوله بالهدى.
- (٢) اذا تمّ العقل نقص الكلام!
- (٣) طلب الطفل اُمّه أن تجلس عنده.
- (٤) البرّ أن تعمل خيراً فيه صلاحك!

٢١٤- عيّن ما ليس فيه الحال:

- (١) أرجو له ان يعيش متمتعاً بصحة كاملة.
- (٢) رايت وجهه مبتسماً يمدح معلميه و يشكرهم.
- (٣) لم يكن المؤمن يقضي ليلة مضطرباً.
- (٤) يُعجب عمل الخنساء العائدين من ساحة المعركة.

٢١٥- عيّن التمييز:

- (١) يمتلى قلبي سروراً بعد انتصار المجاهدين.
- (٢) سرّنى نجاحك سروراً لا يوصف.
- (٣) وجدت سروراً في قلبه قد اعجبني.
- (٤) ليت في حياتك سروراً يدوم طويلاً.

٢١٦- عيّن المستثنى منه محذوفاً:

- (١) لاسبب في نجاح الانسان الالسعي.
- (٢) ما كان هدف بعثة النبي (ص) الا التعليم.
- (٣) لاتفوزون في حياتكم الا المجاهدين منكم.
- (٤) قمت باداء واجباتي الا قراءة الدرس الثالث.

٢١٧- عيّن الخطا وفق أسلوب النداء:

- (١) ربّي! ارحم ضعف بدني و عقلي!
- (٢) يا كريم! يا من له الاسماء الحسنى، لاتنسني!
- (٣) يا مفتّح! افتح لنا ابواب رحمتك!
- (٤) يا اله العالمين! أنصر الاسلام و المسلمين!



سوالات کنکور ۸۵ تجربی

سوالات ادبیات

۲۱۸- معنی چند کلمه که در کمانک روبه‌روی هر کدام نوشته شده است، غلط است؟
 فؤاد (دل) - فراست (تیزهوشی) - طاعن (سرکش) - شرنگ (زهر) - سهم (هول) - حرز (تعویذ) - اورند (شکوه) -
 الحاح (پافشاری) - کله (آلونک)
 (۱) یک (۲) دو (۳) سه (۴) چهار

۲۱۹- معنی صحیح کلمات «صفوت، زرق، خذلان، خمّار، کوشک» به ترتیب کدام است؟
 (۱) خلوص - ریا - خوار - باده‌فروش - کاخ
 (۲) خلوص - کبود - خواری - شراب‌خوار - قصر
 (۳) برگزیده - کبود - خوار - شراب‌خوار - کاخ
 (۴) برگزیده - ریا - خواری - باده‌فروش - قصر

۲۲۰- در عبارت «چون امیری و حاکمی به عمارت و حکومت ولایتی رود، اهالی آن‌جا مطلوب خود را در هر کسوت که متضمن مصلحت خود دانند به عرض رسانند و در میان این طوایف مردم فضول مفسد بی‌نهایت باشند که به وقاحت صاحب منصبی شوند و چون اولولامر از سلاح و فساد ایشان واقف نباشد و خواهد که خلائق او را متاوعت و متابعت نمایند مطالب ایشان را به اجابت مقرون گرداند و حاصل آن باشد که خیر و شر مخفی و مسطور گردد» چند غلط املائی هست؟
 (۱) دو (۲) سه (۳) چهار (۴) پنج

۲۲۱- در عبارت «با هزاران سوزش فراغ و آرزومند اشتیاق، شرح واقعه‌ی حایل به کدام زبان داده شود که شدت صدمت و صولت سطوت آن راه عبارت بسته است. اگر چه جدایی روح و بدن آلمی عظیم است اما لذات و حصول درجات، ارواح را موقوف است نه اشباح را، و روح را در زندان محن شادمان بودن مُحال است» چند غلط املائی وجود دارد؟
 (۱) یک (۲) دو (۳) سه (۴) چهار

۲۲۲- در همه‌ی ابیات به جز بیت آرایه‌ی متناقض‌نما مشهود است.
 (۱) بیدل این کم‌همتان بر عزّ و جاه
 (۲) لاله و گل زخمی خمیازه‌اند
 (۳) داغ دلم چو لاله به مرهم نمی‌رسد
 (۴) کام، آشنا به ماحضر روزگار نیست
 فخرها دارند و عاری بیش نیست
 عیش این گلشن خماری بیش نیست
 این خون گرم در جگر روزگار نیست
 جز زهر غصّه در شکر روزگار نیست

۲۲۳- در کدام بیت آرایه‌ی حس آمیزی مشهود نیست؟
 (۱) دولت فقیر خدایا به من ارزانی دار
 (۲) صد می‌کده خون بیش کشیده است لب من
 (۳) بی چشمه‌ی نوشی نشود ناله گلوسوز
 (۴) نشئه‌ی دیدار ساقی رونق مسنی شکست
 کاین کرامت سبب حشمت و تمکین من است
 تا کار به رنگینی گفته‌ار کشیده است
 شیرین سخنی نی ز لب یار کشیده است
 هیچ کس بویی ز می در شیشه و ساغر ندید



سوالات کنکور ۸۵ تجربی

۲۲۴- در همی ایات به جز بیت..... آرایه‌ی اسلوب معادله وجود دارد.

- (۱) سیری ز مال نیست تهی چشم حرص را
 (۲) قطع امید کرده نخواهم نعیم دهر
 (۳) آخر نه دل به دل رود انصاف من بده
 (۴) لعل را گر مهر نبود باک نیست
- غربال را ز کثرت حاصل چه فایده
 شاخ بریده را نظری بر بهار نیست
 چون است من به وصل تو مشتاق و تو ملول
 عشق را دریای غم غمناک نیست

۲۲۵- کدام یک از ویژگی‌های شعر کلاسیک در منظومه‌ی «می تراود مهتاب» دیده نمی‌شود؟

- (۱) قافیه (۲) ردیف (۳) وزن عروضی (۴) تساوی مصراع‌ها

۲۲۶- در کدام بیت، کلمه‌ای به کار رفته است که با نام یکی از کتاب‌های هوشنگ ابتهاج تشابه لفظی دارد؟

- (۱) شبگیر ما در روز خبیر یاد بادا
 (۲) هر ذره‌ای این جا به سودا می خرامد
 (۳) دانی که مردان مسافر کم‌شکیب‌اند
 (۴) دیدم شبان خفته را تبار دیدم
- قه‌ر خدا در خشم حیدر یاد بادا
 هر قطره‌ای غرق تماشای خرامد
 گر در زمین گر آسمان هر جا غریب‌اند
 بر خفته‌ی شب شب‌روی بیدار دیدم

۲۲۷- نام پدیدآورندگان «شلوارهای وصله‌دار، پالیزبان، دری به خانه‌ی خورشید» به ترتیب چیست؟

- (۱) محمود دولت‌آبادی، علی مؤذنی، اخوان ثالث
 (۲) رسول پرویزی، مهرداد اوستا، سلمان هراتی
 (۳) محمود دولت‌آبادی، علی مؤذنی، سلمان هراتی
 (۴) رسول پرویزی، مهرداد اوستا، اخوان ثالث

۲۲۸- هنگام تلفظ واژه‌های «دست‌پخت، زنبیل، بدتر» به ترتیب کدام فرایند واجی اتفاق می‌افتد؟

- (۱) کاهش، ابدال، ادغام (۲) ابدال، افزایش، ادغام (۳) ابدال، کاهش، افزایش (۴) ادغام، ابدال، کاهش

۲۲۹- در همی گروه‌های اسمی به جز گروه..... وابسته‌ی وابسته به کار رفته است.

- (۱) فزونی نیروی رستم (۲) ساختن آینده‌ای بهتر (۳) بهترین فصل زندگی (۴) صحبت خیلی عامیانه

۲۳۰- تعداد تک‌واژه‌های کدام عبارت بیشتر است؟

- (۱) اگر هم رمان‌نویس رسالتی داشته باشد بهتر است به طور غیرمستقیم حرفش را بزند.
 (۲) فقدان نیروی ایمان عامل اصلی تمام ضعف‌ها در جوانب مختلف فرهنگ و ادب روزگار ماست.
 (۳) وظیفه‌ی نقد ادبی تجزیه و تحلیل و شکافتن مسایلی است که یک خواننده‌ی عامی از عهده‌اش برمی‌آید.
 (۴) همیشه شاهد این نکته بوده‌ایم که قله‌های ادب ما کسانی بوده‌اند که عمق انسانی کارشان جلب نظر می‌کند.

۲۳۱- در کدام عبارت هر سه نوع کلمات مشتق، مشتق- مرکب و مرکب به کار رفته است؟

- (۱) زمان ما عصر دانشوران خبیر و دل‌آگاه در قلمرو مطالعات تخصصی است.
 (۲) نگرانی و بیم‌ناکی هیچ‌گاه نهان‌خانه‌ی ضمیر و خزانه‌ی خاطر او را رها نساخته است.
 (۳) درازدستی ناسزایان بر شایستگان مدنیت و فرهنگ مردم این سرزمین را معنی و مفهوم بخشیده است.
 (۴) زبان فارسی معرف سیمای معنوی و مایه‌ی سرافرازی این ملت در طول تاریخی سراسر مبارزه است.



سوالات کنکور ۸۵ تجربی

۲۳۲- جمله‌ی «تنوع آثار، تفاوت مکاتب و سبک‌ها و انواع ادبی، اختلاف ذوق و پسند مخاطبان، انتخاب را بسیار مشکل می‌سازد.» چند جزئی و گذرا به چیست؟

- (۱) سه جزئی گذرا به مفعول
(۲) چهار جزئی گذرا به مفعول و مسند
(۳) چهار جزئی گذرا به مفعول و متمم
(۴) چهار جزئی گذرا به متمم و مسند

۲۳۳- نگارش کدام گزینه، به ویرایش زبانی نیاز دارد؟

- (۱) ادب معاصر بی‌تردید انکار ناشدنی است و پا گذاشتن بر آن غیرممکن.
(۲) ایرج میرزا آخرین سال‌های زندگی خود را با فقر گذرانید و در اثر سکتی قلبی درگذشت.
(۳) سوابق گذشته‌ی وی، نشان می‌دهد که استخدامش در ادارات دولتی بلامانع است.
(۴) امروزه این، واقعیتی مسلم انگاشته می‌شود که انسان هر پیشرفتی حاصل کرده، مدیون قوه‌ی بیان اوست.

۲۳۴- مفهوم کدام بیت با بیت «کم آواز هرگز نبینی خجل جوی مشک بهتر که یک توده گل» متناسب است؟

- (۱) چو غنچه راز دل غنچه‌ی چمن دریا
(۲) صید کردیم به افسون سخن خوبان را
(۳) زبان به خامشی از حرف یار نتوان بست
(۴) جوهر جرأت هر دل ز زبان معلوم است
زبان به کام کش و لذت سخن دریا
گو بدانند مه و مهر پری خوانی ما
به قفل غنچه در نوبهار نتوان بست
دلو در چاه چو خالی است رسن می‌لرزد

۲۳۵- «آن مرغ نغزخوان/ در آن مکان ز آتش تجلیل یافته/ اکنون به یک جهنم تبدیل یافته/ بسته است دم به دم نظر و می‌دهد تکان/ چشمان تیزبین/ خود را به روی هیبت آتش می‌افکند/ باد شدید می‌دمد و سوخته است مرغ/ خاکستر تنش را اندوخته است مرغ/ پس جوجه هایش از دل خاکسترش به در» وصفی است از:

- (۱) بلبل (۲) هما (۳) سیمرغ (۴) ققنوس

۲۳۶- «آب» در منظومه‌ی «صدای پای آب» رمز چیست؟

- (۱) مادر شاعر، که این منظومه به او تقدیم شده است.
(۲) خود شاعر، که آرام و تازه از هر گوشه و کناری عبور می‌کند.
(۳) پدر شاعر، که این منظومه به یاد مرگ او سروده شده است.
(۴) زادگاه شاعر، که جایگاه پرورش فکری و فلسفی شاعر بوده است.

۲۳۷- مفهوم بیت «خلق چو مرغابیان زاده ز دریای جان متناسب نیست؟

- (۱) صبح‌حدم چون کله بند آه دودآسای من
(۲) دلا تا کی در این زندان، فریب این و آن بینی
(۳) بلبل گلشن قدسم شده از جور فلک
(۴) باز خواهم به سوی مسکن عقبی رفتن
چون شفق در خون نشیند چشم خون پالای من
یکی زین چاه ظلمانی برون شو تا جهان بینی
بی‌گنه بسته‌ی زندان و گرفتار قفس
چه کنم گلخن دنیا پس از اینم بس و بس



سوالات کنکور ۸۵ تجربی

۲۳۸- آیهی «قل کُلُّ یَعْمَلُ عَلٰی شَاکِلَتِهِ» با کدام بیت تناسب دارد؟

- (۱) هرکسی از ظنّ خود شد یار من
 - (۲) هرکسی را بهر کاری ساختند
 - (۳) منی چون پیوست با کردگار
 - (۴) به یزدان هر آن کس که شد ناسپاس
- از درون من نجست اسرار من
مییل آن را در دلش انداختند
شکست اندر آورد و برگشت کار
به دلش اندر آید ز هر سو هراس

۲۳۹- عبارت «عبرت گیرید که من آن مردم که بامداد مطبخ مرا هزار و چهارصد شتر می کشید و شبانگاه سگی برداشته است

و می برد.» با مفهوم کدام بیت متناسب نیست؟

- (۱) آن مصر مملکت که تو دیدی خراب شد
 - (۲) زمانه شکل دیگر گشت و رفت آن مهربانی ها
 - (۳) بر آن نسق نبود وضع روزگار که بود
 - (۴) بر رگم روزگار به توفیق کردگار
- و آن نیل مکرمت که شنیدی سراب شد
همه خونابهی حسرت شده است آن دوست کامی ها
زمان به رنگ دگر شد زمین به رنگ دگر
با سعد گشت نحس و اندوه با طرب

۲۴۰- مفهوم «غم» در بیت «دیدی که مرا هیچ کسی یاد نکرد

نیست؟

- (۱) زین پنج روز عمر که چون برق و باد رفت
 - (۲) جان بهر غم است و بی غم امکان نبود
 - (۳) شادم به روز غم که غم غم گسار گشت
 - (۴) غم را لطف لقب کن زغم و درد طرب کن
- جز غم که هزار آفرین بر غم باد» با کدام بیت متناسب
- غم های بی شمار به این دلفگار ماند
هر جان که در او غم نبود جان نبود
که غم چو روی شادی عالم بدیده ام
هم از این خوب طلب کن فرج و امن و امان را

۲۴۱- «آن را که خبر شد خبری باز نیامد» با همه ی ابیات به جز بیت..... قرابت مفهومی دارد.

- (۱) محرم این هوش جز بی هوش نیست
 - (۲) سخن مانند از تو همی یادگار
 - (۳) کسی را در این بزم ساغر دهند
 - (۴) از تن دوست در سرای مجاز
- مر زبان را مشتری جز گوش نیست
سخن را چنین خوار مایه مدار
که داروی بی هوشیش در دهند
جان بسرون آید و نیاید راز

۲۴۲- در کدام بیت به مفهوم رباعی زیر اشاره شده است؟

- (۱) به طریقی روم که خوانندم
 - (۲) خواب نوشین بامداد رحیل
 - (۳) ای بسا خواب کماو بُود دل گیر
 - (۴) چون من این قصّه چند کس گفتند
- «آنان که محیط فضل و آداب شدند
ره زین شب تاریک نبردند برون
- در جمع کمال شمع اصحاب شدند
گفتند فسانه ای و در خواب شدند»
لاجرم آب خفته خوانندم
باز دارد پیاده را ز سبیل
و اصل آن دل خوشی است در تعبیر
هم در آن قصّه عاقبت خفتند