


کُد کنترل
311
A



311A



دفترچه شماره ۱
صبح پنجشنبه

«اگر دانشگاه اصلاح شود مملکت اصلاح می‌شود.»
امام خمینی (ره)

جمهوری اسلامی ایران
وزارت علوم، تحقیقات و فناوری
سازمان سنجش آموزش کشور

آزمون سراسری ورودی دانشگاه‌های کشور - ۱۴۰۰

**گروه آزمایشی علوم انسانی
آزمون عمومی**

مدت پاسخ‌گویی: ۷۵ دقیقه

تعداد سؤال: ۱۰۰

ردیف	مواد امتحانی	تعداد سؤال	از شماره	تا شماره	مدت پاسخ‌گویی
۱	زبان و ادبیات فارسی	۲۵	۱	۲۵	۱۸ دقیقه
۲	زبان عربی	۲۵	۲۶	۵۰	۲۰ دقیقه
۳	فرهنگ و معارف اسلامی	۲۵	۵۱	۷۵	۱۷ دقیقه
۴	زبان انگلیسی	۲۵	۷۶	۱۰۰	۲۰ دقیقه

سال ۱۴۰۰

* داوطلب گرامی، عدم درج مشخصات و امضاء در مندرجات جدول ذیل، به منزله عدم حضور شما در جلسه آزمون است.

اینجانب..... با شماره داوطلبی..... با آگاهی کامل، یکسان بودن شمارهٔ سندلی خود را با شماره داوطلبی مندرج در بالای کارت ورود به جلسه، بالای پاسخنامه و دفترچهٔ سؤالات، نوع و کدکنترل درج شده بر روی دفترچهٔ سؤالات و پائین پاسخنامه‌ام را تأیید می‌نمایم.

امضاء:

- ۱- مترادف «آلودگی، نوع، عاشق و عارف، بی‌نیازی» به ترتیب، در کدام ابیات آمده است؟
- (الف) مه‌ها زورمندی مکن بر مه‌ان
(ب) تو ای توانگر حسن از غنای درویشان
(ج) تنم می‌بلرزد چو یاد آورم
(د) شوخ شیخ آورد تا بازوی او
- (۱) الف - ب - ج - د (۲) الف - ب - د - ج (۳) د - الف - ج - ب (۴) د - ج - الف - ب
- ۲- کدام گزینه، می‌تواند پاسخ مناسبی برای معانی تعداد بیشتری از واژه‌های زیر باشد؟
- «دوال، رقعت، درایت، التهاب، باره، اذن»
- (۱) چرم و پوست، دانش، اسب، زیبا
(۲) اسب، بی‌قرار، یک لایه، اجازه
(۳) بینش، رخصت، یادداشت، چرم و پوست
(۴) یادداشت، آگاهی، شعله، اسب تندرو
- ۳- معنی چند واژه «درست» است؟
- (داروغه: شب‌گرد) (استقرار: مقرری گرفتن) (نبات: رستنی) (رواق: هرم) (مغان: موبدان زرتشتی)
(غایت القصوی: کمال مطلوب) (شبح: موهوم) (طیلسان: زیرانداز) (خشاب: گلوله)
- (۱) سه (۲) چهار (۳) پنج (۴) شش
- ۴- املاي کدام عبارت، درست است؟
- (۱) ای خداوندان نعمت اگر شما را انصاف بودی و ما را قناعت رسم سؤال از جهان برخواستی.
(۲) چنین اتفاق نادر افتد و بر نادر حکم نتوان کرد، زنه‌ار تا بدین طمع دگر باره گرد ولع نگردی.
(۳) دو درویش ملازم صحبت یکدگر سفر کردی، یکی ضعیف بودی که هر دو شب افطار کردی.
(۴) این طایفه را طریق آن است که تا اشتها قالب نشود نخورد و هنوز اشتها باقی بود که دست از طعام بدارند.
- ۵- در کدام عبارت «غلط املايي» وجود دارد؟
- (۱) جمالی که زبان فصاحت از بیان صباحت او عاجز آید چنان که در شب تاری صبح برآید.
(۲) عالم هر روز زیادت نظم و طراوت پذیرد و البته دور چرخ و قصد دهر تیرگی را به صفوت آن راه نهد.
(۳) به حکم تجارب روشن می‌گردد که عاقل را از حطام این دنیا به کفاف خرسند باید بود و بدان قدر که حاجات نفسانی فرو نماند قانع گشت.
(۴) مرد گفت: آهن در پیغولهٔ خانه بنهاده بودم و موش آن را تمام خورده بود. بازرگان گفت: آری دندان موش بر خوابیدن آن قادر باشد.
- ۶- در متنی زیر، چند «غلط املايي» یافت می‌شود؟
- «تو در عجز رای و خبت طینت و غلبهٔ آز و ضعف تدبیر بدان منزلتی که زبان از تفریر آن قاصر است و عقل در تصویر آن حیران. فایدهٔ مکر و حیلت تو مخدوم را این بود که می‌بینی و آخر وبال و تبعث آن به تو رسد و تو چون گل دو رویی که هر که را همت وصلت تو باشد دستهایش به خوار مجروح گردد و از وفای تو محفوظ نشود.»
- (۱) یک (۲) دو (۳) سه (۴) چهار

- ۷- ابیات زیر به ترتیب، سروده چه کسانی هستند؟
 الف) فخری که از وسیلت دون همتی رسد
 ب) در ره عشق وطن از سر جان خاسته‌ایم
 ۱) اوحدی - رهی معیری
 ۲) صائب - فریدون مشیری
 ۳) اوحدی - پروین اعتصامی
 ۴) صائب - پروین اعتصامی
- ۸- تعداد تشبیه در همه ابیات یکسان است، به جز:
 ۱) مریض شوق ز تیر ستم نمی‌رنجد
 ۲) شد چمان در چمن حسن و لطافت لیکن
 ۳) زلف لیلی صفتت دام دل مجنون است
 ۴) چون سواد زلف شبرنگ تو را آرم به یاد
- ۹- آرایه‌های مقابل همه ابیات تماماً درست است، به جز:
 ۱) از موج حلاوت دل مرغان چمن سوخت
 ۲) ز رشک شانۀ در تایم که با کوتاه دستی‌ها
 ۳) من که دارم در گدایی گنج سلطانی به دست
 ۴) شعاع چشمه مهر از فروغ رخسار است
 در چند بیت «ایهام یا ایهام تناسب» یافت می‌شود؟
 الف) آهوی چشم کماندار تو نخچیرم ساخت
 ب) هر کجا دم زدم از چشم بت کشمیرم
 ج) تا فروغ طلعت آن ماه را دیدم فروغی
 د) بیرون چه گونه می‌رود از کین مهوشان
 ه) دو گوشت از ز خروشیدنم به تنگ آمد
 ۱) دو ۲) سه ۳) چهار ۴) پنج
- ۱۰- آرایه‌های «حسن تعلیل - استعاره - کنایه - تشبیه - اسلوب معادله» به ترتیب، در کدام ابیات یافت می‌شود؟
 الف) می‌کند اشک ندامت نامه دل را سفید
 ب) بهشتی شد مرا نظاره آن روی گندم گون
 ج) نگردد جمع با رنگین لباسی زیرپادیدن
 د) تا سپند آن آتشین رخسار را در بزم دید
 ه) گل ز کژی خار در آغوش یافت
 ۱) د - ه - ج - ب - الف
 ۲) د - الف - ب - ج - ه
 ۳) ه - د - ب - الف - ج
 ۴) ه - ب - الف - د - ج
- ۱۱- در کدام بیت، ممیّز و نقش تبعی «هر دو» وجود دارد؟
 ۱) با من سخن از کعبه و بتخانه مگوئید
 ۲) رسم عشاق جگرخسته نیاز است نیاز
 ۳) بدین امید که یک لحظه با تو بنشینم
 ۴) اشک ما نسخه صد رشته گهر بود گهر
 در کدام بیت «پسوندها» در واژه قافیه، متفاوت است؟
 ۱) ز خوردو خواب بگذر گر دل بیدار می‌خواهی
 ۲) نباشد هیچ بنیادی ز سیل حادثات ایمن
 ۳) سحرخیزی ز آب زندگی سیراب می‌گردد
 ۴) گرفتار تو را چشم ترجم نیست از مردم
- گر نام و ننگ داری از آن فخر عاز دار
 تا در این ره چه کند همت مردانه ما
 هر چند فشاندند به خامی ثمرم را (استعاره، مجاز)
 به صد آغوش دربرمی‌کشد آن عنبرین مو را (جناس، کنایه)
 کی طمع در گردش گیتی دون پرور کنم (استعاره، پزادوکس)
 شراب، نوشگوار از لب شکر بار است (حسن تعلیل، ایهام)
 من که شیران جهانند کمین نخچیرم
 خون مردم همه گردید گریبانگیرم
 عشق فارغ کرده است از تابش مهر منیرم
 مهتری که همچو روح فرو رفته در تنم
 چنین مزن که ز دستت چو چنگ نخروشم
 کز هر دو مرا مقصد و مقصود شما مید
 خوی خوبان ستم پیشه عتاب است عتاب
 هزار ناوک حسرت به دل نشست مرا
 درد ما مایه صدگونه دوا بود، دوا
 که بیداری ز پی خواب تن آسانی نمی‌دارد
 به غیر از خانه بردوشی که ویرانی نمی‌دارد
 که دست از دامن شب‌های ظلمانی نمی‌دارد
 که امید شفاعت صید قربانی نمی‌دارد

- ۱۴- نقش واژه‌های مشخص شده در مصراع زیر با کدام مصراع، به ترتیب، یکسان است؟
 «سرو و مهت نخوانم، خوانم، چرا نخوانم»
 (۱) به غیر مصلحتش رهبری کند ایام
 (۲) فرشته‌ات به دو دست دعا نگه دارد
 (۳) این بار می‌برند که زندائی ات کنند
 (۴) گفت آگه نیستی کز سر در افتادت کلاه
- ۱۵- صفت‌های «نسبی، مفعولی، لیاقت و فاعلی» به ترتیب، در کدام مصراع‌ها آمده است؟
 (الف) یا سخن دانسته گو ای مرد عاقل یا خموش
 (ب) پروا مکن، بشتاب، همت چاره‌ساز است
 (ج) هر که فانی شد ز خود مردانه‌ای است
 (د) در گره چون غنچه صد گلزار دارم دیدنی
 (۱) الف - ب - د - ج (۲) ج - الف - ب - د (۳) د - ب - ج - الف (۴) ج - الف - د - ب
- ۱۶- با توجه به سروده زیر، کدام مورد «نادرست» است؟
 «گریه کنی اگر که آفتاب را ندیده‌ای، ستاره‌ها را هم نمی‌بینی / ماهی در آب خاموش است و چارپا روی خاک هیاهو می‌کند و پرنده در آسمان آواز می‌خواند.»
 (۱) فعل «مضارع اخباری و ماضی نقلی» در شعر وجود دارد.
 (۲) «پیوند وابسته‌ساز و هم پایه‌ساز» در سروده یافت می‌شود.
 (۳) اجزای یکی از جمله‌ها «نهاد + مفعول + مسند + فعل» است.
 (۴) سروده از یک جمله غیر ساده و سه جمله ساده تشکیل شده است.
- ۱۷- زمینه حماسه در همه ابیات یکسان است، به جز:
 (۱) سیاوش سیه را به تندی بتاخت
 (۲) سیاوش بیامد به پیش پدر
 (۳) درفش هم‌ایون برافراختند
 (۴) جهان جوی کیخسرو تاجور
 کدام ابیات مفهومی یکسان دارند؟
- ۱۸- (الف) رطب ناورد چوب خرزهره بار
 (ب) هر دو گون آهو گیا خوردند و آب
 (ج) هر کسی تخمی به خاک افکند و ما دیوانگان
 (د) نه ابلیس بد کرد و نیکی بدید
 (۱) الف - ج - د (۲) الف - ب - د (۳) ب - ج - د (۴) الف - ب - ج
- ۱۹- مفهوم «غم» در کدام بیت، متفاوت است؟
 (۱) غم تو موهبت کبریاست در دل من
 (۲) دل در بر من زنده برای غم توست
 (۳) تا خار غم عشقت او پخته در دامن
 (۴) دور از تو با سیاهی شبهای غم گذشت
 نمی‌دهم به سرور بهشت این غم را
 بیگانه خلق و آشنای غم توست
 کوتاه‌نظری باشد رفتن به گلستان‌ها
 این مردنی که زندگی‌اش نام کرده‌ایم

۲۰- کدام بیت با بیت زیر، قرابت مفهومی دارد؟

«جهد بر توست و بر خدا توفیق

(۱) گر همی لعل بایدت کان گن

(۲) به هر کاری که باشد تا توانی

(۳) ارباب حاجتیم و زبان سؤال نیست

(۴) رو بگو یار خدایی را تو زود

۲۱- کدام بیت با بیت زیر، قرابت مفهومی دارد؟

«مرّوت نبینم رهایی ز بند

(۱) دوستی را چنان کسی باید

(۲) دوستان را به گاه سود و زیان

(۳) که مردار چه بر ساحل است ای رفیق

(۴) به کام دشمن دون دست دوستان بستن

۲۲- مفهوم عبارات زیر از کدام بیت، دریافت می‌شود؟

«گوهر محبت بود که بر ملک و ملکوت عرضه داشتند، هیچ کس استحقاق خزانهداری آن گوهر نیافته، خزانگی آن را

دل آدم لایق بود.»

(۱) بار بی اندازه دارم بر دل از سودای عشقت

(۲) قامت چرخ خمید و کمر کوه شکست

(۳) من که پشتم خم از این بار گران گردیده است

(۴) ناز تو و نیاز تو شد همه دلپذیر من

۲۳- مفهوم کدام بیت، یادآور سروده زیر است؟

«مستمع صاحب سخن را بر سر کار آورد

(۱) گوش تا تشنه گفتار نباشد چو صدف

(۲) سخن که تیغ زبانها ازوست جوهردار

(۳) سست در گفتار مانند گنهکاران مباش

(۴) سخن گفته دگر باز نیاید به دهن

۲۴- مفهوم کدام بیت با بیت زیر، متناسب نیست؟

«هر آن وصفی که گویم بیش از آنی

(۱) هیچ نقاشت نمی‌بیند که نقشی برکشد

(۲) آن به که زبان درکشم از وصف جمالت

(۳) ای چشم عقل خیره در اوصاف روی تو

(۴) این دریغم می‌کشد کافکنده‌ای اوصاف خویش

۲۵- از کدام بیت، مفهوم بیت زیر درک می‌شود؟

«ای مرغ سحر عشق ز پروانه بیاموز

(۱) تا نهادم بر سر کویش قدم رفتم ز دست

(۲) هست در شرع محبت رسم و آیین دگر

(۳) دردسر تا نکشی صائب از این بی‌خبران

(۴) در عشق کسی قدم نهد کش جان نیست

زان که توفیق و جهد هست رفیق»

ور همی عشق بایدت جان گن

خدا را یاد کن دیگر تو دانی

در حضرت کریم تمنا چه حاجت است

چون چنان کردی خدا یار تو بود

به تنها و یارانم اندر کمند»

که از او کار بس ته بگشاید

بتوان دید و آزمود توان

نیاساید و دوستانش غریق

به دوستی که نه شرط مرّوت است ای دوست

آخر ای بی‌رحم باری از دلم برگیر باری

بار عشقت که بر آن طاقت ما طاق نبود

چون گرانبار کنم پشت کس از منت خویش

تا ز تو دلپذیر شد هستی ناگزیر من

غنچه خاموش، بلبل را به گفتار آورد»

مفشان قطره خود همچو رگ ابر بهار

خسی است در قدح خوشگوار خاموشی

سعی کن چون بی‌گناهان بر سخن باشی سوار

اول اندیشه کند مرد که عاقل باشد

یقین دانم که بی‌شک جان جانی»

وان که دید از حیرتش کلک از بنان افکنده‌ای

زیرا که به ذاتش نرسد خاطر و صاف

چون مرغ شب که هیچ تبیند به روشنی

در زبان عام و خاصان را زبان افکنده‌ای

کان سوخته را جان شد و آواز نیامد»

گرده بیهوش دارو بود خاک کوی دوست

خوردن خون جایز است و دم زدن دستور نیست

گوشه‌ای امن‌تر از عالم خاموشی نیست

با جان بودن به عشق در سامان نیست

■ ■ عین الأنسب للجواب عن الترجمة أو المفهوم من أو إلى العربية (۲۶ - ۳۵)

- ۲۶- ﴿وَمَا تَقْدُمُوا لَأَنْفُسِكُمْ مِنْ خَيْرٍ تَجِدُوهُ عِنْدَ اللَّهِ﴾:
- (۱) هرچه از نیکیهای خود پیش بفرستید آنها را نزد الله می‌یابید!
 - (۲) آنچه از کارهای خیر برای خود تقدیم کنید آنها را نزد الله باز می‌یابید!
 - (۳) آنچه را از خوبی برای خودتان پیش بفرستید آن را نزد خداوند می‌یابید!
 - (۴) هرچه را از نیکی‌هایی به خودتان تقدیم کنید آنها را در نزد خداوند باز می‌یابید!
- ۲۷- «رَبِّمَا تَسْتَطِيعُ أَنْ تَمْلِكَ بِالظُّلْمِ كُلَّ مَا تَرِيدُ، وَلَكِنْ بِدَعَاءِ مَظْلُومٍ تَفْقَدُ كُلَّ مَا قَدْ مَلَكَ!»:
- (۱) چه بسا بتوانی با ظلم هرچه را بخواهی مالک شوی، ولی با دعای یک مظلوم همه آنچه را مالک شده‌ای، از دست می‌دهی!
 - (۲) چه بسا توانسته باشی بوسیله ظلم هرچه را دوست داری مالک شوی، اما با دعای مظلوم علیه تو همه آنچه را کسب کرده‌ای، از دست خواهی داد!
 - (۳) شاید توانائی داشته باشی با ظلم همه آنچه را بخواهی به چنگ آوری، اما با یک نفرین مظلوم تمام آنچه را که در دستان تو است، از دست می‌دهی!
 - (۴) شاید قادر باشی بوسیله ظلم تمام چیزهایی را که دوست داری بدست آوری، ولی با یک دعای مظلوم همه چیزهایی را که مالک شده‌ای، از دست می‌دهی!
- ۲۸- «قَدَّمَ لِي صَدِيقِي هَدِيَّةً فِي الْحِكْمَةِ وَالْمَوْعِظَةِ كَانَتْ قِيَمَةً، وَ أُرْشِدْتَنِي إِلَى سَبِيلِ الْخَيْرِ!»:
- (۱) هدیه‌ای را که دوستم از حکمت و موعظه‌ای ارزشمند به من داد مرا به راه خیر هدایت می‌نماید.
 - (۲) دوستم به من حکمت و موعظه‌ای هدیه داد که ارزشمند است، و مرا به خوبترین راه هدایت می‌کند.
 - (۳) هدیه‌ای که دوستم از حکمت و پند به من داد ارزشمند بود، و مرا به سمت بهترین راهها هدایت کرد.
 - (۴) دوستم هدیه‌ای در زمینه حکمت و پند به من تقدیم کرد که ارزشمند بود، و مرا بسوی راه خیر هدایت نمود.
- ۲۹- «لَا يَرْضَى أَخِي أَنْ يَسِبَ مِنْ سَخَطِهِ، وَ يَحْلُمُهُ يُرْضَى اللَّهُ»:
- (۱) برادرم را دشنام دادن به کسی که او را خشمگین کرده خشنود نمی‌کند، و بردباریش خدا را راضی می‌نماید.
 - (۲) برادرم را دشنام دادن کسی که او را عصبانی کرده راضی نمی‌کند، و خداوند از بردباریش راضی می‌شود.
 - (۳) برادرم رضایت نمی‌دهد که دشنام دهد به کسی که او را عصبانی کرده، و خداوند از بردباریش خشنود می‌گردد.
 - (۴) برادرم راضی نمی‌شود به کسی که او را خشمگین کرده است دشنام دهد، و با بردباریش خدا را خشنود می‌سازد.
- ۳۰- «إِنَّ الْجَهْلَ يُسَبِّبُ أَنْ نَجِدَ طُرُقًا لِقَضَاءِ حَيَاتِنَا تَتَجَلَّى لَنَا سَهْلَةً، وَلَكِنَّهَا تَنْتَهِي إِلَى الْخَسَارَةِ»:
- (۱) این نادانی سبب یافتن راههای سهل‌الوصول برای گذران زندگی می‌شود، لکن به خسارت پایان می‌یابد!
 - (۲) نادانی قطعاً مسبب آن است که راههای گذران زندگی به شکل ساده در نظرمان جلوه‌گر شود، اما به خسارت بیانجامد!
 - (۳) نادانی باعث می‌شود برای گذران زندگیمان راههایی را بیابیم که برایمان آسان جلوه می‌کند، و لکن به خسارت منتهی می‌شود!
 - (۴) قطعاً نادانی است که سبب می‌شود راههایی را که برای ما آسان جلوه کرده برای گذران زندگیمان بیابیم، ولی آن راهها به خسارت منجر می‌شود!

۳۱- « لا يَحْزَنُنِي قَوْلُ الَّذِينَ يَتَكَلَّمُونَ عَنِّي جاهلین، و انا أعلمُ جهلهم! »:

- ۱) قول کسانی که از جهل من سخن می‌گویند و من جهالتشان را می‌دانم، نباید مرا ناراحت کند!
- ۲) سخن آنان که در مورد من حرف می‌زنند درحالی‌که جاهلند و من به جهلشان آگاهم، ابداً ناراحت‌کننده نمی‌کند!
- ۳) هیچ‌گاه سخن کسانی که درباره‌ی جهل من حرف می‌زنند حال آنکه من جهالتشان را می‌دانم، ناراحت‌کننده نمی‌کند!
- ۴) نباید گفتار کسانی که در مورد من جاهلانه سخن می‌گویند مرا ناراحت کند، درحالی‌که من آگاه به جهلشان هستم!

۳۲- « عجائب الخلقه كثيرة، منها أن هناك أسماكاً لا تضيء تحت البحار إلا بالضوء المضيء الذي تحت عيونها! »:

- ۱) عجایب خلقت بسیار است، از جمله ماهیهایی که فقط با نور تابناکی که در زیر چشم دارند زیر دریا را نورانی می‌کنند!
- ۲) عجایب زیادی در خلقت است، از جمله ماهیهایی هستند که زیر دریاها را نورانی می‌کنند فقط با نوری که زیر چشمهایشان هست!
- ۳) شگفتیهای آفرینش بسیارند، از جمله ماهیانی هستند که فقط با نور روشنی‌بخشی که زیر چشمهایشان هست زیر دریاها را روشنی می‌بخشند!
- ۴) شگفتیهای بسیار در خلقت است، از جمله در ماهیانی است که زیر دریاها را روشنی نمی‌بخشند مگر با روشنائی نوری که زیر چشمهایشان موجود است!

۳۳- عین الصحيح:

- ۱) ما أسرع مرَّ السنين من العمر و نحن في غفلة: سالهای عمر به سرعت می‌گذرد و ما در غفلت هستیم!
- ۲) إذا عملت سيئة فاعمل حسنة حتى تُعوض منها: هرگاه کار بدی را انجام دادی کار نیکی انجام بده تا آن را جبران کنی!
- ۳) يصنع الإنسان أشياء تُحوّل الظلام إلى الضوء: انسان با ساختن اشیائی تاریکی را به روشنائی تبدیل کرده است!
- ۴) إفراز السائل المطهر من لسان القطّ جعله حيواناً خاصاً: گربه با ترشح مایع پاک‌کننده از زبانش حیوان خاصی شده است.

۳۴- عین الصحيح:

- ۱) أنا كتبت مقالتی العلمیة الثالثة في ثمانی صفحات قبل عشرة أشهر: من سومین مقاله علمی خود را ده ماه پیش در هشت صفحه نگاشتم.
- ۲) في المباراة الماضية سجّل فريقنا ستة أهداف و الفريق المقابل ثلاثة: در مسابقه گذشته تیم ما ششمین گل را ثبت کرد درحالی‌که تیم مقابل سومین را.
- ۳) من غرس خمس شجرات في اليوم الخامس عشر من شهر اسفند فله ثلاث جوائز: هرکس در روز پانزده اسفندماه پنج درخت بکارد سومین جایزه برای اوست.
- ۴) كل طالب يقرأ أربعة كتب من هذين المؤلفين الاثنتين ستعطى له جائزة واحدة نفيسة: به هر دانش‌آموز که چهار کتاب این دو نویسنده را بخواند جایزه گرانبه‌ای داده خواهد شد.

٣٥- « دانش آموزی را می بینم که تمرینهای درس را در کلاس می نویسد:»

- (١) شاهد طالباً يكتب تمارينَ الدرس في الصف.
- (٢) رأيت في الصف الطالب يكتب تمارين الدروس.
- (٣) شاهد في الصف طالباً و هو يكتب تمارين الدرس.
- (٤) رأيت الطالب و هو يكتب تمارين الدروس في الصف.

■ ■ إقرأ النص التالي ثم أجب عن الأسئلة (٣٦ - ٤٢) بما يناسب النص:

إذا عزمنا أن نجعل إرادتنا قويةً فإنَّ التخيُّل، وإن كان صعباً بعض الأحيان ولكنَّه وسيلةٌ فعالةٌ في سبيل تحقُّق ذلك، فعلى سبيل المثال إذا استطاع الإنسانُ أن يتخيَّل أنه على ساحل البحر يستريح، فإنَّ هذا يقلِّل ما فيه من الاضطراب!

كذلك في هذا المجال تُمكن الاستفادة من الأخطاء وغفرتها ولكن بالشكل الصحيح؛ فلهذا يمكن الإغماض عنها بعض الأحيان ليعود إلى العمل من جديد بإرادة أقوى!

و يؤكد أن العادات الجيدة تُقوي العزيمة إن كانت منتظمة و لو كانت صغيرة؛ و العامل الآخر هو تعيين الجائزة بعد القيام بالعمل بشرط صحته و حُسن عمله؛ لأنَّه من جهة يُسبب أن الشخص ينسى التعب و الجهد الذي بذله عند القيام به و من جهة أخرى تشجيع له على العمل!

٣٦- أيّ موضوع لم يذكر في النص:

- (١) أثر العادات الحسنة في الإنسان!
- (٢) فائدة الإغماض عن بعض الأخطاء!
- (٣) تأثير قوة الخيال في إيجاد الطمأنينة للإنسان!
- (٤) تعليم الآخرين و أثره في سبيل الحصول على النجاح!

٣٧- عين الصحيح:

- (١) إذا كانت لدى الإنسان إرادة قوية فإنه لا يلتفت إلى الأمور الصغيرة و رعاية النظم فيها!
- (٢) إن رعاية الترتيب و اجتناب التفريق تُرفع شخصية الإنسان في مجال الإرادة!
- (٣) علينا أن نغفر كلَّ أخطائنا و ننسى آلامها حتَّى نقوم بالعمل من جديد!
- (٤) تعيين الجائزة أهمّ وسيلة للحصول على إرادة قوية!

٣٨- عين الخطأ:

- (١) تقوية الخيال تكفي الناس في سبيل تحقُّق الإرادة القوية!
- (٢) إنَّ الإرادة القوية لا تحصل باتخاذ طريقة واحدة و عمل واحد!
- (٣) من الأدوات المفيدة للحصول على إرادة قوية هو تصوُّر تحقُّق ما نريده!
- (٤) لا يستطيع الناس كلهم أن يتخيَّلوا أموراً و حالات تُقلِّل من شدة اضطرابهم!

٣٩- عَيْنُ الصَّحِيحِ لِلْفِرَاعِ: لِلْحَصُولِ عَلَى الْإِرَادَةِ الْقَوِيَّةِ يَجِبُ

- (١) أَنْ نَقْوِي قُوَّةَ خِيَالِنَا!
 (٢) أَنْ نَعْمَلَ أَعْمَالًا جَدِيدَةً فِي حَيَاتِنَا!
 (٣) أَنْ نَأْخُذَ الْجَوَائِزَ بَعْدَ الْقِيَامِ بِالْأَعْمَالِ!
 (٤) أَلَّا نَشْتَدَّ عَلَى النَّفْسِ بَلْ نَتَّخِذَ سَبِيلَ الرَّأْفَةِ عَلَيْهَا!

■ عَيْنُ الْخَطَأِ فِي الْإِعْرَابِ وَ التَّحْلِيلِ الصَّرْفِيِّ (٤٠ - ٤٢)

٤٠- « يَتَخَيَّلُ »:

- (١) مضارع - للمفرد الغائب - مزيد ثلاثي (له حرفان زائدان) - متعدّد / مع فاعله جملة فعلية
 (٢) فعل مضارع - مزيد ثلاثي (ماضيه «خَيَّلَ» من باب تفعيل) / فعل و فاعل، و الجملة فعلية
 (٣) فعل مضارع - للمفرد المذكر الغائب - مزيد ثلاثي (من باب تفعّل) / فعل و فاعل، و الجملة فعلية
 (٤) مضارع - للغائب - مزيد ثلاثي (ماضيه «تَخَيَّلَ» من باب تفعّل) - معلوم / مع فاعله جملة فعلية

٤١- « يُسَبِّبُ »:

- (١) فعل مزيد ثلاثي (بحرف زائد واحد) - متعدّد - معلوم / مع فاعله جملة فعلية
 (٢) مزيد ثلاثي (من باب تفعيل) - متعدّد - معلوم / فعل و مع فاعله جملة فعلية و خبر « أن »
 (٣) مضارع - للمفرد المذكر الغائب - مزيد ثلاثي (من باب تفعّل) - لازم / مع فاعله جملة فعلية
 (٤) فعل مضارع - مزيد ثلاثي (له حرف واحد زائد من باب تفعيل) / الجملة فعلية و خبر لحرف
 « أن » المشبهة بالفعل

٤٢- « أَقْوَى »:

- (١) اسم - مفرد مذكر - اسم تفضيل (حروفه الأصلية: « قوي ») / صفة للموصوف « إرادة »
 (٢) مفرد مذكر - اسم تفضيل (على وزن أفعال) - نكرة / مضاف إليه للمضاف « إرادة »
 (٣) مفرد مذكر - اسم تفضيل - نكرة / مجرور بالتبعية للموصوف « إرادة »
 (٤) اسم - مفرد مذكر - اسم تفضيل (فعله مجرد ثلاثي) / إعرابه مجرور

■ ■ عَيْنُ الْمُنَاسِبِ لِلْجَوَابِ عَنِ الْأَسْئَلَةِ التَّالِيَةِ (٤٣-٥٠)

٤٣- عَيْنُ الْخَطَأِ فِي ضَبْطِ حَرَكَاتِ الْحُرُوفِ:

- (١) سِيَّةٌ وَ تِسْعُونَ نَاقِصٌ سِيَّةٌ عَشْرٌ يُسَاوِي ثَمَانِينَ.
 (٢) لِبِلَادِنَا تَجَارِبٌ كَثِيرَةٌ فِي صِنَاعَةِ نَقْلِ النَّفْطِ عَبْرَ الْأَنْبَابِ.
 (٣) حَذُّوا الْحَقَّ مِنْ أَهْلِ الْبَاطِلِ وَ لَا تَأْخُذُوا الْبَاطِلَ مِنْ أَهْلِ الْحَقِّ.
 (٤) فِي اللُّغَةِ الْعَرَبِيَّةِ مَنَاتُ الْكَلِمَاتِ الْمُعَرَّبَةِ ذَاتِ الْأُصُولِ الْفَارِسِيَّةِ.

٤٤ - عَيْنُ الصَّحِيحِ عَنِ الْمَفْرَدَاتِ:

- (١) نَعْلَمُ أَنَّ لِلْبَطِّ غُدَّةً طَبِيعِيَّةً بِالْقَرَبِ مِنْ ذَنْبِهَا. (جمع) ← غُدْدٌ، ذُنُوبٌ
- (٢) عِنْدَمَا نَمَشِي عَلَى الرَّمَالِ الْحَارَّةِ تَحْرُقُ أَقْدَامَنَا. (مترادف) ← نَسِيرٌ، رِجَالٌ
- (٣) اشْتَدَّتِ الرِّيَّاحُ وَ حَدِثَتْ أَعَاصِيرٌ فِي تِلْكَ الْمَنْطِقَةِ. (مفرد) ← رَائِحَةٌ، إِعْصَارٌ
- (٤) أَظْهَرَ لَنَا أَصْدِقَاؤُنَا صَدَقَتَهُمْ وَ هُمْ مِنَ الْمَصْلِحِينَ. (متضاد) ← أَضْمَرُ، الْمَفْسِدِينَ

٤٥ - عَيْنُ مَا فِيهِ جَمْعٌ سَالِمٌ لِلْمَوْتِ:

- (١) أَشَدُّ الشَّاعِرِ قَصِيدَةً طَوِيلَةً، الْأَبْيَاتُ الْجَمِيلَةَ فِيهَا كَثِيرَةٌ!
- (٢) اسْتَمَعْنَا إِلَى أَصْوَاتِ الطَّيُورِ فِي الْغَابَةِ وَ هِيَ جَمِيلَةٌ وَ كَثِيرَةٌ!
- (٣) إِنْ يُنْقَلُ النَّفْطُ بِوَسْطَةِ الْأَنْبَابِ فَلَا نَحْتَاجُ إِلَى آلَاتٍ لِتَقْلِيلِ الضَّغْطِ!
- (٤) بَعْضُ الْأَعْمَالِ نَحْتَاجُ إِلَى أَوْقَاتٍ مَعْيِنَةٍ فَيَجِبُ أَنْ لَا نَتَأَخَّرَ فِي الْوَصُولِ إِلَيْهَا!

٤٦ - عَيْنُ « الْيَاءِ » تُسْتَعْمَلُ خَطَأً:

- (١) أَكْرَمَنِي (٢) أَفْلَحَنِي (٣) أَجْلَسَنِي (٤) أَخْبَرَنِي

٤٧ - عَيْنُ مَا لَيْسَ فِيهِ « نُونُ الْوَقَايَةِ »:

- (١) أَرْسَلْتَنِي أُمِّي لِشُرَاءِ شَرِيحَةٍ لِحَوْأَلِهَا!
- (٢) أَعْجَبَنِي الرَّسَامُ الْمَاهِرُ الَّذِي لَمْ تَكُنْ لَهُ يَدَانِ!
- (٣) يَا أُخْتِي الْعَزِيزَةَ؛ بَيَّنِّي لَنَا تَأْثِيرَ الْمَحَبَّةِ فِي تَرْبِيَةِ الْأَطْفَالِ!
- (٤) التَّحذِيرَاتُ الْكَثِيرَةُ فِي الطَّرِيقِ بَعَّدَتْنِي عَنِ الْخَطَرَاتِ الْمَوْجُودَةِ!

٤٨ - عَيْنُ الصَّحِيحِ فِي الْبِنَاءِ لِلْمَجْهُولِ (حَسَبِ الْمَعْنَى):

« إِسْتَعْمَلَ النَّاسُ النَّفْطَ فِي الصَّنَاعَةِ وَ ابْتَعَدَتْ الْأَرْضُ مِنَ السَّلَامَةِ بِإِكْتَارِهِمْ فِي الْإِسْتِفَادَةِ مِنْهُ وَ حِينِئذٍ يُهَدِّدُونَ الْبَيْئَةَ وَ تَتَعَرَّضُ الْحَيَاةُ لِلْمَوْتِ »

- (١) اسْتَعْدِمَ النَّاسُ (٢) ابْتَعَدَ مِنَ السَّلَامَةِ ...

- (٣) ... وَ حِينِئذٍ تَهْدِدُ الْبَيْئَةَ (٤) ... تَتَعَرَّضُ لِلْمَوْتِ

٤٩ - عَيْنُ مَا لَيْسَ فِيهِ فِعْلٌ يَصِفُ مَا قَبْلَهُ:

- (١) لِلْحَرْبَاءِ عَيْنٌ تَدُورُ كُلَّ إِتْجَاهٍ تُرِيدُهُ!
- (٢) لَا تَرْفَعُ صَوْتَكَ بِأَيِّ دَلِيلٍ عِنْدَمَا تَتَكَلَّمُ مَعَ أُمَّكَ!
- (٣) يُقَدِّمُ لِقَمَانٍ مَوَاعِظَ قِيَمَةَ بِشِيرِ الْقُرْآنِ إِلَيْهَا!
- (٤) أَلْفَ كِتَابٍ عَظِيمٍ يُحْصِي مَدَنَنَا الْجَذَابَةَ لِلسِّيَاحَةِ!

٥٠ - عَيْنُ الْخَطَأِ لِلْفَرَاغِينَ: «..... يَسِّرْ لِي أَمْرِي، وَ يَا اجْعَلْنِي مِنَ الصَّالِحِينَ!»

- (١) رَبِّ / إِلَهِي (٢) يَا إِلَهَ / مَعْبُودِي

- (٣) اللَّهُمَّ / رَحْمَنُ (٤) يَا رَبُّ / الرَّحِيمُ

- ۵۱- تن دادن به رذایل در اولین مرحله چه اثری در وجود انسان ایجاد خواهد کرد؟
 (۱) توانایی درک واقعیات را از انسان می‌گیرد و روح او را به برزخ می‌کشاند.
 (۲) برای رسیدن به لذت‌های زودگذر دنیایی، دچار وسوسه‌های درونی می‌شود.
 (۳) جزئیات آن به وقوع می‌پیوندد و سوابق ذهنی فرد را به سوی گناه سوق می‌دهد.
 (۴) موجب سقوط بعد غیر جسمانی انسان و از دست رفتن سرمایه‌های ارزشمندش می‌شود.
- ۵۲- حدیث شریف «الناس نیام فاذا ماتوا انتبهوا» با کدام آیه شریفه، هم مفهوم است و پیامبر اکرم (ص) باهوش‌ترین مؤمنان را چه کسانی معرفی می‌کنند؟
 (۱) ﴿ حَتَّىٰ إِذَا جَاءَ أَحَدَهُمُ الْمَوْتُ قَالَ رَبِّ ارْجِعُونِ... ﴾ - فراوان به یاد مرگ‌اند و بهتر از دیگران خود را برای آن آماده می‌کنند.
 (۲) ﴿ وَقَالُوا مَا هِيَ إِلَّا حَيَاتُنَا الدُّنْيَا نَمُوتُ وَنَحْيَا... ﴾ - فراوان به یاد مرگ‌اند و بهتر از دیگران خود را برای آن آماده می‌کنند.
 (۳) ﴿ وَقَالُوا مَا هِيَ إِلَّا حَيَاتُنَا الدُّنْيَا نَمُوتُ وَنَحْيَا... ﴾ - گرچه در دنیا زندگی می‌کنند و زیبا هم زندگی می‌کنند، اما به آن دل نمی‌سپرند.
 (۴) ﴿ حَتَّىٰ إِذَا جَاءَ أَحَدَهُمُ الْمَوْتُ قَالَ رَبِّ ارْجِعُونِ... ﴾ - گرچه در دنیا زندگی می‌کنند و زیبا هم زندگی می‌کنند، اما به آن دل نمی‌سپرند.
- ۵۳- کدام عبارت، به وجود شعور و آگاهی پس از مرگ اشاره دارد؟
 (۱) ﴿ وَ نَفْسٌ وَ مَا سَوَّاهَا فَأَلْهَمَهَا فُجُورَهَا وَ تَقْوَاهَا ﴾
 (۲) ﴿ قَالَ رَبِّ ارْجِعُونِ لَعَلِّي أَعْمَلُ صَالِحًا فِيمَا تَرَكْتُ ﴾
 (۳) ﴿ وَ إِنْ عَلَيْكُمْ لِحَافِظِينَ كِرَامًا كَاتِبِينَ يَعْلَمُونَ مَا تَفْعَلُونَ ﴾
 (۴) ﴿ مَنْ آمَنَ بِاللَّهِ وَ الْيَوْمِ الْآخِرِ وَ عَمِلَ صَالِحًا فَلَهُمْ أَجْرُهُمْ جِنْدًا رَبِّهِمْ ﴾
- ۵۴- در روز قیامت، بدکاران از چه چیزی به شگفت می‌آیند و در این حالت گفتارشان چیست؟
 (۱) مشاهده گواهی اعضای بدن خویش - چرا عنبه ما شهادت می‌دهید.
 (۲) حضور و شهادت دادن فرشتگان الهی - چرا علیه ما شهادت می‌دهید.
 (۳) مشاهده گواهی اعضای بدن خویش - ای کاش چنین اعمالی را انجام نداده بودیم.
 (۴) حضور و شهادت دادن فرشتگان الهی - ای کاش چنین اعمالی را انجام نداده بودیم.
- ۵۵- کدام مورد با حدیث شریف نبوی «الدنيا مزرعة الآخرة» هم مفهوم است؟
 (۱) ﴿ وَ إِنْ عَلَيْكُمْ لِحَافِظِينَ كِرَامًا كَاتِبِينَ يَعْلَمُونَ مَا تَفْعَلُونَ ﴾
 (۲) ﴿ وَ مِنَ النَّاسِ مَنْ يَتَّخِذُ مِنْ دُونِ اللَّهِ أَنْدَادًا يُحِبُّونَهُمْ كَحُبِّ اللَّهِ ﴾
 (۳) ﴿ قَالَ رَبِّ ارْجِعُونِ لَعَلِّي أَعْمَلُ صَالِحًا فِيمَا تَرَكْتُ كَلَّا إِنَّهَا كَلِمَةٌ هُوَ قَائِلُهَا ﴾
 (۴) ﴿ إِنْ الَّذِينَ يَأْكُلُونَ أَمْوَالَ الْإِنْسَامِي ظُلْمًا إِنَّمَا يَأْكُلُونَ فِي بُطُونِهِمْ نَارًا وَ سَيَصْنُونَ سَعِيرًا ﴾
- ۵۶- ابزار و اسباب بر مبنای کدام صفت الهی در اختیار ما قرار داده شده و انسان مؤمن چگونه از آن بهره می‌برد؟
 (۱) عدل الهی - برای کسب رضای خداوند و توکل به خدا و سپردن کارها به او آماده است.
 (۲) حکمت الهی - برای کسب رضای خداوند و توکل به خدا و سپردن کارها به او آماده است.
 (۳) حکمت الهی - در راستای راهیابی به نیازهایش با اعتماد به خدا، اهل همت، تعقل و پشتکار است.
 (۴) عدل الهی - در راستای راهیابی به نیازهایش با اعتماد به خدا، اهل همت، تعقل و پشتکار است.
- ۵۷- شرط اصلی دوستی با خدا چیست و کدام آیه شریفه حاکی از آن است؟
 (۱) اعتماد به خدا داشته باشد و کارها را به خدا بسپارد - ﴿ وَ الَّذِينَ آمَنُوا أَشَدُّ حُبًّا لِلَّهِ ﴾
 (۲) عمل به دستورات خداوند که توسط پیامبر (ص) ارسال شده است - ﴿ وَ الَّذِينَ آمَنُوا أَشَدُّ حُبًّا لِلَّهِ ﴾
 (۳) اعتماد به خدا داشته باشد و کارها را به خدا بسپارد - ﴿ قُلْ إِنْ كُنْتُمْ تُحِبُّونَ اللَّهَ فَاتَّبِعُونِي يُحْبِبْكُمُ اللَّهُ ﴾
 (۴) عمل به دستورات خداوند که توسط پیامبر (ص) ارسال شده است - ﴿ قُلْ إِنْ كُنْتُمْ تُحِبُّونَ اللَّهَ فَاتَّبِعُونِي يُحْبِبْكُمُ اللَّهُ ﴾
- ۵۸- پیشوایان دین علاوه بر آراستگی باطنی، به کدام مورد سفارش می‌کردند و آن را از اخلاق چه کسانی برمی‌شمردند؟
 (۱) آراستگی اخلاقی همچون ادب و سخاوت و حسن خلق - مؤمنان
 (۲) آراستگی اخلاقی همچون ادب و سخاوت و حسن خلق - جوانان
 (۳) آراستگی ظاهری در اجتماع و خانواده و از آن مهم‌تر در عبادت - مؤمنان
 (۴) آراستگی ظاهری در اجتماع و خانواده و از آن مهم‌تر در عبادت - جوانان

۵۹- ارائه برنامه‌های متفاوت و گاه متضاد از جانب مکاتب بشری در طول تاریخ، معلول کدام مورد است؟

- (۱) احتیاج همیشگی انسان به اینکه در افق بالاتری بیندیشد.
- (۲) نیاز دائمی انسان به برنامه‌ای که پاسخ‌گوی دغدغه‌های او باشد.
- (۳) ارائه پاسخ صحیح به سؤال‌هایی که انسان تا آن را نیابد، آرام نمی‌گیرد.
- (۴) رویه‌رو شدن انسان با نیازهای مهمی که برآمده از سرمایه ویژه انسانی است.

۶۰- چرا خداوند فقط یک دین برای هدایت بشر فرستاده است؟

- (۱) به دلیل رشد تدریجی فکر و اندیشه و امور مربوط به آن در مردم لازم بود تا در هر عصری پیامبری جدید مبعوث شود تا همان اصول ثابت را در خور انسان‌های دوران خود بیان کند.
- (۲) لازمه ماندگاری یک دین، تبلیغ دائمی و مستمر آن است و پیامبران الهی با ایمان استوار و تلاش بی‌مانند، در طول زمان‌های مختلف، دین الهی را تبلیغ می‌کردند.
- (۳) چون همگان ویژگی‌های مشترکی دارند، پس لازم است یک برنامه کلی داشته باشند تا آنان را به هدف مشترکی که در خلقتشان قرار داده است، برساند.
- (۴) چون فضیلت‌های اخلاقی مانند عدالت و خیرخواهی در همه انسان‌ها مشترک است، پیامبران هم منادی فضیلت‌های اخلاقی در جامعه هستند.

۶۱- قرآن کریم چه کسانی را به مبارزه دعوت نموده است و عجز و ناتوانی آنان در تحدی را، با کدام سخن نشان داده است؟

- (۱) ﴿يَقُولُونَ افْتَرَاهُ﴾ - ﴿لَا يَأْتُونَ بِمِثْلِهِ وَ لَوْ كَانَ بَعْضُهُمْ لِبَعْضٍ ظَهِيرًا﴾
- (۲) ﴿يَقُولُونَ افْتَرَاهُ﴾ - ﴿وَ لَوْ كَانَ مِنْ عِنْدِ غَيْرِ اللَّهِ لَوَجَدُوا فِيهِ اخْتِلَافًا كَثِيرًا﴾
- (۳) ﴿أَنْ يَأْتُوا بِمِثْلِ هَذَا الْقُرْآنِ﴾ - ﴿لَا يَأْتُونَ بِمِثْلِهِ وَ لَوْ كَانَ بَعْضُهُمْ لِبَعْضٍ ظَهِيرًا﴾
- (۴) ﴿أَنْ يَأْتُوا بِمِثْلِ هَذَا الْقُرْآنِ﴾ - ﴿وَ لَوْ كَانَ مِنْ عِنْدِ غَيْرِ اللَّهِ لَوَجَدُوا فِيهِ اخْتِلَافًا كَثِيرًا﴾

۶۲- فرستادن کتاب و میزان به همراه پیامبران چه ثمره‌ای برای جامعه خواهد داشت؟

- (۱) ﴿أَرْسَلْنَا رَسُولَنَا بِالْبَيِّنَاتِ﴾ (۲) ﴿لِيُقِيمُوا النَّاسَ بِالْقِسْطِ﴾
- (۳) ﴿وَ قَدْ أُمِرُوا أَنْ يَكْفُرُوا بِهِ﴾ (۴) ﴿يُؤْعَمُونَ أَنَّهُمْ آمَنُوا بِمَا أَنْزَلَ إِلَيْكَ﴾

۶۳- بیان جزئیات احکام الهی بر عهده کیست و این مسأله از کدام عبارت شریف، قابل دریافت است؟

- (۱) پیامبر اسلام (ﷺ) و امامان معصوم (علیهم‌السلام) - ﴿وَ اللَّهُ يُعْصِمُكَ مِنَ النَّاسِ إِنَّ اللَّهَ لَا يَهْدِي الْقَوْمَ الْكَافِرِينَ﴾
- (۲) امیرالمؤمنین (علیه‌السلام) و فرزندان آن حضرت - ﴿وَ اللَّهُ يُعْصِمُكَ مِنَ النَّاسِ إِنَّ اللَّهَ لَا يَهْدِي الْقَوْمَ الْكَافِرِينَ﴾
- (۳) پیامبر اسلام (ﷺ) و امامان معصوم (علیهم‌السلام) - ﴿إِنَّمَا يُرِيدُ اللَّهُ لِيُذْهِبَ عَنْكُمُ الرِّجْسَ أَهْلَ الْبَيْتِ وَ يُطَهِّرَكُمْ تَطْهِيرًا﴾
- (۴) امیرالمؤمنین (علیه‌السلام) و فرزندان آن حضرت - ﴿إِنَّمَا يُرِيدُ اللَّهُ لِيُذْهِبَ عَنْكُمُ الرِّجْسَ أَهْلَ الْبَيْتِ وَ يُطَهِّرَكُمْ تَطْهِيرًا﴾

۶۴- آیه شریفه ﴿وَ مَا مُحَمَّدٌ إِلَّا رَسُولٌ قَدْ خَلَتْ مِنْ قَبْلِهِ الرُّسُلُ أَ إِنْ مَاتَ أَوْ قُتِلَ انْقَلَبْتُمْ عَلَى أَعْقَابِكُمْ وَ مَنْ يَنْقَلِبْ

عَلَى عَقْبَيْهِ...﴾ خداوند چه کسانی را سرزنش می‌کند و چه هشدار می‌دهد؟

- (۱) عهد و پیمان‌شان را با شخص پیامبر (ﷺ) شکستند - ﴿انْقَلَبْتُمْ عَلَى أَعْقَابِكُمْ﴾
- (۲) ایمان‌شان وابسته به حضور شخص پیامبر (ﷺ) بود - ﴿انْقَلَبْتُمْ عَلَى أَعْقَابِكُمْ﴾
- (۳) عهد و پیمان‌شان را با شخص پیامبر (ﷺ) شکستند - ﴿مَنْ يَنْقَلِبْ عَلَى عَقْبَيْهِ﴾
- (۴) ایمان‌شان وابسته به حضور شخص پیامبر (ﷺ) بود - ﴿مَنْ يَنْقَلِبْ عَلَى عَقْبَيْهِ﴾

۶۵- امیرالمؤمنین (علیه‌السلام) راه حل نهایی برای غلبه بر اوضاع و احوال نابسامان پس از خود و آگاه کردن مردم را چگونه

ترسیم می‌کند؟

- (۱) به قرآن تمسک بجوئید و از آن یاری بطلبید، چون قرآن کتاب هدایت همه جوامع بشری خواهد بود.
- (۲) به قرآن تمسک بجوئید و از آن یاری بطلبید، نگاه می‌توانید پیرو قرآن باشید که آن را به درستی بفهمید.
- (۳) همه این‌ها را از اهلش طلب کنید، چون آنان هرگز با دین مخالفت نمی‌کنند و در دین اختلاف ندارند.
- (۴) همه این‌ها را از اهلش طلب کنید، چون آنان تبیین‌کنندگان معارف اسلامی با نیازهای نو هستند.

۶۶- مطابق روایت شریف نبوی (ﷺ) چه کسی گرفتار «میتة جاهلیة» شده و برای نجات از آن انجام کدام اقدام مؤثر است؟

- (۱) نداشتن معرفت نسبت به امام - در راه خدا به شایستگی جهاد نمایند.
- (۲) نداشتن معرفت نسبت به امام - با شیوة حکومت‌داری ایشان آشنا شوند.
- (۳) مرگ در حال عدم پیروی از امام - در راه خدا به شایستگی جهاد نمایند.
- (۴) مرگ در حال عدم پیروی از امام - با شیوة حکومت‌داری ایشان آشنا شوند.

- ۶۷- «موجودات جهان همواره و در هر آن به خداوند نیازمند هستند و این نیاز هیچ‌گاه قطع یا کم نمی‌شود». کدام بیت، در تبیین این موضوع آمده است؟
- (۱) ما که باشیم ای تو ما را جان جان
(۲) نظیر دوست ندیدم، اگرچه از مه و مهر
(۳) مهر رخسار تو می‌تابد ز ذرات جهان
(۴) جامه‌های خلق بدریدی ز خار
- ۶۸- پس از پذیرش مفهوم کدام مورد، پیام موجود در آیه شریفه ﴿وَلِلَّهِ مَا فِي السَّمَاوَاتِ وَمَا فِي الْأَرْضِ﴾ تحقق می‌یابد؟
- (۱) ﴿إِنَّ اللَّهَ رَبِّي وَرَبُّكُمْ﴾
(۲) ﴿اللَّهُ خَالِقُ كُلِّ شَيْءٍ﴾
(۳) ﴿مَا لَهُمْ مِنْ دُونِهِ مِنْ وَلِيٍّ﴾
(۴) ﴿قُلْ أَعْيَبَ اللَّهُ أَيْعِي رَبِّي﴾
- ۶۹- کدام مورد، علت دوستی نکردن با دشمنان خدا و مسلمانان را در آیه شریفه ﴿يَا أَيُّهَا الَّذِينَ آمَنُوا لَا تَتَّخِذُوا عَدُوِّي وَعَدُوَّكُمْ أَوْلِيَاءَ...﴾ بیان می‌کند؟
- (۱) ﴿تَلْفُونَ إِلَيْهِمْ بِالْمَوَدَّةِ﴾
(۲) ﴿عَدُوِّي وَعَدُوَّكُمْ أَوْلِيَاءَ﴾
(۳) ﴿يَا أَيُّهَا الَّذِينَ آمَنُوا لَا تَتَّخِذُوا﴾
(۴) ﴿وَقَدْ كَفَرُوا بِمَا جَاءَكُمْ مِنَ الْحَقِّ﴾
- ۷۰- با تدبر در آیه شریفه ﴿قُلْ إِنَّمَا أَعْظَمُكُمْ بِوَاحِدَةٍ أَنْ تَقُومُوا لِلَّهِ مَتَى وَفَرَادَى﴾ کدام واژگان آیه به ترتیب بر «حسن فعلی» و «حسن فاعلی» دلالت دارند؟
- (۱) لله - مثنی و فرادی
(۲) لله - اعظکم
(۳) مثنی و فرادی - لله
(۴) مثنی و فرادی - اعظکم
- ۷۱- امام صادق (علیه السلام) فرمودند: «انما المؤمن بمنزلة كفة الميزان...». در تبیین کدام آیه شریفه، می‌توان به این روایت استناد کرد و کدام عبارت، توضیح مناسبی برای مفهوم آن می‌باشد؟
- (۱) ﴿أَحْسِبَ النَّاسُ أَنْ يُتْرَكُوا أَنْ يَقُولُوا آمَنَّا وَهُمْ لَا يُفْتَنُونَ﴾ - این سنت عام‌ترین قانون خداوند است.
(۲) ﴿فَأَمَّا الَّذِينَ آمَنُوا بِاللَّهِ وَاعْتَصَمُوا بِهِ فَسَيُدْخِلُهُمْ فِي رَحْمَةٍ مِنْهُ﴾ - این سنت عام‌ترین قانون خداوند است.
(۳) ﴿أَحْسِبَ النَّاسُ أَنْ يُتْرَكُوا أَنْ يَقُولُوا آمَنَّا وَهُمْ لَا يُفْتَنُونَ﴾ - قرار گرفتن در دایره این سنت نتیجه عمل خود انسان‌هاست.
(۴) ﴿فَأَمَّا الَّذِينَ آمَنُوا بِاللَّهِ وَاعْتَصَمُوا بِهِ فَسَيُدْخِلُهُمْ فِي رَحْمَةٍ مِنْهُ﴾ - قرار گرفتن در دایره این سنت نتیجه عمل خود انسان‌هاست.
- ۷۲- بیت زیر ثمره مفهوم مندرج در کدام آیه شریفه را مورد تبیین قرار می‌دهد؟
- «طیران مرغ دیدی تو ز پایبند شهوت
به درآی تا ببینی طیران آدمیت»
- (۱) ﴿فَأَنْ أَصَابَهُ خَيْرٌ اطْمَأَنَّ بِهِ...﴾
(۲) ﴿فَقَدْ جَاءَكُمْ بَصَائِرُ مِنْ رَبِّكُمْ...﴾
(۳) ﴿إِنَّ أَكْرَمَكُمْ عِنْدَ اللَّهِ أَتْقَاكُمْ...﴾
(۴) ﴿لِلَّذِينَ أَحْسَنُوا الْحُسْنَىٰ وَزِيَادَةٌ...﴾
- ۷۳- با توجه به آیات مبارکه سوره فرقان، علت تبدیل گناهان به حسنات پس از توبه، ایمان و عمل صالح در کدام مورد بیان شده است؟
- (۱) پیرایش و تخلیه
(۲) توبه و انقلاب علیه خود
(۳) تزکیه و پاکی نفس
(۴) امرزنده و مهربان بودن خداوند
- ۷۴- تحقق بخشیدن به مفهوم آیه شریفه ﴿قَدْ أَفْلَحَ مَنْ زَكَّاهَا﴾ از عمل به کدام راه‌کار قرآنی آغاز می‌گردد؟
- (۱) ﴿لِيَتَّقُوا اللَّهَ فِي الدِّينِ وَلِيُنذِرُوا قَوْمَهُمْ إِذَا رَجَعُوا إِلَيْهِمْ لَعَلَّهُمْ يَحْذَرُونَ﴾
(۲) ﴿يَا أَيُّهَا الَّذِينَ آمَنُوا أَطِيعُوا اللَّهَ وَأَطِيعُوا الرَّسُولَ وَ أُولِي الْأَمْرِ مِنْكُمْ﴾
(۳) ﴿لَا تَتَّخِذُوا عَدُوِّي وَعَدُوَّكُمْ أَوْلِيَاءَ تَلْفُونَ إِلَيْهِمْ بِالْمَوَدَّةِ﴾
(۴) ﴿لَا تَقْطُطُوا مِنْ رَحْمَةِ اللَّهِ إِنَّ اللَّهَ يَغْفِرُ الذُّنُوبَ جَمِيعًا﴾
- ۷۵- در کدام آیه شریفه، به دو معیار اولیه تمدن اسلامی اشاره شده است؟
- (۱) ﴿اللَّهُ لَا إِلَهَ إِلَّا هُوَ لِيَجْزِيَكُمْ إِلَى يَوْمِ الْقِيَامَةِ لَا رَيْبَ فِيهِ﴾
(۲) ﴿قُلْ هَلْ يَسْتَوِي الَّذِينَ يَعْلَمُونَ وَالَّذِينَ لَا يَعْلَمُونَ إِنَّمَا يَتَذَكَّرُ أُولُو الْأَلْبَابِ﴾
(۳) ﴿لَقَدْ أَرْسَلْنَا رُسُلَنَا بِالْبَيِّنَاتِ وَأَنْزَلْنَا مَعَهُمُ الْكِتَابَ وَالْمِيزَانَ لِيَقُومَ النَّاسُ بِالْقِسْطِ﴾
(۴) ﴿وَمِنْ آيَاتِهِ أَنْ خَلَقَ لَكُمْ مِنْ أَنْفُسِكُمْ أَزْوَاجًا لِتَسْكُنُوا إِلَيْهَا وَجَعَلَ بَيْنَكُمْ مَوَدَّةً وَرَحْمَةً﴾

Part A. Grammar and Vocabulary

Directions: Questions 76-87 are incomplete sentences. Beneath each sentence you will see four words or phrases marked (1), (2), (3), and (4). Choose the one word or phrase that best completes the sentence. Then mark your answer sheet.

- 76- **Wow! Look at the prices! We wouldn't be able to buy anything if we ----- a large income.**
 1) not have 2) hadn't had 3) wouldn't have 4) didn't have
- 77- **He isn't ----- some of my friends, but what he says is often more original than you normally hear.**
 1) talkative 2) more talkative 3) as talkative as 4) the most talkative
- 78- **----- are about 350 species of sharks, and although they all eat meat, only a few species will attack people.**
 1) They 2) There 3) Those 4) That they
- 79- **The eastern bluebird is ----- attractive bird native to this continent by many bird-watchers.**
 1) considered more 2) considering more
 3) considered the most 4) considering the most
- 80- **There's not much in the way of ----- in this town - just the cinema and a couple of coffee houses.**
 1) entertainment 2) arrangement 3) relationship 4) destination
- 81- **Besides that, getting the right amount of nutrients can help the body fight against infection and various -----.**
 1) discases 2) sections 3) identities 4) devices
- 82- **At each visit, children were ----- and details of their health, diet and home environment were recorded.**
 1) decided 2) weighed 3) respected 4) supplied
- 83- **They failed to provide the information ----- of them.**
 1) achieved 2) demanded 3) surrounded 4) regarded
- 84- **I left the meeting feeling worried, and ----- about what to do next.**
 1) uncertain 2) unhelpful
 3) unchangeable 4) incomprehensible
- 85- **Sara hopes that her professional life will be mostly back to normal a year from now — no more Covid-19 patients; no more masks which slow communication with customers who may be confused or ----- of hearing.**
 1) lazy 2) poor 3) weak 4) hard
- 86- **Firefighters have been called to ----- the fire in the city center.**
 1) grow up 2) put out 3) check in 4) give off
- 87- **Samantha: He tells me he loves me every day. But he didn't do anything for my birthday, and he still doesn't want to meet my parents.**
Claire: Careful, -----.
 1) two heads are better than one 2) out of sight, out of mind
 3) actions speak louder than words 4) birds of a feather flock together

Part B. Cloze Test

Directions: Questions 88-92 are related to the following passage. Read the passage and decide which choice (1), (2), (3), or (4) best fits each space. Then mark your answer sheet.

People tend to have definite opinions about texting. There are those (88) -----, and those who hate it. Among the haters, some have expressed their opinion in very strong terms. One journalist said that "texters are doing to our language what Genghis Khan (89) ----- to his neighbors 800 years ago. They are (90) ----- our punctuation, our sentences, and our vocabulary. And they must be stopped."

This is not the first time people have said that technology was bad for language. In the 15th century, some scholars opposed the (91) ----- of the printing press. Common people shouldn't read books, these scholars argued, or the language might begin to (92) ----- their common ways of thinking and speaking.

- | | | | | |
|-----|-------------------|-----------------|----------------|-------------------|
| 88- | 1) that love them | 2) they love it | 3) who love it | 4) whom they love |
| 89- | 1) was done | 2) had done | 3) was doing | 4) did |
| 90- | 1) informing | 2) wondering | 3) seeking | 4) destroying |
| 91- | 1) stage | 2) diary | 3) invention | 4) pollution |
| 92- | 1) reflect | 2) remind | 3) boost | 4) attend |

Part C. Reading Comprehension

Directions: In this part of the test, you will read two passages. Each passage is followed by four questions. Answer the questions by choosing the best choice (1), (2), (3), or (4). Then mark your answer sheet.

PASSAGE 1:

Brainstorm a list of all the things that make you happy. Just write whatever comes into your mind without thinking about it too much. Now look at that list and tick all the ones that are fun or enjoyable. Probably most of them, right? So, if you could spend most of your time doing all this fun stuff, you would be really happy, surely?

Well, maybe not. For most people, only doing things for fun is not enough for long-term happiness. That is because, according to author of *Happiness by Design* Paul Dolan, your happiness depends on a 'pleasure-purpose balance'. If most of the things on your list of what makes you happy fall under the category of 'pleasure,' then that might be what you think makes you happy. But what will actually make you happy is balancing them out with activities that give your life purpose.

We tend to know straight away if something is enjoyable, but knowing what brings meaning and value requires more thought. For example, most people will say that air pilots have jobs with clear purpose. They are responsible for hundreds of people and fly all over the world. But in reality, their day-to-day work might involve spending time in boring hotels or stuck in airports waiting for flights, and routine actions they have performed hundreds of times. Those activities might not feel very meaningful – and they are probably not fun either. Just like everyone else, the pilot needs balance in their work and life to be happy.

- 93- The author's main purpose in the passage is to discuss -----.
- 1) why doing fun activities is enough for our happiness
 - 2) what actually makes people happy
 - 3) the reasons for happiness
 - 4) the effects of happiness
- 94- According to the passage, in *Happiness by Design*, Paul Dolan -----.
- 1) answers a question
 - 2) describes an experiment
 - 3) supports an old way of thinking
 - 4) provides interesting examples

- 95- The word "requires" in paragraph 3 is closest in meaning to -----.
- 1) needs 2) receives 3) makes 4) depends
- 96- It is suggested in paragraph 3 that air pilots' work -----.
- 1) never makes them want to give up
2) does not involve the repetition of certain tasks
3) may not be as meaningful as people commonly think
4) is considered to be both fun and purposeful by pilots themselves

PASSAGE 2:

Netball is particularly popular in the UK, Australia and New Zealand and I have played this wonderful game since I was at primary school. It is a team sport which is similar to both basketball and handball. There are seven players on each team and they each wear a bib which shows the name of the position they play. Players must throw the ball to one another and the aim of the game is to pass the ball to the 'Goal Shooter' or 'Goal Attack' who can shoot the ball into the net to score a goal. However, the key aspects of netball are that you cannot bounce the ball and you cannot move your feet when you have the ball. This is called the footwork rule and it can be quite difficult to grasp for young children playing the game! A full match lasts for one hour and in a single match often about 100 goals are scored which shows what a fast-paced and exciting game netball is!


Netball is typically played by women and girls. However, at many universities, there are mixed netball leagues in which teams must have both male and female players. In the UK, there are many different schemes to try to inspire people to play netball. One such scheme is called 'Back to Netball' which encourages women who have not played netball since they were at school to rediscover their love for the sport and get back on the court! Walking netball is another variation of the sport aimed at older women and those who want to exercise in a gentler way. So, why not watch a video of netball online and then have a go for yourself?

- 97- What is the author's main purpose in the passage?
- 1) To explain the rules of netball
2) To compare netball and walking netball
3) To give information about a specific sport
4) To explain the reasons for the popularity of a particular sport
- 98- The word "this" in paragraph 1 refers to which of the following?
- 1) That you cannot bounce the ball
2) That the aim of the game is passing the ball to the 'Goal Shooter'
3) That you are not allowed to move your feet when you have the ball
4) That it can be quite difficult to grasp for young children playing the game
- 99- It is stated in the passage that 'Back to Netball' is a plan that -----.
- 1) is about a gentler way of exercising
2) makes online videos of netball available
3) motivates UK women to try netball again
4) supports both male and female netball players in the UK
- 100- There is NOT sufficient information in the passage to answer which of the following questions?
- 1) How long does a full netball match take?
2) Which sports can netball be compared to?
3) How do netball players show their position in the match?
4) Why is walking netball safer than all the other variations of netball?

کد کنترل

312

A



312A



«اگر دانشگاه اصلاح شود مملکت اصلاح می‌شود.»

امام خمینی (ره)

جمهوری اسلامی ایران
وزارت علوم، تحقیقات و فناوری
سازمان سنجش آموزش کشور

دفترچه شماره ۱
صبح پنج‌شنبه

آزمون سراسری ورودی دانشگاه‌های کشور - ۱۴۰۰

گروه آزمایشی علوم انسانی (ویژه علوم و معارف اسلامی)
آزمون عمومی

مدت پاسخ‌گویی: ۷۵ دقیقه

تعداد سؤال: ۱۰۰

ردیف	مواد امتحانی	تعداد سؤال	از شماره	تا شماره	مدت پاسخ‌گویی
۱	زبان و ادبیات فارسی	۲۵	۱	۲۵	۱۸ دقیقه
۲	زبان عربی	۲۵	۲۶	۵۰	۲۰ دقیقه
۳	فرهنگ و معارف اسلامی	۲۵	۵۱	۷۵	۱۷ دقیقه
۴	زبان انگلیسی	۲۵	۷۶	۱۰۰	۲۰ دقیقه

سال ۱۴۰۰

* داوطلب گرامی، عدم درج مشخصات و امضاء در مندرجات جدول ذیل، به منزله عدم حضور شما در جلسه آزمون است.

اینجانب..... با شماره داوطلبی..... با آگاهی کامل، یکسان بودن شمارهٔ سندلی خود را با شماره داوطلبی مندرج در بالای کارت ورود به جلسه، بالای پاسخنامه و دفترچهٔ سؤالات، نوع و کدکنترل درج شده بر روی دفترچهٔ سؤالات و پائین پاسخنامه‌ام را تأیید می‌نمایم.

امضاء:

- ۱- مترادف «آلودگی، نوع، عاشق و عارف، بی‌نیازی» به ترتیب، در کدام ابیات آمده است؟
- (الف) مه‌ها زورمندی مکن بر مه‌ها که بر یک نمط می‌نماند جهان
(ب) تو ای توانگر حسن از غنای درویشان خبر نداری اگر خسته‌اند و گر ریشند
(ج) تنم می‌بلرزد چو یاد آورم مناجات شـووریده‌ای در حـرم
(د) شوخ شیخ آورد تا بازوی او جمع کرد آن جمله پیش روی او
- (۱) الف - ب - ج - د (۲) الف - ب - د - ج (۳) د - الف - ج - ب (۴) د - ج - الف - ب
- ۲- کدام گزینه، می‌تواند پاسخ مناسبی برای معانی تعداد بیشتری از واژه‌های زیر باشد؟
- «دوال، رقعت، درایت، التهاب، باره، اذن»
- (۱) چرم و پوست، دانش، اسب، زیبا (۲) اسب، بی‌قرار، یک لایه، اجازه
(۳) بینش، رخصت، یادداشت، چرم و پوست (۴) یادداشت، آگاهی، شعله، اسب تندرو
- ۳- معنی چند واژه «درست» است؟
- (داروغه: شب‌گرد) (استقرار: مقرری گرفتن) (نبات: رستنی) (رواق: هرم) (مغان: موبدان زرتشتی)
(غایت القصوی: کمال مطلوب) (شبح: موهوم) (طیلسان: زیرانداز) (خشاب: گلوله)
- (۱) سه (۲) چهار (۳) پنج (۴) شش
- ۴- املاي کدام عبارت، درست است؟
- (۱) ای خداوندان نعمت اگر شما را انصاف بودی و ما را قناعت رسم سؤال از جهان برخواستی.
(۲) چنین اتفاق نادر افتد و بر نادر حکم نتوان کرد، زنه‌ار تا بدین طمع دگر باره گرد ولع نگردی.
(۳) دو درویش ملازم صحبت یکدگر سفر کردی، یکی ضعیف بودی که هر دو شب افطار کردی.
(۴) این طایفه را طریق آن است که تا اشتها قالب نشود نخورد و هنوز اشتها باقی بود که دست از طعام بدارند.
- ۵- در کدام عبارت «غلط املايي» وجود دارد؟
- (۱) جمالی که زبان فصاحت از بیان صباحت او عاجز آید چنان که در شب تاری صبح برآید.
(۲) عالم هر روز زیادت نظم و طراوت پذیرد و البته دور چرخ و قصد دهر تیرگی را به صفوت آن راه نهد.
(۳) به حکم تجارب روشن می‌گردد که عاقل را از حطام این دنیا به کفاف خرسند باید بود و بدان قدر که حاجات نفسانی فرو نماند قانع گشت.
(۴) مرد گفت: آهن در پیغولهٔ خانه بنهاده بودم و موش آن را تمام خورده بود. بازرگان گفت: آری دندان موش بر خوابیدن آن قادر باشد.
- ۶- در متنی زیر، چند «غلط املايي» یافت می‌شود؟
- «تو در عجز رای و خبت طینت و غلبهٔ آز و ضعف تدبیر بدان منزلتی که زبان از تفریر آن قاصر است و عقل در تصویر آن حیران. فایدهٔ مکر و حیلت تو مخدوم را این بود که می‌بینی و آخر وبال و تبعث آن به تو رسد و تو چون گل دو رویی که هر که را همت و صلت تو باشد دستهایش به خوار مجروح گردد و از وفای تو محفوظ نشود.»
- (۱) یک (۲) دو (۳) سه (۴) چهار

- ۷- ابیات زیر به ترتیب، سروده چه کسانی هستند؟
 الف) فخری که از وسیلت دون همتی رسد
 ب) در ره عشق وطن از سر جان خاسته‌ایم
 ۱) اوحدی - رهی معیری
 ۲) صائب - فریدون مشیری
 ۳) اوحدی - پروین اعتصامی
 ۴) صائب - پروین اعتصامی
- ۸- تعداد تشبیه در همه ابیات یکسان است، به جز:
 ۱) مریض شوق ز تیر ستم نمی‌رنجد
 ۲) شد چمان در چمن حسن و لطافت لیکن
 ۳) زلف لیلی صفتت دام دل مجنون است
 ۴) چون سواد زلف شبرنگ تو را آرم به یاد
- ۹- آرایه‌های مقابل همه ابیات تماماً درست است، به جز:
 ۱) از موج حلاوت دل مرغان چمن سوخت
 ۲) ز رشک شانۀ در نایم که با کوتاه دستی‌ها
 ۳) من که دارم در گدایی گنج سلطانی به دست
 ۴) شعاع چشمه مهر از فروغ رخسار است
- ۱۰- در چند بیت «ایهام یا ایهام تناسب» یافت می‌شود؟
 الف) آهوی چشم کماندار تو نخجیرم ساخت
 ب) هر کجا دم زدم از چشم بت کشمیرم
 ج) تا فروغ طلعت آن ماه را دیدم فروغی
 د) بیرون چه گونه می‌رود از کین مهوشان
 ه) دو گوشت از ز خروشیدنم به تنگ آمد
 ۱) دو ۲) سه ۳) چهار ۴) پنج
- ۱۱- آرایه‌های «حسن تعلیل - استعاره - کنایه - تشبیه - اسلوب معادله» به ترتیب، در کدام ابیات یافت می‌شود؟
 الف) می‌کند اشک ندامت نامه دل را سفید
 ب) بهشتی شد مرا نظاره آن روی گندم گون
 ج) نگردد جمع با رنگین‌لباسی زیرپادیدن
 د) تا سپند آن آتشین رخسار را در بزم دید
 ه) گل ز کژی خار در آغوش یافت
 ۱) د - ه - ج - ب - الف
 ۲) د - الف - ب - ج - ه
 ۳) ه - د - ب - الف - ج
 ۴) ه - ب - الف - د - ج
- ۱۲- در کدام بیت، ممیز و نقش تبعی «هر دو» وجود دارد؟
 ۱) با من سخن از کعبه و بتخانه مگویند
 ۲) رسم عشاق جگرخسته نیاز است نیاز
 ۳) بدین امید که یک لحظه با تو بنشینم
 ۴) اشک ما نسخه صد رشته گهر بود گهر
- ۱۳- در کدام بیت «پسوندها» در واژه قافیه، متفاوت است؟
 ۱) ز خوردو خواب بگذر گر دل بیدار می‌خواهی
 ۲) نباشد هیچ بنیادی ز سیل حادثات ایمن
 ۳) سحرخیزی ز آب زندگی سیراب می‌گردد
 ۴) گرفتار تو را چشم ترجم نیست از مردم
- گر نام و ننگ داری از آن فخر عاز دار
 تا در این ره چه کند همت مردانه ما
 قتیل عشق ز تیغ جفا نمی‌ترسد
 در گلستان وصالش نجمیدیم و برفت
 عقل بر دانه خال سیهت مفتون است
 از سرم تا پای چون شمع آتش سواد گرفت
- هر چند فشاندند به خامی ثمرم را (استعاره، مجاز)
 به صد آغوش دربرمی‌کشد آن عنبرین مو را (جناس، کنایه)
 کی طمع در گردش گیتی دون پرور کنم (استعاره، پارادوکس)
 شراب، نوشگوار از لب شکر بار است (حسن تعلیل، ایهام)
- من که شیران جهانند کمین نخجیرم
 خون مردم همه گردید گریبانگیرم
 عشق فارغ کرده است از تابش مهر منیرم
 مهتری که همچو روح فرو رفته در تنم
 چنین مزن که ز دستت چو چنگ نخروشم
- کز هر دو مرا مقصد و مقصود شما مید
 خوی خوبان ستم پیشه عتاب است عتاب
 هزار ناوک حسرت به دل نشست مرا
 درد ما مایه صدگونه دوا بود، دوا
 که بیداری ز پی خواب تن‌آسانی نمی‌دارد
 به غیر از خانه بردوشی که ویرانی نمی‌دارد
 که دست از دامن شب‌های ظلمانی نمی‌دارد
 که امید شفاعت صید قربانی نمی‌دارد

- ۱۴- نقش واژه‌های مشخص شده در مصراع زیر با کدام مصراع، به ترتیب، یکسان است؟
 «سرو و مهت نخوانم، خوانم، چرا نخوانم»
 (۱) به غیر مصالحتش رهبری کند ایام
 (۲) فرشته‌ات به دو دست دعا نگه دارد
 (۳) این بار می‌برند که زندائی ات کنند
 (۴) گفت آگه نیستی کز سر در افتادت کلاه
- ۱۵- صفت‌های «نسبی، مفعولی، لیاقت و فاعلی» به ترتیب، در کدام مصراع‌ها آمده است؟
 (الف) یا سخن دانسته گو ای مرد عاقل یا خموش
 (ب) پروا مکن، بشتاب، همت چاره‌ساز است
 (ج) هر که فانی شد ز خود مردانه‌ای است
 (د) در گره چون غنچه صد گلزار دارم دیدنی
 (۱) الف - ب - د - ج (۲) ج - الف - ب - د (۳) د - ب - ج - الف (۴) ج - الف - د - ب
- ۱۶- با توجه به سروده زیر، کدام مورد «نادرست» است؟
 «گریه کنی اگر که آفتاب را ندیده‌ای، ستاره‌ها را هم نمی‌بینی / ماهی در آب خاموش است و چارپا روی خاک هیاهو می‌کند و پرنده در آسمان آواز می‌خواند.»
 (۱) فعل «مضارع اخباری و ماضی نقلی» در شعر وجود دارد.
 (۲) «پیوند وابسته‌ساز و هم پایه‌ساز» در سروده یافت می‌شود.
 (۳) اجزای یکی از جمله‌ها «نهاد + مفعول + مسند + فعل» است.
 (۴) سروده از یک جمله غیر ساده و سه جمله ساده تشکیل شده است.
- ۱۷- زمینه حماسه در همه ابیات یکسان است، به جز:
 (۱) سیاوش سیه را به تندی بتاخت
 (۲) سیاوش بیامد به پیش پدر
 (۳) درفش هم‌ایون برافراختند
 (۴) جهان جوی کیخسرو تاجور
 کدام ابیات مفهومی یکسان دارند؟
- ۱۸- (الف) رطب ناورد چوب خرزهره بار
 (ب) هر دو گون آهو گیا خوردند و آب
 (ج) هر کسی تخمی به خاک افکند و ما دیوانگان
 (د) نه ابلیس بد کرد و نیکی بدید
 (۱) الف - ج - د (۲) الف - ب - د (۳) ب - ج - د (۴) الف - ب - ج
- ۱۹- مفهوم «غم» در کدام بیت، متفاوت است؟
 (۱) غم تو موهبت کبریاست در دل من
 (۲) دل در بر من زنده برای غم توست
 (۳) تا خار غم عشقت او پخته در دامن
 (۴) دور از تو با سیاهی شبهای غم گذشت
 نمی‌دهم به سرور بهشت این غم را
 بیگانه خلق و آشنای غم توست
 کوتاه‌نظری باشد رفتن به گلستان‌ها
 این مردنی که زندگی‌اش نام کرده‌ایم

۲۰- کدام بیت با بیت زیر، قرابت مفهومی دارد؟

«جهد بر توست و بر خدا توفیق

(۱) گر همی لعل بایدت کان گن

(۲) به هر کاری که باشد تا توانی

(۳) ارباب حاجتیم و زبان سؤال نیست

(۴) رو بچو یار خدایی را تو زود

زان که توفیق و جهد هست رفیق»

ور همی عشق بایدت جان گن

خدا را یاد کن دیگر تو دانی

در حضرت کریم تمنا چه حاجت است

چون چنان کردی خدا یار تو بود

۲۱- کدام بیت با بیت زیر، قرابت مفهومی دارد؟

«مرّوت نبینم رهایی ز بند

(۱) دوستی را چنان کسی باید

(۲) دوستان را به گاه سود و زیان

(۳) که مردار چه بر ساحل است ای رفیق

(۴) به کام دشمن دون دست دوستان بستن

به تنها و یارانم اندر کمند»

که از او کار بس ته بگشاید

بتوان دید و آزمود توان

نیاساید و دوستانش غریق

به دوستی که نه شرط مرّوت است ای دوست

۲۲- مفهوم عبارات زیر از کدام بیت، دریافت می‌شود؟

«گوهر محبت بود که بر ملک و ملکوت عرضه داشتند، هیچ کس استحقاق خزانهداری آن گوهر نیافته، خزانگی آن را

دل آدم لایق بود.»

(۱) بار بی اندازه دارم بر دل از سودای عشقت

(۲) قامت چرخ خمید و کمر کوه شکست

(۳) من که پشتم خم از این بار گران گردیده است

(۴) ناز تو و نیاز تو شد همه دلپذیر من

آخر ای بی رحم باری از دلم برگیر باری

بار عشقت که بر آن طاقت ما طاق نبود

چون گرانبار کنم پشت کس از منت خویش

تا ز تو دلپذیر شد هستی ناگزیر من

۲۳- مفهوم کدام بیت، یادآور سروده زیر است؟

«مستمع صاحب سخن را بر سر کار آورد

(۱) گوش تا تشنه گفتار نباشد چو صدف

(۲) سخن که تیغ زبانها ازوست جوهردار

(۳) سست در گفتار مانند گنهکاران مباش

(۴) سخن گفته دگر باز نیاید به دهن

غنچه خاموش، بلبل را به گفتار آورد»

مفشان قطره خود همچو رگ ابر بهار

خسی است در قدح خوشگوار خاموشی

سعی کن چون بی گناهان بر سخن باشی سوار

اول اندیشه کند مرد که عاقل باشد

۲۴- مفهوم کدام بیت با بیت زیر، متناسب نیست؟

«هر آن وصفی که گویم بیش از آنی

(۱) هیچ نقاشت نمی بیند که نقشی برکشد

(۲) آن به که زبان درکشم از وصف جمالت

(۳) ای چشم عقل خیره در اوصاف روی تو

(۴) این دریغم می کشد کافکنده ای اوصاف خویش

یقین دانم که بی شک جان جانی»

وان که دید از حیرتش کلک از بنان افکنده ای

زیرا که به ذاتش نرسد خاطر و صاف

چون مرغ شب که هیچ تبیند به روشنی

در زبان عام و خاصان را زبان افکنده ای

۲۵- از کدام بیت، مفهوم بیت زیر درک می‌شود؟

«ای مرغ سحر عشق ز پروانه بیاموز

(۱) تا نهادم بر سر کویش قدم رفتم ز دست

(۲) هست در شرع محبت رسم و آیین دگر

(۳) دردسر تا نکشی صائب از این بی خبران

(۴) در عشق کسی قدم نهد کش جان نیست

کان سوخته را جان شد و آواز نیامد»

گرده بیهوش دارو بود خاک کوی دوست

خوردن خون جایز است و دم زدن دستور نیست

گوشه ای امن تر از عالم خاموشی نیست

با جان بودن به عشق در سامان نیست

■ ■ عین الأنسب للجواب عن الترجمة أو المفهوم من أو إلى العربية (۲۶ - ۳۵)

- ۲۶- ﴿وَمَا تَقْدُمُوا لَأَنْفُسِكُمْ مِنْ خَيْرٍ تَجِدُوهُ عِنْدَ اللَّهِ﴾:
- (۱) هرچه از نیکیهای خود پیش بفرستید آنها را نزد الله می‌یابید!
 - (۲) آنچه از کارهای خیر برای خود تقدیم کنید آنها را نزد الله باز می‌یابید!
 - (۳) آنچه را از خوبی برای خودتان پیش بفرستید آن را نزد خداوند می‌یابید!
 - (۴) هرچه را از نیکی‌هایی به خودتان تقدیم کنید آنها را در نزد خداوند باز می‌یابید!
- ۲۷- «رَبِّمَا تَسْتَطِيعُ أَنْ تَمْلِكَ بِالظُّلْمِ كُلَّ مَا تَرِيدُ، وَلَكِنْ بِدَعَاءِ مَظْلُومٍ تَفْقَدُ كُلَّ مَا قَدْ مَلَكَتُ!»:
- (۱) چه بسا بتوانی با ظلم هرچه را بخواهی مالک شوی، ولی با دعای یک مظلوم همه آنچه را مالک شده‌ای، از دست می‌دهی!
 - (۲) چه بسا توانسته باشی بوسیله ظلم هرچه را دوست داری مالک شوی، اما با دعای مظلوم علیه تو همه آنچه را کسب کرده‌ای، از دست خواهی داد!
 - (۳) شاید توانائی داشته باشی با ظلم همه آنچه را بخواهی به چنگ آوری، اما با یک نفرین مظلوم تمام آنچه را که در دستان تو است، از دست می‌دهی!
 - (۴) شاید قادر باشی بوسیله ظلم تمام چیزهایی را که دوست داری بدست آوری، ولی با یک دعای مظلوم همه چیزهایی را که مالک شده‌ای، از دست می‌دهی!
- ۲۸- «قَدْ مَ لِي صَدِيقِي هَدِيَّةً فِي الْحِكْمَةِ وَالْمَوْعِظَةِ كَانَتْ قِيَمَةً، وَ أُرْشِدْتَنِي إِلَى سَبِيلِ الْخَيْرِ!»:
- (۱) هدیه‌ای را که دوستم از حکمت و موعظه‌ای ارزشمند به من داد مرا به راه خیر هدایت می‌نماید.
 - (۲) دوستم به من حکمت و موعظه‌ای هدیه داد که ارزشمند است، و مرا به خوبترین راه هدایت می‌کند.
 - (۳) هدیه‌ای که دوستم از حکمت و پند به من داد ارزشمند بود، و مرا به سمت بهترین راهها هدایت کرد.
 - (۴) دوستم هدیه‌ای در زمینه حکمت و پند به من تقدیم کرد که ارزشمند بود، و مرا بسوی راه خیر هدایت نمود.
- ۲۹- «لَا يَرْضَىٰ أَخِي أَنْ يَسِبَ مِنْ سَخَطِهِ، وَ بِحِلْمِهِ يُرْضِي اللَّهُ»:
- (۱) برادرم را دشنام دادن به کسی که او را خشمگین کرده خشنود نمی‌کند، و بردباریش خدا را راضی می‌نماید.
 - (۲) برادرم را دشنام دادن کسی که او را عصبانی کرده راضی نمی‌کند، و خداوند از بردباریش راضی می‌شود.
 - (۳) برادرم رضایت نمی‌دهد که دشنام دهد به کسی که او را عصبانی کرده، و خداوند از بردباریش خشنود می‌گردد.
 - (۴) برادرم راضی نمی‌شود به کسی که او را خشمگین کرده است دشنام دهد، و با بردباریش خدا را خشنود می‌سازد.
- ۳۰- «إِنَّ الْجَهْلَ يُسَبِّبُ أَنْ نَجِدَ طُرُقًا لِقَضَاءِ حَيَاتِنَا تَتَجَلَّىٰ لَنَا سَهْلَةً، وَلَكِنَّهَا تَنْتَهِي إِلَى الْخَسَارَةِ»:
- (۱) این نادانی سبب یافتن راههای سهل‌الوصول برای گذران زندگی می‌شود، لکن به خسارت پایان می‌یابد!
 - (۲) نادانی قطعاً مسبب آن است که راههای گذران زندگی به شکل ساده در نظرمان جلوه‌گر شود، اما به خسارت بیانجامد!
 - (۳) نادانی باعث می‌شود برای گذران زندگیمان راههایی را بیابیم که برایمان آسان جلوه می‌کند، و لکن به خسارت منتهی می‌شود!
 - (۴) قطعاً نادانی است که سبب می‌شود راههایی را که برای ما آسان جلوه کرده برای گذران زندگیمان بیابیم، ولی آن راهها به خسارت منجر می‌شود!

۳۱- « لا يَحْزَنُنِي قَوْلُ الَّذِينَ يَتَكَلَّمُونَ عَنِّي جاهلین، و أنا أعلمُ جهلهم! »:

- ۱) قول کسانی که از جهل من سخن می‌گویند و من جهالتشان را می‌دانم، نباید مرا ناراحت کند!
- ۲) سخن آنان که در مورد من حرف می‌زنند درحالی‌که جاهلند و من به جهلشان آگاهم، ابداً ناراحت‌م نمی‌کند!
- ۳) هیچگاه سخن کسانی که دربارهٔ جهل من حرف می‌زنند حال آنکه من جهالتشان را می‌دانم، ناراحت‌م نمی‌کند!
- ۴) نباید گفتار کسانی که در مورد من جاهلانه سخن می‌گویند مرا ناراحت کند، درحالی‌که من آگاه به جهلشان هستم!

۳۲- « عجائب الخلقه كثيرة، منها أن هناك أسماكاً لا تضيء تحت البحار إلا بالضوء المضيء الذي تحت عيونها! »:

- ۱) عجایب خلقت بسیار است، از جمله ماهیهایی که فقط با نور تابناکی که در زیر چشم دارند زیر دریا را نورانی می‌کنند!
- ۲) عجایب زیادی در خلقت است، از جمله ماهیهایی هستند که زیر دریاها را نورانی می‌کنند فقط با نوری که زیر چشمهایشان هست!
- ۳) شگفتیهای آفرینش بسیارند، از جمله ماهیانی هستند که فقط با نور روشنی‌بخشی که زیر چشمهایشان هست زیر دریاها را روشنی می‌بخشند!
- ۴) شگفتیهای بسیار در خلقت است، از جمله در ماهیانی است که زیر دریاها را روشنی نمی‌بخشند مگر با روشنائی نوری که زیر چشمهایشان موجود است!

۳۳- عین الصحيح:

- ۱) ما أسرع مرَّ السنين من العمر و نحن في غفلة: سالهای عمر به سرعت می‌گذرد و ما در غفلت هستیم!
- ۲) إذا عملت سيئة فاعمل حسنة حتى تعوض منها: هرگاه کار بدی را انجام دادی کار نیکی انجام بده تا آن را جبران کنی!
- ۳) يصنع الإنسان أشياء تحول الظلام إلى الضوء: انسان با ساختن اشیائی تاریکی را به روشنائی تبدیل کرده است!
- ۴) إفراز السائل المطهر من لسان القط جعله حيواناً خاصاً: گربه با ترشح مایع پاک‌کننده از زبانش حیوان خاصی شده است.

۳۴- عین الصحيح:

- ۱) أنا كتبت مقالتی العلمیة الثالثة في ثمانی صفحات قبل عشرة أشهر: من سومین مقاله علمی خود را ده ماه پیش در هشت صفحه نگاشتم.
- ۲) في المباراة الماضية سجل فریقنا ستة أهداف و الفريق المقابل ثلاثة: در مسابقه گذشته تیم ما ششمین گل را ثبت کرد درحالی‌که تیم مقابل سومین را.
- ۳) من غرس خمس شجرات في اليوم الخامس عشر من شهر اسفند فله ثلاث جوائز: هرکس در روز پانزده اسفندماه پنج درخت بکارد سومین جایزه برای اوست.
- ۴) كل طالب يقرأ أربعة كتب من هذين المؤلفين الاثنین ستعطى له جائزة واحدة نفیسة: به هر دانش‌آموز که چهار کتاب این دو نویسنده را بخواند جایزه گرانبه‌ای داده خواهد شد.

٣٥- « دانش آموزی را می بینم که تمرینهای درس را در کلاس می نویسد:»

- (١) شاهد طالباً يكتب تمارينَ الدرس في الصف.
- (٢) رأيت في الصف الطالب يكتب تمارين الدروس.
- (٣) شاهد في الصف طالباً و هو يكتب تمارين الدرس.
- (٤) رأيت الطالب و هو يكتب تمارين الدروس في الصف.

■ ■ إقرأ النص التالي ثم أجب عن الأسئلة (٣٦ - ٤٢) بما يناسب النص:

إذا عزمنا أن نجعل إرادتنا قويةً فإنَّ التخيُّل، وإن كان صعباً بعض الأحيان ولكنَّه وسيلةٌ فعالةٌ في سبيل تحقُّق ذلك، فعلى سبيل المثال إذا استطاع الإنسانُ أن يتخيَّل أنه على ساحل البحر يستريح، فإنَّ هذا يقلِّل ما فيه من الاضطراب!

كذلك في هذا المجال تُمكن الاستفادة من الأخطاء وغفرتها ولكن بالشكل الصحيح؛ فلهذا يمكن الإغماض عنها بعض الأحيان ليعود إلى العمل من جديد بإرادة أقوى!

و يؤكد أن العادات الجيدة تُقوي العزيمة إن كانت منتظمة و لو كانت صغيرة؛ و العامل الآخر هو تعيين الجائزة بعد القيام بالعمل بشرط صحته و حُسن عمله؛ لأنَّه من جهة يُسبب أن الشخص ينسى التعب و الجهد الذي بذله عند القيام به و من جهة أخرى تشجيع له على العمل!

٣٦- أيّ موضوع لم يذكر في النص:

- (١) أثر العادات الحسنة في الإنسان!
- (٢) فائدة الإغماض عن بعض الأخطاء!
- (٣) تأثير قوة الخيال في إيجاد الطمأنينة للإنسان!
- (٤) تعليم الآخرين و أثره في سبيل الحصول على النجاح!

٣٧- عين الصحيح:

- (١) إذا كانت لدى الإنسان إرادة قوية فإنه لا يلتفت إلى الأمور الصغيرة و رعاية النظم فيها!
- (٢) إن رعاية الترتيب و اجتناب التفريق تُرفع شخصية الإنسان في مجال الإرادة!
- (٣) علينا أن نغفر كلَّ أخطائنا و ننسى آلامها حتى نقوم بالعمل من جديد!
- (٤) تعيين الجائزة أهم وسيلة للحصول على إرادة قوية!

٣٨- عين الخطأ:

- (١) تقوية الخيال تكفي الناس في سبيل تحقُّق الإرادة القوية!
- (٢) إن الإرادة القوية لا تحصل باتخاذ طريقة واحدة و عمل واحد!
- (٣) من الأدوات المفيدة للحصول على إرادة قوية هو تصوُّر تحقُّق ما نريده!
- (٤) لا يستطيع الناس كلهم أن يتخيَّلوا أموراً و حالات تُقلِّل من شدة اضطرابهم!

٣٩- عَيْنُ الصَّحِيحِ لِلْفِرَاقِ: للحصول على الإرادة القوية يجب

- (١) أن نُقَوِّي قُوَّةَ خيَالِنَا!
 (٢) أن نعمل أعمالاً جديدة في حياتنا!
 (٣) أن نأخذ الجوائز بعد القيام بالأعمال!
 (٤) ألا نشندَّ على النفس بل نتخذ سبيل الرأفة عليها!

■ عَيْنُ الخَطَأِ فِي الإِعْرَابِ وَ التَّحْلِيلِ الصَّرْفِيِّ (٤٠ - ٤٢)

٤٠- « يَتَخَيَّلُ »:

- (١) مضارع - للمفرد الغائب - مزيد ثلاثي (له حرفان زائدان) - متعدّد / مع فاعله جملة فعلية
 (٢) فعل مضارع - مزيد ثلاثي (ماضيه «خَيَّلَ» من باب تفعيل) / فعل و فاعل، و الجملة فعلية
 (٣) فعل مضارع - للمفرد المذكر الغائب - مزيد ثلاثي (من باب تفعّل) / فعل و فاعل، و الجملة فعلية
 (٤) مضارع - للغائب - مزيد ثلاثي (ماضيه «تَخَيَّلَ» من باب تفعّل) - معلوم / مع فاعله جملة فعلية

٤١- « يُسَبِّبُ »:

- (١) فعل مزيد ثلاثي (بحرف زائد واحد) - متعدّد - معلوم / مع فاعله جملة فعلية
 (٢) مزيد ثلاثي (من باب تفعيل) - متعدّد - معلوم / فعل و مع فاعله جملة فعلية و خبر « أن »
 (٣) مضارع - للمفرد المذكر الغائب - مزيد ثلاثي (من باب تفعّل) - لازم / مع فاعله جملة فعلية
 (٤) فعل مضارع - مزيد ثلاثي (له حرف واحد زائد من باب تفعيل) / الجملة فعلية و خبر لحرف
 « أن » المشبهة بالفعل

٤٢- « أَقْوَى »:

- (١) اسم - مفرد مذكر - اسم تفضيل (حروفه الأصلية: « قوي ») / صفة للموصوف « إرادة »
 (٢) مفرد مذكر - اسم تفضيل (على وزن أفعل) - نكرة / مضاف إليه للمضاف « إرادة »
 (٣) مفرد مذكر - اسم تفضيل - نكرة / مجرور بالتبعية للموصوف « إرادة »
 (٤) اسم - مفرد مذكر - اسم تفضيل (فعله مجرد ثلاثي) / إعرابه مجرور

■ ■ عَيْنُ الْمُنَاسِبِ لِلْجَوَابِ عَنِ الْأَسْئَلَةِ التَّالِيَةِ (٤٣-٥٠)

٤٣- عَيْنُ الخَطَأِ فِي ضَبْطِ حَرَكَاتِ الْحُرُوفِ:

- (١) سِيَّةٌ وَ تِسْعُونَ نَاقِصٌ سِيَّةٌ عَشْرٌ يُسَاوِي ثَمَانِينَ.
 (٢) لِبِلَادِنَا تِجَارِبٌ كَثِيرَةٌ فِي صِنَاعَةِ نَقْلِ النِّفْطِ عَبْرَ الْأَنْبَابِ.
 (٣) حَذُّوا الْحَقَّ مِنْ أَهْلِ الْبَاطِلِ وَ لَا تَأْخُذُوا الْبَاطِلَ مِنْ أَهْلِ الْحَقِّ.
 (٤) فِي اللُّغَةِ الْعَرَبِيَّةِ مِثَالُ الْكَلِمَاتِ الْمُعَرَّبَةِ ذَاتِ الْأُصُولِ الْفَارِسِيَّةِ.

٤٤ - عَيْنِ الصَّحِيحِ عَنِ الْمَفْرَدَاتِ:

- (١) نَعْلَمُ أَنَّ لِلْبَطِّ غُدَّةً طَبِيعِيَّةً بِالْقَرَبِ مِنْ ذَنْبِهَا. (جمع) ← غُدْدٌ، ذُنُوبٌ
- (٢) عِنْدَمَا نَمَشِي عَلَى الرَّمَالِ الْحَارَّةِ تَحْرُقُ أَقْدَامَنَا. (مترادف) ← نَسِيرٌ، رِجَالٌ
- (٣) اشْتَدَّتِ الرِّيَّاحُ وَ حَدِثَتْ أَعَاصِيرٌ فِي تِلْكَ الْمَنْطِقَةِ. (مفرد) ← رَائِحَةٌ، إِعْصَارٌ
- (٤) أَظْهَرَ لَنَا أَصْدِقَاؤُنَا صَدَقَتَهُمْ وَ هُمْ مِنَ الْمَصْلِحِينَ. (متضاد) ← أَضْمَرُ، الْمَفْسِدِينَ

٤٥ - عَيْنِ مَا فِيهِ جَمْعٌ سَالِمٌ لِلْمَوْتِ:

- (١) أَشَدَّ الشَّاعِرُ قَصِيدَةً طَوِيلَةً، الْأَبْيَاتُ الْجَمِيلَةَ فِيهَا كَثِيرَةٌ!
- (٢) اسْتَمَعْنَا إِلَى أَصْوَاتِ الطَّيُورِ فِي الْغَابَةِ وَ هِيَ جَمِيلَةٌ وَ كَثِيرَةٌ!
- (٣) إِنْ يُنْقَلُ النَّفْطُ بِوَسْطَةِ الْأَنْبَابِ فَلَا نَحْتَاجُ إِلَى آلَاتٍ لِتَقْلِيلِ الضَّغْطِ!
- (٤) بَعْضُ الْأَعْمَالِ نَحْتَاجُ إِلَى أَوْقَاتٍ مَعْيِنَةٍ فَيَجِبُ أَنْ لَا نَتَأَخَّرَ فِي الْوَصُولِ إِلَيْهَا!

٤٦ - عَيْنِ « الْيَاءِ » تُسْتَعْمَلُ خَطَأً:

- (١) أَكْرَمَنِي (٢) أَفْلَحَنِي (٣) أَجْلَسَنِي (٤) أَخْبَرَنِي

٤٧ - عَيْنِ مَا لَيْسَ فِيهِ « نُونُ الْوَقَايَةِ »:

- (١) أَرْسَلْتَنِي أُمِّي لِشُرَاءِ شَرِيحَةٍ لِحَوْأَلِهَا!
- (٢) أَعْجَبَنِي الرَّسَامُ الْمَاهِرُ الَّذِي لَمْ تَكُنْ لَهُ يَدَانِ!
- (٣) يَا أُخْتِي الْعَزِيزَةَ؛ بَيَّنِّي لَنَا تَأْثِيرَ الْمَحَبَّةِ فِي تَرْبِيَةِ الْأَطْفَالِ!
- (٤) التَّحْذِيرَاتُ الْكَثِيرَةُ فِي الطَّرِيقِ بَعَّدَتْنِي عَنِ الْخَطَرَاتِ الْمَوْجُودَةِ!

٤٨ - عَيْنِ الصَّحِيحِ فِي الْبِنَاءِ لِلْمَجْهُولِ (حَسَبِ الْمَعْنَى):

« إِسْتَعْمَلَ النَّاسُ النَّفْطَ فِي الصَّنَاعَةِ وَ ابْتَعَدَتْ الْأَرْضُ مِنَ السَّلَامَةِ بِإِكْتِنَاهُمْ فِي الْإِسْتِفَادَةِ مِنْهُ وَ حِينِئِذٍ يُهَدِّدُونَ الْبَيْئَةَ وَ تَتَعَرَّضُ الْحَيَاةُ لِلْمَوْتِ »

- (١) اسْتَعْدِمَ النَّاسُ (٢) ابْتَعَدَ مِنَ السَّلَامَةِ ...

- (٣) ... وَ حِينِئِذٍ تَهْدِدُ الْبَيْئَةَ (٤) ... تَتَعَرَّضُ لِلْمَوْتِ

٤٩ - عَيْنِ مَا لَيْسَ فِيهِ فِعْلٌ يَصِفُ مَا قَبْلَهُ:

- (١) لِلْحَرْبَاءِ عَيْنٌ تَدُورُ كُلَّ إِتْجَاهٍ تُرِيدُهُ!
- (٢) لَا تَرْفَعُ صَوْتَكَ بِأَيِّ دَلِيلٍ عِنْدَمَا تَتَكَلَّمُ مَعَ أُمَّكَ!
- (٣) يُقَدِّمُ لِقَمَانٍ مَوَاعِظَ قِيَمَةٍ يَشِيرُ الْقُرْآنُ إِلَيْهَا!
- (٤) أَلْفَ كِتَابٍ عَظِيمٍ يُحْصِي مَدَنَنَا الْجَذَابَةَ لِلسِّيَاحَةِ!

٥٠ - عَيْنِ الْخَطَأِ لِلْفَرَاغِينَ: «..... يَسِّرْ لِي أَمْرِي، وَ يَا اجْعَلْنِي مِنَ الصَّالِحِينَ!»

- (١) رَبِّ / إِلَهِي (٢) يَا إِلَهَ / مَعْبُودِي

- (٣) اللَّهُمَّ / رَحْمَنُ (٤) يَا رَبُّ / الرَّحِيمُ

- ۵۱- کدام مورد، مرتبط با مرحله‌ای دیگر پس از تکمیل مراحل خلقت جسم در رحم مادر می‌باشد؟
 (۱) ﴿ نَمَخْتُ فِيهِ مِنْ رُوْحِي ﴾
 (۲) ﴿ خَلَقَ الْإِنْسَانَ عَلَّمَهُ الْبَيَانَ ﴾
 (۳) ﴿ وَاللَّهُ أَخْرَجَكُمْ مِنْ بُطُونِ أُمَّهَاتِكُمْ ﴾
 (۴) ﴿ ثُمَّ جَعَلْنَا نُطْفَةَ فِي قَرَارٍ مَكِينٍ ﴾
- ۵۲- کدام آیه شریفه، به وجود خصلت‌های همگانی که ریشه در جان و سرشت آدمی دارد و به خلقت خاص انسانی برمی‌گردد، اشاره دارد؟
 (۱) ﴿ وَ مَا مِنَّا إِلَّا لَهُ مَقَامٌ مَعْنُومٌ ﴾
 (۲) ﴿ فَأَلْهَمَهَا فُجُورَهَا وَ تَقْوَاهَا ﴾
 (۳) ﴿ إِنْ تَتَّقُوا اللَّهَ يَجْعَلْ لَكُمْ فُرْقَانًا ﴾
 (۴) ﴿ وَ جَعَلَ لَكُمْ السَّمْعَ وَ الْأَبْصَارَ وَ الْأَفْئِدَةَ ﴾
- ۵۳- «امانت‌دار امانت الهی بودن» از نمونه‌های تکریم انسان توسط خداوند می‌باشد. مفهوم کدام عبارت قرآنی پذیرفتن این لطف و اکرام را تأیید می‌نماید؟
 (۱) ﴿ هُوَ الَّذِي خَلَقَ لَكُمْ مَا فِي الْأَرْضِ جَمِيعًا ﴾
 (۲) ﴿ وَ حَمَلَهَا الْإِنْسَانُ إِنَّهُ كَانَ ظَلُومًا جَهُولًا ﴾
 (۳) ﴿ وَ سَخَّرَ لَكُمْ الْفُلْكَ لِتَجْرِيَ فِي الْبَحْرِ بِأَمْرِهِ ﴾
 (۴) ﴿ وَ لَقَدْ مَكَّكُمُ فِي الْأَرْضِ وَ جَعَلْنَا لَكُمْ فِيهَا مَعَابِدَ ﴾
- ۵۴- به کدام آیه شریفه، نمی‌توان در بیان اهداف آفرینش انسان، استناد نمود؟
 (۱) ﴿ لَتَعْلَمُوا أَنَّ اللَّهَ عَلَىٰ كُلِّ شَيْءٍ قَدِيرٌ وَ أَنَّ اللَّهَ قَدْ أَحَاطَ بِكُلِّ شَيْءٍ عِلْمًا ﴾
 (۲) ﴿ الَّذِي خَلَقَ الْمَوْتَ وَ الْحَيَاةَ لِيَبْلُوَكُمْ أَيُّكُمْ أَحْسَنُ عَمَلًا ﴾
 (۳) ﴿ وَ مَا خَلَقْنَا السَّمَاءَ وَ الْأَرْضَ وَ مَا بَيْنَهُمَا لِأَعْيُنٍ ﴾
 (۴) ﴿ إِلَّا مَنْ رَجِمَ رَبُّكَ وَ لِذَلِكَ خَلَقَهُمْ ﴾
- ۵۵- کدام آیه شریفه، از دلیل‌های ممکن بودن امر معاد به‌شمار می‌آید؟
 (۱) ﴿ لَيَجْمَعَنَّكُمْ إِلَىٰ يَوْمِ الْقِيَامَةِ لَا رَيْبَ فِيهِ ﴾
 (۲) ﴿ وَ لِيُجْزَىٰ كُلُّ نَفْسٍ بِمَا كَسَبَتْ وَ هُمْ لَا يُظْلَمُونَ ﴾
 (۳) ﴿ أَ فَحَسِبْتُمْ أَنَّمَا خَلَقْنَاكُمْ عَبَثًا وَ أَنَّكُمْ إِلَيْنَا لَا تُرْجَعُونَ ﴾
 (۴) ﴿ أَيَّتِمَّا تَكُونُوا يَأْتِ بِكُمْ اللَّهُ جَمِيعًا إِنَّ اللَّهَ عَلَىٰ كُلِّ شَيْءٍ قَدِيرٌ ﴾
- ۵۶- کدام سخن پیشوایان دین به ویژگی‌های برزخ اشاره دارد؟
 (۱) لو كشف الغطاء ما ازددت يقيناً
 (۲) نعوذ بالله منها ما اقل من يغلت من ضغط القبر
 (۳) و من كان اكثر همته نيل الشهوات نزع من قلبه حلاوة الايمان
 (۴) و الله ما اخاف عليكم الا البرزخ و اما اذا صار الامر إلينا فنحن اولى بكم
- ۵۷- کدام عبارت قرآنی به ترسیم واقعه‌ای در مرحله دوم قیامت می‌پردازد؟
 (۱) ﴿ نَفِخَ فِي الصُّورِ ﴾
 (۲) ﴿ ادْخُلُوا الْجَنَّةَ بِمَا كُنْتُمْ تَعْمَلُونَ ﴾
 (۳) ﴿ وَ أَشْرَقَتِ الْأَرْضُ بِنُورِ رَبِّهَا ﴾
 (۴) ﴿ فَصَبَّعَتْ مِنْ فِي السَّمَاوَاتِ وَ مَنْ فِي الْأَرْضِ ﴾
- ۵۸- مفهوم کدام آیه شریفه، در رابطه با شفاعت‌کنندگانی است که از طرف خداوند اجازه دارند؟
 (۱) ﴿ وَ لَا يَشْفَعُونَ إِلَّا لِمَنْ ارْتَضَىٰ ﴾
 (۲) ﴿ وَ لَا تَنْفَعُ الشَّفَاعَةُ عِنْدَهُ إِلَّا لِمَنْ أَذِنَ لَهُ ﴾
 (۳) ﴿ مَا لِلظَّالِمِينَ مِنْ حَمِيمٍ وَ لَا شَفِيعٍ يُطَاعُ ﴾
 (۴) ﴿ لَا يَمْلِكُ الَّذِينَ يَدْعُونَ مِنْ دُونِهِ الشَّفَاعَةَ إِلَّا مَنْ شَهِدَ بِالْحَقِّ ﴾
- ۵۹- وحی و توصیه الهی به همه پیامبران کدام است و علت اختلاف پیروان ادیان در دین الهی چیست؟
 (۱) ﴿ أقيموا الدين و لا تتفرقوا فيه ﴾ - ﴿ بَعِيًا بَيْنَهُمْ ﴾
 (۲) ﴿ أقيموا الدين و لا تتفرقوا فيه ﴾ - ﴿ مِنْ بَعْدِ مَا جَاءَهُمُ الْعِلْمُ ﴾
 (۳) ﴿ مِلَّةَ أَبِيكُمْ إِبْرَاهِيمَ هُوَ سَمَّاكُمُ الْمُسْلِمِينَ ﴾ - ﴿ بَعِيًا بَيْنَهُمْ ﴾
 (۴) ﴿ مِلَّةَ أَبِيكُمْ إِبْرَاهِيمَ هُوَ سَمَّاكُمُ الْمُسْلِمِينَ ﴾ - ﴿ مِنْ بَعْدِ مَا جَاءَهُمُ الْعِلْمُ ﴾

- ۶۰- از دیدگاه قرآن کریم منشأ اصلی اختلاف و چند دینی در جهان کدام است؟
- (۱) دسته‌ای از رهبران دینی که به خاطر حفظ منافع دنیوی پیامبر جدید را انکار می‌کردند.
 - (۲) مسیحیان و یهودیان و پیروان سایر ادیان، هر کدام حضرت ابراهیم را پیرو دین و آیین خود می‌دانستند.
 - (۳) به تصدیق پیامبران گذشته توسط پیامبر بعدی توجه نکردند و از راه حق و سعادت منحرف و دور شدند.
 - (۴) ادیانی که کاملاً به دست انسان‌ها ساخته شده، جنبه الهی ندارند و حتی گاهی خود را آسمانی معرفی کرده‌اند.
- ۶۱- آیه شریفه ﴿ تَبَارَكَ الَّذِي جَعَلَ فِي السَّمَاءِ بُرُوجاً وَ جَعَلَ فِيهَا سِرَاجاً وَ قَمَراً مُبِيناً ﴾ به کدام بعد اعجاز قرآن کریم اشاره نموده است؟
- (۱) اعجاز لفظی که حتی در صورت استفاده از ترجمه‌های قرآن نیز قابل درک است.
 - (۲) اعجاز محتوایی که حتی در صورت استفاده از ترجمه‌های قرآن نیز قابل درک است.
 - (۳) اعجاز لفظی که هر کس با زبان عربی آشنا باشد، به محض خواندن قرآن آن را درمی‌یابد.
 - (۴) اعجاز محتوایی که هر کس با زبان عربی آشنا باشد، به محض خواندن قرآن آن را درمی‌یابد.
- ۶۲- اولین وظیفه پیامبر اکرم (ﷺ) به عنوان فرستاده خداوند چه بود و کدام مورد به آن اشاره نموده است؟
- (۱) ابلاغ وحی - ﴿ وَ أَنْزَلْنَا إِلَيْكَ الذِّكْرَ لِتُبَيِّنَ لِلنَّاسِ مَا نُزِّلَ إِلَيْهِمْ وَ لَعَلَّهُمْ يَتَفَكَّرُونَ ﴾
 - (۲) دریافت و تبیین وحی - ﴿ وَ أَنْزَلْنَا إِلَيْكَ الذِّكْرَ لِتُبَيِّنَ لِلنَّاسِ مَا نُزِّلَ إِلَيْهِمْ وَ لَعَلَّهُمْ يَتَفَكَّرُونَ ﴾
 - (۳) ابلاغ وحی - ﴿ كَذَلِكَ أَرْسَلْنَاكَ فِي أُمَّةٍ قَدْ خَلَتْ مِنْ قَبْلِهَا أُمَمٌ لِيَتْلُوَ عَلَيْهِمُ الَّذِي أَوْحَيْنَا إِلَيْكَ ﴾
 - (۴) دریافت و تبیین وحی - ﴿ كَذَلِكَ أَرْسَلْنَاكَ فِي أُمَّةٍ قَدْ خَلَتْ مِنْ قَبْلِهَا أُمَمٌ لِيَتْلُوَ عَلَيْهِمُ الَّذِي أَوْحَيْنَا إِلَيْكَ ﴾
- ۶۳- به ترتیب جمع‌آوری دعا‌های امام زین‌العابدین (علیه السلام) در «صحیفه سجادیه» و بیان خاص حدیث «سلسله‌الذهب» به کدام اقدامات امامان (علیهم السلام) اشاره دارد؟
- (۱) پاسخ به نیازهای جدید - حفظ و گسترش سخنان و سیره پیامبر (ﷺ)
 - (۲) پاسخ به نیازهای جدید - تربیت شخصیت‌های اسلامی مانند یاران پیامبر (ﷺ)
 - (۳) تبلیغ و تبیین عملی ارزش‌های اسلامی - حفظ و گسترش سخنان و سیره پیامبر (ﷺ)
 - (۴) تبلیغ و تبیین عملی ارزش‌های اسلامی - تربیت شخصیت‌های اسلامی مانند یاران پیامبر (ﷺ)
- ۶۴- ثمره عمل به دستور «آیه نفر» برای جامعه اسلامی کدام است؟
- (۱) ﴿ لَعَلَّهُمْ يَتَّقُونَ ﴾ (۲) ﴿ لَعَلَّهُمْ يَفْقَهُونَ ﴾ (۳) ﴿ لَعَلَّهُمْ يَتَفَكَّرُونَ ﴾ (۴) ﴿ لَعَلَّهُمْ يَحْذَرُونَ ﴾
- ۶۵- در کدام آیه شریفه به مسئولیت‌های رهبری پیامبر (ﷺ) اشاره شده است؟
- (۱) ﴿ مَا كَانَ مُحَمَّدٌ أَبَا أَحَدٍ مِنْ رِجَالِكُمْ وَ لَكِنْ رَسُولَ اللَّهِ وَ خَاتَمَ النَّبِيِّينَ ... ﴾
 - (۲) ﴿ ذَلِكَ بِأَنَّ اللَّهَ لَمْ يَكُ مُغَيِّراً نِعْمَةً أَنْعَمَهَا عَلَى قَوْمٍ حَتَّى يُغَيِّرُوا مَا بِأَنْفُسِهِمْ ... ﴾
 - (۳) ﴿ فَأَمَّا الرِّبْدُ فَيَذْهَبُ جُفَاءً وَ أَمَّا مَا يَنْفَعُ النَّاسَ فَمَا كُنْتُ فِي الْأَرْضِ بِكَذَلِكَ بَضْرِبِ اللَّهِ الْأَمْثَالَ ... ﴾
 - (۴) ﴿ فَبِمَا رَحْمَةٍ مِنَ اللَّهِ لَنْتَ لَهُمْ وَ لَوْ كُنْتَ فَظاً غَلِيظَ الْقَلْبِ لَأَنْفَضُوا مِنْ حَوْلِكَ فَاعْفُ عَنْهُمْ ... ﴾
- ۶۶- کدام مورد، به مسئولیت‌های مردم نسبت به رهبر اشاره دارد؟
- (۱) جلوگیری از نفوذ بیگانگان
 - (۲) اولویت دادن به اهداف اجتماعی
 - (۳) اجرای احکام و دستورات الهی در جامعه
 - (۴) بهره‌گرفتن از اندیشه‌های متخصصان و نخبگان
- ۶۷- اگر ادعا شود که «علم و آگاهی» به تنهایی پدیدآورنده ایمان است» پیام کدام آیه شریفه، این ادعا را نفی می‌کند؟
- (۱) ﴿ وَ جَحَدُوا بِهَا وَ اسْتَيْقَنَتْهَا أَنْفُسُهُمْ ظُلماً وَ عُتْواً ﴾
 - (۲) ﴿ وَ لَوْ شَاءَ رَبِّكَ لَأَمَنَّ مِنَ فِي الْأَرْضِ كُلَّهُمْ جَمِيعاً ﴾
 - (۳) ﴿ قَالَتِ الْأَعْرَابُ آمَنَّا قُلْ لَمْ تُؤْمِنُوا وَ لَكِنْ قُولُوا أَسْلَمْنَا ﴾
 - (۴) ﴿ وَ قُلِ الْحَقُّ مِنْ رَبِّكُمْ فَمَنْ شَاءَ فَلْيُؤْمِنْ وَ مَنْ شَاءَ فَلْيُكْفُرْ ﴾

۶۸- قرآن کریم برای غلبه بر مشکلی که موجب می شود همه راههای صلاح و اصلاح به روی انسان بسته شود، مؤمنین را چگونه وصف نموده است؟

- (۱) ﴿يَا أَيُّهَا الَّذِينَ آمَنُوا آمِنُوا﴾
 (۲) ﴿فَلْتَحْيِيَنَّهٗ حَيَاةً طَيِّبَةً﴾
 (۳) ﴿الَّذِينَ يُؤْمِنُونَ بِالْغَيْبِ﴾
 (۴) ﴿الَّذِينَ آمَنُوا قَدْ أَنْزَلَ اللَّهُ إِلَيْكُمْ ذِكْرًا﴾

۶۹- از بیت زیر، کدام مفهوم دریافت می شود؟

«ذات نیافتنه از هستی بخش کی تواند که شود هستی بخش»

- (۱) انسان و موجودات جهان پدیده‌هایی هستند که قبلاً نبودند و بعد موجود شدند.
 (۲) نیازمندی وجودی همه مخلوقات به خداوند، فقط در مرحله به وجود آمدن می باشد.
 (۳) هر پدیده‌ای که وجودش از خودش نباشد، برای موجود شدن نیازمند به دیگری است.
 (۴) اگر موجودی ذات و حقیقتش مساوی با موجود بودن باشد، این موجود به آفریننده نیاز دارد.

۷۰- خداوند در قرآن کریم در مورد کدام موضوع فرموده‌اند: ﴿وَمَا ذَلِكْ عَلَى اللَّهِ بَعِيزٌ﴾؟

- (۱) خلقت اولیه انسان‌ها در آغاز جهان
 (۲) آفرینش مجدد انسان‌ها در روز جزا
 (۳) از بین بردن انسان‌ها و آوردن مخلوقات جدید
 (۴) تجسّی خداوند با آفرینش برای مخلوقات

۷۱- با توجه به آیه شریفه ﴿إِنَّ اللَّهَ رَبِّي وَرَبُّكُمْ فَأَعْبُدُوهُ﴾ کدام مفهوم دریافت می شود؟

- (۱) توحید ربوبی، ثمره و میوه توحید در عبادت است.
 (۲) توحید عبادی، ثمره و میوه توحید در ربوبیت است.
 (۳) لازمه توحید عبادی و توجه به عبودیت الهی، اطاعت است.
 (۴) توحید ربوبی، همان یکپارچه شدن نظام اجتماعی در جهت توحید است.

۷۲- میان عملکرد کسی که اعتقاد به توحید دارد و کسی که معتقد به آن نیست، چه تفاوتی وجود دارد؟

- (۱) فعالیت‌هایش را برای خوشامد دیگران و جلب محبت آنان انجام می دهد.
 (۲) فعالیت‌های او بر محور خدا و با هماهنگی در سمت و سوی الهی انجام می گیرد.
 (۳) با وجود جهت‌گیری‌های متفرق، فعالیت‌های خود را برای رضای خدا انجام می دهد.
 (۴) با اینکه فردی چند شخصیتی با جهت‌گیری‌های متفرق است، اما سمت و سوی الهی دارد.

۷۳- بیت زیر با کدام آیه شریفه، تناسب معنایی دارد و حاکی از کدام صفت الهی است؟

«قطره‌ای کز جویباری می‌رود از پی انجام کاری می‌رود»

- (۱) ﴿إِنَّ اللَّهَ يُمْسِكُ السَّمَاوَاتِ وَالْأَرْضَ أَنْ تَزُولَا وَ لَئِنْ زَالَتَا إِنَّ أُمْسِكَهُمَا مِنْ أَحَدٍ مِنْ بَعْدِهِ...﴾ - حکمت خداوند
 (۲) ﴿إِنَّ اللَّهَ يُمْسِكُ السَّمَاوَاتِ وَالْأَرْضَ أَنْ تَزُولَا وَ لَئِنْ زَالَتَا إِنَّ أُمْسِكَهُمَا مِنْ أَحَدٍ مِنْ بَعْدِهِ...﴾ - اراده و مشیت الهی
 (۳) ﴿قُلِ الْحَمْدُ لِلَّهِ وَ سَلَامٌ عَلَىٰ عِبَادِهِ الَّذِينَ اصْطَفَىٰ اللَّهُ خَيْرٌ أَمَّا يُشْرِكُونَ﴾ - اراده و مشیت الهی
 (۴) ﴿قُلِ الْحَمْدُ لِلَّهِ وَ سَلَامٌ عَلَىٰ عِبَادِهِ الَّذِينَ اصْطَفَىٰ اللَّهُ خَيْرٌ أَمَّا يُشْرِكُونَ﴾ - حکمت خداوند

۷۴- آتانی که راه باطل را برمی‌گزینند و با حق دشمنی می‌ورزند، خداوند به آن‌ها مهلت و فرصت زندگی می‌دهد. در

حقیقت این مهلت‌ها با اختیار و اراده خودشان چگونه متجلی می‌شود و این سنت چه نام دارد؟

- (۱) به تدریج آیات خداوند را تکذیب می‌کنند و این امر موجب گرفتار شدن در عذاب خواهد بود - استدرج
 (۲) به تدریج آیات خداوند را تکذیب می‌کنند و این امر موجب گرفتار شدن در عذاب خواهد بود - املاء
 (۳) به صورت بلای الهی جلوه‌گر شده و باعث می‌شود که بار گناهانشان هر روز سنگین‌تر شود - استدرج
 (۴) به صورت بلای الهی جلوه‌گر شده و باعث می‌شود که بار گناهانشان هر روز سنگین‌تر شود - املاء

۷۵- تعریف عدل چیست و از کدام طریق اثبات می‌شود؟

- (۱) قرار دادن هر چیز در جای خود - خواست و اختیار خداوند
 (۲) مساوات، برابری، تساوی و تشابه - خواست و اختیار خداوند
 (۳) مساوات، برابری، تساوی و تشابه - حسن و قبح عقلی
 (۴) قرار دادن هر چیز در جای خود - حسن و قبح عقلی

Part A. Grammar and Vocabulary

Directions: Questions 76-87 are incomplete sentences. Beneath each sentence you will see four words or phrases marked (1), (2), (3), and (4). Choose the one word or phrase that best completes the sentence. Then mark your answer sheet.

- 76- **Wow! Look at the prices! We wouldn't be able to buy anything if we ----- a large income.**
 1) not have 2) hadn't had 3) wouldn't have 4) didn't have
- 77- **He isn't ----- some of my friends, but what he says is often more original than you normally hear.**
 1) talkative 2) more talkative 3) as talkative as 4) the most talkative
- 78- **----- are about 350 species of sharks, and although they all eat meat, only a few species will attack people.**
 1) They 2) There 3) Those 4) That they
- 79- **The eastern bluebird is ----- attractive bird native to this continent by many bird-watchers.**
 1) considered more 2) considering more
 3) considered the most 4) considering the most
- 80- **There's not much in the way of ----- in this town - just the cinema and a couple of coffee houses.**
 1) entertainment 2) arrangement 3) relationship 4) destination
- 81- **Besides that, getting the right amount of nutrients can help the body fight against infection and various -----.**
 1) discases 2) sections 3) identities 4) devices
- 82- **At each visit, children were ----- and details of their health, diet and home environment were recorded.**
 1) decided 2) weighed 3) respected 4) supplied
- 83- **They failed to provide the information ----- of them.**
 1) achieved 2) demanded 3) surrounded 4) regarded
- 84- **I left the meeting feeling worried, and ----- about what to do next.**
 1) uncertain 2) unhelpful
 3) unchangeable 4) incomprehensible
- 85- **Sara hopes that her professional life will be mostly back to normal a year from now — no more Covid-19 patients; no more masks which slow communication with customers who may be confused or ----- of hearing.**
 1) lazy 2) poor 3) weak 4) hard
- 86- **Firefighters have been called to ----- the fire in the city center.**
 1) grow up 2) put out 3) check in 4) give off
- 87- **Samantha: He tells me he loves me every day. But he didn't do anything for my birthday, and he still doesn't want to meet my parents.**
Claire: Careful, -----.
 1) two heads are better than one 2) out of sight, out of mind
 3) actions speak louder than words 4) birds of a feather flock together

Part B. Cloze Test

Directions: Questions 88-92 are related to the following passage. Read the passage and decide which choice (1), (2), (3), or (4) best fits each space. Then mark your answer sheet.

People tend to have definite opinions about texting. There are those (88) -----, and those who hate it. Among the haters, some have expressed their opinion in very strong terms. One journalist said that "texters are doing to our language what Genghis Khan (89) ----- to his neighbors 800 years ago. They are (90) ----- our punctuation, our sentences, and our vocabulary. And they must be stopped."

This is not the first time people have said that technology was bad for language. In the 15th century, some scholars opposed the (91) ----- of the printing press. Common people shouldn't read books, these scholars argued, or the language might begin to (92) ----- their common ways of thinking and speaking.

- 88- 1) that love them 2) they love it 3) who love it 4) whom they love
 89- 1) was done 2) had done 3) was doing 4) did
 90- 1) informing 2) wondering 3) seeking 4) destroying
 91- 1) stage 2) diary 3) invention 4) pollution
 92- 1) reflect 2) remind 3) boost 4) attend

Part C. Reading Comprehension

Directions: In this part of the test, you will read two passages. Each passage is followed by four questions. Answer the questions by choosing the best choice (1), (2), (3), or (4). Then mark your answer sheet.

PASSAGE 1:

Brainstorm a list of all the things that make you happy. Just write whatever comes into your mind without thinking about it too much. Now look at that list and tick all the ones that are fun or enjoyable. Probably most of them, right? So, if you could spend most of your time doing all this fun stuff, you would be really happy, surely?

Well, maybe not. For most people, only doing things for fun is not enough for long-term happiness. That is because, according to author of *Happiness by Design* Paul Dolan, your happiness depends on a 'pleasure-purpose balance'. If most of the things on your list of what makes you happy fall under the category of 'pleasure,' then that might be what you think makes you happy. But what will actually make you happy is balancing them out with activities that give your life purpose.

We tend to know straight away if something is enjoyable, but knowing what brings meaning and value requires more thought. For example, most people will say that air pilots have jobs with clear purpose. They are responsible for hundreds of people and fly all over the world. But in reality, their day-to-day work might involve spending time in boring hotels or stuck in airports waiting for flights, and routine actions they have performed hundreds of times. Those activities might not feel very meaningful – and they are probably not fun either. Just like everyone else, the pilot needs balance in their work and life to be happy.

- 93- **The author's main purpose in the passage is to discuss -----.**
 1) why doing fun activities is enough for our happiness
 2) what actually makes people happy
 3) the reasons for happiness
 4) the effects of happiness
- 94- **According to the passage, in *Happiness by Design*, Paul Dolan -----.**
 1) answers a question 2) describes an experiment
 3) supports an old way of thinking 4) provides interesting examples

- 95- The word "requires" in paragraph 3 is closest in meaning to -----.
- 1) needs 2) receives 3) makes 4) depends
- 96- It is suggested in paragraph 3 that air pilots' work -----.
- 1) never makes them want to give up
2) does not involve the repetition of certain tasks
3) may not be as meaningful as people commonly think
4) is considered to be both fun and purposeful by pilots themselves

PASSAGE 2:

Netball is particularly popular in the UK, Australia and New Zealand and I have played this wonderful game since I was at primary school. It is a team sport which is similar to both basketball and handball. There are seven players on each team and they each wear a bib which shows the name of the position they play. Players must throw the ball to one another and the aim of the game is to pass the ball to the 'Goal Shooter' or 'Goal Attack' who can shoot the ball into the net to score a goal. However, the key aspects of netball are that you cannot bounce the ball and you cannot move your feet when you have the ball. This is called the footwork rule and it can be quite difficult to grasp for young children playing the game! A full match lasts for one hour and in a single match often about 100 goals are scored which shows what a fast-paced and exciting game netball is!

Netball is typically played by women and girls. However, at many universities, there are mixed netball leagues in which teams must have both male and female players. In the UK, there are many different schemes to try to inspire people to play netball. One such scheme is called 'Back to Netball' which encourages women who have not played netball since they were at school to rediscover their love for the sport and get back on the court! Walking netball is another variation of the sport aimed at older women and those who want to exercise in a gentler way. So, why not watch a video of netball online and then have a go for yourself?

- 97- What is the author's main purpose in the passage?
- 1) To explain the rules of netball
2) To compare netball and walking netball
3) To give information about a specific sport
4) To explain the reasons for the popularity of a particular sport
- 98- The word "this" in paragraph 1 refers to which of the following?
- 1) That you cannot bounce the ball
2) That the aim of the game is passing the ball to the 'Goal Shooter'
3) That you are not allowed to move your feet when you have the ball
4) That it can be quite difficult to grasp for young children playing the game
- 99- It is stated in the passage that 'Back to Netball' is a plan that -----.
- 1) is about a gentler way of exercising
2) makes online videos of netball available
3) motivates UK women to try netball again
4) supports both male and female netball players in the UK
- 100- There is NOT sufficient information in the passage to answer which of the following questions?
- 1) How long does a full netball match take?
2) Which sports can netball be compared to?
3) How do netball players show their position in the match?
4) Why is walking netball safer than all the other variations of netball?

کد کنترل

321

A



321A



دفترچه شماره ۲
صبح پنجشنبه

«اگر دانشگاه اصلاح شود مملکت اصلاح می‌شود.»
امام خمینی (ره)

جمهوری اسلامی ایران
وزارت علوم، تحقیقات و فناوری
سازمان سنجش آموزش کشور

آزمون سراسری ورودی دانشگاه‌های کشور - ۱۴۰۰

گروه آزمایشی علوم انسانی
آزمون اختصاصی

مدت پاسخ‌گویی: ۱۶۵ دقیقه

تعداد سؤال: ۱۸۰

ردیف	مواد امتحانی	تعداد سؤال	از شماره	تا شماره	مدت پاسخ‌گویی
۱	ریاضی	۲۰	۱۰۱	۱۲۰	۲۵ دقیقه
۲	اقتصاد	۱۵	۱۲۱	۱۳۵	۱۰ دقیقه
۳	زبان و ادبیات فارسی	۳۰	۱۳۶	۱۶۵	۳۰ دقیقه
۴	زبان عربی	۲۰	۱۶۶	۱۸۵	۲۰ دقیقه
۵	تاریخ	۱۵	۱۸۶	۲۰۰	۲۵ دقیقه
۶	جغرافیا	۱۵	۲۰۱	۲۱۵	۲۵ دقیقه
۷	علوم اجتماعی	۲۰	۲۱۶	۲۳۵	۱۵ دقیقه
۸	فلسفه و منطق	۲۵	۲۳۶	۲۶۰	۲۵ دقیقه
۹	روان‌شناسی	۲۰	۲۶۱	۲۸۰	۱۵ دقیقه

سال ۱۴۰۰

حق چاپ، تکثیر و انتشار سؤالات به هر روش (الکترونیکی و ...) پس از برگزاری آزمون، برای تمامی اشخاص حقیقی و حقوقی تنها با مجوز این سازمان مجاز می‌باشد و با متخلفان برابر مقررات رفتار می‌شود.

* داوطلب گرامی، عدم درج مشخصات و امضاء در مندرجات جدول ذیل، به منزله عدم حضور شما در جلسه آزمون است.

اینجانب..... با شماره داوطلبی..... با آگاهی کامل، یکسان بودن شماره
صندلی خود را با شماره داوطلبی مندرج در بالای کارت ورود به جلسه، بالای پاسخنامه و دفترچه
سؤالات، نوع و کد کنترل درج شده بر روی دفترچه سؤالات و پائین پاسخنامه ام را تأیید می نمایم.

امضاء:

۱۰۱- تابع درآمد شرکتی به ازای تولید x واحد از یک کالای مصرفی به صورت $R(x) = -\frac{1}{4}x^2 + 8x$ و تابع هزینه آن به صورت $C(x) = 4x + b$ است. اگر فاصله دو نقطه سر به سر تابع سود این شرکت، ۱۲ واحد کالا باشد، مقدار b کدام است؟

- (۱) ۵ (۲) ۶ (۳) ۷ (۴) ۸

۱۰۲- اگر عبارت‌های گویا تعریف شده باشند، مجموع جواب‌های معادله $\frac{4x^2 - (2-x)^2}{x+2} - \frac{7}{x} = 2$ ، کدام است؟

- (۱) -۱ (۲) $\frac{2}{3}$ (۳) $\frac{4}{3}$ (۴) $\frac{7}{3}$

۱۰۳- تابع $f(x) = -\frac{1}{4}x + 4$ را در دامنه $\{-99, -98, \dots, 0, 1, \dots, 99, 100\}$ در نظر بگیرید. مقدار متوسط عضوهای برد تابع f ، کدام است؟

- (۱) $3/5$ (۲) $3/75$ (۳) ۴ (۴) $4/25$

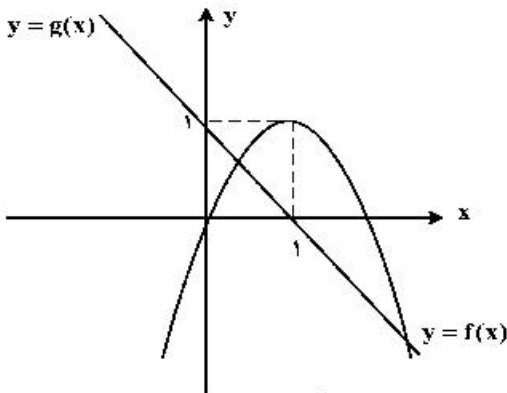
۱۰۴- ضابطه تابع $y = [-2x + |x|] + x$ در دامنه $-\frac{2}{3} < x < -\frac{1}{3}$ ، کدام است؟ ([] نماد جزء صحیح است.)

- (۱) $-2x$ (۲) $x+1$ (۳) $x-2$ (۴) $2x + \frac{1}{3}$

۱۰۵- معادله $\frac{ax^2 + 2x}{x+1} = x^2 - x$ ، دارای سه ریشه حقیقی متمایز است. کدام نامساوی زیر همواره برقرار است؟

- (۱) $a < -2$ (۲) $a \geq -2$ (۳) $a \leq 1$ (۴) $a < 1$

۱۰۶- نمودار تابع با ضابطه‌های سهمی $y = f(x)$ و خط راست $y = g(x)$ در صفحه مختصات مطابق شکل زیر داده شده



است. مجموع جواب‌های معادله $f(x) = g^2(x)$ ، کدام است؟

(۱) ۲-

(۲) $-\frac{1}{2}$ (۳) $\frac{1}{2}$

(۴) ۲

۱۰۷- فرض کنید تابع f به صورت $f = \{(a, a^2); a = 0, 1, 2\} \cup \{(a, a+b) | a, b \in \{0, 1, 2\}\}$ توصیف شده باشد.

تعداد عناصر f ، کدام است؟

(۱) ۸

(۲) ۹

(۳) ۱۰

(۴) ۱۲

۱۰۸- نمودار تابع با ضابطه $f(x) = a\left(\frac{1}{4}\right)^x + b$ ، محور x ها را با طول ۱- و محور y ها را با عرض ۲ قطع می‌کند. مقدار تابع

f در $x = 1$ ، کدام است؟

(۱) ۱

(۲) ۲

(۳) ۳

(۴) ۴

۱۰۹- مقدار عبارت $3^{256} \times 3^{128} \times 3^{64} \times \dots \times 3^4 \times 3^2$ ، کدام است؟

(۱) $\frac{127}{3^{256}}$ (۲) $\frac{127}{3^{512}}$ (۳) $\frac{63}{3^{256}}$ (۴) $\frac{255}{3^{512}}$

۱۱۰- اگر $x, z, 4x, z, y$ و $x - \frac{3}{4}$ ، جملات متوالی یک دنباله هندسی باشند، مقدار $|x| + |y| + |z|$ ، کدام است؟

(۱) ۱

(۲) ۳

(۳) ۵

(۴) ۷

۱۱۱- مجموع ۱۰ جمله اول یک دنباله حسابی ۲۶- و نسبت جمله پانزدهم به جمله ششم دنباله ۶ است. جمله یازدهم دنباله، کدام است؟

(۱) $-13/6$ (۲) $-14/8$ (۳) $-15/6$ (۴) $-16/8$

۱۱۲- جمله چهاردهم دنباله بازگشتی $1 + \frac{1}{a_n}$ با فرض $a_{16} = \frac{1597}{987}$ ، کدام است؟

(۱) $\frac{233}{277}$ (۲) $\frac{277}{610}$ (۳) $\frac{277}{233}$ (۴) $\frac{610}{277}$

۱۱۳- جدول ارزشی کدام یک از گزاره‌های زیر با جدول ارزشی گزاره $(p \vee q) \Rightarrow (q \vee r)$ ، یکسان نیست؟

$$(1) \quad p \Rightarrow (q \vee r) \quad (2) \quad (p \wedge q) \vee r$$

$$(3) \quad \sim p \vee q \vee r \quad (4) \quad (p \Rightarrow q) \vee r$$

۱۱۴- اگر گزاره‌های $p \Rightarrow q$ و $\sim p \Rightarrow q$ هر دو درست باشند، آنگاه کدام گزاره زیر همواره درست است؟

$$(1) \quad q \vee p \Rightarrow q \quad (2) \quad q \vee p \Rightarrow p$$

$$(3) \quad p \wedge \sim q \quad (4) \quad q \vee p \Rightarrow p \wedge q$$

۱۱۵- اگر متمم مجموعه $(A - B) \cup (B - A)$ برابر $A \cap B$ باشد، کدام عبارت درست است؟ (S مجموعه مرجع است.)

$$(1) \quad A \subseteq B \quad (2) \quad A \subseteq B'$$

$$(3) \quad A \cup B = S \quad (4) \quad A = \emptyset \text{ یا } B = \emptyset$$

۱۱۶- یک کتابخانه شامل ۵ کتاب ریاضی، ۳ کتاب ادبیات و ۲ کتاب داستان است. ۴ کتاب به دلخواه انتخاب می‌کنیم. با

کدام احتمال این چهار کتاب، حداقل در دو موضوع مختلف هستند؟

$$(1) \quad \frac{19}{21} \quad (2) \quad \frac{13}{14} \quad (3) \quad \frac{20}{21} \quad (4) \quad \frac{41}{42}$$

۱۱۷- برای اندازه‌گیری داده‌هایی که قابل مرتب‌کردن بوده و اختلاف بین مقادیر داده‌ها با معنا است، از کدام مقیاس

اندازه‌گیری استفاده می‌شود؟

$$(1) \quad \text{اسمی} \quad (2) \quad \text{نسبتی} \quad (3) \quad \text{ترتیبی} \quad (4) \quad \text{فاصله‌ای}$$

۱۱۸- میانگین و واریانس داده‌های یک جامعه به ترتیب ۱۵۲ و ۳۶ است. تقریباً ۹۶ درصد داده‌ها در کدام فاصله قرار می‌گیرند؟

$$(1) \quad (116, 188) \quad (2) \quad (134, 170)$$

$$(3) \quad (146, 158) \quad (4) \quad (140, 164)$$

۱۱۹- دامنه میان چارکی نمودار جعبه‌ای شامل ۱۰ داده، ۲۵ و اختلاف چارک اول با سبیل‌ها ۳۸ و ۲۶ است. اگر

کوچک‌ترین عضو داده‌ها ۳ باشد، مجموع مقادیر ممکن برای چارک سوم، کدام است؟

$$(1) \quad 120 \quad (2) \quad 100 \quad (3) \quad 64 \quad (4) \quad 36$$

۱۲۰- تعداد کالای فروخته شده توسط یک فروشگاه در هفته‌های اول تا هفتم به صورت جدول زیر است:

هفته	۱	۲	۳	۴	۵	۶	۷
تعداد کالاهای فروخته شده	۸	x	۵	y	۱۵	۱۰	۱۲

پیش‌بینی‌ها نشان می‌دهد که تعداد کالایی که در هفته نهم به فروش می‌رسد ۸ کالا است. مقدار $x + y$ ، کدام است؟

$$(1) \quad 26 \quad (2) \quad 36 \quad (3) \quad 50 \quad (4) \quad 76$$

۱۲۱- پاسخ درست و کامل پرسش‌های زیر در کدام گزینه مطرح شده است؟

الف) همه گزینه‌ها بیانگر مفهوم کالاهای سرمایه‌ای است، به جز:

ب) از نظر اقتصاددانان، معنا و مفهوم اصطلاح «کمیابی» کدام است؟

ج) کدام گزینه، به ترتیب بیانگر: نمونه کالاهای ضروری - نمونه کالاهای سرمایه‌ای - نمونه کالاهای لوکس و تجملی است.

- ۱) الف) در فرایند «تولید» خدمات آن‌ها مورد استفاده قرار می‌گیرد. ب) منابع و امکانات موجود امکان مصارف متعدد دارند - با روش‌های مختلفی می‌توان از منابع و امکانات در دسترس استفاده کرد. ج) دارو - مسکن - ماشین‌آلات
 ۲) الف) شامل ابزار تولید و تجهیزاتی است که به وسیلهٔ بنگاه‌های تولیدی به کار گرفته می‌شود. ب) منابع و امکانات و ثروت‌های طبیعی محدود است - روش‌های استفاده از منابع و امکانات متنوع است. ج) نمک - پوشاک - داروهای ویتامینه

۳) الف) در طول زمان با دوام هستند و تولیدکننده به وسیلهٔ آن‌ها ارزش افزوده ایجاد می‌کند. ب) انسان در بهره‌برداری هم‌زمان از منابع و امکانات محدودیت دارد - منابع و ثروت‌های طبیعی کاربردهای گوناگون دارند. ج) نمک - فرش‌های گران قیمت - ابزار تولید.

۴) الف) با تبدیل به «عوامل تولید» به فرایند تولید کمک می‌کند. ب) انسان در بهره‌برداری از منابع و امکانات موجود محدودیت دارد - منابع و امکانات موجود محدود است. ج) دارو - یخچال در مغازهٔ بستنی فروشی - لوستر نورافشان

۱۲۲- در یک جامعهٔ فرضی، یک دستگاه کالای سرمایه‌ای را به قیمت: ۷۲ میلیارد ریال خریداری کرده‌ایم و عمر مفید آن ۱۲ سال است. در این صورت:

الف) هر سال چه میزان سرمایه به عنوان هزینهٔ استهلاکی باید کنار گذاشته شود؟

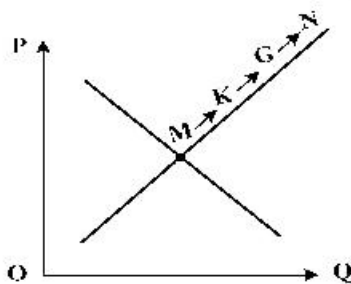
ب) چنانچه در سه سال آخر عمر مفید این کالای سرمایه‌ای، ۵٪ کاهش بها یافته باشد، مجموع هزینهٔ استهلاکی سه سال آخر چه مقدار خواهد بود؟

ج) قیمت جدید کالای سرمایه‌ای کدام است؟

توجه: ارقام به میلیون و میلیارد ریال است.

- ۱) الف) ۶ (ب) ۱۷,۱۰۰ (ج) ۶۸,۴۰۰,۰۰۰ (۲) الف) ۶ (ب) ۱۷,۱۰۱ (ج) ۶۴,۸۰۰,۰۰۰
 ۳) الف) ۷ (ب) ۱۷,۱۰۰ (ج) ۶۴,۸۰۰,۰۰۰ (۴) الف) ۷ (ب) ۱۷,۱۰۱ (ج) ۶۸,۴۰۰,۰۰۰

۱۲۳- با توجه به نمودار منحنی «.....» علت حرکت از نقطهٔ M به N، کدام است؟



۱) عرضه - قیمت بالاتر و عرضهٔ کمتر

۲) تقاضا - قیمت پایین‌تر و تولید بیشتر

۳) عرضه - قیمت بیشتر و عرضهٔ بیشتر

۴) تقاضا - توانایی تولید کمتر و قیمت بالاتر

۱۲۴- پاسخ درست و کامل سؤالات زیر در کدام گزینه، مطرح شده است؟

الف) مطلب زیر مربوط به کدام مورد است؟

«در تحکیم بنیان‌های اقتصادی اصل، رفع نیازهای انسان در جریان رشد و تکامل اوست نه همچون دیگر نظام‌های اقتصادی، تمرکز و تکاثر ثروت و سودجویی، زیرا در مکاتب مادی، اقتصاد عامل تخریب و فساد و تباهی می‌شود و در اسلام «.....» است و از آن جزء کارآیی بهتر در راه وصول به مقصد و منظور مطلوب انتظار دیگری نمی‌توان داشت.»

ب) بانک «.....» مستقر در جدّه «.....» بوده و بانک «.....» محسوب می‌شود.

ج) مطلب زیر مربوط به کدام مورد است؟

«هر کشوری در پی جذب سرمایه‌گذاری خارجی برای کشور خود است. تا بدین ترتیب نه تنها پس‌اندازهای داخلی بلکه پس‌اندازهای کشورهای دیگر را نیز در جهت رشد و افزایش کارخانه‌ها و بخش‌های تولید داخل به کار گیرد.»

د) علاوه بر خرید حضوری روش دیگر برای سرمایه‌گذاری در بورس، کدام است؟

۱) الف) اصل ۴۴ قانون اساسی - اقتصاد وسیله است نه هدف ب) توسعه اسلامی - وابسته به سازمان ممالک اسلامی حوزه خلیج فارس - تعاونی اسلامی ج) جابه‌جایی عوامل تولید - سرمایه‌گذاری‌های استعماری در ممالک جهان سوم د) اشخاص می‌توانند از طریق اینترنت به خرید سهام در بورس، اقدام کرده و تأیید عضویت خود را از سامانه معاملاتی بورس تقاضا نمایند.

۲) الف) مقدمه قانون اساسی - اقتصاد وسیله است نه هدف ب) توسعه اسلامی - وابسته به سازمان کنفرانس اسلامی - توسعه‌ای ج) مبادلات بین‌المللی در بازارهای نیروی کار و سرمایه - حرکت سرمایه د) اشخاص می‌توانند از طریق اینترنت نیز به خرید اقدام کنند و پس از عملیات، نمونه چاپی آن را به‌عنوان رسید دریافت نمایند.

۳) الف) مقدمه قانون اساسی - اقتصاد هدف است، نه وسیله ب) توسعه تعاونی جهان اسلام - وابسته به سازمان ممالک اسلامی حوزه خلیج فارس - توسعه‌ای ج) مبادلات بین‌المللی در بازارهای نیروی کار و سرمایه - مصادره سرمایه‌های خارجی د) با ثبت نام در اینترنت تأیید عضویت خود را از سامانه معاملاتی بورس، درخواست نمایند.

۴) الف) اصل ۴۳ قانون اساسی - اقتصاد هدف است، نه وسیله ب) توسعه تعاونی جهان اسلام - وابسته به سازمان کنفرانس اسلامی - تعاونی اسلامی ج) جابه‌جایی عوامل تولید - فرار سرمایه‌ها به خارج د) از طریق اینترنت ثبت نام کرده و رسید واریز مبلغ سرمایه‌گذاری را به کارگزاری مربوطه ارسال نمایند.

۱۲۵- مندرجات جدول زیر، مربوط به یک جامعه فرضی است. چنانچه مجموع ارزش اقلام: مواد غذایی، پوشاک و

ماشین‌آلات ۱۴۵ میلیارد ریال باشد، در این صورت:

الف) تولید خالص ملی ب) تولید ناخالص داخلی ج) تولید خالص داخلی سرانه

در این جامعه، کدام است؟

۱	هزینه استهلاک	$\frac{1}{4}$ ارزش خدمات ارائه شده
۲	جمعیت کل کشور	۲۵ میلیون نفر
۳	ارزش تولید خارجیان مقیم کشور	۳۳ میلیارد ریال
۴	ارزش تولید مردم کشور که در خارج اقامت دارند.	$\frac{1}{3}$ ارزش تولید خارجیان مقیم کشور
۵	ارزش خدمات ارائه شده	۴۴ میلیارد ریال

۱) الف) ۱۸۹ ب) ۲۱۱ ج) ۷/۳۳
 ۲) الف) ۱۸۹ ب) ۲۲۲ ج) ۸/۴۴
 ۳) الف) ۲۰۰ ب) ۲۱۱ ج) ۷/۳۳
 ۴) الف) ۲۰۰ ب) ۲۲۲ ج) ۸/۴۴

۱۲۶- کدام گزینه، بیانگر پاسخ درست و کامل سؤالات زیر است؟

- (الف) به تمامی مراحل «.....»، «.....» اطلاق می‌شود.
 (ب) کالاها و خدماتی را که تولید آن‌ها بدون توجه به میزان سود، هزینه و بازار انجام می‌شود، «.....» می‌نامند.
 (ج) همه فعالیت‌های تولیدی در «محاسبه تولید کل جامعه» مورد سنجش قرار می‌گیرند، به جز:
 (۱) الف) کارآفرینی - ایجاد ارزش افزوده (ب) محصولات تاکتیکی (ج) فعالیت زنان در کارگاه‌های فالی‌بافی
 (۲) الف) کارآفرینی - زنجیره خلق ارزش (ب) محصولات حیازت شده (ج) کشت میوه و سبزیجات گلخانه‌ای
 (۳) الف) زنجیره خلق ارزش - ایجاد ارزش افزوده (ب) محصولات نرم (ج) فعالیت تولیدی زنان در خانه و تربیت فرزندان
 (۴) الف) ایجاد ارزش افزوده - زنجیره خلق ارزش (ب) محصولات راهبردی (ج) کاشت سبزیجات در منزل برای مصرف خانگی

۱۲۷- با توجه به نمودار زیر:

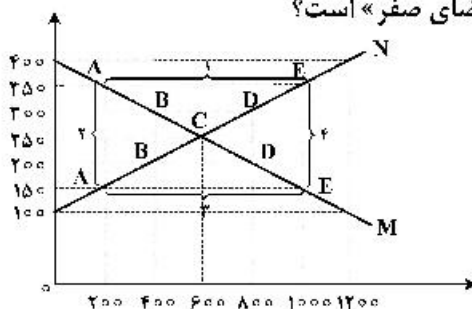
(الف) کدام شماره، بیانگر مازاد عرضه است؟

(ب) کدام دو نقطه، به ترتیب بیانگر قیمت و مقدار و مفهوم تعادلی است؟

(ج) کدام شماره، مبین مفهوم کمبود عرضه است؟

(د) کدام حروف به ترتیب، بیانگر منحنی تقاضا و عرضه است؟

(ه) کدام دو عدد بیانگر «عرضه صفر» است؟ و کدام دو عدد مبین «تقاضای صفر» است؟



- (۱) الف) ۱ (ب) C - 250 - 600 (ج) ۲ (د) M و N (ه) 100, 1200 و 400, 1200
 (۲) الف) ۱ (ب) B - 250 - 600 (ج) ۴ (د) M و N (ه) 100, 1200 و 400, 1200
 (۳) الف) ۳ (ب) B - 600 - 250 (ج) ۲ (د) N و M (ه) 100, 1200 و 400, 1200
 (۴) الف) ۳ (ب) C - 600 - 250 (ج) ۱ (د) M و N (ه) 100, 1200 و 400, 1200

۱۲۸- در یک جامعه فرضی، چنانچه کشاورزان یک کیلوگرم پنبه تولیدی خود را به ارزش ۶۵۰۰ ریال به کارگاه‌های

ریسندگی بفروشند. کارگاه‌های ریسندگی نیز این مقدار پنبه را به مقداری نخ تبدیل کرده و به ارزش ۷۵۰۰ ریال به کارگاه‌های پارچه‌بافی بفروشند و در کارگاه‌های پارچه‌بافی، نخ به پارچه تبدیل شده و به مبلغ ۱۱,۰۰۰ ریال به کارگاه‌های تولید پوشاک فروخته شود و در این کارگاه‌ها پارچه به پوشاک تبدیل شده و به مبلغ ۱۹,۰۰۰ ریال به دست مصرف‌کنندگان می‌رسد. با توجه به این داده و ستاده‌ها:

(الف) ارزش افزوده مرحله دوم و چهارم، کدام است؟

(ب) به جز این روش چه روش‌های دیگری برای محاسبه تولیدات کلی وجود دارد و عناوین آن کدام است؟

(ج) در کدام روش محاسبه «تولیدات کلی» نگران اندازه‌گیری «تولیدات واسطه‌ای و مواد اولیه» نیستیم چرا که ارزش پولی همه آن‌ها در محاسبه کالاها و خدمات نهایی خودبه‌خود اندازه‌گیری شده است. در ضمن روشی که در آن با جمع زدن همه اجزای سهم در روند تولید، عایدی همه بازیگران و فعالان اقتصادی داخلی یا ملی، «تولید کل» محاسبه شود، چه نام دارد؟

(د) اقتصاددانان چه روشی را جهت اجتناب از اشتباه در محاسبه تولید کل ارائه می‌کنند؟

- (۱) الف) ۸۰۰۰ - ۱۰۰۰ (ب) روش هزینه‌ای - روش تولید (ج) روش درآمدی - روش هزینه‌ای (د) دو روش را به کار می‌گیرند و میانگین آن‌ها را منظور می‌دارند.
 (۲) الف) ۳۵۰۰ - ۶۵۰۰ (ب) روش درآمدی - روش تولید (ج) روش هزینه‌ای - روش درآمدی (د) هر سه روش را به کار می‌گیرند و میانگین آن‌ها را منظور می‌دارند.
 (۳) الف) ۱۰۰۰ - ۸۰۰۰ (ب) روش درآمدی - روش هزینه‌ای (ج) روش هزینه‌ای - روش درآمدی (د) حداقل دو روش را به کار می‌گیرند و نتایج را با هم مقایسه می‌کنند.
 (۴) الف) ۶۵۰۰ - ۳۵۰۰ (ب) روش هزینه‌ای - روش درآمدی (ج) روش درآمدی - روش هزینه‌ای (د) هر سه روش مورد استفاده قرار می‌گیرد، هر کدام بیشتر بود آن منظور می‌شود.

۱۲۹- کدام گزینه، بیانگر پاسخ درست و کامل سؤالات زیر است؟

الف) کدام دو بانک اگرچه جزء بانک‌های تخصصی محسوب می‌شوند، ولی بیشتر نقش بانک تجاری را ایفا می‌کنند؟
ب) انسان محصول آماده طبیعت را مستقیماً بدون هیچ‌گونه انجام کاری روی آن برداشت می‌کند، سه نمونه از آن کدام است؟ و نتیجه، این اقدام و نام اصطلاح اسلامی آن کدام است؟

ج) گاهی توسعه‌یافتگی معادل غربی شدن تلقی شده است، دلیل آن کدام است؟

د) هرگاه اقتصاددانان برای به‌دست آوردن شکاف درآمدی، شکاف هزینه‌ای را محاسبه کنند، در این حالت:

۱) الف) مسکن و ملت ب) بهره‌برداری از معادن، زراعت، باغبانی - مالکیت عمومی - احیاء ج) در واقع الگوهای توسعه، با توجه به زمان توسعه یافتن کشورهای غربی در عصر کنونی، کاملاً تغییر یافته و متفاوت شده است. د) درآمد خانوار، نماینده‌ای از هزینه آن است.

۲) الف) مسکن و کشاورزی ب) بهره‌برداری از علف و مراتع، چوب جنگل‌ها و معادن - مالکیت فردی - حیازت ج) زیرا الگوهای توسعه به‌طور معمول به تفاوت‌های بومی و محلی کشورها و همچنین به تاریخ، فرهنگ، باورها و ارزش‌های آن‌ها توجه لازم ندارند. د) هزینه خانوار، نماینده‌ای از درآمد آن است.

۳) الف) ملی و توسعه صادرات ب) بهره‌برداری از ماهی دریاها، جنگل‌ها، کاشت گندم - مالکیت عمومی - حیازت ج) چون این شاخص در زمان‌ها و مکان‌های متفاوت با الگوهای مختلفی باید مورد توجه اقتصاددانان قرار گیرد. د) شاخص دهک‌ها یکی از معیارهای تشخیص وضعیت «توزیع درآمد» تلقی می‌شود.

۴) الف) کشاورزی و صادرات ب) بهره‌برداری از چوب جنگل‌ها، معادن، پرورش ماهی، مالکیت فردی - احیاء ج) زیرا اقتصاددانان برای مقایسه بهتر کشورها و روند تغییرات آن‌ها علاوه بر شاخص‌های توسعه به شاخص‌های دیگر نیز توجه یافته‌اند. د) با محاسبه نسبت دهک دهم به دهک اول شاخصی مطمئن برای محاسبه به‌دست می‌آید.

۱۳۰- جدول زیر مبین اطلاعات ارائه شده در یک جامعه مفروض است. با توجه به مندرجات جدول:

الف) ارزش پولی مسکوکات موجود در دست مردم چقدر است؟

ب) میزان حجم شبه پول این جامعه، کدام است؟

ج) حجم کل پول یا کل نقدینگی این جامعه، کدام است؟

۱	ارزش پولی مجموع سپرده‌های دیداری و غیردیداری	۱۰۰۰ واحد
۲	ارزش پولی موجودی سپرده‌های مدت‌دار	۲۳۰ واحد
۳	ارزش پولی سپرده‌های دیداری	۱۸۰ واحد
۴	ارزش پولی مجموع اسکناس‌ها	۲۰۰۰ واحد
۵	ارزش پولی مجموع مسکوکات در دست مردم	$\frac{۲}{۵}$ موجودی اسکناس‌ها
۶	ارزش پولی حساب‌های قرض‌الحسنه	۱۲۸۰ واحد

۱) الف) ۸۰۰ (ب) ۲۰۱۰ (ج) ۵۸۰۰ (۲) الف) ۸۰۰ (ب) ۲۱۰۰ (ج) ۵۰۸۰

۳) الف) ۸۲۰ (ب) ۲۰۱۰ (ج) ۵۸۰۰ (۴) الف) ۸۲۰ (ب) ۲۱۰۰ (ج) ۵۰۸۰

۱۳۱- جدول زیر، نمودار: «تقاضا، عرضه، قیمت» در یک جامعه بازاری فرضی است. به ترتیب کدام ردیف‌های جدول بیانگر:

(الف) برابری میان «تقاضا و عرضه» است و نام اصطلاح اقتصادی آن کدام است؟
(ب) کمبود عرضه است؟
(ج) مازاد عرضه است؟

ردیف	قیمت را «به ریال»	مقدار تقاضا «به کیلو»	مقدار عرضه «به کیلو»
۱	۱۰۰	۱۲۰۰	۰
۲	۱۵۰	۱۰۰۰	۲۰۰
۳	۲۰۰	۸۰۰	۴۰۰
۴	۲۵۰	۶۰۰	۶۰۰
۵	۳۰۰	۴۰۰	۸۰۰
۶	۳۵۰	۲۰۰	۱۰۰۰
۷	۴۰۰	۰	۱۲۰۰

- (۱) الف) ردیف: ۴ - مقدار قیمت تعادلی (ب) ردیف: ۳ (ج) ردیف: ۵
(۲) الف) ردیف: ۴ - مقدار تعادلی (ب) ردیف: ۵ (ج) ردیف: ۳
(۳) الف) ردیف: ۷ - قیمت و مقدار تعادلی (ب) ردیف: ۵ (ج) ردیف: ۳
(۴) الف) ردیف: ۷ - قیمت تعادلی (ب) ردیف: ۳ (ج) ردیف: ۵
- ۱۳۲- پاسخ درست و کامل پرسش‌های زیر در کدام گزینه مطرح شده است؟

(الف) به‌طور کلی سیاست‌های تثبیت اقتصادی به:

(ب) دولت‌ها برای مدیریت کلان کشور:

(ج) برای تداوم پیشرفت اقتصادی، علاوه بر ارتقای توان تولید، به‌عنوان عنصر اساسی پیشرفت، مقاوم‌سازی اقتصاد و آسیب‌پذیری آن از فشارها و تکانه‌های مختلف الزامی است. اقتصاددانان با اصطلاحاتی نظیر: «.....» مسئله مقاوم‌سازی اقتصاد را پیگیری و اجرا می‌کنند.

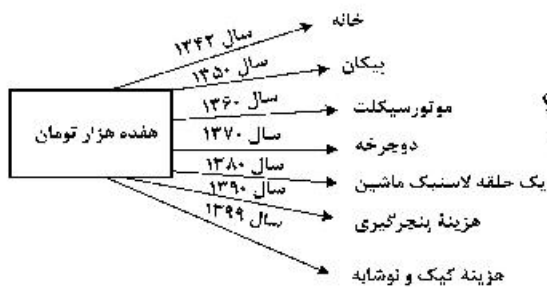
(د) نفت خام «.....» است و همانطور که فروش فرس و اثاث خانه برای خانوار «.....» به‌شمار برود، صادرات و فروش نفت نیز «.....» محسوب «.....»

(۱) الف) سیاست‌های انبساط پولی و سیاست‌های انقباض پولی طبقه‌بندی می‌شود. (ب) علاوه بر سیاست‌های انبساط پولی از سیاست‌های انقباض مالی، نیز استفاده می‌کنند. (ج) اقتصاد مقاومتی ضامن پیشرفت - درونزایی - برونگرایی و گسترش ارتباطات - اقتصاد دانش بنیان - اقتصاد مردمی (د) ثروت عمومی - باید درآمد - درآمد - می‌شود.

(۲) الف) سیاست‌های افزایش حجم پول در گردش و سیاست‌های کاهش حجم پول در گردش طبقه‌بندی می‌شود. (ب) از سیاست‌های انبساط مالی برای تحریک تقاضای عمومی بهره می‌گیرند. (ج) اقتصاد مردمی - اقتصاد مقاومتی ضامن پیشرفت - پایداری - مدیریت مصرف و بهره‌وری حداکثری - درونزایی (د) یک کالای کانی و معدنی - باید درآمد - درآمد - می‌شود.

(۳) الف) سیاست‌های انقباض مالی و سیاست‌های انبساط مالی تقسیم می‌شود. (ب) سیاست‌های انقباض مالی را برای کاهش تقاضای کل اقتصاد در مواقع تورم به‌کار می‌گیرند. (ج) استحکام اقتصادی - تاب‌آوری اقتصاد - توان تحریم‌شکنی - توزیع عادلانه ثروت و درآمد - اقتصاد دانش بنیان (د) یک کالای کانی و معدنی - نباید درآمد - درآمد - نمی‌شود.

(۴) الف) سیاست‌های پولی و سیاست‌های مالی تقسیم می‌شود. (ب) علاوه بر سیاست‌های پولی از ابزارهای سیاست‌های مالی استفاده می‌کنند. (ج) ثبات اقتصادی - استحکام اقتصادی - ضدشکنندگی - تاب‌آوری اقتصاد - پایداری (د) ثروت عمومی - نباید درآمد - درآمد - نمی‌شود.



۱۳۳- با توجه به نمودار زیر در رابطه با قدرت خرید پول:

- الف) نتیجه کاهش قدرت خرید پول، کدام است؟
 ب) پول در مقابل چه چیزی قدرت خرید خود را حفظ نکرده است؟
 ج) یکی از دلایل مهم کاهش قدرت خرید پول جامعه، کدام است؟
 د) رابطه پول با چه چیزی یک رابطه غیرمستقیم است؟
 ه) چرا گفته می شود قدرت خرید پول دستخوش تغییر است؟
 و) قدرت خرید پول جامعه وابسته به چیست؟

- ۱) الف) تورم ب) سطح عمومی قیمت‌ها ج) حجم زیاد پول نسبت به تولید جامعه د) سطح عمومی قیمت‌ها
 ه) چون یک واحد پول نتوانسته ارزش خود را در طول زمان حفظ کند. و) سطح عمومی قیمت‌ها
 ۲) الف) تورم رکودی ب) افزایش نقدینگی ج) نابرابری عرضه و تقاضای کل جامعه د) سطح عمومی قیمت‌ها
 ه) چون ارزش پول متناسب با رونق و شکوفایی اقتصادی افزایش هماهنگ نداشته است. و) سطح عمومی قیمت‌ها
 ۳) الف) تورم رکودی ب) سطح عمومی قیمت‌ها ج) نابرابری عرضه و تقاضای کل جامعه د) حجم پول در گردش
 ه) چون یک واحد پول نتوانسته ارزش خود را در طول زمان حفظ کند. و) قدرت موازنه پرداختی‌های خارجی آن است.
 ۴) الف) تورم ب) افزایش نقدینگی ج) حجم زیاد پول نسبت به تولید جامعه د) حجم پول در گردش ه) چون ارزش پول متناسب با شکوفایی اقتصادی افزایش هماهنگ نداشته است. و) قدرت موازنه پرداختی‌های خارجی آن است.

۱۳۴- با فرض جدول مالیاتی زیر:

- الف) میزان مالیات سالانه تولیدکننده‌ای که در ماه ۱۵ میلیارد ریال درآمد دارد، کدام است؟
 ب) میزان مانده خالص ماهیانه او چقدر است؟
 ج) این محاسبه مربوط به کدام یک از انواع نرخ مالیاتی: ثابت، تصاعدی کلی و تصاعدی طبقه‌ای است؟
 د) کدام مورد، در رابطه با ویژگی نوع نرخ مالیاتی مورد محاسبه نادرست است؟
 قابل توجه: ارقام به میلیون و میلیارد ریال است.

A	درآمدهای تا: ۱۵۰ میلیون ریال	معاف از مالیات
B	درآمدهای تا: ۲۵۰ میلیون ریال	با نرخ: ۱۵٪ نسبت به مازاد: ۱۵۰ میلیون ریال
C	درآمدهای تا: ۳۵۰ میلیون ریال	با نرخ: ۲۰٪ نسبت به مازاد: ۲۵۰ میلیون ریال
D	درآمدهای تا: ۴۵۰ میلیون ریال	با نرخ: ۲۵٪ نسبت به مازاد: ۳۵۰ میلیون ریال
E	درآمدهای تا: ۹۰۰ میلیون ریال	با نرخ: ۳۵٪ نسبت به مازاد: ۴۵۰ میلیون ریال
F	درآمد بالاتر از: ۹۰۰ میلیون ریال	با نرخ: ۴۵٪ نسبت به مازاد: ۹۰۰ میلیون ریال

- ۱) الف) ۷۸,۷۵۰ (ب) ۸,۴۳۷,۵۰۰ ج) ثابت د) این نوع نرخ مالیاتی در تعدیل درآمد و ثروت افراد جامعه مؤثر است.
 ۲) الف) ۸۷,۵۷۰ (ب) ۷,۴۳۸,۵۰۰ ج) تصاعدی د) در این نظام مالیاتی نرخ مالیات با افزایش درآمد یا دارایی زیاد و به عکس با کاهش درآمد یا دارایی کم می‌شود.
 ۳) الف) ۷۸,۷۵۰ (ب) ۸,۴۳۷,۵۰۰ ج) تصاعدی طبقه‌ای د) در این نوع مالیات، میزان مالیات پرداختی افراد متناسب با تغییر در درآمد یا دارایی آن‌ها کم و زیاد می‌شود.
 ۴) الف) ۸۷,۵۷۰ (ب) ۷,۴۳۸,۵۰۰ ج) تصاعدی کلی د) در این نوع مالیات، افراد با درآمدهای بیشتر با نرخ بیشتر و افراد با درآمدهای پایین‌تر با نرخ کمتری مالیات می‌پردازند.

۱۳۵- جدول اطلاعاتی زیر مربوط به شاخص‌های اقتصادی و انسانی کشورهاست. از کتاب درسی اقتباس شده است. گزینه کامل‌کننده اطلاعات، به ترتیب حروف، کدام است؟

ردیف	گروه کشورها	متوسط نرخ باسوادی بزرگسالان به درصد	متوسط نرخ مرگ‌ومیر نوزادان در هر ۱۰۰۰ تولد	متوسط امید به زندگی در آغاز تولد به سال
الف	کشور با توسعه انسانی ضعیف	۵۷/۱	؟	؟
ب	کشور با توسعه انسانی زیاد	؟	۶	؟
ج	درآمد سرانه سالانه در «.....» کشور در حال توسعه فقیر از «.....» کمتر است در حالی که هیچ‌یک از «.....» کشور توسعه یافته درآمد سرانه سالیانه‌شان کمتر از «.....» نیست.			
د	در سال ۲۰۱۵ م. تولید ناخالص داخلی سرانه در کشور سوئیس: «.....» و در سودان «.....» بوده است.			

- (۱) الف) ۴۹-۶۹/۲-۴۰/۵ (ب) ۴۳ - حدود ۸۰-۶۰/۵ (ج) ۵۰-۱۸۰۰-۲۰ کمتر از ۴۰,۰۰۰ دلار (د) ۶۰/۵۶۷ دلار - حدود ۳۳۲ دلار
- (۲) الف) ۴۹-۸۹/۴-۶۰/۵ (ب) ۴۳ - نزدیک به ۱۰۰-۶۰/۵ (ج) ۵۰-۱۸۰۰-۲۰ کمتر از ۶۰,۰۰۰ دلار (د) ۸۰/۶۷۵ دلار - حدود ۳۳۲ دلار
- (۳) الف) ۴۳-۶۹/۲-۴۰/۵ (ب) ۴۹ - حدود ۸۰-۸۰/۵ (ج) ۵۰-۱۶۰۰-۲۰ کمتر از ۶۰,۰۰۰ دلار (د) ۶۰/۵۶۷ دلار - حدود ۲۲۱ دلار
- (۴) الف) ۴۳-۸۹/۴-۶۰/۵ (ب) ۴۹ - نزدیک به ۱۰۰-۸۰/۵ (ج) ۵۰-۱۶۰۰-۲۰ کمتر از ۴۰,۰۰۰ دلار (د) ۸۰/۶۷۵ دلار - حدود ۲۲۱ دلار

۱۳۶- کدام موارد، از ویژگی‌های «فکری» سبک خراسانی محسوب می‌شود؟

(الف) حاکم بودن روح حماسه بر ادبیات این دوره

(ب) واقع‌گرا بودن شعر، محسوس و عینی بودن آن و سادگی توصیفات

(ج) بهره گرفتن از تشبیهات حسی در توصیف پدیده‌ها

(د) رشد قالب غزل در اواخر این دوره

(۱) الف - ب (۲) الف - د (۳) ب - د (۴) ب - ج

۱۳۷- متن زیر برگزیده‌ای از کدام اثر ادبی است و مربوط به کدام دوره است؟

«پس عبدالمطلب گفت که ایها الملک، من خداوند اشرتم نه خداوند خانه و مر این خانه را خداوندی هست و او خود خانه خود را نگاه دارد.»

(۱) قابوس‌نامه - دوره غزنوی

(۲) کشف المحجوب - دوره غزنوی

(۳) کیمیای سعادت - دوره سلجوقی

(۴) ترجمه تفسیر طبری - دوره سامانی

۱۳۸- پدیدآورندگان «مکاتیب - صد پند - نفحات الانس - عشاق‌نامه» به ترتیب خالق آثار نیز هستند.

(۱) مجالس سبیه - رساله دلگشا - بهارستان - لمعات

(۲) فیه مافیه - تاریخ گزیده - تحفة الاحرار - جامع التواریخ

(۳) مثنوی معنوی - اخلاق الاشراف - تذکرة الاولیا - تاریخ جهانگشا

(۴) دیوان شمس - موش و گربه - مرصادالعباد - جمشید و خورشید

۱۳۹- از دیدگاه تاریخ ادبیات همه موارد کاملاً درست است، به جز:

(۱) بازماندگان تیمور کم و بیش از فرهنگ ایرانی تأثیر پذیرفتند و ادبیات رونقی تازه گرفت و تاریخ‌نویسی نیز ادامه یافت.

(۲) جامی در کتاب نفحات الانس خود به شیوه تحفة الاحرار نظامی به بیان حقایق عرفانی و ذکر احوال عارفان پرداخته است.

(۳) بایسنقر میرزا هنرمند و هنردوست بود و در زمان او هنرمندان قرآن کریم و شاهنامه فردوسی را به خط خوش نگاشتند.

(۴) پس از مرگ تیمور، شاهرخ با علاقه‌ای که به هنر و فرهنگ اسلامی پیدا کرده بود، از هنرمندان خوش‌نویس، نقاش و شاعر حمایت نمود.

۱۴۰- در همه ابیات ویژگی‌های «فکری» سبک عراقی مشهود است، به جز:

(۱) می صوفی افکن کجما می فروشدند

(۲) بیا که هاتف میخانه دوش با من گفت

(۳) نعمت عاجل و اجل به تو داد از ملکدان

(۴) خبر از عشق نبوده است و نباشد همه عمر

۱۴۱- سراینده کدام بیت «غلط» معرفی شده است؟

(۱) جنگ ننگ است در شریعت من

ز پی پاس دین و حفظ وطن (ادیب‌الممالک فراهانی)

(۲) آن زمان که بنهادم سر به پای آزادی

دست خود ز جان شستم از برای آزادی (عارف قزوینی)

(۳) غلغلی انداختی در شهر تهران ای قلم

خوش حمایت می‌کنی از شرع قرآن ای قلم (سید اشرف‌الدین گیلانی)

(۴) گر این چنین به خاک وطن شب سحر کنم

خاک وطن چو رفت چه خاکی به سر کنم (میرزاده عشقی)

۱۴۲- انتساب کدام آثار به پدیدآورنده آن «غلط» معرفی شده است؟

(۱) (شمس و طغرا: حسن مقدم) (بره گمشده راعی: امین فقیری)

(۲) (تنگسیر: صادق چوبک) (شمس‌الدین و قمر: میرزا حسن خان بدیع)

(۳) (خداوندنامه: صبای کاشانی) (تاریخ تطوّر نظم فارسی: محمد تقی بهار)

(۴) (تاریخ بیداری ایرانیان: ناظم الاسلام کرمانی) (منتشآت: قائم مقام فراهانی)

۱۴۳- همه موارد، بیانگر ویژگی‌های «سطح ادبی» شعر معاصر است، به جز:

(۱) انتخاب وزن، متناسب با لحن طبیعی گفتار و زبان شعر است.

(۲) صور خیال، جدید و نو هستند و تکرار تصاویر شاعران دوره‌های قبل نیستند.

(۳) سادگی و روانی زبان شعر و جمله‌بندی‌های ساده در شعر معاصر کاملاً چشمگیر است.

(۴) ابهام در شعر معاصر پسندیده است و معنی‌گریزی از ویژگی‌های شعر این دوره است.

۱۴۴- نویسنده «داستان باستان - جای پای خون - همسایه‌ها - تهران مخوف» به ترتیب، چه کسانی هستند؟

- (۱) میرزا حسن خان بدیع - سید مهدی شجاعی - جمال‌زاده - محمد باقر میرزا خسروی
- (۲) میرزا حسن خان بدیع - سید مهدی شجاعی - احمد محمود - مشفق کاظمی
- (۳) میرزا حبیب خراسانی - علی مؤذنی - جمال‌زاده - محمدباقر میرزا خسروی
- (۴) محمدباقر میرزا خسروی - علی مؤذنی - احمد محمود - مشفق کاظمی

۱۴۵ آرایه‌های مقابل همه ابیات کاملاً درست هستند، به جز:

- (۱) زان پیش که در زلف تو بندیدم دل خویش
 - (۲) تا زلف و رخت بردم از سایه و روشن
 - (۳) دور از لب شیرین تو چون شمع سیه روز
 - (۴) با گریه خونین من و خنده مهتاب
- ما رشته مهر از همه بگسیخته بودیم (مجاز، تضاد)
از شاخه سرو چمن آویخته بودیم (لف و نشر، مجاز)
خوش آتش و آبی به هم آمیخته بودیم (استعاره، ایهام)
آب رخی از شبنم و گل ریخته بودیم (استعاره مصرحه، استعاره مکنیه)

۱۴۶- نوع استعاره در همه ابیات با شعر زیر یکسان است، به جز:

- «می تراود مهتاب، می درخشد شب تاب
نیست یکدم شکند خواب به چشم کس و لیک
غم این خفته چند، خواب در چشم ترم می شکند
- (۱) کام حرص است که از شهد نگردهد شیرین
 - (۲) باغ سلام می کند سرو قیام می کند
 - (۳) از ترش رویی گردون گله بی انصافی است
 - (۴) از لعل تو گر یابیم انگشتری زنهار

ورنه قانع ز نی خشک شکر می چیند
سبزه پیاده می رود غنچه سوار می رسد
خنده برق شنیدی به خس و خار چه کرد
صد ملک سلیمانم در زیر نگین باشد

۱۴۷- در کدام بیت، همه آرایه‌های «تشبیه، استعاره، ایهام تناسب و حسن آمیزی» یافت می‌شود؟

بند با عاشق بیدل چه تواند کردن
یادگاری که در این گنبد دوار بماند
نقش زخمی است که از تیشه فرهاد شکفت
در رهگذر باد نگهبان لاله بود

- (۱) پای خوابیده به فریاد نگردهد بیدار
- (۲) از صدای سخن عشق ندیدم خوش تر
- (۳) بر لب کوه جنون خنده شیرین بهار
- (۴) هر کاو نکاشت مهر و ز خوبی گلی نجید

۱۴۸- در ابیات زیر چند وجه شبه مشهود است؟

کآبم از سر همچو نیلوفر گذشت
همچون شکر اندر آب دادی
چشم فلک چون تو آفتاب نبیند
ولیک از دود او بر جاننش داغی

- (الف) روی چون خورشید بنمای از نقاب
(ب) بی آن لب چون شکر تنم را
(ج) روح ز تو خوبتر به خواب نبیند
(د) درفشان لاله در وی چون چراغی

(۳) سه (۴) چهار

(۱) یک (۲) دو

۱۴۹- آرایه‌های روبه‌روی کدام ابیات، درست است؟

و ایام به من جرعه جامت نرسانید (مجاز، تشخیص)
وز لعل شکر بار می و نقل فرو ریز (لف و نشر، موازنه)
شمع را در جامه فانوس دیدن مشکل است (موازنه، تشخیص)
کلاهی دلکش است اما به ترک سر تمی‌ارزد (جناس، کنایه)

- (الف) عمری است که چون جام جگر تشنه عشقم
(ب) در بزم ز رخسار دو صد شمع برافروز
(ج) عشق را در پرده ناموس دیدن مشکل است
(د) شکوه تاج سلطانی که بیم جان در او درج است

(۳) ب - ج (۴) الف - د

(۱) الف - ب (۲) ج - د

۱۵۰- در تمام ابیات همه ارکان تشبیه وجود دارد، به جز:

وز لبش کام روانم نازدانی بیش نیست
کان نرگس مست و گل خندان من اینجاست
کاو همچو بندگان بدهد بوسه بر جناب
آن را که همچو سرو و صنوبر قبا یکی است

- (۱) در غمش چون دانه ناز است آب چشم من
- (۲) مرغان چمن باز چو من عاشق و مستند
- (۳) خورشید را به روی تو تشبیه چون کنم
- (۴) پروای سرد و گرم خزان و بهار نیست

- ۱۵۱- آرایه‌های (کنایه - جناس - ایهام تناسب - استعاره - لف و نشر) به ترتیب، در کدام ابیات آمده است؟
 الف) بر آن سرم که جفای تو را به جان بخرم
 ب) من مات صورت تو که در کارگاه حسن
 ج) مژّه و ابروی او دیدم و با دل گفتم
 د) کس مبادا به سیه‌روزی ما در ره عشق
 ه) بی‌زلف سرکشش سر سودایی از ملال
 (۱) الف - د - ج - ه - ب
 (۲) د - الف - ب - ه - ج
 (۳) د - ه - ج - الف - ب
 (۴) ه - د - ب - الف - ج
- ۱۵۲- کدام ابیات «فاقد» ردیف است؟
 الف) من قصه خویشتن بدو چون گویم
 ب) تنگ شد از غم دل، جای به من
 ج) مشو تا توانی ز رحمت بری
 د) گدایی که بر خاطرش بند نیست
 ه) خوش آن که نگاهش به سرو پای تو باشد
 (۱) ب - ج - د
 (۲) ب - د - ه
 (۳) الف - ج - د
 (۴) الف - ج - ه
- ۱۵۳- کدام بیت، براساس قاعده و تبصره «۱» قافیه سروده شده است؟
 (۱) رفتی و نام تو ز زبانم نمی‌رود
 (۲) از پسته تنگ خود آن یار شکر بوسه
 (۳) زهی خورشید را داده رخ تو حسن و زیبایی
 (۴) میر من خوش می‌روی کندر سر و پا میرمت
 (۱) الف - د - ج - ه
 (۲) الف - ج - د
 (۳) الف - ج - ه
 (۴) الف - ج - ه
- ۱۵۴- وزن مصراع زیر با کدام مصراع، یکسان است؟
 «گر خون من ز شیشه بریزد به جام او»
 (۱) کار فرو بسته‌ام هیچ گشایش ندید
 (۲) ز شرم عارض او لاله بست بر رخ ماه
 (۳) در همه ابیات هر دو اختیار «وزنی و رباعی» وجود دارد، به جز:
 (۱) گره به باد مزن گرچه بر مراد رود
 (۲) حافظ از آب حیات ازلی می‌خواهی
 (۳) مستم کن آن چنان که ندانم ز بی‌خودی
 (۴) زنه‌ار از آن عبارت شیرین دل فریب
- ۱۵۶- بیت زیر فاقد کدام «اختیار شاعری» است؟
 «هر که در سایه تو باشد نیست
 روز او را به آفتاب نیاز»
 (۱) ابدال
 (۲) حذف همزه
 (۳) بلند بودن هجای پایان مصراع
 (۴) بلند تلفظ کردن مصوت کوتاه
- ۱۵۷- کدام بیت را «نمی‌توان» به دو صورت تقسیم‌بندی هجایی کرد؟
 (۱) سپهر با همه بی‌مهریش به مهر آمد
 (۲) گنجینه مهر او در سینه نمی‌گنجد
 (۳) ای خواجه برو بنده آن زهره‌جبین باش
 (۴) شاخ گلی که ابش از جوی دیده دادم
- ۱۵۸- کدام بیت «فاقد» وزن دوری (همسان دو لغتی) است؟
 (۱) نا تو به گلشن آمدی با همه درکشاکشم
 (۲) در وادی محبت دانی چه کار کردم
 (۳) تا خیل غمت خیمه زد اندر دل تنگم
 (۴) ای کعبه مقصودم وی قبله امالم
- در این معامله گر عمر من وفا بکنند
 خورشید را گدا و تو را شاه می‌کشند
 که به جان از پی آن تیر و کمان باید رفت
 که فلک تیره شد از تیرگی کوکب ما
 همچون بنفشه بر سر زانو نهاده‌ایم
- ترک است و به چوگان بزند چون گویم
 یک دل و این همه غم وای به من
 که رحمت بر نهدت چو رحمت بری
 به از پادشاهی که خرسند نیست
 آینه صفت محو تماشای تو باشد
- و اندیشه تو از دل و جانم نمی‌رود
 دوشم به لب شیرین جان داد به هر بوسه
 در لطف تو کس بر من نبندد گر تو بگشایی
 خوش خرامان شو که پیش قد رعنایم
- هیچ مرغ دلی از حلقه زلف تو نجست
 آگاهی ز راحت عشاق خسته نیست
- که این سخن به مثل باد با سلیمان گفت
 منبش خاک در خلوت درویشان است
 در عرصه خیال که آمد کدام رفت
 گویی که پسته تو سخن در شکر گرفت
- هنوز با من بیدل تو بر سر کینگی
 کاشانه بدین تنگی یک باره خراب اولی
 در بندگی خاک درش صدرنشین باش
 دورم ز خویشتن کرد با صد هزار خواری
- و که تو در کنار گل من به میان آتشم
 اول به سر دویدم آخر ز پا فتام
 از تنگ‌دلی با در و دیوار به جنگم
 میسند بدین روزم مگذار بدین حال

۱۵۹- وزن کدام مصراع در مقابل آن «غلط» آمده است؟

- (۱) راز همه کرد افشا نموده رخ زیبا (مفعول مفاعیل مفاعیل فعولن)
- (۲) نشستم از سر زلفش ولی به روز سیهی (مفاعیلن فعلاتن مفاعیلن فعلاتن)
- (۳) امشب ای زلف سیه سخت پریشان شده‌ای (فَاعِلَاتِنِ فَعَلَاتِنِ فَعَلَاتِنِ فَعَلِنِ)
- (۴) دوش ز دست رقیب ساغر می خورده‌ای (مفتعلن فاعلن مفتعلن فاعلن)

۱۶۰- با توجه به عروض و قافیه کدام گزینه، در مورد رباعی زیر «غلط» ذکر شده است؟

«بازار قبول گل چو شد خوش خوش تیز
گل گفت که آب قدمش خیره مریز
گفتم که به باغ درشوای دلبر خیز
ما دست گلابگر گرفتیم و گریز»

- (۱) ابیات را می‌توان به دو صورت دسته‌بندی هجایی کرد.
- (۲) در بیت اول از اختیار شاعری ابدال استفاده شده است.
- (۳) در بیت دوم شاعر دو بار مصوت کوتاه را بلند تلفظ کرده است.
- (۴) قافیة رباعی براساس قاعده «۲» آمده است و حرف روی «ز» است.

۱۶۱- مفهوم کدام بیت با بیت زیر، یکسان است؟

روشنی در کار مردم بود مقصودم چو شمع
تا سراسر به ره عشق تو بر باد رود
گل نصیب دست گلچین است گویی نیست هست
خرج اشک و آه شد جسم نزارم همچو شمع
هرچه داریم از برای دیگران داریم ما

«این که گاهی می‌زدم بر آب و آتش خویش را
(۱) کاش چون شمع همه سر شود اعضای کلیم
(۲) وصل جنان قسمت اهل هوس شد ای دریغ
(۳) تا گشودم دیده روشن در این ظلمت‌سرا
(۴) قسمت ما چون کمان از سهم خود خمیازه‌ای است»

۱۶۲- مفهوم قطعه زیر از کدام بیت دریافت می‌شود؟

که می‌گویند ملاحان سرودی
به سالی دجله گردد خشک رودی
چراغ مهر عالم‌تاب مستغنی است از روغن
زود باشد کش به شب روغن نماند در چراغ
پیش‌تر از خانه می‌بایست خود را ساختن
از کنار ابر تا دریا تنزل بآیدش

«چو دخلت نیست خرج آهسته‌تر کن
اگر بازاران به کوهستان ندارد
(۱) فروزد شمع اقبال به نور خویشتن آری
(۲) ابلهی کاو روز روشن شمع کافوری نهد
(۳) کرد خرج آب و گل کوتاه بینی‌ها مرا
(۴) قطره آبی که دارد در نظر گوهر شدن»

۱۶۳- مفهوم همه ابیات یکسان است، به جز:

داغ عشق تو گلی نیست که از یاد رود
تا در زمانه باقی است آواز باد و باران
یادگاری که در این گنبد دوار بماند
فتنه‌انگیز جهان غمزه جادوی تو شد

(۱) گر تمنای تو از خاطر ناشاد رود
(۲) این نغمه محبت بعد از من و تو ماند
(۳) از صدای سخن عشق ندیدم خوشتر
(۴) عالم از شور و شر عشق خبر هیچ نداشت

۱۶۴- کدام ابیات، در بردارنده مفهوم «انتظار» است؟

تحفه‌ای کز غم فرستی نزد ما هر دم فرست
از بس که دیر ماندی چون شام روزه‌داران
او سرسپرده می‌خواست من دل‌سپرده بودم
ماه اگر حلقه به در کوفت جوابش کردم
به پیام آشنایی بنوازد آشنا را
(۳) ب - د (۴) ب - ه

(الف) ما به غم خو کرده‌ایم ای دوست ما را غم فرست
(ب) ای صبح شب‌نشینان جانم به طاقت آمد
(ج) یک عمر دور و تنها، تنها به جرم این که
(د) شب چو دربستم و مست از می ناپش کردم
(ه) همه شب در این امیدم که نسیم صبحگاهی
(۱) الف - ج (۲) الف - ه

۱۶۵- مفهوم «بی‌توجهی معشوق، انابت و تضرع، طلب جلوه‌گری، وفاداری» به ترتیب، در کدام ابیات آمده است؟

وز لعل شکر بار می و نقل فرو ریز
همواره مرا کوی خرابات مقام است
گوش کشیده است از آن گوش به من نمی‌کند
خرم کند جهان را باران صبحگاهی
(۳) ب - الف - د - ج (۴) د - ج - الف - ب

(الف) در بزم ز رخسار دو صد شمع برافروز
(ب) تا گنج غمت در دل ویرانه مقیم است
(ج) پیش کمان ابرویش لابه همی کنم ولی
(د) اشک سحر زداید از لوح دل سیاهی
(۱) ج - د - الف - ب (۲) ج - د - ب - الف

■ ■ عین الأنسب للجواب عن الترجمة أو المفهوم من أو إلى العربية (۱۶۶ - ۱۷۴)

۱۶۶- ﴿إِنَّ هَذِهِ أُمَّتُكُمْ أُمَّةً وَاحِدَةً وَأَنَا رَبُّكُمْ فَاعْبُدُون﴾:

- ۱) قطعاً امت شما امتی واحد است و من پروردگارتان می باشم پس مرا بپرستید!
 - ۲) بی گمان این امت شما امتی یگانه است و من خدای شما هستم پس مرا بپرستید!
 - ۳) همانا این امت شماست امتی یگانه و من پروردگارتان هستم پس مرا پرستش کنید!
 - ۴) بدون شک این امت شما است که امتی واحد می باشد و من خدای شما می باشم پس فقط مرا پرستش کنید!
- ۱۶۷- « إِنَّا نَرَى الْكَثِيرَ مِنَ الْبَطِّ يَسْبِحُ فِي الْمَاءِ الْبَارِدِ فِي الشِّتَاءِ، وَ الْإِنْسَانُ لَيْسَ كَذَلِكَ! »:

- ۱) ما بسیاری از اردکها را می یابیم که در آب سرد زمستان شنا می کنند، در حالی که انسان چنین نیست!
 - ۲) اردکهای زیادی را می بینیم که در سرمای زمستان در آب شنا می کنند، و حال آنکه انسان چنین نمی باشد!
 - ۳) ما بسیاری از اردکها را می بینیم که در زمستان در آب سرد شنا می کنند، و حال آنکه انسان این چنین نیست!
 - ۴) اردکهای زیادی را می یابیم که در زمستان سرد در آب شنا می کنند، در حالی که انسان این چنین نمی باشد!
- ۱۶۸- « مَا مِنْ شَجَرَةٍ تُغْرَسُ إِلَّا وَ لَهَا فَائِدَةٌ لِلنَّاسِ، إِنْ لَيْسَ غَرَسُ الْأَشْجَارِ بِسَبَبِ أَنَّهَا تُثْمِرُ فَقَطْ! »:

- ۱) آنچه از درخت کاشته می شود فایده اش برای مردم است، ولی علت کاشتن درختان فقط بهره دادن آنها نیست!
- ۲) درخت فقط برای این کاشته می شود که فایده بخش است، لذا کاشتن درختان بخاطر اینکه بهره بدهند نیست!
- ۳) هیچ درختی نیست که بکاری مگر اینکه برای مردم فایده داشته باشد، پس علت کاشتن درختان میوه دادنشان نیست!
- ۴) هیچ درختی نیست که کاشته شود مگر اینکه برای مردم فایده ای داشته باشد، بنابراین کاشتن درختان فقط بخاطر اینکه آنها میوه می دهند نیست!

۱۶۹- « مَا أَسْرَعُ تَلَوُّثُ الْهَوَاءِ فِي تَخْرِيْبِ بَيْنَتِنَا إِنْ لَمْ يَتَحَقَّقِ التَّوْازُنُ فِيهَا، فَهُوَ مَهْدَدٌ لِلْبَشَرِيَّةِ! »:

- ۱) اگر تعادل در محیط زیست محقق نشود چقدر آلودگی هوا برای خراب شدن محیط زیست ما سریع، و برای بشریت چقدر تهدیدکننده می باشد!
- ۲) آلودگی هوا در خراب کردن محیط زیست ما چقدر سریع است اگر تعادل در محیط زیست محقق نشود، و این امر تهدیدکننده بشریت است!
- ۳) برای خراب شدن محیط زیست ما آلودگی هوا بسیار سریع است و برای بشریت تهدیدکننده است، اگر تعادل در آن محقق نشود!
- ۴) آلودگی هوا برای خراب کردن محیط زیست ما سریع نیست اگر تعادل در آن محقق شود، وگرنه بشریت را تهدید می کند!

۱۷۰- « كان المزارع يُراقب أمور المزرعة مراقبة ولكن البومات كانت تتغذى على الأفرخ، و هذه سنة الطبيعة! »:

- (۱) کشاورز مراقب امور مزرعه بود ولی تغذیه جغدها از جوجه‌ها انجام می‌گرفت، و این قانون طبیعت بود!
- (۲) مزرعه‌دار امور مزرعه را نگرهبانی می‌کرد اما جغدها جوجه‌ها را خورده بودند، و این سنت طبیعت بود!
- (۳) مزرعه‌دار از کارهای مزرعه با دقت مراقبت می‌کرد ولی جغدها جوجه‌ها را خورده بودند، و این قانون طبیعت است!
- (۴) کشاورز کارهای مزرعه را بی‌گمان مراقبت می‌کرد ولی جغدها از جوجه‌ها تغذیه می‌کردند، و این سنت طبیعت است!

۱۷۱- عین الخطأ:

- (۱) لِنَجْتَنِبَ أَيَّ إِسَاءَةٍ، و هذا رسالة الإسلام: ما باید از هر بدیی دوری کنیم، و این پیام اسلام است!
- (۲) تَعَالَ لِنُؤَكِّدَ عَلَى الْحَرِيَّةِ و عَلَى التَّعَايُشِ مَعًا: بیا تا بر آزادی و بر همزیستی با یکدیگر تأکید کنیم!
- (۳) كُلْنَا بِمَا لَدَيْنَا فَرِحُونَ، فلهذا لَانْفَكِّرَ بِالتَّغْيِيرِ: ما به آنچه هستیم خوشحالیم، لذا هرگز به تغییر فکر نمی‌کنیم!
- (۴) نحن خمس ساكني العالم، نعيش فوق هذه الأرض: ما یک پنجم ساکنان جهان هستیم که روی این زمین زندگی می‌کنیم!

۱۷۲- عین الصحيح:

- (۱) تَوْتِنَا هَذِهِ الْأَشْجَارُ الْخَضِرَةُ بِسُنَّةٍ وَضَعَهَا اللَّهُ فِي الطَّبِيعَةِ، الثَّمَارُ اللَّذِيذَةُ: این درختان سرسبز با قانونی که خدا در طبیعت قرار داده، به ما میوه‌های لذیذ می‌دهد!
- (۲) يَزِدَادُ اسْتِهْلَاكُ الْبَنْزِينِ بِسَبَبِ ذَهَابِ الْعَائِلَاتِ لِقَضَاءِ الْعُطَّلَاتِ الْأُسْبُوعِيَّةِ: رفتن خانواده‌ها برای گذراندن تعطیلات آخر هفته سبب افزایش مصرف بنزین می‌شود!
- (۳) تَنْتَجُ بَعْضُ الْأَضْوَاءِ مِنْ تَحْوِيلِ الطَّاقَةِ الْكِيمِيَاوِيَّةِ إِلَى الطَّاقَةِ الضَّوئِيَّةِ: بعضی نورها بر اثر تبدیل انرژی شیمیائی، انرژی نوری تولید می‌کنند!
- (۴) تَسْتَعْمِدُ الدَّلَافِينُ أَمْوَاجًا صَوْتِيَّةً لِلتَّعْرِفِ عَلَى مَحَلِّ الْأَجْسَامِ: دلفینها امواج صوتی را بکار می‌برند تا محل اجسام شناسایی شود!

۱۷۳- « کشاورزان از چاه روستا آبی استخراج کردند »:

- (۱) استخرج الفلاحون ماءً من بئر القرية.
- (۲) استخرج هؤلاء الفلاحون ماءً من بئر القرية.
- (۳) استخرجوا الفلاحون ماءً من البئر في قرية.
- (۴) استخرجوا هؤلاء الفلاحون الماء من بئر في القرية.

۱۷۴- عین غیر المناسب عن المفهوم: ﴿ إِنَّ النَّفْسَ لِأَمَارَةٍ بِالسُّوءِ ﴾

- | | |
|------------------------------------|-----------------------------------|
| (۱) ای شهان کشتیم ما خصم برون | مأند خصمی زو بتر اندر درون |
| (۲) نفس بی علم هیچ نتوانست | جز به علم این کجا توان دانست |
| (۳) مادر بتها بت نفس شماست | ز آنکه آن بت مار و این بت اژدهاست |
| (۴) دشمن تو نفس توست خوار کن او را | تا نشود چیره و قوی، به تو دشمن |

■ ■ عَيْنُ الْخَطَأِ فِي الْإِعْرَابِ وَ التَّحْلِيلِ الصَّرْفِيِّ (١٧٥ - ١٧٧)

١٧٥- ﴿إِنَّ اللَّهَ لَذُو فَضْلٍ عَلَى النَّاسِ وَلَٰكِنَّ أَكْثَرَ النَّاسِ لَا يَشْكُرُونَ﴾:

- (١) الله: لفظ الجلالة - اسم - معرفة (علم) / اسم « إِنَّ » المشبهة بالفعل، و خبره « على الناس »
 - (٢) أكثر: اسم - مفرد مذكر - اسم تفضيل (مصدر فعله: كثرة) / اسم « لكن » و منصوب
 - (٣) فضل: اسم - مفرد مذكر - نكرة - معرب / مضاف إليه و مجرور، و المضاف: ذو
 - (٤) يشكرون: فعل مضارع - متعدّد - معلوم / فعل و فاعل، و الجملة فعلية و خبر « لكن »
- ١٧٦- « أصبح الشاتم نادماً من عمله القبيح »:

- (١) عمل: اسم - مفرد مذكر - معرب / مجرور بحرف الجرّ ؛ من عمل: جار و مجرور
 - (٢) أصبح: فعل ماضٍ - مزيد ثلاثي (من باب إفعال) / فعل من الأفعال الناقصة اسمه « الشاتم »
 - (٣) الشاتم: مفرد مذكر - اسم فاعل (حروفه الأصلية: ش م ت) - مبنيّ / اسم « أصبح » و مرفوع
 - (٤) نادماً: مفرد مذكر - اسم فاعل (حروفه الأصلية: ن د م) - نكرة / خبر « أصبح » و منصوب
- ١٧٧- « الطلاب المؤدّبون محترمون عند المعلمين »:

- (١) محترمون: اسم - اسم مفعول (فعله: « احترم » من باب افتعال) - نكرة - معرب / خبر و مرفوع بالواو
- (٢) الطلاب: اسم - جمع مكسر أو تكسير (مفردة: طالب، مذكر) - اسم فاعل - معرفّ بأل / مبتدأ و مرفوع، و الجملة اسمية
- (٣) المعلمين: جمع سالم للمذكر - اسم فاعل (فعله: « علم » من باب تفعيل) - معرفّ بأل - معرب / مضاف إليه و مجرور بالياء
- (٤) المؤدّبون: جمع سالم للمذكر - اسم مفعول (فعله: « أدب » من باب تفعّل) / صفة و مرفوع بالواو بالتبعية للموصوف « الطلاب »

■ ■ عَيْنُ الْمُنَاسِبِ لِلْجَوَابِ عَنِ الْأَسْئَلَةِ التَّالِيَةِ (١٧٨-١٨٥)

١٧٨- عَيْنُ الْخَطَأِ فِي ضَبْطِ حَرَكَاتِ الْحُرُوفِ:

- (١) إِنَّ بَعْضَ الطُّيُورِ وَالْحَيَوَانَاتِ تُعْرِفُ بِغَرِيزَتِهَا الْأَعْشَابَ الطَّيِّبَةَ.
- (٢) لِسَانُ الْقِطِّ سَلَاحٌ طَبِيبٌ لِأَنَّهُ مَمْلُوءٌ بِغَدَدٍ تُفَرِّزُ سَائِلًا مُطَهِّرًا.
- (٣) قَرَّرَ الْمُزَارِعُ الْحِفَاطَ عَلَى الْأَفْرَاحِ وَ السَّمَاحِ لِلبُومَاتِ بِدُخُولِ مَرَرَعَتِهِ.
- (٤) كَانَ الْمُسْتَرِي مُتَرَدِّدًا فِي شِرَاءِ الْبِضَاعَةِ، وَ لَكِنَّ الْبَائِعَ عَازِمًا عَلَى بَيْعِهَا.

١٧٩- عَيْنَ معنى حرف اللام يختلف عن الباقي في فعل « لنتنبه »:

- (١) إن نقصد أن نسبح في الماء فلنتنبه إلى عمقه! (٢) نكلّم أبي معنا لنتنبه إلى الخطرات التي أمامنا!
- (٣) لنتنبه حتّى نشاهد جمال الطّبيعة في كلّ شيء! (٤) إن الامتحانات قريبة فلنتنبه إلى فرصنا القليلة!

١٨٠- عَيْن « ما » شرطيّة (في المعنى):

- (١) ما تتخب من هذه الكتب فهي مفيدة لك!
- (٢) ما أَرْضَى الآباءَ والأمّهاتِ إلاّ سعادة أولادهم!
- (٣) ما من عالم يعمل بعلمه إلاّ و هو يرى الخيرَ في نتيجة عمله!
- (٤) ما هو عمل التلميذ الذي لا يدرس بعد إعلان نتائج الامتحانات!

١٨١- عَيْن الخطأ (عن العدد و المحدود):

- (١) إن تطلب أن تُشاهد نتيجة عملك في عشر سنواتِ فاغرس الشجرة،
- (٢) و إذا تُريد أن تصل إلى نتيجةٍ أسرع مثلاً في سنة واحدة فازرع القمح،
- (٣) و إن تعزم تربية إنسانٍ فانظر إلى أكثر من تسعة و تسعين عاماً،
- (٤) و إذا تُريد أن تدخل الجامعة فعليك أن تدرس اثنتي عشرة سنوات!

١٨٢- عَيْن ما فيه أسماء مرفوعة أكثر:

- (١) حافظ الأولاد المؤدّبون على احترام الكبار لأنّ هذا العمل مقدّس.
- (٢) قد تُشاهد في البحر مصابيح منورة و ألوان هذه المصابيح متعدّدة.
- (٣) كأنّ الحوت الأزرق أكبر الكائنات الحيّة في العالم.
- (٤) هذه صفات يُحبّها المؤمنون باحثين عنها.

١٨٣- عَيْن خبر الحروف المشبّهة بالفعل فِعلاً:

- (١) لعلّ العالم الذي أنتظره و تكلمتُ عنه، محبوبٌ لك أيضاً!
- (٢) لا تيأسوا من رحمة الله، إنّها قريبة من المحسنين!
- (٣) أكرمِ أصدقاءك، كأنّهم جناحك الذي به تطير!
- (٤) ليت إطعام مساكيننا يكون ممّا نحن نأكل!

١٨٤- عَيْن ما فيه الحصر (في المعنى):

- (١) لا يُحسنُ إلينا أحدٌ إلاّ الذي يُحسنُ إليه!
- (٢) لا تأكلُ البوماتُ في المزرعة غداءً إلاّ الفئران!
- (٣) لا تُسبّبُ الأمطارُ الحمضيةُ إلاّ التلوّثُ في الهواء!
- (٤) لا يرى المتشائمُ شيئاً في كلّ فرصةٍ إلاّ الصّعوبة!

١٨٥- عَيْن ما فيه المنادي:

- (١) ولدي اجعل هدفاً مهماً في حياتك اليومية!
- (٢) الأولاد المؤدّبون حافظوا على نظافة الطبيعة!
- (٣) ربّنا يعين عباده في جميع أمورهم كلّ الأيام!
- (٤) إلهي هو الذي يُجيب دعواتي و إن تكن كثيرة!

- ۱۸۶- در گاه‌شماری اوستایی دورهٔ ساسانی، اصطلاح «اندرگاه» به کدام گزینه اشاره داشت؟
 (۱) پنج روزی که به آخر ماه دوازدهم افزوده می‌شد.
 (۲) ماه سیزدهم که هر سه سال یک بار به سال افزوده می‌شد.
 (۳) ماه سیزدهم که هر ۱۲۰ سال یک بار به پایان سال اضافه می‌شد.
 (۴) روزی که هر چهار سال یک‌بار به هنگام کیسه کردن به سال افزوده می‌شد.
- ۱۸۷- نخستین شهرهای فلات ایران که در حدود پنج هزار سال پیش ساخته شدند، به ترتیب، چغامیش، شهداد، سیلک در کدام مناطق امروزی قرار دارند؟
 (۱) سیستان، کرمان، کاشان
 (۲) کرمان، کاشان، خوزستان
 (۳) خوزستان، کرمان، کاشان
 (۴) خوزستان، خراسان، سیستان
- ۱۸۸- چرا داریوش یکم هخامنشی به نواحی دوردست در شمال دریای سیاه و جنوب روسیه کنونی لشکرکشی کرد؟
 (۱) دفع حملات قبایل صحراگرد سکایی
 (۲) ایجاد امنیت و آرامش در راه‌های تجاری
 (۳) سرکوب گوماته مغ که یکی از مدعیان اصلی سلطنت بود.
 (۴) فرونشاندن شورش دولت شهرهایی که توسط یونانی‌ها تحریک شده بودند.
- ۱۸۹- در دورهٔ کدام سلسله‌های باستانی در ایران سکه‌های نقره‌ای و مسی در مبادلات تجاری در منطقهٔ وسیعی رایج بود؟
 (۱) سلوکیان و ساسانیان
 (۲) اشکانیان و ساسانیان
 (۳) هخامنشیان و سلوکیان
 (۴) هخامنشیان و اشکانیان
- ۱۹۰- گشایش جاده موسوم به ابریشم، هم‌زمان با حکومت کدام سلسله‌ها در چین و ایران بود؟
 (۱) چه این - ساسانی
 (۲) چه این - اشکانی
 (۳) هان - ساسانی
 (۴) هان - اشکانی
- ۱۹۱- دلیل تغییر قبیلهٔ مسلمانان از بیت‌المقدس به مکه به فرمان الهی چه بود؟
 (۱) بهانه‌جویی‌های یهودیان مدینه
 (۲) کارشکنی رؤسای سه قبیلهٔ بزرگ یهود
 (۳) پاسخ به بهانه‌جویی گروه‌های مسیحی ساکن یثرب
 (۴) احترام به سنت ابراهیمی حج و درخواست گروه حنفا
- ۱۹۲- کدام گزینه، دربارهٔ حَکَم بن ابی العاص درست است؟
 (۱) پیامبر (ص) وی را به طائف تبعید کرد و خلیفهٔ دوم وی را به مدینه بازگرداند.
 (۲) پیامبر (ص) وی را به طائف تبعید کرد و خلیفهٔ سوم وی را به مدینه بازگرداند.
 (۳) در دورهٔ پیامبر (ص) به یمن تبعید شد و در زمان خلافت عمر به مدینه بازگشت.
 (۴) در دورهٔ پیامبر (ص) به یمن تبعید شد و در زمان خلافت عثمان به مدینه بازگشت.
- ۱۹۳- کدام‌یک از سلسله‌های حکومتی ایران بعد از اسلام در قرن‌های ۳ و ۴ هجری، خاستگاه و منشأ دهقانی داشتند؟
 (۱) طاهریان - صفاریان
 (۲) سامانیان - آل بویه
 (۳) صفاریان - آل بویه
 (۴) طاهریان - سامانیان
- ۱۹۴- شاهنامه مصور مشهور به دموت، از دورهٔ کدام سلسله در ایران به یادگار مانده است؟
 (۱) زندیان
 (۲) صفویان
 (۳) تیموریان
 (۴) ایلخانان

۱۹۵- ویژگی‌های شاخص دو مسجد شیخ لطف‌الله و مسجد جامع عباسی (مسجد امام) کدام است؟

- (۱) شکوه و عظمت و کاربردهای متنوع آن‌ها
- (۲) هماهنگی رنگ‌ها و طراحی بی‌نظیر آن دو مسجد
- (۳) عظمت بنای این دو مسجد اعجاب‌آور و تحسین‌برانگیز است.
- (۴) کاشی‌کاری هنرمندانه که تحسین و شگفتی هر بیننده‌ای را برمی‌انگیزد.

۱۹۶- کدام موارد از اهداف امیرکبیر در تأسیس مدرسه دارالفنون است؟

- (الف) انتشار و ترویج افکار نو به‌ویژه تفکر مشروطه‌خواهی و ضد استبدادی
 - (ب) فراهم آوردن شرایط برای سوادآموزی به فرزندان تمام قشرهای مختلف جامعه
 - (ج) آموزش دانش نظامی جدید و اشاعه آن و تقویت توان جنگی و دفاعی کشور
 - (د) آموزش علوم جدید به دانشجویان ایرانی در داخل کشور و نظارت بر محتوا، اساتید و روش‌های تدریس
- (۱) الف - ب (۲) الف - ج (۳) ب - ج (۴) ج - د

۱۹۷- کدام گزینه، از نتایج قرارداد ۱۹۱۹ که در دوره نخست‌وزیری و توق‌الدوله با انگلستان منعقد شد، می‌باشد؟

- (۱) انگلستان با کمک سید ضیاء‌الدین طباطبایی، از وابستگان خود، رضاخان را به نخست‌وزیری رساند.
- (۲) انگلیسی‌ها همصدا با رضاخان خواستار برقراری نظام جمهوری به جای حکومت سلطنتی شدند.
- (۳) انگلستان برای رسیدن به اهدافش درصدد تغییر حکومت در ایران برآمد.
- (۴) انگلیسی‌ها با آماده شدن اذهان مردم به سود رضاخان، وی را به سلطنت نشانند.

۱۹۸- مهم‌ترین مانع در راه تصویب طرح ملی شدن صنعت نفت ایران کدام بود و این مانع چگونه برداشته شد؟

- (۱) اتخاذ سیاست موازنه مثبت در مجلس شورای ملی - پیشنهاد طرح سیاست موازنه منفی توسط دکتر مصدق
- (۲) انعقاد قرارداد الحاقی معروف به قرارداد گس - گلشائیان - نطق طولانی حسین مکی در مجلس پانزدهم
- (۳) مخالفت شدید سپهبد حاجعلی رزم آرا با این طرح - اعدام انقلابی رزم آرا توسط خلیل طهماسبی
- (۴) روی کار آمدن احمد قوام‌السطنه - قیام مردمی ۳۰ تیر ۱۳۳۱ به رهبری آیت الله کاشانی

۱۹۹- حضرت امام خمینی (ره) کدام رویداد را «از الطاف خفیه الهی برای انقلاب اسلامی» خوانده‌اند؟

- (۱) تظاهرات میلیونی مردم تهران در تاسوعا و عاشورای سال ۱۳۵۷ ش. در دوره نخست‌وزیری ازهارای
- (۲) قیام خونین مردم تهران در روز جمعه ۱۷ شهریور ۱۳۵۷ در میدان شهدا (ژاله سابق)
- (۳) عقب‌نشینی خفت‌بار دولت علم در ماجرای تصویب نامه انجمن‌های ایالتی و ولایتی
- (۴) رحلت فرزند ارشدشان «حاج آقا مصطفی خمینی» در سال ۱۳۵۶ ش.

۲۰۰- کدام گزینه، درباره اقدامات اعضای گروهک تروریستی فرقان درست نیست؟

- (۱) شخصیت‌های برجسته انقلابی و مبارزان سرشناس را هدف قرار می‌دادند.
- (۲) تمرکز فعالیت‌های تروریستی آن‌ها بر مسئولان نظام جمهوری اسلامی و مردم عادی بود.
- (۳) سپهبد ولی الله قرنی، حاج مهدی عراقی و آیت الله قاضی طباطبایی را به شهادت رساندند.
- (۴) نتیجه کار آن‌ها شهادت برخی شخصیت‌های برجسته انقلابی و مبارزان سرشناس و چند سوء قصد نافرجام بود.

۲۰۱- در کدام گزینه، با توجه به عبارت زیر، «مسئله پژوهش» به درستی تدوین شده است؟
«میزان حضور وسایل نقلیه و عابران در خیابان‌های یک شهر، به اوج خود رسیده است.»

- (۱) چرا پدیده مهاجرت شکل می‌گیرد؟
- (۲) دلایل افزایش جمعیت در کلان شهرها چیست؟
- (۳) افزایش کربن دی‌اکسید سبب افزایش دمای کره زمین شده است.
- (۴) چگونه رشد جمعیت می‌تواند در ایجاد پدیده گرمایش جهانی نقش داشته باشد؟

۲۰۲- کدام گزینه، با دلیل شکل‌گیری «کوه‌های بشاگرد» مطابقت دارد؟



- (۱) تکامل فرسایش بادی و آبی
 - (۲) برخورد خرده صفحات عمان و ایران
 - (۳) عوامل درونی و خروج گاز و یا بخار آب از اعماق زمین
 - (۴) جابه‌جایی رسوبات رودخانه‌ای و تشکیل شکل‌های جدیدی از ناهمواری در سطح زمین
- ۲۰۳- کدام گزینه، دلیل مناسبی برای عبارت زیر است؟
«میزان بارش در تبریز از شیراز بیشتر است.»

- (الف) هوای سرد و مرطوب به سمت عرض‌های بالاتر حرکت می‌کند.
- (ب) با صعود هوای گرم، رطوبت به صورت بارش نازل می‌شود.
- (ج) تعداد مولکول‌های هوای سرد در واحد حجم بیشتر است.
- (د) رطوبت موجود در هوای سرد، سریع‌تر متراکم می‌شود.

(۱) الف و ب (۲) الف و ج (۳) ج و د (۴) ب و د

۲۰۴- در کدام گزینه، راهکار مناسبی برای کنترل «پیری جمعیت» تدوین شده است؟

- (۱) گسترش بهداشت اجتماعی
- (۲) تغییر ساختمان سنی جمعیت
- (۳) افزایش رشد طبیعی جمعیت
- (۴) استخراج آمار و اطلاعات دقیق

۲۰۵- کدام گزینه، دلیل مناسبی برای عبارت زیر است؟


«در سطح زمین، اشکال مختلفی از سکونتگاه‌ها به وجود آمده است.»

- (۱) چگونگی قرارگیری پدیده‌های طبیعی و انسانی
- (۲) نحوه توزیع شبکه خطوط حمل‌ونقل ریلی و جاده‌ای
- (۳) دسترسی به شرایط جغرافیایی (طبیعی، انسانی) مناسب
- (۴) نقش عوامل طبیعی و انسانی در شکل‌گیری شهر و روستا

۲۰۶- چگونه جغرافیدانان، سطح زمین را ناحیه‌بندی می‌کنند؟

- (۱) تقسیم‌بندی نواحی جغرافیایی
- (۲) تعیین حدود نواحی جغرافیایی
- (۳) مطالعه شباهت‌ها و تفاوت‌های مکان‌ها
- (۴) وحدت‌یابی مکان‌ها و فضاهای جغرافیایی

۲۰۷- کدام عبارت، دلیل مناسبی را برای «وضعیت مولکول‌های هوا» در مدل ترسیم شده، بیان می‌کند؟



- (۱) نواحی قطبی در زمستان، انرژی کمتری را دریافت می‌کنند.
- (۲) میزان پراکندگی زاویه تابش خورشید بر سطح زمین، متفاوت است.
- (۳) اشعه خورشید در منطقه استوایی در طی سال عمود و نزدیک به عمود است.
- (۴) پرتوهای خورشید در عرض‌های بالای جغرافیایی، مساحت بیشتری را در بر می‌گیرند.

۲۰۸- کدام عبارت، نادرست است؟

- (الف) در عرض‌های جغرافیایی ۱۰ درجه جنوبی تا ۱۰ درجه شمالی، میزان تولید ناخالص اولیه زیاد است.
- (ب) میزان تولید ماده آلی و سرعت رشد گیاهان در یک زیست بوم، متفاوت است.
- (ج) میزان ترکیبات آلی و توده زیستی در جنگل‌های مخروطی به سرعت رشد آن‌ها بستگی دارد.
- (د) کمترین میزان تولید مواد آلی سیاره زمین در مناطق نزدیک به قطب دیده می‌شود.

(۱) الف و ج (۲) الف و د (۳) ب و ج (۴) ب و د

۲۰۹- در کدام گزینه، هدف از تشکیل اتحادیه‌های اقتصادی - تجاری منطقه‌ای، به‌درستی بیان شده است؟

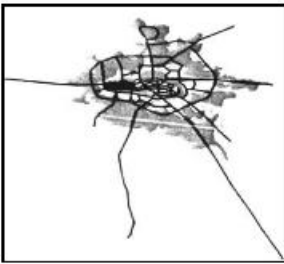
- (۱) کاهش مالیات و تعرفه‌های گمرکی و افزایش تجارت بین کشورهای عضو
- (۲) مقابله با کسری تجاری و بهبود استانداردهای زندگی و رفاه در کشورهای عضو
- (۳) دستیابی به موازنه تجاری مثبت و حذف تدریجی تعرفه‌های گمرکی کشورهای عضو
- (۴) محدود کردن واردات برخی کالاها و کاهش تأثیرات منفی تجارت در میان کشورهای عضو

۲۱۰- کدام گزینه، با توجه به «الگوی مدیریت سیاسی فضا» از وجوه شباهت دو کشور عراق و انگلستان به‌شمار می‌آید؟

- (الف) حکومت مرکزی، نقش هماهنگ‌کننده و ارتباط‌دهنده دارد.
- (ب) نظام قانون‌گذاری و سیاست‌گذاری، متمرکز است.
- (ج) مناطق خود مختار، اختیارات سیاسی و اجرایی ویژه‌ای دارند.
- (د) قوانین آموزش و پرورش و دوره‌های تحصیلی در نواحی مختلف، متفاوت است.

- (۱) الف و ج (۲) الف و د (۳) ب و ج (۴) ب و د

۲۱۱- کدام عبارت، با تصویر ترسیم شده از «هسته اولیه و روند توسعه کالبدی شهر رشت» در دوره‌های تاریخی مختلف مغایرت دارد؟

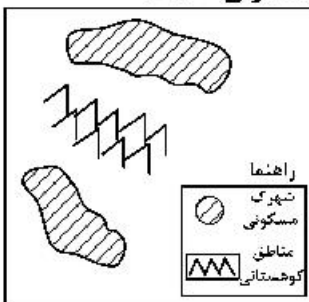


- (۱) حوزه نفوذ آن نسبت به سایر سکونتگاه‌ها، گسترده‌تر است.
- (۲) همانند سایر سکونتگاه‌های شهری و روستایی دارای مقر و موقعیت است.
- (۳) دسترسی به آب مهم‌ترین عامل طبیعی شکل‌گیری هسته اولیه آن سکونتگاه است.
- (۴) دسترسی به راه‌های ارتباطی سبب ارتقاء مرتبه آن در هرم سلسله مراتب سکونتگاهی شده است.

۲۱۲- عبارت زیر، از پیامدهای کدام ویژگی عمده «برنامه آمایش سرزمین» است؟
«دسترسی عادلانه همه مردم به حمل‌ونقل با کمترین هزینه»

- (الف) توجه به آمایش دفاعی
 - (ب) توجه به ظرفیت‌ها و توانمندی‌های همه مناطق
 - (ج) توجه به نیازهای حال و آینده
 - (د) توجه به عدالت در توسعه
- (۱) الف و ب (۲) الف و ج (۳) ب و د (۴) ج و د

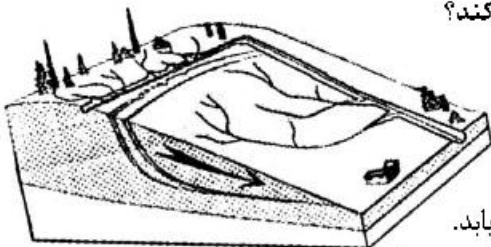
۲۱۳- کدام گزینه، با توجه به تصویر زیر، «مسیر پیشنهادی مناسبی» برای «اتصال دو شهرک مسکونی» است؟



- (۱) ساخت طولانی‌ترین مسیر بدون حفر تونل
- (۲) ساخت کوتاهترین مسیر از طریق حفر تونل
- (۳) ترکیبی از مسیر طولانی و کوتاه با احداث تونل کوتاه
- (۴) ترکیبی از مسیر طولانی و کوتاه با احداث تونل بلند

۲۱۴- در کدام شرایط، احتمال وقوع سیل افزایش می‌یابد؟

- (۱) سرریز شدن جریان آب، از بستر یک رود یا دریاچه
 - (۲) جاری شدن آب حاصل از بارش، در بستر یک رود
 - (۳) افزایش حجم آب در زمان مشخص از مقطع معین یک رود
 - (۴) بیشتر شدن حجم آب رودخانه، از میانگین سالیانه دبی آن
- ۲۱۵- کدام عبارت، وضعیت «شبکه زهکشی» را در مدل زیر به‌درستی بیان می‌کند؟



- (۱) سرعت تخلیه رواناب، افزایش و نفوذپذیری کاهش می‌یابد.
- (۲) سرعت تخلیه رواناب، کاهش و زمین لغزش افزایش می‌یابد.
- (۳) میزان نفوذپذیری و سرعت تخلیه آب در سطح نوده لغزشی، کاهش می‌یابد.
- (۴) با هدایت انشعابات شبکه زهکشی، سرعت نفوذپذیری و زمین لغزش افزایش می‌یابد.

۲۱۶- به ترتیب عناوین زیر، در رابطه با جهان اجتماعی چه چیزی را بیان می‌کنند؟

- پدیده‌های اجتماعی خرد مانند کنش‌های اجتماعی افراد
- عقاید و ارزش‌ها
- حقوق و تکالیف افراد

- (۱) لایه‌های جهان اجتماعی - اجزای جهان اجتماعی - ویژگی جهان اجتماعی
- (۲) لایه‌های جهان اجتماعی - فرصت‌ها و محدودیت‌های جهان اجتماعی - اجزای جهان اجتماعی
- (۳) فرصت‌ها و محدودیت‌های جهان اجتماعی - عمیق‌ترین لایه‌های جهان اجتماعی - اجزای جهان اجتماعی
- (۴) اجزای جهان اجتماعی - عمیق‌ترین لایه‌های جهان اجتماعی - فرصت‌ها و محدودیت‌های جهان اجتماعی

۲۱۷- کدام یک، ویژگی‌های طبقه سوم جوامع فئودالی را به درستی بیان می‌کند؟

- (۱) این طبقه همان طبقه رعیت بود - از نظر اجتماعی مصرف‌کننده تلقی می‌شدند - از نظر قانونی دارای اعتبار بودند - از حیث هویت پست تلقی می‌شدند.
- (۲) پیدایش آن‌ها به جوامع صنعتی باز می‌گردد - از حیث هویت منفی و پست بودند - از لحاظ اجتماعی فاقد اعتبار بودند - این طبقه همان طبقه متوسط بود.
- (۳) طبقه‌ای از مردم عادی بودند - از نظر قانونی دارای اعتبار بودند - این طبقه، اشراف را مفید معرفی می‌کرد - در جوامع ماقبل فئودالی غربی ایجاد شده بودند.
- (۴) طبقه‌ای از مردم عادی که رعیت نبودند - دارای هویت منفی و پست بودند - از نظر اجتماعی و قانونی فاقد اعتبار بودند - تحمل آن‌ها به خاطر فواید و کارکردشان بود.

۲۱۸- پاسخ سؤال‌های زیر به ترتیب کدام است؟

- وقتی فردی به دیگری مهر می‌ورزد از چه جهانی به چه جهانی وارد می‌شود؟
- به چه دلیل مبادلات تجاری در سطح جهانی نامتعادل می‌شود؟
- چه کسی معتقد بود، در جهان متجدد کنش‌هایی که اهداف دنیوی را به وسیله علوم تجربی تعقیب می‌کنند به شدت رواج می‌یابد؟

- برخی از متفکران، مشکل سرنوشت‌ساز قرن بیستم را چه چیزی می‌دانند؟

- (۱) فردی به فرهنگی - وابستگی اقتصادی کشورهای استعمارزده به کشورهای استعمارگر - ماکس وبر - بحران‌های زیست‌محیطی
- (۲) فردی به تکوینی - اقتضای بازار مصرف - اگوست کنت - بحران معرفتی
- (۳) تکوینی به فرهنگی - تعدیل جهانی ثروت - مارکس - تقابلهای جهانی
- (۴) فرهنگی به اجتماعی - اقتصاد تک محصولی - ماکس وبر - فقر و غنا

۲۱۹- به ترتیب پاسخ پرسش‌های زیر چیست؟

- در چه شرایطی بشر امکان تشخیص خوب یا بد بودن هنجارها و رفتارها را از دست می‌دهد؟
- بسیاری از آدابی که ما مراعات می‌کنیم، محصول چیست؟
- شکل‌گیری تولید ملی ضعیف و شکننده نتیجه چیست؟
- چه چیزی، سکولاریسم را از لایه‌های سطحی فرهنگ غرب به لایه‌های عمیق آن تسری داد؟
- (۱) بحران معرفت شناختی - پدیده‌های اجتماعی اطراف ما - اقتصاد وابسته به نفت - فلسفه‌های روشنگری
- (۲) بحران هویتی - سنت‌ها و قوانین اجتماعی - اقتصاد دولتی - جریان‌های پست مدرن
- (۳) تعارض فرهنگی - هنجارهای اجتماعی - اقتصاد تک محصولی - فلسفه‌های روشنگری
- (۴) تزلزل فرهنگی - کنش‌های اجتماعی - شیوه سرمایه‌داری - اومانیزم

۲۲۰- به ترتیب هر یک از عناوین زیر مربوط به کدام قسمت در جدول است؟

- علم تجربی سکولار
- عقل‌گرایی، نفی وحی
- افول حس‌گرایی
- دئیسم

روشنگری		
دوره زمانی	ویژگی	پیامد
قرون هفدهم و هجدهم	ب	ه
قرون نوزدهم و بیستم	الف	د
پایان قرن بیستم	و	ج

- (۱) الف - د - ج - ب (۲) ج - و - ه - الف (۳) د - ب - و - ه (۴) ه - و - ب - د

۲۲۱- شکل‌گیری نظام نوین جهانی چگونه بود؟

- (۱) در دو سده نوزدهم و بیستم، سازماندهی سیاسی و فرهنگی جدیدی شکل گرفت که جوامع غربی را به صورت جوامع مرکزی و دیگر جوامع را به صورت جوامع پیرامونی درآورد و بدین سان نظام نوین جهانی شکل گرفت.
- (۲) در سده‌های هفدهم تا بیستم، اقتصاد گسترده‌ای شکل گرفت که تقسیم کارش از مرزهای سیاسی و فرهنگی موجود فراتر رفت و نظامی در سطح جهان با عنوان «نظام نوین جهانی» پدید آورد که جوامع غربی را به صورت مرکز و سایر جوامع را به صورت پیرامون درآورد.
- (۳) سازماندهی نظامی و سیاسی در دو سده هجدهم و نوزدهم، موجب شد کشورهای غیرغربی در حاشیه روابط و سازمان‌های سیاسی و اقتصادی جهانی وضعیتی متزلزل پیدا کرده و در نظام نوین جهانی ادغام شوند.
- (۴) در سده شانزدهم فرهنگ غرب برای بسط و گسترش ابعاد دنیوی خود به سوی حذف پوشش دینی گام برداشت و به تفسیر غیرتوحیدی فرهنگ یونان و رم بازگشت و از این به بعد نظام نوین جهانی پدید آمد.

۲۲۲- نگرش کشورهای عضو بریکس نسبت به گروه خود چیست و از سازمان همکاری شانگهای با چه عنوانی یاد می‌شود؟

- (۱) برداشتن موانع موجود بر سر راه تجارت بین‌المللی و حفظ منافع خود - پیمان باسل
- (۲) حامی و ارتقاءدهنده وضعیت کشورهای در حال رشد و نیرویی برای حفظ صلح جهان - ناتوی شرق
- (۳) شکل‌گیری براساس سیاست جهانی سازی اقتصادی قدرت‌های بزرگ اروپایی و آمریکایی - ناتوی شرق
- (۴) شناسایی تغییرات اقتصادی در سطح جهانی با سرمایه‌گذاری شرکت‌های بین‌المللی - جنبش عدم تعهد

۲۲۳- کدام روند، منجر به بسنده کردن به شناخت عقلی و تجربی شد؟

- (۱) فرهنگ قرون وسطی -> توجه به شناخت از راه عقل و تجربه -> نادیده گرفتن جایگاه وحی و شهود در شناخت علمی -> ایجاد بحران معرفتی در دوران رنسانس -> بسنده کردن به شناخت عقلی و تجربی
- (۲) روش تجربی تنها راه درست شناخت حقایق امور -> بحران معرفتی جدید -> آشکار شدن محدودیت معرفت‌های غیرحسی و غیرتجربی -> نیاز به استدلال عقلی -> پرداختن به شناخت عقلی و تجربی
- (۳) نادیده گرفتن شناخت از راه عقل و تجربه -> توجه به کتاب مقدس و شهود آباء کلیسا به عنوان معتبرترین راه شناخت -> ایجاد بحران معرفتی در دوران رنسانس -> روش تجربی به عنوان تنها راه شناخت -> استدلال عقلی جدید
- (۴) کتاب مقدس و شهود آباء کلیسا معتبرترین راه شناخت جهان در قرون وسطی -> نادیده گرفتن شناخت از راه عقل و تجربه -> ایجاد بحران معرفتی در دوران رنسانس -> نادیده گرفتن جایگاه وحی و شهود در شناخت علمی -> بسنده کردن به شناخت عقلی و تجربی

۲۲۴- چه زمانی، انقلاب اسلامی به رهبری امام خمینی آغاز شد؟

- (۱) مردم و عالمان در موضع فعالیت رقابت‌آمیز بودند و این فعالیت رقابت‌آمیز، با اعتراض به کاپیتولاسیون و رفتار استعماری شاه آغاز شد.
- (۲) زمانی که ایشان در نظر داشتند حرکت نااممی که در جنبش تنباکو آغاز شده بود، ادامه یابد و یک حرکت اصلاحی رفتار و ساختار را آغاز کردند.
- (۳) شاه تحت حمایت دولت‌های غربی بود و مأموریت حفظ امنیت منطقه را برعهده داشت - روشنفکران چپ نیز از صحنه رقابت‌های سیاسی داخلی کشور حذف شده بودند.
- (۴) روشنفکران چپ از صحنه رقابت‌های سیاسی خارجی کشور حذف شده بودند و مأموریت حفظ امنیت منطقه را شاه برعهده داشت و تحت حمایت دولت‌های غربی بود.

۲۲۵- علت پیدایش هر یک از موارد زیر چیست؟

- استفاده از منابع عقلانی و وحیانی در تبیین‌های علمی جهان اسلام
- سرعت بخشیدن به انباشت ثروت سرمایه‌داران
- هویت‌زدایی از پدیده‌های اجتماعی و انسانی
- حاشیه‌نشینی

- (۱) توجه به عقل در معنای عام - تداوم انتقال ثروت به کشورهای غربی - استفاده از روش‌های تجربی و دست‌یابی به نتایج علمی و پیش‌بینی وقوع پدیده‌ها - مرکز، پیرامون
- (۲) محدود نشدن به شناخت تجربی - صنعت - دست‌یابی به پاسخ‌های ساده و کاملاً قابل پیش‌بینی درباره جرایم وقوع پدیده‌های اجتماعی - بحران زیست‌محیطی
- (۳) عدم ساماندهی همه عرصه‌های علمی توسط عقلانیت - کاهش قدرت چانه‌زنی - تنوع و تفاوت معنای پدیده‌های اجتماعی و غیرقابل پیش‌بینی بودن - فقر و غنا
- (۴) اخذ این تفاسیر از فلسفه یونان - تک محصولی شدن - امکان‌پذیر نبودن مطالعه عمق و پیچیدگی کنش‌های اجتماعی - بحران اقتصادی

۲۲۶- به ترتیب هر یک از موارد زیر نتیجه چیست؟

- امکان پذیر نمودن پیش بینی رفتار دیگران
 - افول معانی
 - حذف اراده و خلاقیت از زندگی اجتماعی
 - ایجاد مانع در برابر توسعه
- (۱) نظم اجتماعی - نادیده گرفتن کنش اجتماعی - تأکید بیش از اندازه رویکرد تبیینی بر نظم و ساختارهای اجتماعی - ارزیابی های اخلاقی و نگاه وسیله ای به قدرت و ثروت
- (۲) معنای زندگی - نادیده گرفتن قواعد اجتماعی - تأکید بیش از اندازه رویکرد انتقادی بر نظم و ساختارهای اجتماعی - ایجاد نابرابری های اجتماعی

(۳) نظم اجتماعی - بحران هویت - روی آوردن به جامعه شناسی تفسیری - نادیده گرفتن دانش و نقش تعادل بخش آن

(۴) قواعد اجتماعی - تزلزل فرهنگی - سبب شور زندگی از انسان ها - ممانعت از دستیابی به سعادت و کمال حقیقی

۲۲۷- به ترتیب مشخص کنید موارد ذکر شده با کدام نوع جامعه شناسی در ارتباط هستند؟

- بر آن چه مشاهده می شود تمرکز می کند.
- موضوع آن، کنش های اجتماعی و پیامدهای آن است.
- انتظار دارد علوم اجتماعی با تشخیص و افشای سلطه در مناسبات انسانی، به رهایی انسان کمک کند.
- از منظر آن برخی جوامع از برخی دیگر پیچیده ترند، در رفع نیازهای خود توانا ترند و به همین دلیل پیشرفته ترند.

(۱) انتقادی - تبیینی - تفسیری - تبیینی

(۲) تفسیری - تبیینی - انتقادی - تبیینی

(۳) تبیینی - انتقادی - انتقادی - تبیینی

(۴) تبیینی - تفسیری - تبیینی - تفسیری

۲۲۸- به ترتیب هر یک از این موارد با چه موضوعی ارتباط دارند؟

- جایگاه فرد در جامعه یا در یک گروه اجتماعی
- تفاوت نوع لباس پوشیدن در موقعیت های مختلف
- عبور از ظاهر پدیده های اجتماعی و راه یابی به معانی نهفته در کنش ها برای فهم زندگی اجتماعی

(۱) هویت اجتماعی - پدیده اجتماعی - نگرش جامعه شناسی انتقادی

(۲) طبقه اجتماعی - فایده نظم اجتماعی - روش جامعه شناسی تفسیری

(۳) موقعیت اجتماعی - کنش اجتماعی - رویکرد جامعه شناسی تفسیری

(۴) پایگاه اجتماعی - فایده قواعد اجتماعی - هدف جامعه شناسی انتقادی

۲۲۹- کدام یک، ویژگی جامعه شناسی تفسیری است، اما ویژگی جامعه شناسی انتقادی نیست؟

- (۱) تفاوت میان جوامع مختلف را تنها تفاوتی کمی می داند - بر ضرورت انتقاد علمی از ساختارهای سرکوبگر تأکید می کند.

(۲) روش مطالعه، روش کمی است - صرفاً به توصیف و تبیین تبعیض نژادی در جوامع نمی پردازد، بلکه آن را تقبیح و از آن انتقاد می کند.

(۳) به بیان چرایی یک پدیده یا نشان دادن علت ایجاد و زوال آن می پردازد - به نقد سطه در روابط و مناسبات میان افراد و گروه ها می پردازد.

(۴) هدف معنا بخشی و انسجام بخشی به زندگی اجتماعی است - حقیقت یا فضیلت را کشف می کند تا براساس آن به نقد کنش ها و روابط میان انسان ها و جوامع بپردازد.

۲۳۰- به ترتیب کدام یک از متفکران مسلمان:

- با استفاده از روش عقلی به ارزیابی انتقادی فرهنگ هند پرداخت.
- به علت یابی واقعیت های اجتماعی و بررسی تغییرات و تحولات آن ها می پرداخت.
- با تأثیر پذیری از قرآن، به دنبال شناخت سنت های الهی در جامعه بود.
- روش او در علوم اجتماعی مشابه روش کنت در جامعه شناسی تبیینی بود.

(۱) ابن خلدون - فارابی - ابن خلدون - ابوریحان بیرونی

(۲) ابوریحان بیرونی - فارابی - ابن خلدون - ابن خلدون

(۳) فارابی - ابوعلی مسکویه - ابن خلدون - ابوریحان بیرونی

(۴) ابوریحان بیرونی - ابن خلدون - ابوعلی مسکویه - فارابی

۲۳۱- عبارت درست در رابطه با ویژگی‌های علوم اجتماعی جهان اسلام، کدام است؟

- (۱) علم اجتماعی جهان اسلام از منابع و ابزارهای تجربی برای توصیف و تبیین مسایل اجتماعی استفاده خواهد کرد.
- (۲) علم اجتماعی جهان اسلام به تبیین وضعیت موجود و آرمانی جامعه اسلامی پرداخته و درباره جامعه جهانی داوری نمی‌کند.
- (۳) عقلانیت جهان اسلام در تبیین‌های علمی بدون استفاده از حس و تجربه، با استفاده از وحی و عقل به ساماندهی می‌پردازد.
- (۴) عقلانیت در جهان اسلام به رغم تعامل با فرهنگ و سنت‌های تاریخی محیط خود، ارزش‌ها و اعتبار روشنگرانه خود را از متن فرهنگ و کنش‌های عاملان می‌گیرد.

۲۳۲- به ترتیب، این نظریه‌ها توسط چه کسانی مطرح شده است؟

- این جهان فرصت‌ها و محدودیت‌هایی را برای بشر ایجاد کرده است.
- زمانی که مردم، شیفته غلبه بر اقوام و ملل دیگر باشند، با یکدیگر همکاری می‌کنند.
- چالش‌های جامعه سرمایه‌داری، فقط با یک انقلاب قابل حل است.
- اگر جامعه‌شناس درباره درست یا غلط بودن عقاید و ارزش‌ها داوری کند، از دایره علم خارج می‌شود و با نام علم کار غیر علمی می‌کند.

- (۱) وبر - فارابی - مارکس - وبر
(۲) مارکس - وبر - فارابی - ابوعلی مسکویه
(۳) ابن‌خلدون - مارکس - وبر - هانتینگتون
(۴) فارابی - مارکس - هانتینگتون - ابن‌خلدون

۲۳۳- پاسخ سؤال‌های زیر به ترتیب کدام است؟

- روزنه ورود استعمار و نابودی هویت سیاسی، اجتماعی و فرهنگی جوامع چیست؟
- اقدام اروپائیان برای تأمین سلطه خود بر قاره آمریکا چه بود؟
- در اواخر قرن بیستم، چه چیزی محور مباحثات فکری و سیاسی شد؟
- سلطه هژمونیک از چه شیوه‌ای استفاده می‌کند؟

- (۱) سیاست - ایجاد برده‌داری - کشمکش طبقاتی - انقلاب‌های رنگین
(۲) فرهنگ - پیشرفت در فنون دربانوردی - قشربندی - قدرت نرم رسانه‌ها
(۳) ارتباطات - گسترش اقتصاد صنعتی - عدالت اجتماعی - مهندسی رضایت عمومی
(۴) اقتصاد - تسلط کشی و از بین بردن ساکنان بومی - هویت - شیوه‌ها و ابزارهای فرهنگی

۲۳۴- درست و غلط بودن عبارت‌های زیر را تعیین کنید.

- با تغییرات و تفاوت‌هایی که در جهان اجتماعی به وجود می‌آید، مانند افول یا رشد اقتصاد و ... هویت جهان اجتماعی تغییر می‌کند.

- تأمین جمعیت مناسب برای جهان‌های اجتماعی، مسئله‌ای هویتی است.

- بیداری اسلامی در جهان امروز از مردم و فرهنگ عمومی جهان اسلام به سطح نخبگان منتقل شده است.

- مدینه ضاله، جامعه‌ای است که در اثر انحراف عملی از مدینه فاضله شکل می‌گیرد.

- (۱) د - غ - د - غ (۲) د - غ - د - غ (۳) غ - د - غ - غ (۴) غ - د - د - د

۲۳۵- در ارتباط با یک کنش اجتماعی، مانند گرایش افراطی به فضای مجازی، به ترتیب هر یک از رویکردهای سه‌گانه جامعه‌شناسی تبیینی، تفسیری و انتقادی، چگونه به بررسی آن می‌پردازند؟

(۱) بین میزان پرخاشگری با اعتیاد به فضای مجازی رابطه وجود دارد - به زمینه فرهنگی که جوانان در آن به استفاده افراطی از اینترنت می‌پردازند رجوع می‌کنند - اعتیاد به فضای مجازی برای جوانان خطرناک است و آن‌ها را از فضای واقعی زندگی جدا می‌کند.

(۲) اعتیاد به فضای مجازی موجب اخلاق‌گریزی جوانان و سقوط ارزش‌ها می‌شود - سرگرمی، هیجان، آزادی و به روز بودن، انگیزه و عامل اصلی حضور در فضاهای مجازی است - با وجود پیچیدگی این مسئله و همه‌گیر بودن آن، می‌توان به راهکارهایی برای بهبود این وضعیت دست یافت.

(۳) در هر جامعه، با توجه به ویژگی‌های فرهنگی و اجتماعی آن، می‌توان این پدیده را مورد مطالعه تجربی قرار داد - برای فهم و تفسیر این کنش، باید بفهمیم که این اعتیاد بر چه چیزی دلالت می‌کند - با استفاده از روش‌های کمی، بدون تحمیل و سرکوب این کنش، وضع مطلوب را تجویز می‌کند.

(۴) با استفاده از روش‌های کمی، به پیش‌بینی این کنش اجتماعی و راه‌های کنترل آن می‌پردازد - با توجه به پیچیدگی پدیده اعتیاد به فضای مجازی، به فهم معنای آن در گروه‌های مختلف می‌پردازد - با پذیرش معانی و اراده افراد و کشف حقیقت و فضیلت، به نقد این کنش پرداخته و وضعیت مطلوب را تجویز می‌کند.

۲۳۶- اگر کسی استدلال کند که قضیه «مریم دختر متواضعی است» یک قضیه موجبه جزئیه است؛ زیرا «مریم» مفهومی جزئی است، دچار چه مغالطه‌ای شده است؟

- (۱) تمثیل ناروا
(۲) اشتراک لفظ
(۳) تعمیم شتابزده
(۴) توسل به معنای ظاهری

۲۳۷- در کدام یک، هر سه نوع دلالت برای «مدرسه» به کار رفته است؟

- (۱) نقاش بعد از نقاشی مدرسه، به مدیر مدرسه گفت که از دانش‌آموزان بخواهد که در حفظ نظافت مدرسه همکاری کنند.
(۲) علی هنگام ورود به مدرسه، متوجه شد مدرسه را دزد برده و دانش‌آموزان با ناراحتی در حال مرتب کردن مدرسه‌اند.
(۳) دانش‌آموزان از مدرسه اجازه گرفتند تا مدرسه را برای جشن تزئین کنند و پس از اتمام کار از مدرسه خارج شوند.
(۴) مدرسه ما نزدیک یک کارخانه است. تمام مدرسه از صدای کارخانه ناراضی‌اند و قرار است مدرسه را به جای دیگر ببرند.

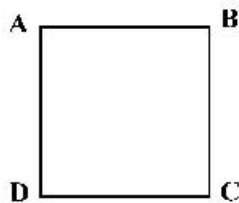
۲۳۸- کدام طبقه‌بندی درست است؟

- (۱) مقدار > شکل > مثلث > پاره‌خط
(۲) عم > تصدیق > قضیه > قضیه شرطی
(۳) تصدیق > شکل اول > قیاس > استدلال
(۴) مربع > لوزی > متوازی‌الاضلاع > چهارضلعی

۲۳۹- در کدام استدلال، مقدمات از نتیجه حمایت مطلق می‌کنند؟

- (۱) در سایت مدرسه آمده بود معلمان این مدرسه دارای مدرک دکتر هستند؛ پس دبیر ما هم دکتر دارد.
(۲) دبیران دارای سابقه بالا، مانند قطعات فرسوده یک دستگاه هستند؛ باید کنار گذاشته شوند تا بتوان از نیروهای جدید و تازه نفس استفاده کرد.
(۳) با چند نفر از مدرسان این مؤسسه که صحبت می‌کردم، در تیزهوشان درس خوانده بودند؛ پس همه مدرسان آن فارغ‌التحصیل مدارس خاص‌اند.
(۴) دیروز از جلوی مدرسه‌ای عبور می‌کردم، درهایش بسته بود، جمعه یا روز تعطیل هم نبود، هوا هم که آلوده نیست؛ حتماً برای تعمیرات تعطیل کرده‌اند.

۲۴۰- اگر مربع روبه‌رو مربع تقابل باشد، امکان موارد زیر را به ترتیب بررسی کرده و پاسخ درست را انتخاب کنید؟



- جمع میان A و B در کذب
- جمع میان A و C در کذب
تشخیص صدق یا کذب A، در صورت کذب D

- (۱) امکان پذیر - غیرممکن - غیرممکن
(۲) غیرممکن - غیرممکن - امکان پذیر
(۳) غیرممکن - امکان پذیر - امکان پذیر
(۴) امکان پذیر - غیرممکن - امکان پذیر

۲۴۱- کدام مورد برای نشان دادن بطلان یک فرضیه علمی مناسب‌تر است و چرا؟

- (۱) تمثیل؛ زیرا توجه به وجوه اختلاف در تمثیل، می‌تواند عدم قطعیت و نادرستی فرضیه نامبرده را نشان دهد.
(۲) استنتاج بهترین تبیین؛ زیرا در مسائل علمی از این نوع استنتاج جهت بررسی فرضیه‌ها استفاده بسیار می‌شود.
(۳) استقراء؛ زیرا در بررسی یا نقض قانون‌های علمی، روش تجربی که مبتنی بر استدلال‌های استقرایی قوی است، به کار می‌رود.
(۴) آوردن مثال نقض؛ زیرا برای ابطال یک قانون علمی، کافی است نشان دهیم که محمول در مورد یکی از افراد موضوع صدق نمی‌کند.

۲۴۲- نتیجه و مقدمه دوم یک قیاس به ترتیب عبارتند از: «بعضی الف ب است» و «هر ج ب است». مقدمه اول آن، کدام یک از قضایای زیر باشد، تا اعتبار قیاس حفظ شود؟

- (۱) بعضی الف ج است.
(۲) هیچ ج الف نیست.
(۳) بعضی ج الف نیست.
(۴) هیچ الف ج نیست.

۲۴۳- کدام قیاس معتبر است؟

- (۱) اگر این قلم می‌نویسد، پس جوهر دارد. قلم جوهر دارد؛ پس می‌نویسد.
(۲) اگر علی به خانه آمده بود، در قفل نبود. در قفل است، پس علی نیامده است.
(۳) هیچ درنده‌ای علفخوار نیست. بعضی از علفخوارها یال دارند؛ پس بعضی از درندگان یال ندارند.
(۴) اگر جسمی فلزی باشد، در اثر حرارت داغ می‌شود. این ظرف فلزی نیست؛ پس در اثر حرارت داغ نمی‌شود.

۲۴۴- کدام مورد را می‌توان پرسش فلسفی دانست؟

- (۱) فلسفه چگونه دانشی است؟
 (۲) فلسفه خواندن نماز چیست؟
 (۳) زندگی کردن چه فایده‌ای دارد؟
 (۴) آیا تفکر تابع قواعد خاصی است؟

۲۴۵- کدام عبارت بیان‌کننده اندیشه‌های فیثاغورس و پیروان او است؟

- (۱) نظم ریاضی در همه موجودات جریان دارد و جهان را فقط با دانش ریاضیات می‌توان شناخت.
 (۲) جهان ساختاری ریاضی دارد و مبادی اولیه موجودات، همان اصول شکل‌ها و عددها هستند.
 (۳) اصول ریاضیات درباره همه موجودات صادق است؛ زیرا عناصر اولی موجودات، سازنده اعداد هستند.
 (۴) اصول و مبادی اولیه جهان، سازنده اعداد و اصول اعدادند و اعداد، موجودات جهان را شکل داده‌اند.

۲۴۶- با بیان کدام یک از عبارات‌های زیر، فرد دچار تناقض شده است؟

- (۱) هیچ‌کس نیست که بتواند آن چه را خودش فهمیده، به دیگری هم منتقل کند.
 (۲) هیچ‌کس نیست که بتواند واقعیت داشتن یا واقعیت نداشتن جهان را با علم اثبات کند.
 (۳) هیچ‌یک از شناخت‌هایی که تاکنون درباره ساختار جهان به دست آورده‌ایم، عین واقعیت نیست.
 (۴) حواس ما کم و بیش دچار خطا می‌شود، بنابراین هیچ‌یک از یافته‌های حواس قابل اعتماد نیستند.

۲۴۷- این گزاره که «حواس برخلاف عقل، به تنهایی قادر به درک خطاهای خود نیستند»، با کدام یک از حیطه‌های زیر در

معرفت‌شناسی ارتباط بیشتری پیدا می‌کند؟

- (۱) ماهیت شناخت (۲) امکان شناخت (۳) ابزارهای شناخت (۴) ارزش شناخت

۲۴۸- کدام عبارت بیانگر نظر دکارت است؟

- (۱) با استفاده از دلایل استوار عقلی، پی می‌بریم که انسان دارای نفس مجرد است.
 (۲) اعتقاد به اموری مانند علت و خدا، جزء ساختارهای ذهن و ذاتی انسان‌ها است.
 (۳) بخشی از معرفت‌های ما بدون استفاده از هر نوع تجربه و مقدم بر آن درک می‌شود.
 (۴) معرفت‌های ذاتی اموری شهودی هستند که درک آن‌ها به عقل یا تجربه علمی نیازی ندارد.

۲۴۹- پروانه و دوستش درباره موضوعی با هم گفت‌وگو می‌کنند. پروانه به دوستش می‌گوید من برخلاف ارسطو معتقدم

انسان یعنی موجود اخلاقی. موضوع این سخن پروانه و دوستش، کدام است؟

- (۱) مسائل اخلاقی (۲) فلسفه اخلاق (۳) موجودیت انسان (۴) حقیقت انسان

۲۵۰- کدام عبارت مورد اختلاف ابن سینا و ملاصدرا است؟

- (۱) انسان حقیقتی دو بعدی دارد.
 (۲) روح، موجودی مجرد با ظرفیت بی‌پایان است.
 (۳) روح موجودی غیرزمینی و از جنس مجردات است.
 (۴) هر اتفاقی برای جسم رخ دهد، روح خبردار می‌شود.

۲۵۱- کدام عبارت درست است؟

- (۱) به اعتقاد ارسطو یکی از عملکردهای اخلاقی عقل این است که برای مثال، درک می‌کند فضیلت قوه غضب، خویشتن‌داری است.
 (۲) کانت معتقد است کاری که انسان در آن نفع شخصی نداشته باشد، فضیلت شمرده می‌شود؛ مانند وقتی که از روی دلسوزی به کسی کمک می‌کند.
 (۳) به اعتقاد فیلسوفان مسلمان، گرایش به خیر اخلاقی و تمایلات متضاد با آن، کم و بیش در همه انسان‌ها، چه معتقد به خدا باشند و چه نباشند، وجود دارد.
 (۴) از آن‌جا که فیلسوفان طبیعت‌گرا و ماتریالیست فقط منافع شخصی را به رسمیت می‌شناسند، معتقدند هرگاه انسان بتواند، باید به هر میزان که می‌خواهد آزاد باشد.

۲۵۲- حمل یگانه بر غنی بالذات، از نظر نسبت، مانند کدام حمل است؟

- (۱) شکل بر دوزنقه (۲) گیاه بر دارای حیات
 (۳) منحصر به فرد بر مولود کعبه (۴) دوزنقه بر دارای چهار ضلع

۲۵۲- کدام عبارت دربارهٔ علیّت، مورد اختلاف دکارت و فیلسوفان مسلمان است؟

- (۱) اصلی فطری و بدیهی است.
 - (۲) دانش بشری متکی بر آن است.
 - (۳) درک آن از طریق تجربه امکان‌پذیر نیست.
 - (۴) مصادیق آن بدون تجربه قابل شناخت نیستند.
- ۲۵۴- پدیدهٔ «A»، کدام یک از موارد باشد تا بتوانیم بگوئیم از حالت امکان ذاتی به حالت وجود بالغیر رسیده است؟

- (۱) A، ساختمانی در ذهن یک معمار است.
- (۲) A، نهال یک بذر است که باغبان می‌خواهد آن را بکارد.
- (۳) A، خاکستر چوبی است که قرار است در آتش انداخته شود.
- (۴) A، حرکت مژگان چشم است زمانی که پلک‌ها حرکت می‌کنند.

۲۵۵- در کدام عبارت، روش به‌کار گرفته شده برای اعتقاد به خداوند با بقیه متفاوت است؟

- (۱) هر جا که خوب‌تر و بهتر هست، خوب‌ترین و بهترین هم هست، پس حقیقتی هست که خوب‌ترین و بهترین است و او همان واقعیت الهی است.
- (۲) باور خدا به زندگی معنا می‌دهد و ارزش‌های اخلاقی را به‌همراه می‌آورد؛ خدایی که مبدأ خیر و زیبایی و ناظر بر انسان باشد؛ پس باید او را باور داشت.
- (۳) نمی‌شود نظم و انتظامی بر جهان حاکم باشد، مگر این‌که موجودی جاودان و برتر از ماده در کار باشد؛ زیرا هر جا که نظمی وجود دارد، باید ناظمی هم باشد.
- (۴) انسان از حقیقت نامتناهی تصویری دارد؛ این تصور نمی‌تواند از خود انسان که متناهی است، باشد؛ پس از جانب وجودی نامتناهی به انسان داده شده است.

۲۵۶- کدام عبارت درست است؟

- (۱) براساس قاعده علیّت، هر چیزی باید علتی داشته باشد.
- (۲) اسنس برهان فارابی در اثبات خدا، تقدم علت بر معلول است.
- (۳) نتیجهٔ برهان وجوب و امکان، تقسیم واجب‌الوجود به بالذات و بالغیر است.
- (۴) تسلسل علل نامتناهی یعنی موجودات زیادی وجود داشته باشند که با یکدیگر رابطه علی دارند.

۲۵۷- کدام عبارت بیانگر نظر اگوست کنت است؟

- (۱) نهایت تلاش عقل در شناخت واقعیات، استفاده از مشاهدات برای دستیابی به دانش‌های تجربی و پیشرفت در آن است.
- (۲) شناخت واقعیت کار حواس است و آن چه نقش عقل در علم تجربی پنداشته می‌شود، برساختهٔ فیلسوفان است.
- (۳) روش معتبر در شناخت واقعیت، تجربهٔ علمی است و عقل که به امور انتزاعی اختصاص دارد، دخالتی در آن ندارد.
- (۴) در دستگامی که فیلسوفان از جهان ارائه می‌دهند، اصول عقلی را با ساخته‌های ذهن خود، ارائه می‌دهند.

۲۵۸- در صورتی که برخی از دستاوردهای عقل با داده‌های وحی متعارض به نظر برسند، با توجه به نظرات ملاصدرا، کدام

احتمال مطرح نمی‌شود؟

- (۱) در دستاوردهای عقل خطایی رخ داده است.
- (۲) برخی از داده‌های وحی را به‌درستی نفهمیده‌ایم.
- (۳) آن‌چه را که به اشتباه، دادهٔ وحی تصور کرده‌ایم، دادهٔ وحی نیست.
- (۴) وقتی دستاوردهای عقل، با قرآن و سنت معارض به‌نظر رسد، باید عقل را کنار گذاشت.

۲۵۹- کدام عبارت را می‌توان از دیدگاه ابن سینا در طبیعت‌شناسی نتیجه گرفت؟

- (۱) همهٔ موجودات طبیعی، دارای طبیعت خاصی هستند که براساس حرکات و تحولات آن‌ها شکل می‌گیرد.
- (۲) تحقیق در ماورای طبیعت، دانشمند را از روابط میان پدیده‌ها آگاه می‌کند و به خشوع در برابر حق و اوست.
- (۳) با توجه به این‌که نظام عالم احسن است، دوری در مورد وقایع مخرب طبیعی که خیرند یا شر، غیرممکن است.
- (۴) وجود هر موجود طبیعی، از جهاتی خیر است و از جهاتی دیگر شر؛ اما در مجموعهٔ عالم، وجودش جز خیر نیست.

۲۶۰- کدام عبارت نظر ملاصدرا را به‌درستی بیان می‌کند؟

- (۱) از میان دو مفهوم «انسان» و «وجود»، وجود مفهومی واقعی و انسان مفهومی ساختهٔ ذهن اشخاص است.
- (۲) ماهیت‌ها اموری ذهنی هستند که ما آن‌ها را به موجودات گوناگون نسبت می‌دهیم.
- (۳) در خارج از ذهن ما، آن‌چه که واقعاً هست، یک حقیقت است و آن، وجود است.
- (۴) با توجه به واقعی بودن وجود، هیچ جایی برای تکثر و کثرت در عالم نیست.

۲۶۱- کدام عبارت، در خصوص قوانین روان شناسی به عنوان یک علم تجربی درست است؟

- (۱) اصل روان شناسی از ترکیب نظریه های مختلف به دست می آید.
 - (۲) در پژوهش روان شناسی پاسخ نخست به مسئله پژوهشی قانون است.
 - (۳) فرضیه ای که در پژوهش های روان شناسی تأیید شود، به عنوان قانون پذیرفته می شود.
 - (۴) روان شناسان یک اصل را به طور تجربی آزمون می کنند تا درستی آن را مشخص کنند.
- ۲۶۲- یک روان شناس قصد دارد در یک پژوهش علمی، اضطراب ابتلاء به بیماری کووید - ۱۹ (کرونا) را در بین بزرگسالان بررسی کند، کدام مورد، برای اینکه خوانندگان این پژوهش مفهوم اضطراب ابتلاء به این بیماری را تقریباً به طور مشابه درک کنند، لازم است؟

- (۱) توصیف (۲) ارائه فرضیه (۳) تعریف نظری (۴) تعریف عملیاتی
- ۲۶۳- در پاسخ به این سؤال که «چرا یک فرد وقتی که در جمع فرار می گیرد، متفاوت از سایر موقعیت ها عمل می کند» کدام هدف علم روان شناسی دنبال می شود؟

- (۱) تبیین (۲) توصیف (۳) پیش بینی (۴) کنترل

۲۶۴- کدام عبارت، ارتباط بین رشد شناختی و رشد اخلاقی را نشان می دهد؟

- (۱) رشد اخلاقی وابسته به رشد شناختی است.
- (۲) رشد شناختی وابسته به شکل گیری درک اخلاقی است.
- (۳) اخلاقی که به باور و ارزش تبدیل شده است منجر به شناخت می شود.
- (۴) داشتن شناخت نسبت به مسائل در اکثر موارد به درک اخلاقی منتهی می شود.

۲۶۵- کدام عبارت، از ویژگی های رشد در طی دوره کودکی است؟

- (۱) در اوایل بازی های مشترک و گروهی انجام می دهند، اما به تدریج به بازی های انفرادی می پردازند.
- (۲) بعد از نشان دادن هیجانات ساده پشیمانی و ترحم، هیجانات مرکب ترس و محبت را نشان می دهند.
- (۳) بعد از دستیابی به مهارت های حرکتی ظریف بلافاصله می توانند حرکات درشت را با مهارت انجام دهند.
- (۴) در اوایل درکی از اخلاق ندارند، اما به تدریج اصول و قوانین تعیین کننده رفتار با دیگران را یاد می گیرند.

۲۶۶- در بین جنبه های مختلف رشد، پدیده «رِسِس یا پختگی» در کدام جنبه مؤثرتر است؟

- (۱) اخلاقی (۲) جسمانی (۳) شناختی (۴) رفتاری

۲۶۷- فرهاد جهت ارتقای پیشرفت تحصیلی تصمیم می گیرد احتمال های مختلف را بررسی کند تا با اجرای یکایک آن ها نمرات

درسی افزایش یابد. به نظر شما تصمیم فرهاد بیانگر کدام جنبه رشد و مخصوص کدام یک از دوره های رشدی است؟

- (۱) هیجانی - نوجوانی (۲) شناختی - نوجوانی
- (۳) اخلاقی - کودکی (۴) اجتماعی - کودکی

۲۶۸- کدام عبارت، در خصوص فرایندهای شناختی درست است؟

- (۱) درگیری حواس پنجگانه با محرک های مختلف آزردهنده است.
 - (۲) ادراک، فرایند تحریک گیرنده های حسی اندام های حسی است.
 - (۳) تمرکز، توجه به یک محرک از بین محرک های مختلف به صورت مداوم است.
 - (۴) آگاهی نسبت به همه محرک هایی که در دامنه توجه قرار می گیرند، کامل است.
- ۲۶۹- در کدام مورد، کیفیت و کارایی عملکرد در انجام هم زمان چند تکلیف کاهش بیشتری می یابد؟

- (۱) تکالیف ساده و منحصر به فردی که فرد توانایی بالایی در انجام آن ها برخوردار است.
- (۲) تکالیف دشوار و مشابهی که فرد از یک حس برای انجام دادن آن ها استفاده می کند.
- (۳) تکالیف دشوار و منحصر به فردی که فرد از توانایی کمی در انجام آن ها برخوردار است.
- (۴) تکالیف ساده و مشابهی که فرد از حواس مختلف برای انجام دادن آن ها استفاده می کند.

۲۷۰- «چیزی را ادراک می کنیم که احساس نشده است»، این پدیده چه نام دارد؟


- (۱) توهم (۲) علامت انحرافی (۳) خطای ادراکی (۴) هشدار کاذب

- ۲۷۱- چه عاملی باعث می‌شود که محرک‌های بیرونی به اطلاعات روان‌شناختی معنا دار تبدیل شوند؟
 (۱) ادراک (۲) جست‌وجو (۳) انگیزندگی ذهنی (۴) ردیابی درست
- ۲۷۲- کدام مورد، در خصوص «حافظه‌کاری» درست است؟
 (۱) حافظه‌کاری در استدلال و قضاوت نقش دارد.
 (۲) در حافظه‌کاری اطلاعات برای مدت نامحدودی ذخیره می‌شود.
 (۳) جایگزینی اطلاعات جدید یا گذشت زمان باعث فراموشی در این حافظه نمی‌شود.
 (۴) از طریق تمرین و بازگویی می‌توان اطلاعات این حافظه را به حافظه کوتاه‌مدت منتقل کرد.
- ۲۷۳- بهترین شیوه کنترل اثر گذشت زمان در فراموشی، کدام است؟
 (۱) تداخل اطلاعات (۲) استفاده از نشانه‌های حسی
 (۳) مرور اطلاعات در زمان مناسب (۴) کاربرد نشانه‌های غیرمعنایی
- ۲۷۴- مشکل بسیاری از افرادی که احساس شکست می‌کنند، کدام است؟
 (۱) مشکلات عاطفی جدی دارند.
 (۲) مهارت حل مسئله را ندارند.
 (۳) از حمایت اجتماعی کافی برخوردار نیستند.
 (۴) مشکلات جسمانی جدی دارند.
- ۲۷۵- دانش‌آموزی در مواجهه با یک مسئله، با استفاده از روش‌های اکتشافی آن را حل کرده است. کدام مورد، در خصوص این دانش‌آموز درست است؟
 (۱) همه دانش‌آموزان راه‌حل او را قبول دارند.
 (۲) زمان کمی را برای حل مسئله صرف کرده است.
 (۳) با کمترین خطا به راه‌حل مسئله دست پیدا کرده است.
 (۴) براساس پردازش دقیق اطلاعات و قواعد مشخص عمل کرده است.
- ۲۷۶- کدام عبارت، در خصوص فردی که دچار تعارض گرایش - گرایش شده درست است؟
 (۱) به روش تصمیم‌گیری خود و نتایج آن اعتماد زیادی دارد.
 (۲) با موقعیتی روبه‌رو است که هم خواستنی و هم ناخواستنی است.
 (۳) قادر به تصمیم‌گیری نیست و حالت ناخوشایندی را تجربه می‌کند.
 (۴) دارای دو اولویت است که یکی ساده و معمولی و یکی پیچیده و مهم است.
- ۲۷۷- کدام سبک‌های تصمیم‌گیری به ترتیب، براساس ملاک‌های زیر است؟
 عواطف و هیجانات زودگذر
 - ناگهانی، عجله‌ای و بدون محاسبه
 - پیروی چشم بسته از دیگران
 (۱) تکانشی، اجتنابی، منطقی
 (۲) وابسته، احساسی، اجتنابی
 (۳) اجتنابی، وابسته، احساسی
 (۴) احساسی، تکانشی، وابسته
- ۲۷۸- فرد بزرگسالی که از چاقی مفرط رنج می‌برد، روش‌های مختلفی را برای کاهش وزن امتحان کرده است ولی در همه آن‌ها شکست خورده است و در نهایت به این باور رسیده است که هیچ کاری برای کاهش وزن از او ساخته نیست. این مثال بیانگر کدام مفهوم است؟
 (۱) اسناد پایدار (۲) مقابله ناکارآمد
 (۳) ناهماهنگی شناختی (۴) درماندگی آموخته شده
- ۲۷۹- دانش‌آموزی را در نظر بگیرید که قرار است در کنکور سراسری شرکت کند. این دانش‌آموز وقتی در خانه تست می‌زند، نمره‌های بالایی کسب می‌کند در حالی که نمره‌های آزمون‌های آزمایشی وی به علت استرس زیاد بسیار ضعیف است. کدام عبارت، می‌تواند در مورد این دانش‌آموز درست باشد؟
 (۱) می‌تواند از آرام‌بخش ضعیف قبل از آزمون استفاده کند تا استرس وی کنترل شود به‌عنوان مقابله سازگارانه
 (۲) شناسایی روش‌های کنترل استرس در آزمون و به‌کارگیری آن‌ها در آزمون‌های آزمایشی به‌عنوان مقابله سازگارانه
 (۳) کمک گرفتن از یک مشاور متخصص برای شناسایی روش‌های کنترل استرس در آزمون به‌عنوان مقابله ناسازگارانه
 (۴) منبع استرس را به‌عنوان یک متغیر مزاحم در نظر بگیرد و آن متغیر را از زندگی خود دور کند به‌عنوان مقابله سازگارانه
- ۲۸۰- کدام عبارت، در مورد روش‌های مقابله درست‌تر است؟
 (۱) ورزشکاری که برای فراموشی احساس ضعف در شوتزنی و استرس خود از شوخ‌طبعی استفاده می‌کند.
 (۲) ورزشکاری که برای فراموشی احساس ضعف در شوتزنی و استرس خود، از تمرین آرام‌سازی استفاده می‌کند.
 (۳) کسی که روزانه با موقعیت‌های استرس‌زای زیادی روبه‌رو است و برای حفظ سلامتی خود روزانه فعالیت بدنی می‌کند.
 (۴) کسی که روزانه با موقعیت‌های استرس‌زای زیادی روبه‌رو است و برای حفظ سلامتی خود روزانه دارو مصرف می‌کند.

کد کنترل

322

A



دفترچه شماره ۲
صبح پنجشنبه

جمهوری اسلامی ایران
وزارت علوم، تحقیقات و فناوری
سازمان سنجش آموزش کشور

«اگر دانشگاه اصلاح شود مملکت اصلاح می‌شود.»
امام خمینی (ره)

آزمون سراسری ورودی دانشگاه‌های کشور - ۱۴۰۰

گروه آزمایشی علوم انسانی (ویژه علوم و معارف اسلامی)
آزمون اختصاصی

مدت پاسخ‌گویی: ۱۶۵ دقیقه

تعداد سؤال: ۱۸۰

ردیف	مواد امتحانی	تعداد سؤال	از شماره	تا شماره	مدت پاسخ‌گویی
۱	ریاضی	۲۰	۱۰۱	۱۲۰	۲۵ دقیقه
۲	اقتصاد	۱۵	۱۲۱	۱۳۵	۱۰ دقیقه
۳	زبان و ادبیات فارسی	۳۰	۱۳۶	۱۶۵	۳۰ دقیقه
۴	زبان عربی	۲۰	۱۶۶	۱۸۵	۲۰ دقیقه
۵	تاریخ	۱۵	۱۸۶	۲۰۰	۲۵ دقیقه
۶	جغرافیا	۱۵	۲۰۱	۲۱۵	
۷	علوم اجتماعی	۲۰	۲۱۶	۲۳۵	۱۵ دقیقه
۸	فلسفه و منطق	۲۵	۲۳۶	۲۶۰	۲۵ دقیقه
۹	روان‌شناسی	۲۰	۲۶۱	۲۸۰	

سال ۱۴۰۰

* داوطلب گرامی، عدم درج مشخصات و امضاء در مندرجات جدول ذیل، به منزله عدم حضور شما در جلسه آزمون است.

اینجانب..... با شماره داوطلبی..... با آگاهی کامل، یکسان بودن شماره سندلی خود را با شماره داوطلبی مندرج در بالای کارت ورود به جلسه، بالای پاسخنامه و دفترچه سوالات، نوع و کدکنترل درج شده بر روی دفترچه سوالات و پائین پاسخنامه‌ام را تأیید می‌نمایم.

امضاء:

۱۰۱- تابع درآمد شرکتی به ازای تولید x واحد از یک کالای مصرفی به صورت $R(x) = -\frac{1}{4}x^2 + 8x$ و تابع هزینه آن به صورت $C(x) = 4x + b$ است. اگر فاصله دو نقطه سر به سر تابع سود این شرکت، ۱۲ واحد کالا باشد، مقدار b کدام است؟

- (۱) ۵ (۲) ۶ (۳) ۷ (۴) ۸

۱۰۲- اگر عبارت‌های گویا تعریف شده باشند، مجموع جواب‌های معادله $\frac{4x^2 - (2-x)^2}{x+2} - \frac{7}{x} = 2$ ، کدام است؟

- (۱) -۱ (۲) $\frac{2}{3}$ (۳) $\frac{4}{3}$ (۴) $\frac{7}{3}$

۱۰۳- تابع $f(x) = -\frac{1}{4}x + 4$ را در دامنه $\{-99, -98, \dots, 0, 1, \dots, 99, 100\}$ در نظر بگیرید. مقدار متوسط عضوهای برد تابع f ، کدام است؟

- (۱) $3/5$ (۲) $3/75$ (۳) ۴ (۴) $4/25$

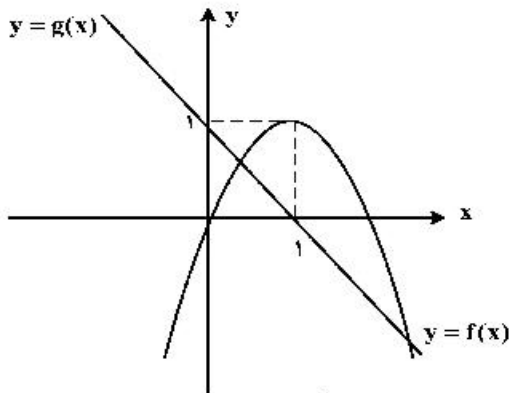
۱۰۴- ضابطه تابع $y = [-2x + |x|] + x$ در دامنه $-\frac{2}{3} < x < -\frac{1}{3}$ ، کدام است؟ ([] نماد جزء صحیح است.)

- (۱) $-2x$ (۲) $x+1$ (۳) $x-2$ (۴) $2x + \frac{1}{3}$

۱۰۵- معادله $\frac{ax^2 + 2x}{x+1} = x^2 - x$ ، دارای سه ریشه حقیقی متمایز است. کدام نامساوی زیر همواره برقرار است؟

- (۱) $a < -2$ (۲) $a \geq -2$ (۳) $a \leq 1$ (۴) $a < 1$

۱۰۶- نمودار تابع با ضابطه‌های سهمی $y = f(x)$ و خط راست $y = g(x)$ در صفحه مختصات مطابق شکل زیر داده شده



است. مجموع جواب‌های معادله $f(x) = g^2(x)$ ، کدام است؟

(۱) -۲

(۲) $-\frac{1}{2}$ (۳) $\frac{1}{2}$

(۴) ۲

۱۰۷- فرض کنید تابع f به صورت $f = \{(a, a^2); a = 0, 1, 2\} \cup \{(a, a+b) | a, b \in \{0, 1, 2\}\}$ توصیف شده باشد.

تعداد عناصر f ، کدام است؟

(۱) ۱۲

(۲) ۱۰

(۳) ۹

(۴) ۸

۱۰۸- نمودار تابع با ضابطه $f(x) = a\left(\frac{1}{4}\right)^x + b$ ، محور x ها را با طول ۱- و محور y ها را با عرض ۲ قطع می‌کند. مقدار تابع

f در $x = 1$ ، کدام است؟

(۱) ۴

(۲) ۳

(۳) ۲

(۴) ۱

۱۰۹- مقدار عبارت $3^{256} \times 3^{128} \times 3^{64} \times \dots \times 3^4 \times 3^2$ ، کدام است؟

(۱) $\frac{255}{3512}$ (۲) $\frac{63}{3256}$ (۳) $\frac{127}{3512}$ (۴) $\frac{127}{3256}$

۱۱۰- اگر $x, z, 4x, z, y$ و $x - \frac{3}{4}$ ، جملات متوالی یک دنباله هندسی باشند، مقدار $|x| + |y| + |z|$ ، کدام است؟

(۱) ۷

(۲) ۵

(۳) ۳

(۴) ۱

۱۱۱- مجموع ۱۰ جمله اول یک دنباله حسابی ۲۶- و نسبت جمله پانزدهم به جمله ششم دنباله ۶ است. جمله یازدهم دنباله، کدام است؟

(۱) $-16,8$ (۲) $-15,6$ (۳) $-14,8$ (۴) $-13,6$

۱۱۲- جمله چهاردهم دنباله بازگشتی $a_{n+1} = \frac{1}{a_n} + 1$ با فرض $a_{16} = \frac{1597}{987}$ ، کدام است؟

(۱) $\frac{610}{277}$ (۲) $\frac{277}{233}$ (۳) $\frac{277}{610}$ (۴) $\frac{233}{277}$

۱۱۳- جدول ارزشی کدام یک از گزاره‌های زیر با جدول ارزشی گزاره $(p \vee q) \Rightarrow (q \vee r)$ ، یکسان نیست؟

$$(1) \quad p \Rightarrow (q \vee r) \quad (2) \quad (p \wedge q) \vee r$$

$$(3) \quad \sim p \vee q \vee r \quad (4) \quad (p \Rightarrow q) \vee r$$

۱۱۴- اگر گزاره‌های $p \Rightarrow q$ و $\sim p \Rightarrow q$ هر دو درست باشند، آنگاه کدام گزاره زیر همواره درست است؟

$$(1) \quad q \vee p \Rightarrow q \quad (2) \quad q \vee p \Rightarrow p$$

$$(3) \quad p \wedge \sim q \quad (4) \quad q \vee p \Rightarrow p \wedge q$$

۱۱۵- اگر متمم مجموعه $(A - B) \cup (B - A)$ برابر $A \cap B$ باشد، کدام عبارت درست است؟ (S مجموعه مرجع است.)

$$(1) \quad A \subseteq B \quad (2) \quad A \subseteq B'$$

$$(3) \quad A \cup B = S \quad (4) \quad B = \emptyset \text{ یا } A = \emptyset$$

۱۱۶- یک کتابخانه شامل ۵ کتاب ریاضی، ۳ کتاب ادبیات و ۲ کتاب داستان است. ۴ کتاب به دلخواه انتخاب می‌کنیم. با

کدام احتمال این چهار کتاب، حداقل در دو موضوع مختلف هستند؟

$$(1) \quad \frac{19}{21} \quad (2) \quad \frac{13}{14} \quad (3) \quad \frac{20}{21} \quad (4) \quad \frac{41}{42}$$

۱۱۷- برای اندازه‌گیری داده‌هایی که قابل مرتب‌کردن بوده و اختلاف بین مقادیر داده‌ها با معنا است، از کدام مقیاس

اندازه‌گیری استفاده می‌شود؟

(۱) اسمی (۲) نسبی (۳) ترتیبی (۴) فاصله‌ای

۱۱۸- میانگین و واریانس داده‌های یک جامعه به ترتیب ۱۵۲ و ۳۶ است. تقریباً ۹۶ درصد داده‌ها در کدام فاصله قرار می‌گیرند؟

$$(1) \quad (116, 188) \quad (2) \quad (134, 170)$$

$$(3) \quad (146, 158) \quad (4) \quad (140, 164)$$

۱۱۹- دامنه میان چارکی نمودار جعبه‌ای شامل ۱۰ داده، ۲۵ و اختلاف چارک اول با سبیل‌ها ۳۸ و ۲۶ است. اگر

کوچک‌ترین عضو داده‌ها ۳ باشد، مجموع مقادیر ممکن برای چارک سوم، کدام است؟

$$(1) \quad 120 \quad (2) \quad 100 \quad (3) \quad 64 \quad (4) \quad 36$$

۱۲۰- تعداد کالای فروخته شده توسط یک فروشگاه در هفته‌های اول تا هفتم به صورت جدول زیر است:

هفته	۱	۲	۳	۴	۵	۶	۷
تعداد کالاهای فروخته شده	۸	x	۵	y	۱۵	۱۰	۱۲

پیش‌بینی‌ها نشان می‌دهد که تعداد کالایی که در هفته نهم به فروش می‌رسد ۸ کالا است. مقدار $x + y$ ، کدام است؟

$$(1) \quad 26 \quad (2) \quad 36 \quad (3) \quad 50 \quad (4) \quad 76$$

۱۲۱- پاسخ درست و کامل پرسش‌های زیر در کدام گزینه مطرح شده است؟

الف) همه گزینه‌ها بیانگر مفهوم کالاهای سرمایه‌ای است، به جز:

ب) از نظر اقتصاددانان، معنا و مفهوم اصطلاح «کمیابی» کدام است؟

ج) کدام گزینه، به ترتیب بیانگر: نمونه کالاهای ضروری - نمونه کالاهای سرمایه‌ای - نمونه کالاهای لوکس و تجملی است.

۱) الف) در فرایند «تولید» خدمات آن‌ها مورد استفاده قرار می‌گیرد. ب) منابع و امکانات موجود امکان مصارف متعدد

دارند - با روش‌های مختلفی می‌توان از منابع و امکانات در دسترس استفاده کرد. ج) دارو - مسکن - ماشین‌آلات

۲) الف) شامل ابزار تولید و تجهیزاتی است که به وسیلهٔ بنگاه‌های تولیدی به کار گرفته می‌شود. ب) منابع و امکانات و

ثروت‌های طبیعی محدود است - روش‌های استفاده از منابع و امکانات متنوع است. ج) نمک - پوشاک - داروهای

ویتامینه

۳) الف) در طول زمان با دوام هستند و تولیدکننده به وسیلهٔ آن‌ها ارزش افزوده ایجاد می‌کند. ب) انسان در بهره‌برداری

هم‌زمان از منابع و امکانات محدودیت دارد - منابع و ثروت‌های طبیعی کاربردهای گوناگون دارند. ج) نمک -

فرش‌های گران قیمت - ابزار تولید.

۴) الف) با تبدیل به «عوامل تولید» به فرایند تولید کمک می‌کند. ب) انسان در بهره‌برداری از منابع و امکانات موجود

محدودیت دارد - منابع و امکانات موجود محدود است. ج) دارو - یخچال در مغازهٔ بستنی فروشی - لوستر نورافشان

۱۲۲- در یک جامعهٔ فرضی، یک دستگاه کالای سرمایه‌ای را به قیمت: ۷۲ میلیارد ریال خریداری کرده‌ایم و عمر مفید آن

۱۲ سال است. در این صورت:

الف) هر سال چه میزان سرمایه به عنوان هزینهٔ استهلاکی باید کنار گذاشته شود؟

ب) چنانچه در سه سال آخر عمر مفید این کالای سرمایه‌ای، ۵٪ کاهش بها یافته باشد، مجموع هزینهٔ استهلاکی سه

سال آخر چه مقدار خواهد بود؟

ج) قیمت جدید کالای سرمایه‌ای کدام است؟

توجه: ارقام به میلیون و میلیارد ریال است.

۱) الف) ۶ (ب) ۱۷,۱۰۰ (ج) ۶۸,۴۰۰,۰۰۰ (۲) الف) ۶ (ب) ۱۷,۱۰۱ (ج) ۶۴,۸۰۰,۰۰۰

۳) الف) ۷ (ب) ۱۷,۱۰۰ (ج) ۶۴,۸۰۰,۰۰۰ (۴) الف) ۷ (ب) ۱۷,۱۰۱ (ج) ۶۸,۴۰۰,۰۰۰

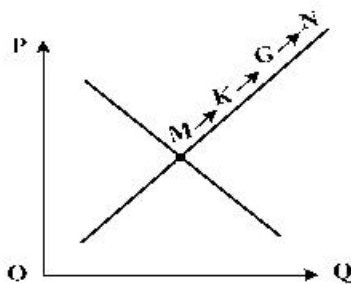
۱۲۳- با توجه به نمودار منحنی «.....» علت حرکت از نقطهٔ M به N، کدام است؟

۱) عرضه - قیمت بالاتر و عرضهٔ کمتر

۲) تقاضا - قیمت پایین‌تر و تولید بیشتر

۳) عرضه - قیمت بیشتر و عرضهٔ بیشتر

۴) تقاضا - توانایی تولید کمتر و قیمت بالاتر



محل انجام محاسبات

۱۲۴- پاسخ درست و کامل سؤالات زیر در کدام گزینه، مطرح شده است؟

الف) مطلب زیر مربوط به کدام مورد است؟

«در تحکیم بنیان‌های اقتصادی اصل، رفع نیازهای انسان در جریان رشد و تکامل اوست نه همچون دیگر نظام‌های اقتصادی، تمرکز و تکاثر ثروت و سودجویی، زیرا در مکاتب مادی، اقتصاد عامل تخریب و فساد و تباهی می‌شود و در اسلام «.....» است و از آن جزء کارآیی بهتر در راه وصول به مقصد و منظور مطلوب انتظار دیگری نمی‌توان داشت.»

ب) بانک «.....» مستقر در جدّه «.....» بوده و بانک «.....» محسوب می‌شود.

ج) مطلب زیر مربوط به کدام مورد است؟

«هر کشوری در پی جذب سرمایه‌گذاری خارجی برای کشور خود است. تا بدین ترتیب نه تنها پس‌اندازهای داخلی بلکه پس‌اندازهای کشورهای دیگر را نیز در جهت رشد و افزایش کارخانه‌ها و بخش‌های تولید داخل به کار گیرد.»

د) علاوه بر خرید حضوری روش دیگر برای سرمایه‌گذاری در بورس، کدام است؟

۱) الف) اصل ۴۴ قانون اساسی - اقتصاد وسیله است نه هدف ب) توسعه اسلامی - وابسته به سازمان ممالک اسلامی حوزه خلیج فارس - تعاونی اسلامی ج) جابه‌جایی عوامل تولید - سرمایه‌گذاری‌های استعماری در ممالک جهان سوم د) اشخاص می‌توانند از طریق اینترنت به خرید سهام در بورس، اقدام کرده و تأیید عضویت خود را از سامانه معاملاتی بورس تقاضا نمایند.

۲) الف) مقدمه قانون اساسی - اقتصاد وسیله است نه هدف ب) توسعه اسلامی - وابسته به سازمان کنفرانس اسلامی - توسعه‌ای ج) مبادلات بین‌المللی در بازارهای نیروی کار و سرمایه - حرکت سرمایه د) اشخاص می‌توانند از طریق اینترنت نیز به خرید اقدام کنند و پس از عملیات، نمونه چاپی آن را به‌عنوان رسید دریافت نمایند.

۳) الف) مقدمه قانون اساسی - اقتصاد هدف است، نه وسیله ب) توسعه تعاونی جهان اسلام - وابسته به سازمان ممالک اسلامی حوزه خلیج فارس - توسعه‌ای ج) مبادلات بین‌المللی در بازارهای نیروی کار و سرمایه - مصادره سرمایه‌های خارجی د) با ثبت نام در اینترنت تأیید عضویت خود را از سامانه معاملاتی بورس، درخواست نمایند.

۴) الف) اصل ۴۳ قانون اساسی - اقتصاد هدف است، نه وسیله ب) توسعه تعاونی جهان اسلام - وابسته به سازمان کنفرانس اسلامی - تعاونی اسلامی ج) جابه‌جایی عوامل تولید - فرار سرمایه‌ها به خارج د) از طریق اینترنت ثبت نام کرده و رسید واریز مبلغ سرمایه‌گذاری را به کارگزاری مربوطه ارسال نمایند.

۱۲۵- مندرجات جدول زیر، مربوط به یک جامعه فرضی است. چنانچه مجموع ارزش اقلام: مواد غذایی، پوشاک و

ماشین‌آلات ۱۴۵ میلیارد ریال باشد، در این صورت:

الف) تولید خالص ملی ب) تولید ناخالص داخلی ج) تولید خالص داخلی سرانه

در این جامعه، کدام است؟

۱	هزینه استهلاک	$\frac{1}{4}$ ارزش خدمات ارائه شده
۲	جمعیت کل کشور	۲۵ میلیون نفر
۳	ارزش تولید خارجیان مقیم کشور	۳۳ میلیارد ریال
۴	ارزش تولید مردم کشور که در خارج اقامت دارند.	$\frac{1}{3}$ ارزش تولید خارجیان مقیم کشور
۵	ارزش خدمات ارائه شده	۴۴ میلیارد ریال

۱) الف) ۱۸۹ (ب) ۲۱۱ (ج) ۷/۳۳

۲) الف) ۱۸۹ (ب) ۲۲۲ (ج) ۸/۴۴

۳) الف) ۲۰۰ (ب) ۲۱۱ (ج) ۷/۳۳

۴) الف) ۲۰۰ (ب) ۲۲۲ (ج) ۸/۴۴

۱۲۶- کدام گزینه، بیانگر پاسخ درست و کامل سؤالات زیر است؟

- (الف) به تمامی مراحل «.....»، «.....» اطلاق می‌شود.
 (ب) کالاها و خدماتی را که تولید آن‌ها بدون توجه به میزان سود، هزینه و بازار انجام می‌شود، «.....» می‌نامند.
 (ج) همه فعالیت‌های تولیدی در «محاسبه تولید کل جامعه» مورد سنجش قرار می‌گیرند، به جز:
 (۱) کارآفرینی - ایجاد ارزش افزوده (ب) محصولات تاکتیکی (ج) فعالیت زنان در کارگاه‌های قالی‌بافی
 (۲) کارآفرینی - زنجیره خلق ارزش (ب) محصولات حیازت شده (ج) کاشت میوه و سبزیجات گلخانه‌ای
 (۳) زنجیره خلق ارزش - ایجاد ارزش افزوده (ب) محصولات نرم (ج) فعالیت تولیدی زنان در خانه و تربیت فرزندان
 (۴) ایجاد ارزش افزوده - زنجیره خلق ارزش (ب) محصولات راهبردی (ج) کاشت سبزیجات در منزل برای مصرف خانگی

۱۲۷- با توجه به نمودار زیر:

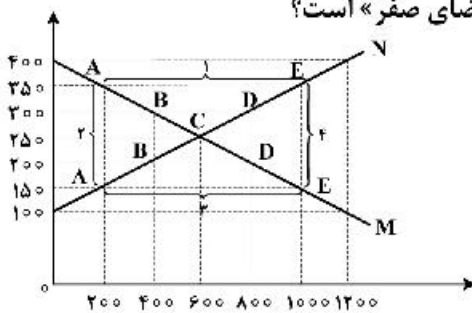
(الف) کدام شماره، بیانگر مازاد عرضه است؟

(ب) کدام دو نقطه، به ترتیب بیانگر قیمت و مقدار و مفهوم تعادلی است؟

(ج) کدام شماره، مبین مفهوم کمبود عرضه است؟

(د) کدام حروف به ترتیب، بیانگر منحنی تقاضا و عرضه است؟

(ه) کدام دو عدد بیانگر «عرضه صفر» است؟ و کدام دو عدد مبین «تقاضای صفر» است؟



- (۱) الف) ۱ (ب) C - ۲۵۰ - ۶۰۰ (ج) ۲ (د) M و N (ه) ۱۲۰۰, ۱۰۰ و ۴۰۰, ۱۲۰۰
 (۲) الف) ۱ (ب) B - ۲۵۰ - ۶۰۰ (ج) ۴ (د) M و N (ه) ۴۰۰, ۱۲۰۰ و ۱۲۰۰, ۱۰۰
 (۳) الف) ۳ (ب) B - ۶۰۰ - ۲۵۰ (ج) ۲ (د) N و M (ه) ۱۰۰, ۱۲۰۰ و ۴۰۰, ۱۲۰۰
 (۴) الف) ۳ (ب) C - ۶۰۰ - ۲۵۰ (ج) ۱ (د) N و M (ه) ۱۰۰, ۱۲۰۰ و ۱۲۰۰, ۴۰۰

۱۲۸- در یک جامعه فرضی، چنانچه کشاورزان یک کیلوگرم پنبه تولیدی خود را به ارزش ۶۵۰۰ ریال به کارگاه‌های ریسندگی بفروشند. کارگاه‌های ریسندگی نیز این مقدار پنبه را به مقداری نخ تبدیل کرده و به ارزش ۷۵۰۰ ریال به کارگاه‌های پارچه‌بافی بفروشند و در کارگاه‌های پارچه‌بافی، نخ به پارچه تبدیل شده و به مبلغ ۱۱,۰۰۰ ریال به کارگاه‌های تولید پوشاک فروخته شود و در این کارگاه‌ها پارچه به پوشاک تبدیل شده و به مبلغ ۱۹,۰۰۰ ریال به دست مصرف‌کنندگان می‌رسد. با توجه به این داده و ستاده‌ها:

(الف) ارزش افزوده مرحله دوم و چهارم، کدام است؟

(ب) به جز این روش چه روش‌های دیگری برای محاسبه تولیدات کلی وجود دارد و عناوین آن کدام است؟

(ج) در کدام روش محاسبه «تولیدات کلی» نگران اندازه‌گیری «تولیدات واسطه‌ای و مواد اولیه» نیستیم چرا که ارزش پولی همه آن‌ها در محاسبه کالاها و خدمات نهایی خودبه‌خود اندازه‌گیری شده است. در ضمن روشی که در آن با جمع زدن همه اجزای سهم در روند تولید، عایدی همه بازیگران و فعالان اقتصادی داخلی یا ملی، «تولید کل» محاسبه شود، چه نام دارد؟

(د) اقتصاددانان چه روشی را جهت اجتناب از اشتباه در محاسبه تولید کل ارائه می‌کنند؟

- (۱) الف) ۸۰۰۰ - ۱۰۰۰ (ب) روش هزینه‌ای - روش تولید (ج) روش درآمدی - روش هزینه‌ای (د) دو روش را به کار می‌گیرند و میانگین آن‌ها را منظور می‌دارند.
 (۲) الف) ۳۵۰۰ - ۶۵۰۰ (ب) روش درآمدی - روش تولید (ج) روش هزینه‌ای - روش درآمدی (د) هر سه روش را به کار می‌گیرند و میانگین آن‌ها را منظور می‌دارند.
 (۳) الف) ۱۰۰۰ - ۸۰۰۰ (ب) روش درآمدی - روش هزینه‌ای (ج) روش هزینه‌ای - روش درآمدی (د) حداقل دو روش را به کار می‌گیرند و نتایج را با هم مقایسه می‌کنند.
 (۴) الف) ۶۵۰۰ - ۳۵۰۰ (ب) روش هزینه‌ای - روش درآمدی (ج) روش درآمدی - روش هزینه‌ای (د) هر سه روش مورد استفاده قرار می‌گیرد، هر کدام بیشتر بود آن منظور می‌شود.

۱۲۹- کدام گزینه، بیانگر پاسخ درست و کامل سؤالات زیر است؟

الف) کدام دو بانک اگرچه جزء بانک‌های تخصصی محسوب می‌شوند، ولی بیشتر نقش بانک تجاری را ایفا می‌کنند؟
ب) انسان محصول آماده طبیعت را مستقیماً بدون هیچ‌گونه انجام کاری روی آن برداشت می‌کند، سه نمونه از آن کدام است؟ و نتیجه، این اقدام و نام اصطلاح اسلامی آن کدام است؟

ج) گاهی توسعه یافتگی معادل غربی شدن تلقی شده است، دلیل آن کدام است؟

د) هرگاه اقتصاددانان برای به دست آوردن شکاف درآمدی، شکاف هزینه‌ای را محاسبه کنند، در این حالت:

۱) الف) مسکن و ملت ب) بهره‌برداری از معادن، زراعت، باغبانی - مالکیت عمومی - احیاء ج) در واقع الگوهای توسعه، با توجه به زمان توسعه یافتن کشورهای غربی در عصر کنونی، کاملاً تغییر یافته و متفاوت شده است. د) درآمد خانوار، نماینده‌ای از هزینه آن است.

۲) الف) مسکن و کشاورزی ب) بهره‌برداری از علف و مراتع، چوب جنگل‌ها و معادن - مالکیت فردی - حیازت ج) زیرا الگوهای توسعه به‌طور معمول به تفاوت‌های بومی و محلی کشورها و همچنین به تاریخ، فرهنگ، باورها و ارزش‌های آن‌ها توجه لازم ندارند. د) هزینه خانوار، نماینده‌ای از درآمد آن است.

۳) الف) ملی و توسعه صادرات ب) بهره‌برداری از ماهی دریاها، جنگل‌ها، کاشت گندم - مالکیت عمومی - حیازت ج) چون این شاخص در زمان‌ها و مکان‌های متفاوت با الگوهای مختلفی باید مورد توجه اقتصاددانان قرار گیرد. د) شاخص دهک‌ها یکی از معیارهای تشخیص وضعیت «توزیع درآمد» تلقی می‌شود.

۴) الف) کشاورزی و صادرات ب) بهره‌برداری از چوب جنگل‌ها، معادن، پرورش ماهی، مالکیت فردی - احیاء ج) زیرا اقتصاددانان برای مقایسه بهتر کشورها و روند تغییرات آن‌ها علاوه بر شاخص‌های توسعه به شاخص‌های دیگر نیز توجه یافته‌اند. د) با محاسبه نسبت دهک دهم به دهک اول شاخصی مطمئن برای محاسبه به دست می‌آید.

۱۳۰- جدول زیر مبین اطلاعات ارائه شده در یک جامعه مفروض است. با توجه به مندرجات جدول:

الف) ارزش پولی مسکوکات موجود در دست مردم چقدر است؟

ب) میزان حجم شبه پول این جامعه، کدام است؟

ج) حجم کل پول یا کل نقدینگی این جامعه، کدام است؟

۱	ارزش پولی مجموع سپرده‌های دیداری و غیردیداری	۱۰۰۰ واحد
۲	ارزش پولی موجودی سپرده‌های مدت‌دار	۲۳۰ واحد
۳	ارزش پولی سپرده‌های دیداری	۱۸۰ واحد
۴	ارزش پولی مجموع اسکناس‌ها	۲۰۰۰ واحد
۵	ارزش پولی مجموع مسکوکات در دست مردم	$\frac{۲}{۵}$ موجودی اسکناس‌ها
۶	ارزش پولی حساب‌های قرض‌الحسنه	۱۲۸۰ واحد

۱) الف) ۸۰۰ (ب) ۲۰۱۰ (ج) ۵۸۰۰ (۲) الف) ۸۰۰ (ب) ۲۱۰۰ (ج) ۵۰۸۰

۳) الف) ۸۲۰ (ب) ۲۰۱۰ (ج) ۵۸۰۰ (۴) الف) ۸۲۰ (ب) ۲۱۰۰ (ج) ۵۰۸۰

۱۳۱- جدول زیر، نمودار: «تقاضا، عرضه، قیمت» در یک جامعه بازاری فرضی است، به ترتیب کدام ردیف‌های جدول بیانگر:
الف) برابری میان «تقاضا و عرضه» است و نام اصطلاح اقتصادی آن کدام است؟

ردیف	قیمت را «به ریال»	مقدار تقاضا «به کیلو»	مقدار عرضه «به کیلو»
۱	۱۰۰	۱۲۰۰	۰
۲	۱۵۰	۱۰۰۰	۲۰۰
۳	۲۰۰	۸۰۰	۴۰۰
۴	۲۵۰	۶۰۰	۶۰۰
۵	۳۰۰	۴۰۰	۸۰۰
۶	۳۵۰	۲۰۰	۱۰۰۰
۷	۴۰۰	۰	۱۲۰۰

ب) کمبود عرضه است؟
ج) مازاد عرضه است؟

- ۱) الف) ردیف: ۴ - مقدار قیمت تعادلی (ب) ردیف: ۳ (ج) ردیف: ۵
۲) الف) ردیف: ۴ - مقدار تعادلی (ب) ردیف: ۵ (ج) ردیف: ۳
۳) الف) ردیف: ۷ - قیمت و مقدار تعادلی (ب) ردیف: ۵ (ج) ردیف: ۳
۴) الف) ردیف: ۷ - قیمت تعادلی (ب) ردیف: ۳ (ج) ردیف: ۵
- ۱۳۲- پاسخ درست و کامل پرسش‌های زیر در کدام گزینه مطرح شده است؟

الف) به‌طور کلی سیاست‌های تثبیت اقتصادی به:

ب) دولت‌ها برای مدیریت کلان کشور:

ج) برای تداوم پیشرفت اقتصادی، علاوه بر ارتقای توان تولید، به‌عنوان عنصر اساسی پیشرفت، مقاوم‌سازی اقتصاد و آسیب‌پذیری آن از فشارها و تکان‌های مختلف الزامی است. اقتصاددانان با اصطلاحاتی نظیر: «.....» مسئله مقاوم‌سازی اقتصاد را پیگیری و اجرا می‌کنند.

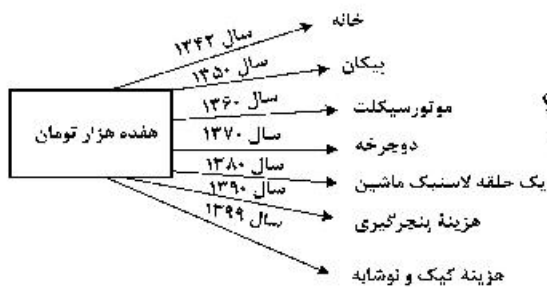
د) نفت خام «.....» است و همانطور که فروش فرش و اثاث خانه برای خانوار «.....» به‌شمار برود، صادرات و فروش نفت نیز «.....» محسوب «.....»

۱) الف) سیاست‌های انبساط پولی و سیاست‌های انقباض پولی طبقه‌بندی می‌شود. (ب) علاوه بر سیاست‌های انبساط پولی از سیاست‌های انقباض مالی، نیز استفاده می‌کنند. (ج) اقتصاد مقاومتی ضامن پیشرفت - درونزایی - برونگرایی و گسترش ارتباطات - اقتصاد دانش بنیان - اقتصاد مردمی (د) ثروت عمومی - باید درآمد - درآمد - می‌شود.

۲) الف) سیاست‌های افزایش حجم پول در گردش و سیاست‌های کاهش حجم پول در گردش طبقه‌بندی می‌شود. (ب) از سیاست‌های انبساط مالی برای تحریک تقاضای عمومی بهره می‌گیرند. (ج) اقتصاد مردمی - اقتصاد مقاومتی ضامن پیشرفت - پایداری - مدیریت مصرف و بهره‌وری حداکثری - درونزایی (د) یک کالای کانی و معدنی - باید درآمد - درآمد - می‌شود.

۳) الف) سیاست‌های انقباض مالی و سیاست‌های انبساط مالی تقسیم می‌شود. (ب) سیاست‌های انقباض مالی را برای کاهش تقاضای کل اقتصاد در مواقع تورم به‌کار می‌گیرند. (ج) استحکام اقتصادی - تاب‌آوری اقتصاد - توان تحریم‌شکنی - توزیع عادلانه ثروت و درآمد - اقتصاد دانش بنیان (د) یک کالای کانی و معدنی - نباید درآمد - درآمد - نمی‌شود.

۴) الف) سیاست‌های پولی و سیاست‌های مالی تقسیم می‌شود. (ب) علاوه بر سیاست‌های پولی از ابزارهای سیاست‌های مالی استفاده می‌کنند. (ج) ثبات اقتصادی - استحکام اقتصادی - ضدشکنندگی - تاب‌آوری اقتصاد - پایداری (د) ثروت عمومی - نباید درآمد - درآمد - نمی‌شود.



۱۳۳- با توجه به نمودار زیر در رابطه با قدرت خرید پول:

- الف) نتیجه کاهش قدرت خرید پول، کدام است؟
 ب) پول در مقابل چه چیزی قدرت خرید خود را حفظ نکرده است؟
 ج) یکی از دلایل مهم کاهش قدرت خرید پول جامعه، کدام است؟
 د) رابطه پول با چه چیزی یک رابطه غیرمستقیم است؟
 ه) چرا گفته می شود قدرت خرید پول دستخوش تغییر است؟
 و) قدرت خرید پول جامعه وابسته به چیست؟

- ۱) الف) تورم ب) سطح عمومی قیمت‌ها ج) حجم زیاد پول نسبت به تولید جامعه د) سطح عمومی قیمت‌ها ه) چون یک واحد پول نتوانسته ارزش خود را در طول زمان حفظ کند. و) سطح عمومی قیمت‌ها
 ۲) الف) تورم رکودی ب) افزایش نقدینگی ج) نابرابری عرضه و تقاضای کل جامعه د) سطح عمومی قیمت‌ها ه) چون ارزش پول متناسب با رونق و شکوفایی اقتصادی افزایش هماهنگ نداشته است. و) سطح عمومی قیمت‌ها
 ۳) الف) تورم رکودی ب) سطح عمومی قیمت‌ها ج) نابرابری عرضه و تقاضای کل جامعه د) حجم پول در گردش ه) چون یک واحد پول نتوانسته ارزش خود را در طول زمان حفظ کند. و) قدرت موازنه پرداختی‌های خارجی آن است.
 ۴) الف) تورم ب) افزایش نقدینگی ج) حجم زیاد پول نسبت به تولید جامعه د) حجم پول در گردش ه) چون ارزش پول متناسب با شکوفایی اقتصادی افزایش هماهنگ نداشته است. و) قدرت موازنه پرداختی‌های خارجی آن است.

۱۳۴- با فرض جدول مالیاتی زیر:

- الف) میزان مالیات سالانه تولیدکننده‌ای که در ماه ۱۵ میلیارد ریال درآمد دارد، کدام است؟
 ب) میزان مانده خالص ماهیانه او چقدر است؟
 ج) این محاسبه مربوط به کدام یک از انواع نرخ مالیاتی: ثابت، تصاعدی کلی و تصاعدی طبقه‌ای است؟
 د) کدام مورد، در رابطه با ویژگی نوع نرخ مالیاتی مورد محاسبه نادرست است؟
 قابل توجه: ارقام به میلیون و میلیارد ریال است.

A	درآمدهای تا: ۱۵۰ میلیون ریال	معاف از مالیات
B	درآمدهای تا: ۲۵۰ میلیون ریال	با نرخ: ۱۵٪ نسبت به مازاد: ۱۵۰ میلیون ریال
C	درآمدهای تا: ۳۵۰ میلیون ریال	با نرخ: ۲۰٪ نسبت به مازاد: ۲۵۰ میلیون ریال
D	درآمدهای تا: ۴۵۰ میلیون ریال	با نرخ: ۲۵٪ نسبت به مازاد: ۳۵۰ میلیون ریال
E	درآمدهای تا: ۹۰۰ میلیون ریال	با نرخ: ۳۵٪ نسبت به مازاد: ۴۵۰ میلیون ریال
F	درآمد بالاتر از: ۹۰۰ میلیون ریال	با نرخ: ۴۵٪ نسبت به مازاد: ۹۰۰ میلیون ریال

- ۱) الف) ۷۸,۷۵۰ (ب) ۸,۴۳۷,۵۰۰ ج) ثابت د) این نوع نرخ مالیاتی در تعدیل درآمد و ثروت افراد جامعه مؤثر است.
 ۲) الف) ۸۷,۵۷۰ (ب) ۷,۴۳۸,۵۰۰ ج) تصاعدی د) در این نظام مالیاتی نرخ مالیات با افزایش درآمد یا دارایی زیاد و به عکس با کاهش درآمد یا دارایی کم می‌شود.
 ۳) الف) ۷۸,۷۵۰ (ب) ۸,۴۳۷,۵۰۰ ج) تصاعدی طبقه‌ای د) در این نوع مالیات، میزان مالیات پرداختی افراد متناسب با تغییر در درآمد یا دارایی آن‌ها کم و زیاد می‌شود.
 ۴) الف) ۸۷,۵۷۰ (ب) ۷,۴۳۸,۵۰۰ ج) تصاعدی کلی د) در این نوع مالیات، افراد با درآمدهای بیشتر با نرخ بیشتر و افراد با درآمدهای پایین‌تر با نرخ کمتری مالیات می‌پردازند.

۱۳۵- جدول اطلاعاتی زیر مربوط به شاخص‌های اقتصادی و انسانی کشورهاست. از کتاب درسی اقتباس شده است. گزینه کامل‌کننده اطلاعات، به ترتیب حروف، کدام است؟

ردیف	گروه کشورها	متوسط نرخ باسوادی بزرگسالان به درصد	متوسط نرخ مرگ‌ومیر نوزادان در هر ۱۰۰۰ تولد	متوسط امید به زندگی در آغاز تولد به سال
الف	کشور با توسعه انسانی ضعیف	۵۷/۱	؟	؟
ب	کشور با توسعه انسانی زیاد	؟	۶	؟
ج	درآمد سرانه سالانه در «.....» کشور در حال توسعه فقیر از «.....» کمتر است در حالی که هیچ‌یک از «.....» کشور توسعه‌یافته درآمد سرانه سالیانه‌شان کمتر از «.....» نیست.			
د	در سال ۲۰۱۵ م. تولید ناخالص داخلی سرانه در کشور سوئیس: «.....» و در سودان «.....» بوده است.			

- (۱) الف) ۴۹-۶۹/۲-۴۰/۵ (ب) ۴۳ - حدود ۸۰-۶۰/۵ (ج) ۵۰-۱۸۰۰-۲۰ کمتر از ۴۰,۰۰۰ دلار (د) ۶۰/۵۶۷ دلار - حدود ۳۳۲ دلار
- (۲) الف) ۴۹-۸۹/۴-۶۰/۵ (ب) ۴۳ - نزدیک به ۱۰۰-۶۰/۵ (ج) ۵۰-۱۸۰۰-۲۰ کمتر از ۶۰,۰۰۰ دلار (د) ۸۰/۶۷۵ دلار - حدود ۳۳۲ دلار
- (۳) الف) ۴۳-۶۹/۲-۴۰/۵ (ب) ۴۹ - حدود ۸۰-۸۰/۵ (ج) ۵۰-۱۶۰۰-۲۰ کمتر از ۶۰,۰۰۰ دلار (د) ۶۰/۵۶۷ دلار - حدود ۲۲۱ دلار
- (۴) الف) ۴۳-۸۹/۴-۶۰/۵ (ب) ۴۹ - نزدیک به ۱۰۰-۸۰/۵ (ج) ۵۰-۱۶۰۰-۲۰ کمتر از ۴۰,۰۰۰ دلار (د) ۸۰/۶۷۵ دلار - حدود ۲۲۱ دلار

محل انجام محاسبات

۱۳۶- کدام موارد، از ویژگی‌های «فکری» سبک خراسانی محسوب می‌شود؟

(الف) حاکم بودن روح حماسه بر ادبیات این دوره

(ب) واقع‌گرا بودن شعر، محسوس و عینی بودن آن و سادگی توصیفات

(ج) بهره گرفتن از تشبیهات حسی در توصیف پدیده‌ها

(د) رشد قالب غزل در اواخر این دوره

(۱) الف - ب (۲) الف - د (۳) ب - د (۴) ب - ج

۱۳۷- متن زیر برگزیده‌ای از کدام اثر ادبی است و مربوط به کدام دوره است؟

«پس عبدالمطلب گفت که ایها الملک، من خداوند اشرتم نه خداوند خانه و مر این خانه را خداوندی هست و او خود خانه خود را نگاه دارد.»

(۱) قابوس‌نامه - دوره غزنوی

(۲) کشف المحجوب - دوره غزنوی

(۳) کیمیای سعادت - دوره سلجوقی

(۴) ترجمه تفسیر طبری - دوره سامانی

۱۳۸- پدیدآورندگان «مکاتیب - صد پند - نفحات الانس - عشاق‌نامه» به ترتیب خالق آثار نیز هستند.

(۱) مجالس سبیه - رساله دلگشا - بهارستان - لمعات

(۲) فیه مافیه - تاریخ گزیده - تحفة الاحرار - جامع التواریخ

(۳) مثنوی معنوی - اخلاق الاشراف - تذکرة الاولیا - تاریخ جهانگشا

(۴) دیوان شمس - موش و گربه - مرصادالعباد - جمشید و خورشید

۱۳۹- از دیدگاه تاریخ ادبیات همه موارد کاملاً درست است، به جز:

(۱) بازماندگان تیمور کم و بیش از فرهنگ ایرانی تأثیر پذیرفتند و ادبیات رونقی تازه گرفت و تاریخ‌نویسی نیز ادامه یافت.

(۲) جامی در کتاب نفحات الانس خود به شیوه تحفة الاحرار نظامی به بیان حقایق عرفانی و ذکر احوال عارفان پرداخته است.

(۳) بایسنقر میرزا هنرمند و هنردوست بود و در زمان او هنرمندان قرآن کریم و شاهنامه فردوسی را به خط خوش نگاشتند.

(۴) پس از مرگ تیمور، شاهرخ با علاقه‌ای که به هنر و فرهنگ اسلامی پیدا کرده بود، از هنرمندان خوش‌نویس، نقاش و شاعر حمایت نمود.

۱۴۰- در همه ابیات ویژگی‌های «فکری» سبک عراقی مشهود است، به جز:

(۱) می صوفی افکن کجا می فروشدند

(۲) بیا که هانتف میخانه دوش با من گفت

(۳) نعمت عاجل و اجل به تو داد از ملکدان

(۴) خبر از عشق نبوده است و نباشد همه عمر

۱۴۱- سراینده کدام بیت «غلط» معرفی شده است؟

(۱) جنگ ننگ است در شریعت من

ز پی پاس دین و حفظ وطن (ادیب‌الممالک فراهانی)

(۲) آن زمان که بنهادم سر به پای آزادی

دست خود ز جان شستم از برای آزادی (عارف قزوینی)

(۳) غلغلی انداختی در شهر تهران ای قلم

خوش حمایت می‌کنی از شرع قرآن ای قلم (سید اشرف‌الدین گیلانی)

(۴) گر این چنین به خاک وطن شب سحر کنم

خاک وطن چو رفت چه خاکی به سر کنم (میرزاده عشقی)

۱۴۲- انتساب کدام آثار به پدیدآورنده آن «غلط» معرفی شده است؟

(۱) (شمس و طغرا: حسن مقدم) (بره گمشده راعی: امین فقیری)

(۲) (تنگسیر: صادق چوبک) (شمس‌الدین و قمر: میرزا حسن خان بدیع)

(۳) (خداوندنامه: صبای کاشانی) (تاریخ تطوّر نظم فارسی: محمد تقی بهار)

(۴) (تاریخ بیداری ایرانیان: ناظم الاسلام کرمانی) (منتشآت: قائم مقام فراهانی)

۱۴۳- همه موارد، بیانگر ویژگی‌های «سطح ادبی» شعر معاصر است، به جز:

(۱) انتخاب وزن، متناسب با لحن طبیعی گفتار و زبان شعر است.

(۲) صور خیال، جدید و نو هستند و تکرار تصاویر شاعران دوره‌های قبل نیستند.

(۳) سادگی و روانی زبان شعر و جمله‌بندی‌های ساده در شعر معاصر کاملاً چشمگیر است.

(۴) ابهام در شعر معاصر پسندیده است و معنی‌گریزی از ویژگی‌های شعر این دوره است.

۱۴۴- نویسنده «داستان باستان - جای پای خون - همسایه‌ها - تهران مخوف» به ترتیب، چه کسانی هستند؟

- (۱) میرزا حسن خان بدیع - سید مهدی شجاعی - جمال‌زاده - محمد باقر میرزا خسروی
- (۲) میرزا حسن خان بدیع - سید مهدی شجاعی - احمد محمود - مشفق کاظمی
- (۳) میرزا حبیب خراسانی - علی مؤذنی - جمال‌زاده - محمدباقر میرزا خسروی
- (۴) محمدباقر میرزا خسروی - علی مؤذنی - احمد محمود - مشفق کاظمی

۱۴۵ آرایه‌های مقابل همه ابیات کاملاً درست هستند، به جز:

- (۱) زان پیش که در زلف تو بندیدم دل خویش
 - (۲) تا زلف و رخت بردم از سایه و روشن
 - (۳) دور از لب شیرین تو چون شمع سیه روز
 - (۴) با گریه خونین من و خنده مهتاب
- ما رشته مهر از همه بگسیخته بودیم (مجاز، تضاد)
از شاخه سرو چمن آویخته بودیم (لف و نشر، مجاز)
خوش آتش و آبی به هم آمیخته بودیم (استعاره، ایهام)
آب رخی از شبنم و گل ریخته بودیم (استعاره مصرحه، استعاره مکنیه)

۱۴۶- نوع استعاره در همه ابیات با شعر زیر یکسان است، به جز:

- «می تراود مهتاب، می درخشد شب تاب
نیست یکدم شکند خواب به چشم کس و لیک
غم این خفته چند، خواب در چشم ترم می شکند
- (۱) کام حرص است که از شهد نگردهد شیرین
 - (۲) باغ سلام می کند سرو قیام می کند
 - (۳) از ترش رویی گردون گله بی‌انصافی است
 - (۴) از لعل تو گر یابیم انگشتری ز بهار

ورنه قانع ز نی خشک شکر می چیند
سبزه پیاده می رود غنچه سوار می رسد
خنده برق شنیدی به خس و خار چه کرد
صد ملک سلیمانم در زیر نگین باشد

۱۴۷- در کدام بیت، همه آرایه‌های «تشبیه، استعاره، ایهام تناسب و حسن آمیزی» یافت می‌شود؟

بند با عاشق بیدل چه تواند کردن
یادگاری که در این گنبد دوار بماند
نقش زخمی است که از تیشه فرهاد شکفت
در رهگذر باد نگهبان لاله بود

- (۱) پای خوابیده به فریاد نگردهد بیدار
- (۲) از صدای سخن عشق ندیدم خوش‌تر
- (۳) بر لب کوه جنون خنده شیرین بهار
- (۴) هر کاو نکاشت مهر و ز خوبی گلی نجید

۱۴۸- در ابیات زیر چند وجه شبه مشهود است؟

کآبم از سر همچو نیلوفر گذشت
همچون شکر اندر آب دادی
چشم فلک چون تو آفتاب نبیند
ولیک از دود او بر جاننش داغی

- (الف) روی چون خورشید بنمای از نقاب
(ب) بی آن لب چون شکر تنم را
(ج) روح ز تو خوبتر به خواب نبیند
(د) درفشان لاله در وی چون چراغی

(۳) سه (۴) چهار

(۱) یک (۲) دو

۱۴۹- آرایه‌های روبه‌روی کدام ابیات، درست است؟

و ایام به من جرعه جامت نرسانید (مجاز، تشخیص)
وز لعل شکر بار می و نقل فرو ریز (لف و نشر، موازنه)
شمع را در جامه فانوس دیدن مشکل است (موازنه، تشخیص)
کلاهی دلکش است اما به ترک سر تمی‌ارزد (جناس، کنایه)

- (الف) عمری است که چون جام جگر تشنه عشقم
(ب) در بزم ز رخسار دو صد شمع برافروز
(ج) عشق را در پرده ناموس دیدن مشکل است
(د) شکوه تاج سلطانی که بیم جان در او درج است

(۳) ب - ج (۴) الف - د

(۱) الف - ب (۲) ج - د

۱۵۰- در تمام ابیات همه ارکان تشبیه وجود دارد، به جز:

وز لبش کام روانم نازدانی بیش نیست
کان نرگس مست و گل خندان من اینجاست
کاو همچو بندگان بدهد بوسه بر جناب
آن را که همچو سرو و صنوبر قبا یکی است

- (۱) در غمش چون دانه ناز است آب چشم من
- (۲) مرغان چمن باز چو من عاشق و مستند
- (۳) خورشید را به روی تو تشبیه چون کنم
- (۴) پروای سرد و گرم خزان و بهار نیست

- ۱۵۱- آرایه‌های (کنایه - جناس - ایهام تناسب - استعاره - لف و نشر) به ترتیب، در کدام ابیات آمده است؟
- (الف) بر آن سرم که جفای تو را به جان بخرم
 (ب) من مات صورت تو که در کارگاه حسن
 (ج) مژّه و ابروی او دیدم و با دل گفتم
 (د) کس مبادا به سیه‌روزی ما در ره عشق
 (ه) بی‌زلف سرکشش سر سودایی از ملال
- (۱) الف - د - ج - ه - ب
 (۲) د - الف - ب - ه - ج
 (۳) د - ه - ج - الف - ب
 (۴) ه - د - ب - الف - ج

۱۵۲- کدام ابیات «فاقد» ردیف است؟

- (الف) من قصه خویشتن بدو چون گویم
 (ب) تنگ شد از غم دل، جای به من
 (ج) مشو تا توانی ز رحمت بری
 (د) گدایی که بر خاطرش بند نیست
 (ه) خوش آن که نگاهش به سرو پای تو باشد
- (۱) ب - ج - د
 (۲) ب - د - ه
 (۳) الف - ج - د
 (۴) الف - ج - ه

۱۵۳- کدام بیت، براساس قاعده و تبصره «۱» قافیه سروده شده است؟

- (۱) رفتی و نام تو ز زبانم نمی‌رود
 (۲) از پسته تنگ خود آن یار شکر بوسه
 (۳) زهی خورشید را داده رخ تو حسن و زیبایی
 (۴) میر من خوش می‌روی کندر سر و پا میرمت

۱۵۴- وزن مصراع زیر با کدام مصراع، یکسان است؟

- «گر خون من ز شیشه بریزد به جام او»
 (۱) کار فرو بسته‌ام هیچ گشایش ندید
 (۲) ز شرم عارض او لاله بست بر رخ ماه
 (۳) ز شرم عارض او لاله بست بر رخ ماه
 (۴) آگهیش ز راحت عشاق خسته نیست

۱۵۵- در همه ابیات هر دو اختیار «وزنی و رباعی» وجود دارد، به جز:

- (۱) گره به باد مزن گرچه بر مراد رود
 (۲) حافظ از آب حیات ازلی می‌خواهی
 (۳) مستم کن آن چنان که ندانم ز بی‌خودی
 (۴) زنه‌ار از آن عبارت شیرین دل‌فریب

۱۵۶- بیت زیر فاقد کدام «اختیار شاعری» است؟

- «هر که در سایه تو باشد نیست
 (۱) ابدال
 (۲) حذف همزه
 (۳) بلند بودن هجای پایان مصراع
 (۴) بلند تلفظ کردن مصوت کوتاه

۱۵۷- کدام بیت را «نمی‌توان» به دو صورت تقسیم‌بندی هجایی کرد؟

- (۱) سپهر با همه بی‌مهریش به مهر آمد
 (۲) گنجینه مهر او در سینه نمی‌گنجد
 (۳) ای خواجه برو بنده آن زهره‌جبین باش
 (۴) شاخ گلی که ابش از جوی دیده دادم

۱۵۸- کدام بیت «فاقد» وزن دوری (همسان دو لغتی) است؟

- (۱) نا تو به گلشن آمدی با همه درکشاکشم
 (۲) در وادی محبت دانی چه کار کردم
 (۳) تا خیل غمت خیمه زد اندر دل تنگم
 (۴) ای کعبه مقصودم وی قبله امالم
- و ه که تو در کنار گل من به میان آتشم
 اول به سر دویدم آخر ز پا فتام
 از تنگ‌دلی با در و دیوار به جنگم
 میسند بدین روزم مگذار بدین حال

۱۵۹- وزن کدام مصراع در مقابل آن «غلط» آمده است؟

- (۱) راز همه کرد افشا نموده رخ زیبا (مفعول مفاعیل مفاعیل فعولن)
- (۲) نشستم از سر زلفش ولی به روز سیهی (مفاعیلن فعلاتن مفاعیلن فعلاتن)
- (۳) امشب ای زلف سیه سخت پریشان شده‌ای (فَاعِلَاتِنِ فَعَلَاتِنِ فَعَلَاتِنِ فَعَلِنِ)
- (۴) دوش ز دست رقیب ساغر می خورده‌ای (مفتعلن فاعلن مفتعلن فاعلن)

۱۶۰- با توجه به عروض و قافیه کدام گزینه، در مورد رباعی زیر «غلط» ذکر شده است؟

«بازار قبول گل چو شد خوش خوش تیز
گل گفت که آب قدمش خیره مریز
گفتم که به باغ درشوای دلبر خیز
ما دست گلابگر گرفتیم و گریز»

- (۱) ابیات را می‌توان به دو صورت دسته‌بندی هجایی کرد.
- (۲) در بیت اول از اختیار شاعری ابدال استفاده شده است.
- (۳) در بیت دوم شاعر دو بار مصوت کوتاه را بلند تلفظ کرده است.
- (۴) قافیة رباعی براساس قاعده «۲» آمده است و حرف روی «ز» است.

۱۶۱- مفهوم کدام بیت با بیت زیر، یکسان است؟

روشنی در کار مردم بود مقصودم چو شمع
تا سراسر به ره عشق تو بر باد رود
گل نصیب دست گلچین است گویی نیست هست
خرج اشک و آه شد جسم نزارم همچو شمع
هرچه داریم از برای دیگران داریم ما

«این که گاهی می‌زدم بر آب و آتش خویش را
(۱) کاش چون شمع همه سر شود اعضای کلیم
(۲) وصل جنان قسمت اهل هوس شد ای دریغ
(۳) تا گشودم دیده روشن در این ظلمت‌سرا
(۴) قسمت ما چون کمان از سهم خود خمیازه‌ای است»

۱۶۲- مفهوم قطعه زیر از کدام بیت دریافت می‌شود؟

که می‌گویند ملاحان سرودی
به سالی دجله گردد خشک رودی
چراغ مهر عالم‌تاب مستغنی است از روغن
زود باشد کش به شب روغن نماند در چراغ
پیش‌تر از خانه می‌بایست خود را ساختن
از کنار ابر تا دریا تنزل بآیدش

«چو دخلت نیست خرج آهسته‌تر کن
اگر بازاران به کوهستان نبارد
(۱) فروزد شمع اقبال به نور خویشتن آری
(۲) ابلهی کاو روز روشن شمع کافوری نهد
(۳) کرد خرج آب و گل کوتاه بینی‌ها مرا
(۴) قطره آبی که دارد در نظر گوهر شدن»

۱۶۳- مفهوم همه ابیات یکسان است، به جز:

داغ عشق تو گلی نیست که از یاد رود
تا در زمانه باقی است آواز باد و باران
یادگاری که در این گنبد دوار بماند
فتنه‌انگیز جهان غمزه جادوی تو شد

(۱) گر تمنای تو از خاطر ناشاد رود
(۲) این نغمه محبت بعد از من و تو ماند
(۳) از صدای سخن عشق ندیدم خوشتر
(۴) عالم از شور و شر عشق خبر هیچ نداشت

۱۶۴- کدام ابیات، در بردارنده مفهوم «انتظار» است؟

تحفه‌ای کز غم فرستی نزد ما هر دم فرست
از بس که دیر ماندی چون شام روزه‌داران
او سرسپرده می‌خواست من دل‌سپرده بودم
ماه اگر حلقه به در کوفت جوابش کردم
به پیام آشنایی بنوازد آشنا را
(۳) ب - د (۴) ب - ه

(الف) ما به غم خو کرده‌ایم ای دوست ما را غم فرست
(ب) ای صبح شب‌نشینان جانم به طاقت آمد
(ج) یک عمر دور و تنها، تنها به جرم این که
(د) شب چو دربستم و مست از می ناپش کردم
(ه) همه شب در این امیدم که نسیم صبحگاهی
(۱) الف - ج (۲) الف - ه

۱۶۵- مفهوم «بی‌توجهی معشوق، انابت و تضرع، طلب جلوه‌گری، وفاداری» به ترتیب، در کدام ابیات آمده است؟

وز لعل شکر بار می و نقل فرو ریز
همواره مرا کوی خرابات مقام است
گوش کشیده است از آن گوش به من نمی‌کند
خرم کند جهان را باران صبحگاهی
(۳) ب - الف - د - ج (۴) د - ج - الف - ب

(الف) در بزم ز رخسار دو صد شمع برافروز
(ب) تا گنج غمت در دل ویرانه مقیم است
(ج) پیش کمان ابرویش لابه همی کنم ولی
(د) اشک سحر زداید از لوح دل سیاهی
(۱) ج - د - الف - ب (۲) ج - د - ب - الف

■ ■ عین الأنسب للجواب عن الترجمة أو المفهوم من أو إلى العربية (۱۶۶ - ۱۷۲)

۱۶۶- ﴿أَوْ لَا يَعْلَمُونَ أَنَّ اللَّهَ يَعْلَمُ مَا يُسْرُونَ وَ مَا يُعْلَنُونَ﴾:

- (۱) آیا و نمی‌دانند که الله آنچه را در دل نهاده‌اند و آنچه را در ظاهر دارند می‌داند؟
 - (۲) و آیا نمی‌دانند که خداوند آنچه را پنهان می‌کنند و آنچه را علنی می‌سازند می‌داند؟
 - (۳) آیا و آگاه نیستند که الله نسبت به چیزی که پنهان کرده‌اند و چیزی که آشکار کرده‌اند آگاه است؟
 - (۴) و آیا آگاه نیستند که خداوند نسبت به آنچه مخفی می‌کنند و چیزی که آشکار نمی‌سازند آگاه است؟
- ۱۶۷- «إِنْ فَاتَ عَمْرُكَ فِي الضَّلَالَةِ، فَلَا تَيْأَسْ مِنْ رَجُوعِكَ إِلَى الْحَقِّ مُسْتَعِينًا بِإِرَادَتِكَ!»:

- (۱) اگر عمرت را در ضلالت نبود کردی، از بازگشت خود به حق به یاری اراده‌ات نباید ناامید شوی!
- (۲) اگر عمرت در گمراهی از دست رفت، از بازگشت بسوی حق در حالت کمک گرفتن از اراده خود ناامید م‌شوی!
- (۳) اگر عمرت در ضلالت نبود شد، نباید به برگشتنت به حق ناامید شوی حال آنکه از اراده‌ات مدد می‌جویی!
- (۴) اگر عمرت را در گمراهی از دست دادی، به برگشتن خود بطرف حق درحالی‌که از اراده‌ات کمک می‌گیری مأیوس م‌شوی!

۱۶۸- «وَقَفَّةُ الْجُنُودِ أَمَامَ قَائِدِهِمْ تُثَبِّتُ لَنَا إِسْتِعَادَهُمْ لِلْوُقُوفِ ضِدَّ الْعَدُوِّ بِشَجَاعَةٍ!»:

- (۱) طریقه ایستادن سپاهیان در مقابل فرمانده خود آمادگیشان را برای رویارویی شجاعانه به دشمن ثابت می‌کند!
- (۲) چگونگی ایستادن سپاهیان در مقابل فرمانده آماده بودنشان را برای جنگ قهرمانانه به دشمن ثابت می‌کند!
- (۳) به این صورت ایستادن سربازان مقابل فرمانده آماده بودنشان را برای مقاومت قهرمانانه با دشمن به ما ثابت می‌کند!
- (۴) طرز ایستادن سربازان در مقابل فرمانده‌شان آمادگی آنها را برای شجاعانه ایستادن در مقابل دشمن، به ما ثابت می‌کند!

۱۶۹- «إِنْ لَمْ تَزْرَعْ أَشْجَارَ جَدِيدَةٍ مَكَانَ الْأَشْجَارِ الَّتِي تَقْطَعُ فَلَنْتَوَقَّعَ هَدْمَ الْغَابَاتِ!»:

- (۱) اگر درختان تازه را به جای درختان قطع شده نکاری، باید منتظر از بین رفتن جنگلها باشیم!
- (۲) اگر به جای درختانی که قطع می‌کنی درختانی جدید نکاری، نابودی جنگلها را باید پیش‌بینی کنیم!
- (۳) اگر به جای درختانی که قطع می‌گردد درختان جدیدی کاشته نشود، باید در انتظار نابودی جنگلها باشیم!
- (۴) اگر درختان تازه‌ای کاشته نشوند به جای درختان بریده شده، از بین رفتن جنگلها را پیش‌بینی می‌کنیم!

۱۷۰- عین الخطأ:

- (۱) بُعْدًا لِمَنْ يَحْتَلُّ أَرْضِي الْأَخْرَيْنِ عَالِمًا: دور باد کسی که سرزمینهای دیگران را آگاهانه اشغال می‌کند!
- (۲) مَا أَجْمَلُ هَذِهِ الْأَقَالِيمِ الْخَضْرَاءُ! خَلْفَهَا لَنَا أَجْدَادُنَا: این سرزمینهای سبز چه زیباست! نیاکان ما آنها را برای ما به جا گذاشته‌اند!
- (۳) إِذَا كَانَتْ الْأَخْلَاقُ الْحَسَنَةُ مِنْ تَرَاثِ الْإِنْسَانِ نَحْبًا أَنْ نَرْتُهَا: اگر اخلاق خوب از جمله میراث انسان باشد دوست داریم آن را به ارث بگذاریم!
- (۴) يَشِقُّ الْمُهَنْدِسُونَ الْجِبَالَ وَ يُهَيِّئُونَ لَنَا طَرِيقًا لِلْمُرُورِ مِنْهُ نَحْوَ شِمَالِ الْبِلَادِ: مهندسان کوهها را می‌شکافند و برای ما راهی برای عبور از آن به سمت شمال کشور آماده می‌کنند!

۱۷۱- « دانشمندان تأکید دارند به اینکه دلفینها می توانند با بکار گرفتن صداهاى معینى سخن بگویند». عین الصحیح:

- (۱) العلماء يؤكدون أن الدلافين تستطيع أن تتكلم باستخدام أصوات معينة.
- (۲) يؤكدون العلماء أن الدلافين يمكن أن تتكلم بسبب إيجاد أصوات معينة.
- (۳) يؤكد العلماء بأن الدلافين تقدر على التكلم بواسطة إيجاد الأصوات الخاصة.
- (۴) تأكيد العلماء هو أن الدلافين قادرة على التكلم عن طريق الأصوات الخاصة.

۱۷۲- عین ما یختلف عن الباقي في المفهوم:

- (۱) لين اللسان قيد القلوب!
- (۲) لسانك اللطيف يأتي بمن هرب!
- (۳) ربّ نظرة أفصح من لسان!
- (۴) المحافظة على اللسان تجلب الصداقة!

■ ■ عین الخطأ في الإعراب و التحليل الصرفي (۱۷۳ - ۱۷۵)

۱۷۳- ﴿ إذا قرئ القرآن فاستمعوا له و أنصتوا لعلكم ترحمون ﴾:

- (۱) أنصتوا: فعل أمر - للجمع المخاطب - مزيد ثلاثي (من باب إفعال) / فعل و فاعله ضمير الواو، و الجملة فعلية
- (۲) إستمعوا: فعل أمر - مزيد ثلاثي (من باب افتعال) - صحيح و سالم - لازم / فعل و فاعل، و الجملة فعلية و جواب شرط
- (۳) ترحمون: مضارع - مجرد ثلاثي - متعدّد - مجهول / فعل و نائب فاعله ضمير الواو، و الجملة فعلية و خبر « لعلّ » و مرفوع محلاً
- (۴) قرئ: ماضٍ - مجرد ثلاثي - معتل و ناقص - متعدّد - مجهول (= مبني للمجهول) / فعل و نائب فاعله « القرآن » و الجملة فعلية و شرطية

۱۷۴- « هل تُعطى الجوائز اليوم لمن هو أهل لذلك؟ »:

- (۱) اليوم: مفرد مذكر - جامد - معرفّ بال - معرب - صحيح الآخر - منصرف / مضاف إليه و مجرور
- (۲) من: اسم - موصول عامّ أو مشترك - معرفة - مبني على السكون / مجرور محلاً بحرف الجر؛ لمن: جار و مجرور
- (۳) هو: اسم - ضمير منفصل مرفوع - للغائب - معرفة - مبني على الفتح / مبتدأ و مرفوع محلاً، و الجملة اسمية و صلة
- (۴) تعطى: مضارع - مزيد ثلاثي (من باب إفعال) - معتل و ناقص - متعدّد - مجهول (= مبني للمجهول) / فعل و نائب فاعله « الجوائز » و الجملة فعلية

١٧٥- « صاحبيا هذا العُشَّ يظنَّان أنه ابنهما »:

- (١) صاحبيا: مثني مذكر - مشتق و اسم فاعل - معرف بالإضافة - معرب - صحيح الآخر - منصرف / مبتدأ و مرفوع بالألف و الجملة اسمية
- (٢) يظنَّان: مضارع - للمثنى الغائب - مزيد ثلاثي (من باب تفعيل) - صحيح و مضاعف / فعل و فاعله ضمير الألف، و الجملة فعلية و خبر
- (٣) العُشَّ: اسم - مفرد مذكر - معرف بأل - معرب - صحيح الآخر - منصرف / عطف بيان و مجرور بالتبعية من « هذا »
- (٤) ابن: اسم - مفرد مذكر - معرف بالإضافة - معرب - صحيح الآخر - منصرف / خبر لحرف « إن » المشبهة بالفعل و مرفوع

■ ■ عین المناسب للجواب عن الأسئلة التالية (١٧٦-١٨٥)

١٧٦- عین الخطأ في ضبط حركات الحروف:

- (١) نَحْنُ قَدَّمْنَا شِبابًا أَعزَاءَ في الحربِ، حَتَّى اسْتَطَعْنَا أن نَهزِمَ العَدُوَّ.
- (٢) تَوَاجِهَ بِإِلْدُنَا اليَوْمَ أَرْمَةٌ شَدِيدَةٌ في قَلْبِ المِياهِ، و هي تَزْدَادُ يَوْمًا بَعْدَ يَوْمٍ.
- (٣) قَدْ أَظْهَرَ عِيسَى (ع) مُعْجَزَتَهُ بِشِفَاءِ المَرْضَى و أَحْيَاءِ المَوْتَى، عِنْدَمَا بُعِثَ.
- (٤) خَافَ هِشَامٌ مِن أن يَعرِفَهُ أَهلُ الشَّامِ و يَربَعُوا فيهِ، فقال: لا أَعْرِفُهُ، يا رَجُلُ.

١٧٧- عین الخطأ (في التفضيل):

- (١) شاهدتُ زينب الكبرى و هي تشترك في المسابقة!
- (٢) إنها الأستاذة الأفضل و كأنها قد ملكت قلوب طالباتها!
- (٣) كانت أختي الصغرى زميلة أختك الوسطى في المدرسة!
- (٤) إن تلميذاتي أصبحن أحسن من قبل في الأخلاق و الدرس!

١٧٨- عین ما ليس فيه المصدر الصناعي:

- (١) في الآثار الفائزة تتجلى الإنسانية كثيرًا!
- (٢) مقبولية الآثار بين الناس عامل أساسي لفوزها!
- (٣) نشارك في المهرجانات العالمية لنعرض آثارنا!
- (٤) بما أنه كانت له معذورية فلم يوبخه المدير على غيبته من الصف!

١٧٩- عین ما فيه الأفعال المعتلة من نوع واحد فقط:

- (١) إلهي أنظر إلي كمن ناديتَه فاجابك!
- (٢) إن أدعُ غيرَ الله فلنَ يَستجيبَ لي دعائي!
- (٣) إن أردت أن تورث الغنى، فعلم ولدك القناعة!
- (٤) لا تقل كل ما تعلم تفز في مواصلاتك الحسنة!

١٨٠- عَيْنُ الصَّحِيحِ عَنِ الْعَدَدِ:

- (١) بنى اثنا عشر طائراً عشرة أعشاشاً، و كان فيها أحد عشر فرخاً!
- (٢) كنا ثلاثين و ثلاثة طلاب في صالة واحدة و إمتحنا معلمان إثنان!
- (٣) كان في ثلاثة مستشفى ثمانية و تسعون سريراً و خمسة و ثمانون مريضاً!
- (٤) هُتِيت أربع سياراتٍ ثمانية و ستين مسافراً، و كان في كلِّ سيارة سبعة عشر مسافراً!

١٨١- عَيْنُ فِعْلًا يُمْكِنُ أَنْ يَصْبِحَ مَجْهُولًا:

- (١) من كان من الخاشعين في الصلاة مؤمناً يفلح!
- (٢) لا يذكر الإنسان ربه عادةً إلا بعد أن أصابه الدهر بمصيبة!
- (٣) ازداد المرضى في المدينة بسبب عدم مراقبة الناس صحتهم!
- (٤) بقي في مكتبة المدرسة بعض التلاميذ المجذبن لاستعارة الكتب!

١٨٢- عَيْنُ الْخَطَأِ (عَنِ النَّوَاسِخِ):

- (١) كأنَّ اللَّيْلَ سَاتَرَ أخطاءَ الْخاطِئِينَ أَكْثَرَ مِنَ النَّهَارِ!
- (٢) كانتِ الْأُمُّ تُغَطِّي طفْلها الصَّغِيرَ بِشَرَشَفٍ حَتَّى ينامَ!
- (٣) إِنَّ الْمُتَحالِفِينَ يَبْقُونَ على قَرارِهِم ما داموا عامِلونَ بِهِ!
- (٤) لا فَرِيقَ في مَدْرستِنا إِلاَّ و قد شارَكَ في إِحدى المَسابِقاتِ!

١٨٣- عَيْنُ جِوابِ الشَّرْطِ يَخْتَلِفُ:

- (١) إِنَّ يَسْتَفِدَّ الْإِنسانُ مِنْ عَقْلِهِ فَهُوَ قادِرٌ على أَنْ يَسَهِّلَ الْأَعْمالَ الصَّعْبَةَ!
- (٢) إِنَّ تُكَلِّمُوا النَّاسَ على قَدْرِ عَقولِهِم تُقْنِعوهُم و تَكسِبوا مودَّتَهُم!
- (٣) إِنَّ يُرَدِّ الكَذابُ أَنْ يُضْمَرَ شَيْئاً يَظْهَرُ في قَلتاتِ لسانِهِ!
- (٤) إِنَّ كانتِ رَوْحُ كَبيرَةٌ تَرُ أخطاءَ الْأَخْرينَ صَغيرَةً!

١٨٤- عَيْنُ الصَّحِيحِ (في الإِعْرابِ):

- (١) سبحانَ الْمَلِكِ الْقُدوسِ الَّذي لا مِثْلَ لهُ.
- (٢) سُررنا معَ المُشاهِدونَ حينَ شاهَدنا هَذا الفِيلمَ.
- (٣) لَمْ يَسْتَطِعِ الطَّلِبَةُ أَنْ يَكْتُبوا كُلَّ التَّمارينِ في الصَّفِّ.
- (٤) هاتانِ الصُّورتانِ كَلتِهما أَجْمَلُ ما كانَ في هَذهِ المَجموعَةِ.

١٨٥- عَيْنُ عَطْفِ الْبَيانِ:

- (١) ذلكَ كِتابٌ لَمْ أَرِ مِثْلَهُ في المَكْتَباتِ!
- (٢) هُوَلاءِ الإِخوةِ بَنُوا هَذهِ المَدْرسةَ.
- (٣) رأيتُ عِندَ ابنِ عَمِّي هَذا المِؤَلَّفَ!
- (٤) يا أَيُّها المَسلِمونَ اتَّحدوا فيما بَينَكم!

۱۸۶- در کدام گزینه، موضوع «حلف الفضول» از پیمان‌های منعقد شده در مکه قبل از ظهور اسلام به‌درستی بیان شده است؟

- (۱) دفاع از حریم کعبه در برابر حمله قبایل دیگر
- (۲) حل موضوع اختلاف قبایل در نصب حجرالاسود
- (۳) رعایت حرمت ماه‌های حرام و خودداری قبایل از جنگ
- (۴) دفاع از افراد ستم‌دیده و ستاندن حق آن‌ها از ستمکاران

۱۸۷- کدام گزینه، درباره خسرو انوشیروان درست است؟

- (۱) از پادشاهان مشهور سلسله ساسانی و حکومتش مصادف با ظهور اسلام بود. پدر وی خسرو پرویز نام داشت.
- (۲) او نوه خسرو پرویز سی‌وپنجمین پادشاه ساسانی بود و در دوره او ایران با حمله اعراب مسلمان مواجه گشت.
- (۳) او معروف‌ترین و بزرگ‌ترین شاه ساسانی بود؛ ولادت حضرت رسول (ص) در دوره وی رخ داد. نوه‌اش خسرو پرویز نام داشت.
- (۴) در دوره پادشاهی او سلسله ساسانی به اوج عظمت خود رسید؛ وی توسط حضرت رسول (ص) به اسلام دعوت شد و پسرش خسرو پرویز نام داشت.

۱۸۸- پس از شعب ابی‌طالب به کدام دلیل یثرب، بهترین بستر برای گسترش اسلام بود؟

- (۱) وجود پیروان ادیان مختلف و اقتصاد غیر تجاری یثرب
- (۲) عدم وجود ستیز و جنگ در یثرب به واسطه حضور یهودیان
- (۳) عدم وجود هرگونه اختلاف در میان قبائل یثرب در طول صدها سال
- (۴) آمادگی برای پذیرش دعوت پیامبر موعود به واسطه حضور یهودیان و خستگی مردم یثرب از طولانی شدن اختلافات

۱۸۹- جامعه نوپای اسلامی در مدینه و دوره حیات پیامبر (ص)، همواره با چه تهدیدهای مهمی روبه‌رو بود؟

- (۱) غزوات و جنگ‌های مختلف - جریان نفاق (۲) یهودیان - بردگان مستضعف
 - (۳) غزوات و جنگ‌های مختلف - بردگان مستضعف (۴) جریان نفاق - آزادی مردم مدینه در پیروی از دین خویش
- ۱۹۰- کدام موارد، درباره موضع‌گیری امام علی (ع) پس از پذیرش خلافت، درباره فضیلت صحابی بودن و سابقه خدمت افراد درست است؟

(الف) از اساس به انکار این موضوع پرداختند.

(ب) اعلام کردند که این امور نباید ملاک تبعیض واقع شود.

(ج) پادشاه این امور را از سوی خداوند می‌دانستند.

(د) آن را موضوعی کم‌اهمیت، فرعی و بی‌اعتبار اعلام نمودند.

- (۱) الف - ج (۲) الف - د (۳) ب - ج (۴) ب - د

۱۹۱- کدام گزینه، درباره نقش و اقدامات «ابراهیم امام» در مبارزه عباسیان علیه بنی‌امیه، درست است؟

- (۱) ابومسلم خراسانی را به ریاست نهضت در خراسان انتخاب کرد.
- (۲) مؤسس تشکیلات مخفیانه موسوم به سازمان دعوت عباسی است.
- (۳) طراح گسترش دعوت به عراق و خراسان و شعار الرضا من آل محمد است.
- (۴) برخی سران کهنه‌کار دعوت مانند ابوسلمه خلال را از کادر رهبری کنار گذاشت.

۱۹۲- کدام گزینه، از اقدامات مهدی عباسی نیست؟

- (۱) قطع کردن حقوق و مستمری بنی هاشم
- (۲) گسترش مسجدالحرام، تأسیس دیوان حربه
- (۳) تأسیس دیوان حربه، تعیین مقرری برای افراد ناتوان
- (۴) آزادی زندانیان و بازگرداندن اموال مردم که به زور از آنها ستانده شده بود.

۱۹۳- کدام یک از شعراء، برای امام رضا (ع) شعر سروده است؟

- (۱) فرزدق (۲) دجبل خزاعی (۳) أبو عیفک شاعر (۴) زید بن ثابت

۱۹۴- کدام قیام، مربوط به دوران امام حسن عسکری (ع) است؟

- (۱) قیام حسن بن زید در صبرستان
- (۲) قیام یحیی بن عمر در خراسان
- (۳) قیام اسماعیل بن یوسف در مکه
- (۴) قیام علی بن محمد مشهور به صاحب الزنج در بصره

۱۹۵- در آغاز دوره غیبت صغری، محمدیه به کدام گروه اطلاق می‌شد؟

- (۱) عده‌ای که باور داشتند امام حسن عسکری (ع) جانشینی ندارد.
- (۲) همان گروه جعفریه هستند که امامت جعفر برادر امام حسن عسکری (ع) را پذیرفتند.
- (۳) پیروان محمد پسر امام هادی (ع) که پس از درگذشت وی به امامت جعفر کذاب معتقد شدند.
- (۴) عده‌ای که امامت امام حسن عسکری (ع) را انکار کرده و به امامت اولین فرزند امام هادی (ع) گرویدند.

۱۹۶- کدام گزینه، نماد معماری عصر صفوی به شمار می‌رود؟

- (۱) سی‌وسه پل اصفهان
- (۲) میدان نقش جهان اصفهان
- (۳) کاخ عالی قاپو در نقش جهان اصفهان
- (۴) مقبره شیخ صفی‌الدین اردبیلی در شهر اردبیل

۱۹۷- واگذاری حق مصونیت قضائی (کاپیتولاسیون) به اتباع روسیه توسط کدام پادشاه و در کدام قرارداد صورت گرفت؟

- (۱) ناصرالدین شاه - آخال
- (۲) فتحعلی شاه - گلستان
- (۳) فتحعلی شاه - ترکمنچای
- (۴) ناصرالدین شاه - پاریس

۱۹۸- کدام گزینه، درباره تاریخ فلسفه و مکاتب و حوزه‌های فلسفی ایران، درست است؟

- (۱) تأسیس حوزه فلسفی تهران، سبب رکود مکتب مشاء، حکمت اشراق و حکمت متعالیه صدرایی شد.
- (۲) با برقراری روابط میان ایران و اروپا در دوره صفوی، به تدریج عالمان ایرانی با فلسفه جدید غرب آشنا شدند.
- (۳) ملاعبدالله زنوزی صاحب دو اثر ارزشمند در موضوع فلسفه به زبان فارسی و مؤسس حوزه فلسفی تهران است.
- (۴) با تأسیس مکتب فلسفی اصفهان در دوره صفوی، نگارش آثار فلسفی به زبان فارسی، روندی رو به رشد پیدا کرد.

۱۹۹- «نهضت بازگشت ادبی» یا «سبک اصفهانی» در چه دوره‌ای شکل گرفت؟

- (۱) صفویه (۲) زندیه (۳) افشاریه (۴) قاجاریه

۲۰۰- کدام یک از موارد زیر، جزو مهم‌ترین خواسته‌های معترضان در مهاجرت کبری نیست؟

- (۱) عمل به قانون اسلامی، به‌طور دقیق و به دور از ملاحظات شخصی
- (۲) فراهم کردن زمینه برای بازگشت مهاجران به تهران
- (۳) برکناری عین‌الدوله از صدارت
- (۴) تشکیل دارالشورا

۲۰۱- در کدام گزینه، با توجه به عبارت زیر، «مسئله پژوهش» به درستی تدوین شده است؟
«میزان حضور وسایل نقلیه و عابران در خیابان‌های یک شهر، به اوج خود رسیده است.»

- (۱) چرا پدیده مهاجرت شکل می‌گیرد؟
- (۲) دلایل افزایش جمعیت در کلان شهرها چیست؟
- (۳) افزایش کرین دی‌اکسید سبب افزایش دمای کره زمین شده است.
- (۴) چگونه رشد جمعیت می‌تواند در ایجاد پدیده گرمایش جهانی نقش داشته باشد؟

۲۰۲- کدام گزینه، با دلیل شکل‌گیری «کوه‌های بشاگرد» مطابقت دارد؟



- (۱) تکامل فرسایش بادی و آبی
 - (۲) برخورد خرده صفحات عمان و ایران
 - (۳) عوامل درونی و خروج گاز و یا بخار آب از اعماق زمین
 - (۴) جابه‌جایی رسوبات رودخانه‌ای و تشکیل شکل‌های جدیدی از ناهماری در سطح زمین
- ۲۰۳- کدام گزینه، دلیل مناسبی برای عبارت زیر است؟
«میزان بارش در تبریز از شیراز بیشتر است.»

- (الف) هوای سرد و مرطوب به سمت عرض‌های بالاتر حرکت می‌کند.
- (ب) با صعود هوای گرم، رطوبت به صورت بارش نازل می‌شود.
- (ج) تعداد مولکول‌های هوای سرد در واحد حجم بیشتر است.
- (د) رطوبت موجود در هوای سرد، سریع‌تر متراکم می‌شود.

(۱) الف و ب (۲) الف و ج (۳) ج و د (۴) ب و د

۲۰۴- در کدام گزینه، راهکار مناسبی برای کنترل «پیری جمعیت» تدوین شده است؟

- (۱) گسترش بهداشت اجتماعی
- (۲) تغییر ساختمان سنی جمعیت
- (۳) افزایش رشد طبیعی جمعیت
- (۴) استخراج آمار و اطلاعات دقیق

۲۰۵- کدام گزینه، دلیل مناسبی برای عبارت زیر است؟


«در سطح زمین، اشکال مختلفی از سکونتگاه‌ها به وجود آمده است.»

- (۱) چگونگی قرارگیری پدیده‌های طبیعی و انسانی
- (۲) نحوه توزیع شبکه خطوط حمل‌ونقل ریلی و جاده‌ای
- (۳) دسترسی به شرایط جغرافیایی (طبیعی، انسانی) مناسب
- (۴) نقش عوامل طبیعی و انسانی در شکل‌گیری شهر و روستا

۲۰۶- چگونه جغرافیدانان، سطح زمین را ناحیه‌بندی می‌کنند؟

- (۱) تقسیم‌بندی نواحی جغرافیایی
- (۲) تعیین حدود نواحی جغرافیایی
- (۳) مطالعه شباهت‌ها و تفاوت‌های مکان‌ها
- (۴) وحدت‌یابی مکان‌ها و فضاهای جغرافیایی

۲۰۷- کدام عبارت، دلیل مناسبی را برای «وضعیت مولکول‌های هوا» در مدل ترسیم شده، بیان می‌کند؟



- (۱) نواحی قطبی در زمستان، انرژی کمتری را دریافت می‌کنند.
- (۲) میزان پراکندگی زاویه تابش خورشید بر سطح زمین، متفاوت است.
- (۳) اشعه خورشید در منطقه استوایی در طی سال عمود و نزدیک به عمود است.
- (۴) پرتوهای خورشید در عرض‌های بالای جغرافیایی، مساحت بیشتری را در بر می‌گیرند.

۲۰۸- کدام عبارت، نادرست است؟

- (الف) در عرض‌های جغرافیایی ۱۰ درجه جنوبی تا ۱۰ درجه شمالی، میزان تولید ناخالص اولیه زیاد است.
- (ب) میزان تولید ماده آلی و سرعت رشد گیاهان در یک زیست بوم، متفاوت است.
- (ج) میزان ترکیبات آلی و توده زیستی در جنگل‌های مخروطی به سرعت رشد آن‌ها بستگی دارد.
- (د) کمترین میزان تولید مواد آلی سیاره زمین در مناطق نزدیک به قطب دیده می‌شود.

(۱) الف و ج (۲) الف و د (۳) ب و ج (۴) ب و د

۲۰۹- در کدام گزینه، هدف از تشکیل اتحادیه‌های اقتصادی - تجاری منطقه‌ای، به‌درستی بیان شده است؟

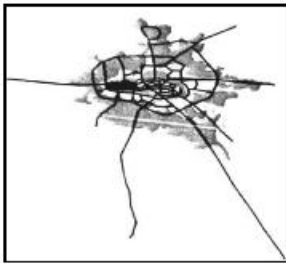
- (۱) کاهش مالیات و تعرفه‌های گمرکی و افزایش تجارت بین کشورهای عضو
- (۲) مقابله با کسری تجاری و بهبود استانداردهای زندگی و رفاه در کشورهای عضو
- (۳) دستیابی به موازنه تجاری مثبت و حذف تدریجی تعرفه‌های گمرکی کشورهای عضو
- (۴) محدود کردن واردات برخی کالاها و کاهش تأثیرات منفی تجارت در میان کشورهای عضو

۲۱۰- کدام گزینه، با توجه به «الگوی مدیریت سیاسی فضا» از وجوه شباهت دو کشور عراق و انگلستان به‌شمار می‌آید؟

- (الف) حکومت مرکزی، نقش هماهنگ‌کننده و ارتباط‌دهنده دارد.
- (ب) نظام قانون‌گذاری و سیاست‌گذاری، متمرکز است.
- (ج) مناطق خود مختار، اختیارات سیاسی و اجرایی ویژه‌ای دارند.
- (د) قوانین آموزش و پرورش و دوره‌های تحصیلی در نواحی مختلف، متفاوت است.

- (۱) الف و ج (۲) الف و د (۳) ب و ج (۴) ب و د

۲۱۱- کدام عبارت، با تصویر ترسیم شده از «هسته اولیه و روند توسعه کالبدی شهر رشت» در دوره‌های تاریخی مختلف مغایرت دارد؟

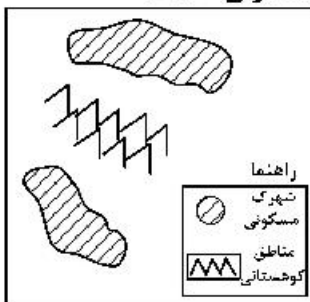


- (۱) حوزه نفوذ آن نسبت به سایر سکونتگاه‌ها، گسترده‌تر است.
- (۲) همانند سایر سکونتگاه‌های شهری و روستایی دارای مقر و موقعیت است.
- (۳) دسترسی به آب مهم‌ترین عامل طبیعی شکل‌گیری هسته اولیه آن سکونتگاه است.
- (۴) دسترسی به راه‌های ارتباطی سبب ارتقاء مرتبه آن در هرم سلسله مراتب سکونتگاهی شده است.

۲۱۲- عبارت زیر، از پیامدهای کدام ویژگی عمده «برنامه آمایش سرزمین» است؟
«دسترسی عادلانه همه مردم به حمل‌ونقل با کمترین هزینه»

- (الف) توجه به آمایش دفاعی
 - (ب) توجه به ظرفیت‌ها و توانمندی‌های همه مناطق
 - (ج) توجه به نیازهای حال و آینده
 - (د) توجه به عدالت در توسعه
- (۱) الف و ب (۲) الف و ج (۳) ب و د (۴) ج و د

۲۱۳- کدام گزینه، با توجه به تصویر زیر، «مسیر پیشنهادی مناسبی» برای «اتصال دو شهرک مسکونی» است؟

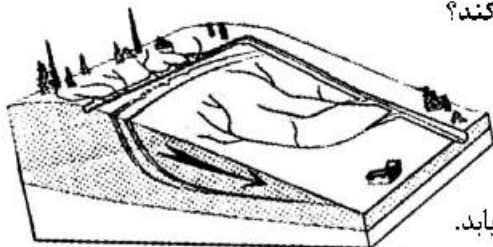


- (۱) ساخت طولانی‌ترین مسیر بدون حفر تونل
- (۲) ساخت کوتاهترین مسیر از طریق حفر تونل
- (۳) ترکیبی از مسیر طولانی و کوتاه با احداث تونل کوتاه
- (۴) ترکیبی از مسیر طولانی و کوتاه با احداث تونل بلند

۲۱۴- در کدام شرایط، احتمال وقوع سیل افزایش می‌یابد؟

- (۱) سرریز شدن جریان آب، از بستر یک رود یا دریاچه
- (۲) جاری شدن آب حاصل از بارش، در بستر یک رود
- (۳) افزایش حجم آب در زمان مشخص از مقطع معین یک رود
- (۴) بیشتر شدن حجم آب رودخانه، از میانگین سالیانه دبی آن

۲۱۵- کدام عبارت، وضعیت «شبکه زهکشی» را در مدل زیر به‌درستی بیان می‌کند؟



- (۱) سرعت تخلیه رواناب، افزایش و نفوذپذیری کاهش می‌یابد.
- (۲) سرعت تخلیه رواناب، کاهش و زمین لغزش افزایش می‌یابد.
- (۳) میزان نفوذپذیری و سرعت تخلیه آب در سطح نود لغزشی، کاهش می‌یابد.
- (۴) با هدایت انشعابات شبکه زهکشی، سرعت نفوذپذیری و زمین لغزش افزایش می‌یابد.

۲۱۶- به ترتیب عناوین زیر، در رابطه با جهان اجتماعی چه چیزی را بیان می‌کنند؟

- پدیده‌های اجتماعی خرد مانند کنش‌های اجتماعی افراد
- عقاید و ارزش‌ها
- حقوق و تکالیف افراد

- (۱) لایه‌های جهان اجتماعی - اجزای جهان اجتماعی - ویژگی جهان اجتماعی
- (۲) لایه‌های جهان اجتماعی - فرصت‌ها و محدودیت‌های جهان اجتماعی - اجزای جهان اجتماعی
- (۳) فرصت‌ها و محدودیت‌های جهان اجتماعی - عمیق‌ترین لایه‌های جهان اجتماعی - اجزای جهان اجتماعی
- (۴) اجزای جهان اجتماعی - عمیق‌ترین لایه‌های جهان اجتماعی - فرصت‌ها و محدودیت‌های جهان اجتماعی

۲۱۷- کدام یک، ویژگی‌های طبقه سوم جوامع فئودالی را به درستی بیان می‌کند؟

- (۱) این طبقه همان طبقه رعیت بود - از نظر اجتماعی مصرف‌کننده تلقی می‌شدند - از نظر قانونی دارای اعتبار بودند - از حیث هویت پست تلقی می‌شدند.
- (۲) پیدایش آن‌ها به جوامع صنعتی باز می‌گردد - از حیث هویت منفی و پست بودند - از لحاظ اجتماعی فاقد اعتبار بودند - این طبقه همان طبقه متوسط بود.
- (۳) طبقه‌ای از مردم عادی بودند - از نظر قانونی دارای اعتبار بودند - این طبقه، اشراف را مفید معرفی می‌کرد - در جوامع ماقبل فئودالی غربی ایجاد شده بودند.
- (۴) طبقه‌ای از مردم عادی که رعیت نبودند - دارای هویت منفی و پست بودند - از نظر اجتماعی و قانونی فاقد اعتبار بودند - تحمل آن‌ها به خاطر فواید و کارکردشان بود.

۲۱۸- پاسخ سؤال‌های زیر به ترتیب کدام است؟

- وقتی فردی به دیگری مهر می‌ورزد از چه جهانی به چه جهانی وارد می‌شود؟
- به چه دلیل مبادلات تجاری در سطح جهانی نامتعادل می‌شود؟
- چه کسی معتقد بود، در جهان متجدد کنش‌هایی که اهداف دنیوی را به وسیله علوم تجربی تعقیب می‌کنند به شدت رواج می‌یابد؟

- برخی از متفکران، مشکل سرنوشت‌ساز قرن بیستم را چه چیزی می‌دانند؟

- (۱) فردی به فرهنگی - وابستگی اقتصادی کشورهای استعمارزده به کشورهای استعمارگر - ماکس وبر - بحران‌های زیست‌محیطی
- (۲) فردی به تکوینی - اقتضای بازار مصرف - اگوست کنت - بحران معرفتی
- (۳) تکوینی به فرهنگی - تعدیل جهانی ثروت - مارکس - تقابلهای جهانی
- (۴) فرهنگی به اجتماعی - اقتصاد تک محصولی - ماکس وبر - فقر و غنا

۲۱۹- به ترتیب پاسخ پرسش‌های زیر چیست؟

- در چه شرایطی بشر امکان تشخیص خوب یا بد بودن هنجارها و رفتارها را از دست می‌دهد؟
- بسیاری از آدابی که ما مراعات می‌کنیم، محصول چیست؟
- شکل‌گیری تولید ملی ضعیف و شکننده نتیجه چیست؟
- چه چیزی، سکولاریسم را از لایه‌های سطحی فرهنگ غرب به لایه‌های عمیق آن تسری داد؟
- (۱) بحران معرفت شناختی - پدیده‌های اجتماعی اطراف ما - اقتصاد وابسته به نفت - فلسفه‌های روشنگری
- (۲) بحران هویتی - سنت‌ها و قوانین اجتماعی - اقتصاد دولتی - جریان‌های پست مدرن
- (۳) تعارض فرهنگی - هنجارهای اجتماعی - اقتصاد تک محصولی - فلسفه‌های روشنگری
- (۴) تزلزل فرهنگی - کنش‌های اجتماعی - شیوه سرمایه‌داری - اومانیزم

۲۲۰- به ترتیب هر یک از عناوین زیر مربوط به کدام قسمت در جدول است؟

- علم تجربی سکولار
- عقل‌گرایی، نفی وحی
- افول حس‌گرایی
- دئیسم

روشنگری		
دوره زمانی	ویژگی	پیامد
قرون هفدهم و هجدهم	ب	ه
قرون نوزدهم و بیستم	الف	د
پایان قرن بیستم	و	ج

- (۱) الف - د - ج - ب (۲) ج - و - ه - الف (۳) د - ب - و - ه (۴) ه - و - ب - د

۲۲۱- شکل‌گیری نظام نوین جهانی چگونه بود؟

- (۱) در دو سده نوزدهم و بیستم، سازماندهی سیاسی و فرهنگی جدیدی شکل گرفت که جوامع غربی را به صورت جوامع مرکزی و دیگر جوامع را به صورت جوامع پیرامونی درآورد و بدین سان نظام نوین جهانی شکل گرفت.
- (۲) در سده‌های هفدهم تا بیستم، اقتصاد گسترده‌ای شکل گرفت که تقسیم کارش از مرزهای سیاسی و فرهنگی موجود فراتر رفت و نظامی در سطح جهان با عنوان «نظام نوین جهانی» پدید آورد که جوامع غربی را به صورت مرکز و سایر جوامع را به صورت پیرامون درآورد.
- (۳) سازماندهی نظامی و سیاسی در دو سده هجدهم و نوزدهم، موجب شد کشورهای غیرغربی در حاشیه روابط و سازمان‌های سیاسی و اقتصادی جهانی وضعیتی متزلزل پیدا کرده و در نظام نوین جهانی ادغام شوند.
- (۴) در سده شانزدهم فرهنگ غرب برای بسط و گسترش ابعاد دنیوی خود به سوی حذف پوشش دینی گام برداشت و به تفسیر غیرتوحیدی فرهنگ یونان و رم بازگشت و از این به بعد نظام نوین جهانی پدید آمد.

۲۲۲- نگرش کشورهای عضو بریکس نسبت به گروه خود چیست و از سازمان همکاری شانگهای با چه عنوانی یاد می‌شود؟

- (۱) برداشتن موانع موجود بر سر راه تجارت بین‌المللی و حفظ منافع خود - پیمان باسل
- (۲) حامی و ارتقاءدهنده وضعیت کشورهای در حال رشد و نیرویی برای حفظ صلح جهان - ناتوی شرق
- (۳) شکل‌گیری براساس سیاست جهانی‌سازی اقتصادی قدرت‌های بزرگ اروپایی و آمریکایی - ناتوی شرق
- (۴) شناسایی تغییرات اقتصادی در سطح جهانی با سرمایه‌گذاری شرکت‌های بین‌المللی - جنبش عدم تعهد

۲۲۳- کدام روند، منجر به بسنده کردن به شناخت عقلی و تجربی شد؟

- (۱) فرهنگ قرون وسطی - توجه به شناخت از راه عقل و تجربه - نادیده گرفتن جایگاه وحی و شهود در شناخت علمی - ایجاد بحران معرفتی در دوران رنسانس - بسنده کردن به شناخت عقلی و تجربی
- (۲) روش تجربی تنها راه درست شناخت حقایق امور - بحران معرفتی جدید - آشکار شدن محدودیت معرفت‌های غیرحسی و غیرتجربی - نیاز به استدلال عقلی - پرداختن به شناخت عقلی و تجربی
- (۳) نادیده گرفتن شناخت از راه عقل و تجربه - توجه به کتاب مقدس و شهود آباء کلیسا به عنوان معتبرترین راه شناخت - ایجاد بحران معرفتی در دوران رنسانس - روش تجربی به عنوان تنها راه شناخت - استدلال عقلی جدید
- (۴) کتاب مقدس و شهود آباء کلیسا معتبرترین راه شناخت جهان در قرون وسطی - نادیده گرفتن شناخت از راه عقل و تجربه - ایجاد بحران معرفتی در دوران رنسانس - نادیده گرفتن جایگاه وحی و شهود در شناخت علمی - بسنده کردن به شناخت عقلی و تجربی

۲۲۴- چه زمانی، انقلاب اسلامی به رهبری امام خمینی آغاز شد؟

- (۱) مردم و عالمان در موضع فعالیت رقابت‌آمیز بودند و این فعالیت رقابت‌آمیز، با اعتراض به کاپیتولاسیون و رفتار استعماری شاه آغاز شد.
- (۲) زمانی که ایشان در نظر داشتند حرکت ناامامی که در جنبش تنباکو آغاز شده بود، ادامه یابد و یک حرکت اصلاحی رفتار و ساختار را آغاز کردند.
- (۳) شاه تحت حمایت دولت‌های غربی بود و مأموریت حفظ امنیت منطقه را برعهده داشت - روشنفکران چپ نیز از صحنه رقابت‌های سیاسی داخلی کشور حذف شده بودند.
- (۴) روشنفکران چپ از صحنه رقابت‌های سیاسی خارجی کشور حذف شده بودند و مأموریت حفظ امنیت منطقه را شاه برعهده داشت و تحت حمایت دولت‌های غربی بود.

۲۲۵- علت پیدایش هر یک از موارد زیر چیست؟

- استفاده از منابع عقلانی و وحیانی در تبیین‌های علمی جهان اسلام
- سرعت بخشیدن به انباشت ثروت سرمایه‌داران
- هویت‌زدایی از پدیده‌های اجتماعی و انسانی
- حاشیه‌نشینی

- (۱) توجه به عقل در معنای عام - تداوم انتقال ثروت به کشورهای غربی - استفاده از روش‌های تجربی و دست‌یابی به نتایج علمی و پیش‌بینی وقوع پدیده‌ها - مرکز، پیرامون
- (۲) محدود نشدن به شناخت تجربی - صنعت - دست‌یابی به پاسخ‌های ساده و کاملاً قابل پیش‌بینی درباره جرایم وقوع پدیده‌های اجتماعی - بحران زیست‌محیطی
- (۳) عدم ساماندهی همه عرصه‌های علمی توسط عقلانیت - کاهش قدرت چانه‌زنی - تنوع و تفاوت معنای پدیده‌های اجتماعی و غیرقابل پیش‌بینی بودن - فقر و غنا
- (۴) اخذ این تفاسیر از فلسفه یونان - تک محصولی شدن - امکان‌پذیر نبودن مطالعه عمق و پیچیدگی کنش‌های اجتماعی - بحران اقتصادی

۲۲۶- به ترتیب هر یک از موارد زیر نتیجه چیست؟

- امکان پذیر نمودن پیش بینی رفتار دیگران
 - افول معانی
 - حذف اراده و خلاقیت از زندگی اجتماعی
 - ایجاد مانع در برابر توسعه
- (۱) نظم اجتماعی - نادیده گرفتن کنش اجتماعی - تأکید بیش از اندازه رویکرد تبیینی بر نظم و ساختارهای اجتماعی - ارزیابی های اخلاقی و نگاه وسیله ای به قدرت و ثروت
- (۲) معنای زندگی - نادیده گرفتن قواعد اجتماعی - تأکید بیش از اندازه رویکرد انتقادی بر نظم و ساختارهای اجتماعی - ایجاد نابرابری های اجتماعی

(۳) نظم اجتماعی - بحران هویت - روی آوردن به جامعه شناسی تفسیری - نادیده گرفتن دانش و نقش تعادل بخش آن

(۴) قواعد اجتماعی - تزلزل فرهنگی - سبب شور زندگی از انسان ها - ممانعت از دستیابی به سعادت و کمال حقیقی

۲۲۷- به ترتیب مشخص کنید موارد ذکر شده با کدام نوع جامعه شناسی در ارتباط هستند؟

- بر آن چه مشاهده می شود تمرکز می کند.
- موضوع آن، کنش های اجتماعی و پیامدهای آن است.
- انتظار دارد علوم اجتماعی با تشخیص و افشای سلطه در مناسبات انسانی، به رهایی انسان کمک کند.
- از منظر آن برخی جوامع از برخی دیگر پیچیده ترند، در رفع نیازهای خود توانا ترند و به همین دلیل پیشرفته ترند.

(۱) انتقادی - تبیینی - تفسیری - تبیینی

(۲) تفسیری - تبیینی - انتقادی - تبیینی

(۳) تبیینی - انتقادی - انتقادی - تبیینی

(۴) تبیینی - تفسیری - تفسیری - تبیینی

۲۲۸- به ترتیب هر یک از این موارد با چه موضوعی ارتباط دارند؟

- جایگاه فرد در جامعه یا در یک گروه اجتماعی
- تفاوت نوع لباس پوشیدن در موقعیت های مختلف
- عبور از ظاهر پدیده های اجتماعی و راه یابی به معانی نهفته در کنش ها برای فهم زندگی اجتماعی

(۱) هویت اجتماعی - پدیده اجتماعی - نگرش جامعه شناسی انتقادی

(۲) طبقه اجتماعی - فایده نظم اجتماعی - روش جامعه شناسی تفسیری

(۳) موقعیت اجتماعی - کنش اجتماعی - رویکرد جامعه شناسی تفسیری

(۴) پایگاه اجتماعی - فایده قواعد اجتماعی - هدف جامعه شناسی انتقادی

۲۲۹- کدام یک، ویژگی جامعه شناسی تفسیری است، اما ویژگی جامعه شناسی انتقادی نیست؟

- (۱) تفاوت میان جوامع مختلف را تنها تفاوتی کمی می داند - بر ضرورت انتقاد علمی از ساختارهای سرکوبگر تأکید می کند.
- (۲) روش مطالعه، روش کمی است - صرفاً به توصیف و تبیین تبعیض نژادی در جوامع نمی پردازد، بلکه آن را تقبیح و از آن انتقاد می کند.
- (۳) به بیان چرایی یک پدیده یا نشان دادن علت ایجاد و زوال آن می پردازد - به نقد سطه در روابط و مناسبات میان افراد و گروه ها می پردازد.
- (۴) هدف معنا بخشی و انسجام بخشی به زندگی اجتماعی است - حقیقت یا فضیلت را کشف می کند تا براساس آن به نقد کنش ها و روابط میان انسان ها و جوامع بپردازد.

۲۳۰- به ترتیب کدام یک از متفکران مسلمان:

- با استفاده از روش عقلی به ارزیابی انتقادی فرهنگ هند پرداخت.
- به علت یابی واقعیت های اجتماعی و بررسی تغییرات و تحولات آن ها می پرداخت.
- با تأثیر پذیری از قرآن، به دنبال شناخت سنت های الهی در جامعه بود.
- روش او در علوم اجتماعی مشابه روش کنت در جامعه شناسی تبیینی بود.

(۱) ابن خلدون - فارابی - ابن خلدون - ابوریحان بیرونی

(۲) ابوریحان بیرونی - فارابی - ابن خلدون - ابن خلدون

(۳) فارابی - ابوعلی مسکویه - ابن خلدون - ابوریحان بیرونی

(۴) ابوریحان بیرونی - ابن خلدون - ابوعلی مسکویه - فارابی

۲۳۱- عبارت درست در رابطه با ویژگی‌های علوم اجتماعی جهان اسلام، کدام است؟

- (۱) علم اجتماعی جهان اسلام از منابع و ابزارهای تجربی برای توصیف و تبیین مسایل اجتماعی استفاده خواهد کرد.
- (۲) علم اجتماعی جهان اسلام به تبیین وضعیت موجود و آرمانی جامعه اسلامی پرداخته و درباره جامعه جهانی داوری نمی‌کند.
- (۳) عقلانیت جهان اسلام در تبیین‌های علمی بدون استفاده از حس و تجربه، با استفاده از وحی و عقل به ساماندهی می‌پردازد.
- (۴) عقلانیت در جهان اسلام به رغم تعامل با فرهنگ و سنت‌های تاریخی محیط خود، ارزش‌ها و اعتبار روشنگرانه خود را از متن فرهنگ و کنش‌های عاملان می‌گیرد.

۲۳۲- به ترتیب، این نظریه‌ها توسط چه کسانی مطرح شده است؟

- این جهان فرصت‌ها و محدودیت‌هایی را برای بشر ایجاد کرده است.
- زمانی که مردم، شیفته غلبه بر اقوام و ملل دیگر باشند، با یکدیگر همکاری می‌کنند.
- چالش‌های جامعه سرمایه‌داری، فقط با یک انقلاب قابل حل است.
- اگر جامعه‌شناس درباره درست یا غلط بودن عقاید و ارزش‌ها داوری کند، از دایره علم خارج می‌شود و با نام علم کار غیر علمی می‌کند.

- (۱) وبر - فارابی - مارکس - وبر
(۲) مارکس - وبر - فارابی - ابوعلی مسکویه
(۳) ابن‌خلدون - مارکس - وبر - هانتینگتون
(۴) فارابی - مارکس - هانتینگتون - ابن‌خلدون

۲۳۳- پاسخ سؤال‌های زیر به ترتیب کدام است؟

- روزنه ورود استعمار و نابودی هویت سیاسی، اجتماعی و فرهنگی جوامع چیست؟
- اقدام اروپائیان برای تأمین سلطه خود بر قاره آمریکا چه بود؟
- در اواخر قرن بیستم، چه چیزی محور مباحثات فکری و سیاسی شد؟
- سلطه هژمونیک از چه شیوه‌ای استفاده می‌کند؟

- (۱) سیاست - ایجاد برده‌داری - کشمکش طبقاتی - انقلاب‌های رنگین
(۲) فرهنگ - پیشرفت در فنون دریانوردی - قشربندی - قدرت نرم رسانه‌ها
(۳) ارتباطات - گسترش اقتصاد صنعتی - عدالت اجتماعی - مهندسی رضایت عمومی
(۴) اقتصاد - تسلط کشتی و از بین بردن ساکنان بومی - هویت - شیوه‌ها و ابزارهای فرهنگی

۲۳۴- درست و غلط بودن عبارت‌های زیر را تعیین کنید.

- با تغییرات و تفاوت‌هایی که در جهان اجتماعی به وجود می‌آید، مانند افول یا رشد اقتصاد و ... هویت جهان اجتماعی تغییر می‌کند.

- تأمین جمعیت مناسب برای جهان‌های اجتماعی، مسئله‌ای هویتی است.

- بیداری اسلامی در جهان امروز از مردم و فرهنگ عمومی جهان اسلام به سطح نخبگان منتقل شده است.

- مدینه ضاله، جامعه‌ای است که در اثر انحراف عملی از مدینه فاضله شکل می‌گیرد.

- (۱) د - غ - د - غ (۲) د - غ - د - د (۳) غ - د - غ - غ (۴) غ - د - د - د

۲۳۵- در ارتباط با یک کنش اجتماعی، مانند گرایش افراطی به فضای مجازی، به ترتیب هر یک از رویکردهای سه‌گانه جامعه‌شناسی تبیینی، تفسیری و انتقادی، چگونه به بررسی آن می‌پردازند؟

(۱) بین میزان پرخاشگری با اعتیاد به فضای مجازی رابطه وجود دارد - به زمینه فرهنگی که جوانان در آن به استفاده افراطی از اینترنت می‌پردازند رجوع می‌کنند - اعتیاد به فضای مجازی برای جوانان خطرناک است و آن‌ها را از فضای واقعی زندگی جدا می‌کند.

(۲) اعتیاد به فضای مجازی موجب اخلاق‌گریزی جوانان و سقوط ارزش‌ها می‌شود - سرگرمی، هیجان، آزادی و به روز بودن، انگیزه و عامل اصلی حضور در فضاهای مجازی است - با وجود پیچیدگی این مسئله و همه‌گیر بودن آن، می‌توان به راهکارهایی برای بهبود این وضعیت دست یافت.

(۳) در هر جامعه، با توجه به ویژگی‌های فرهنگی و اجتماعی آن، می‌توان این پدیده را مورد مطالعه تجربی قرار داد - برای فهم و تفسیر این کنش، باید بفهمیم که این اعتیاد بر چه چیزی دلالت می‌کند - با استفاده از روش‌های کمی، بدون تحمیل و سرکوب این کنش، وضع مطلوب را تجویز می‌کند.

(۴) با استفاده از روش‌های کمی، به پیش‌بینی این کنش اجتماعی و راه‌های کنترل آن می‌پردازد - با توجه به پیچیدگی پدیده اعتیاد به فضای مجازی، به فهم معنای آن در گروه‌های مختلف می‌پردازد - با پذیرش معانی و اراده افراد و کشف حقیقت و فضیلت، به نقد این کنش پرداخته و وضعیت مطلوب را تجویز می‌کند.

۲۳۶- اگر کسی استدلال کند که قضیه «مریم دختر متواضعی است» یک قضیه موجبه جزئیه است؛ زیرا «مریم» مفهومی جزئی است، دچار چه مغالطه‌ای شده است؟

- (۱) تمثیل ناروا
(۲) اشتراک لفظ
(۳) تعمیم شتابزده
(۴) توسل به معنای ظاهری

۲۳۷- در کدام یک، هر سه نوع دلالت برای «مدرسه» به کار رفته است؟

- (۱) نقاش بعد از نقاشی مدرسه، به مدیر مدرسه گفت که از دانش‌آموزان بخواهد که در حفظ نظافت مدرسه همکاری کنند.
(۲) علی هنگام ورود به مدرسه، متوجه شد مدرسه را دزد برده و دانش‌آموزان با ناراحتی در حال مرتب کردن مدرسه‌اند.
(۳) دانش‌آموزان از مدرسه اجازه گرفتند تا مدرسه را برای جشن تزئین کنند و پس از اتمام کار از مدرسه خارج شوند.
(۴) مدرسه ما نزدیک یک کارخانه است. تمام مدرسه از صدای کارخانه ناراضی‌اند و قرار است مدرسه را به جای دیگر ببرند.

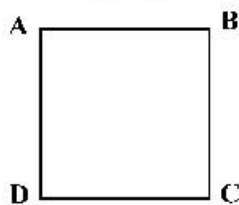
۲۳۸- کدام طبقه‌بندی درست است؟

- (۱) مقدار > شکل > مثلث > پاره‌خط
(۲) عم > تصدیق > قضیه > قضیه شرطی
(۳) تصدیق > شکل اول > قیاس > استدلال
(۴) مربع > لوزی > متوازی‌الاضلاع > چهارضلعی

۲۳۹- در کدام استدلال، مقدمات از نتیجه حمایت مطلق می‌کنند؟

- (۱) در سایت مدرسه آمده بود معلم این مدرسه دارای مدرک دکتر هستند؛ پس دبیر ما هم دکتر دارد.
(۲) دبیران دارای سابقه بالا، مانند قطعات فرسوده یک دستگاه هستند؛ باید کنار گذاشته شوند تا بتوان از نیروهای جدید و تازه نفس استفاده کرد.
(۳) با چند نفر از مدرسان این مؤسسه که صحبت می‌کردم، در تیزهوشان درس خوانده بودند؛ پس همه مدرسان آن فارغ‌التحصیل مدارس خاص‌اند.
(۴) دیروز از جلوی مدرسه‌ای عبور می‌کردم، درهایش بسته بود، جمعه یا روز تعطیل هم نبود، هوا هم که آلوده نیست؛ حتماً برای تعمیرات تعطیل کرده‌اند.

۲۴۰- اگر مربع روبه‌رو مربع تقابل باشد، امکان موارد زیر را به ترتیب بررسی کرده و پاسخ درست را انتخاب کنید؟



- جمع میان A و B در کذب
- جمع میان A و C در کذب
تشخیص صدق یا کذب A، در صورت کذب D

- (۱) امکان پذیر - غیرممکن - غیرممکن
(۲) غیرممکن - غیرممکن - امکان پذیر
(۳) غیرممکن - امکان پذیر - امکان پذیر
(۴) امکان پذیر - غیرممکن - امکان پذیر

۲۴۱- کدام مورد برای نشان دادن بطلان یک فرضیه علمی مناسب‌تر است و چرا؟

- (۱) تمثیل؛ زیرا توجه به وجوه اختلاف در تمثیل، می‌تواند عدم قطعیت و نادرستی فرضیه نامبرده را نشان دهد.
(۲) استنتاج بهترین تبیین؛ زیرا در مسائل علمی از این نوع استنتاج جهت بررسی فرضیه‌ها استفاده بسیار می‌شود.
(۳) استقراء؛ زیرا در بررسی یا نقض قانون‌های علمی، روش تجربی که مبتنی بر استدلال‌های استقرایی قوی است، به کار می‌رود.
(۴) آوردن مثال نقض؛ زیرا برای ابطال یک قانون علمی، کافی است نشان دهیم که محمول در مورد یکی از افراد موضوع صدق نمی‌کند.

۲۴۲- نتیجه و مقدمه دوم یک قیاس به ترتیب عبارتند از: «بعضی الف ب است» و «هر ج ب است». مقدمه اول آن، کدام یک از قضایای زیر باشد، تا اعتبار قیاس حفظ شود؟

- (۱) بعضی الف ج است.
(۲) هیچ ج الف نیست.
(۳) بعضی ج الف نیست.
(۴) هیچ الف ج نیست.

۲۴۳- کدام قیاس معتبر است؟

- (۱) اگر این قلم می‌نویسد، پس جوهر دارد. قلم جوهر دارد؛ پس می‌نویسد.
(۲) اگر علی به خانه آمده بود، در قفل نبود. در قفل است، پس علی نیامده است.
(۳) هیچ درنده‌ای علفخوار نیست. بعضی از علفخوارها یال دارند؛ پس بعضی از درندگان یال ندارند.
(۴) اگر جسمی فلزی باشد، در اثر حرارت داغ می‌شود. این ظرف فلزی نیست؛ پس در اثر حرارت داغ نمی‌شود.

۲۴۴- کدام مورد را می‌توان پرسش فلسفی دانست؟

- (۱) فلسفه چگونه دانشی است؟
- (۲) فلسفه خواندن نماز چیست؟
- (۳) زندگی کردن چه فایده‌ای دارد؟
- (۴) آیا تفکر تابع قواعد خاصی است؟

۲۴۵- کدام عبارت بیان‌کننده اندیشه‌های فیثاغورس و پیروان او است؟

- (۱) نظم ریاضی در همه موجودات جریان دارد و جهان را فقط با دانش ریاضیات می‌توان شناخت.
- (۲) جهان ساختاری ریاضی دارد و مبادی اولیه موجودات، همان اصول شکل‌ها و عددها هستند.
- (۳) اصول ریاضیات درباره همه موجودات صادق است؛ زیرا عناصر اولی موجودات، سازنده اعداد هستند.
- (۴) اصول و مبادی اولیه جهان، سازنده اعداد و اصول اعدادند و اعداد، موجودات جهان را شکل داده‌اند.

۲۴۶- با بیان کدام‌یک از عبارات‌های زیر، فرد دچار تناقض شده است؟

- (۱) هیچ‌کس نیست که بتواند آن چه را خودش فهمیده، به دیگری هم منتقل کند.
- (۲) هیچ‌کس نیست که بتواند واقعیت داشتن یا واقعیت نداشتن جهان را با علم اثبات کند.
- (۳) هیچ‌یک از شناخت‌هایی که تاکنون درباره ساختار جهان به دست آورده‌ایم، عین واقعیت نیست.
- (۴) حواس ما کم و بیش دچار خطا می‌شود، بنابراین هیچ‌یک از یافته‌های حواس قابل اعتماد نیستند.

۲۴۷- این گزاره که «حواس برخلاف عقل، به تنهایی قادر به درک خطاهای خود نیستند»، با کدام‌یک از حیطه‌های زیر در

معرفت‌شناسی ارتباط بیشتری پیدا می‌کند؟

- (۱) ماهیت شناخت
- (۲) امکان شناخت
- (۳) ابزارهای شناخت
- (۴) ارزش شناخت

۲۴۸- کدام عبارت بیانگر نظر دکارت است؟

- (۱) با استفاده از دلایل استوار عقلی، پی می‌بریم که انسان دارای نفس مجرد است.
- (۲) اعتقاد به اموری مانند علت و خدا، جزء ساختارهای ذهن و ذاتی انسان‌ها است.
- (۳) بخشی از معرفت‌های ما بدون استفاده از هر نوع تجربه و مقدم بر آن درک می‌شود.
- (۴) معرفت‌های ذاتی اموری شهودی هستند که درک آن‌ها به عقل یا تجربه علمی نیازی ندارد.

۲۴۹- پروانه و دوستش درباره موضوعی با هم گفت‌وگو می‌کنند. پروانه به دوستش می‌گوید من برخلاف ارسطو معتقدم

انسان یعنی موجود اخلاقی. موضوع این سخن پروانه و دوستش، کدام است؟

- (۱) مسائل اخلاقی
- (۲) فلسفه اخلاق
- (۳) موجودیت انسان
- (۴) حقیقت انسان

۲۵۰- کدام عبارت مورد اختلاف ابن سینا و ملاصدرا است؟

- (۱) انسان حقیقتی دو بعدی دارد.
- (۲) روح، موجودی مجرد با ظرفیت بی‌پایان است.
- (۳) روح موجودی غیرزمینی و از جنس مجردات است.
- (۴) هر اتفاقی برای جسم رخ دهد، روح خبردار می‌شود.

۲۵۱- کدام عبارت درست است؟

- (۱) به اعتقاد ارسطو یکی از عملکردهای اخلاقی عقل این است که برای مثال، درک می‌کند فضیلت قوه غضب، خویشتن‌داری است.
- (۲) کانت معتقد است کاری که انسان در آن نفع شخصی نداشته باشد، فضیلت شمرده می‌شود؛ مانند وقتی که از روی دلسوزی به کسی کمک می‌کند.
- (۳) به اعتقاد فیلسوفان مسلمان، گرایش به خیر اخلاقی و تمایلات متضاد با آن، کم و بیش در همه انسان‌ها، چه معتقد به خدا باشند و چه نباشند، وجود دارد.
- (۴) از آن‌جا که فیلسوفان طبیعت‌گرا و ماتریالیست فقط منافع شخصی را به رسمیت می‌شناسند، معتقدند هرگاه انسان بتواند، باید به هر میزان که می‌خواهد آزاد باشد.

۲۵۲- حمل یگانه بر غنی بالذات، از نظر نسبت، مانند کدام حمل است؟

- (۱) شکل بر دوزنقه
- (۲) گیاه بر دارای حیات
- (۳) منحصر به فرد بر مولود کعبه
- (۴) دوزنقه بر دارای چهار ضلع

۲۵۳- کدام عبارت دربارهٔ علیّت، مورد اختلاف دکارت و فیلسوفان مسلمان است؟

- (۱) اصلی فطری و بدیهی است.
- (۲) دانش بشری متکی بر آن است.
- (۳) درک آن از طریق تجربه امکان‌پذیر نیست.
- (۴) مصادیق آن بدون تجربه قابل شناخت نیستند.

۲۵۴- پدیدهٔ «A»، کدام‌یک از موارد باشد تا بتوانیم بگوئیم از حالت امکان ذاتی به حالت وجود بالغیر رسیده است؟

- (۱) A، ساختمانی در ذهن یک معمار است.
- (۲) A، نهال یک بذر است که باغبان می‌خواهد آن را بکارد.
- (۳) A، خاکستر چوبی است که قرار است در آتش انداخته شود.
- (۴) A، حرکت مژگان چشم است زمانی که پلک‌ها حرکت می‌کنند.

۲۵۵- در کدام عبارت، روش به‌کار گرفته شده برای اعتقاد به خداوند با بقیه متفاوت است؟

- (۱) هرچا که خوب‌تر و بهتر هست، خوب‌ترین و بهترین هم هست، پس حقیقتی هست که خوب‌ترین و بهترین است و او همان واقعیت الهی است.
- (۲) باور خدا به زندگی معنا می‌دهد و ارزش‌های اخلاقی را به‌همراه می‌آورد؛ خدایی که مبدأ خیر و زیبایی و ناظر بر انسان باشد؛ پس باید او را باور داشت.
- (۳) نمی‌شود نظم و انتظامی بر جهان حاکم باشد، مگر این‌که موجودی جاودان و برتر از ماده در کار باشد؛ زیرا هرچا که نظمی وجود دارد، باید ناظمی هم باشد.
- (۴) انسان از حقیقت نامتناهی تصویری دارد؛ این تصور نمی‌تواند از خود انسان که متناهی است، باشد؛ پس از جانب وجودی نامتناهی به انسان داده شده است.

۲۵۶- کدام عبارت درست است؟

- (۱) براساس قاعده علیّت، هر چیزی باید علتی داشته باشد.
- (۲) اساس برهان فزایی در اثبات خدا، تقدم علت بر معلول است.
- (۳) نتیجهٔ برهان وجود و امکان، تقسیم واجب‌الوجود به بالذات و بالغیر است.
- (۴) تسلسل علل نامتناهی یعنی موجودات زیادی وجود داشته باشند که با یکدیگر رابطه علی دارند.

۲۵۷- کدام عبارت بیانگر نظر اگوست کنت است؟

- (۱) نهایت تلاش عقل در شناخت واقعیات، استفاده از مشاهدات برای دستیابی به دانش‌های تجربی و پیشرفت در آن است.
- (۲) شناخت واقعیت کار حواس است و آن چه نقش عقل در علم تجربی پنداشته می‌شود، برساختهٔ فیلسوفان است.
- (۳) روش معتبر در شناخت واقعیت، تجربهٔ علمی است و عقل که به امور انتزاعی اختصاص دارد، دخالتی در آن ندارد.
- (۴) در دستگامی که فیلسوفان از جهان ارائه می‌دهند، اصول عقلی را با ساخته‌های ذهن خود، ارائه می‌دهند.

۲۵۸- در صورتی که برخی از دستاوردهای عقل با داده‌های وحی متعارض به نظر برسند، با توجه به نظرات ملاصدرا، کدام

احتمال مطرح نمی‌شود؟

- (۱) در دستاوردهای عقل خطایی رخ داده است.
- (۲) برخی از داده‌های وحی را به‌درستی نفهمیده‌ایم.
- (۳) آن‌چه را که به اشتباه، دادهٔ وحی تصور کرده‌ایم، دادهٔ وحی نیست.
- (۴) وقتی دستاوردهای عقل، با قرآن و سنت معارض به‌نظر رسد، باید عقل را کنار گذاشت.

۲۵۹- کدام عبارت را می‌توان از دیدگاه ابن سینا در طبیعت‌شناسی نتیجه گرفت؟

- (۱) همهٔ موجودات طبیعی، دارای طبیعت خاصی هستند که براساس حرکات و تحولات آن‌ها شکل می‌گیرد.
- (۲) تحقیق در ماورای طبیعت، دانشمند را از روابط میان پدیده‌ها آگاه می‌کند و به خشوع در برابر حق وا می‌دارد.
- (۳) با توجه به این‌که نظام عالم احسن است، دآوری در مورد وقایع مخرب طبیعی که خیرند یا شر، غیرممکن است.
- (۴) وجود هر موجود طبیعی، از جهاتی خیر است و از جهاتی دیگر شر؛ اما در مجموعهٔ عالم، وجودش جز خیر نیست.

۲۶۰- کدام عبارت نظر ملاصدرا را به درستی بیان می‌کند؟

- (۱) از میان دو مفهوم «انسان» و «وجود»، وجود مفهومی واقعی و انسان مفهومی ساختهٔ ذهن اشخاص است.
- (۲) ماهیت‌ها اموری ذهنی هستند که ما آن‌ها را به موجودات گوناگون نسبت می‌دهیم.
- (۳) در خارج از ذهن ما، آن‌چه که واقعاً هست، یک حقیقت است و آن، وجود است.
- (۴) با توجه به واقعی بودن وجود، هیچ جایی برای تکثر و کثرت در عالم نیست.

- ۲۶۱- کدام عبارت، در خصوص قوانین روان شناسی به عنوان یک علم تجربی درست است؟
 (۱) اصل روان شناسی از ترکیب نظریه های مختلف به دست می آید.
 (۲) در پژوهش روان شناسی پاسخ نخست به مسئله پژوهشی قانون است.
 (۳) فرضیه ای که در پژوهش های روان شناسی تأیید شود، به عنوان قانون پذیرفته می شود.
 (۴) روان شناسان یک اصل را به طور تجربی آزمون می کنند تا درستی آن را مشخص کنند.
- ۲۶۲- یک روان شناس قصد دارد در یک پژوهش علمی، اضطراب ابتلاء به بیماری کووید - ۱۹ (کرونا) را در بین بزرگسالان بررسی کند، کدام مورد، برای اینکه خوانندگان این پژوهش مفهوم اضطراب ابتلاء به این بیماری را تقریباً به طور مشابه درک کنند، لازم است؟
 (۱) توصیف (۲) ارائه فرضیه (۳) تعریف نظری (۴) تعریف عملیاتی
- ۲۶۳- در پاسخ به این سؤال که «چرا یک فرد وقتی که در جمع فرار می گیرد، متفاوت از سایر موقعیت ها عمل می کند» کدام هدف علم روان شناسی دنبال می شود؟
 (۱) تبیین (۲) توصیف (۳) پیش بینی (۴) کنترل
- ۲۶۴- کدام عبارت، ارتباط بین رشد شناختی و رشد اخلاقی را نشان می دهد؟
 (۱) رشد اخلاقی وابسته به رشد شناختی است.
 (۲) رشد شناختی وابسته به شکل گیری درک اخلاقی است.
 (۳) اخلاقی که به باور و ارزش تبدیل شده است منجر به شناخت می شود.
 (۴) داشتن شناخت نسبت به مسائل در اکثر موارد به درک اخلاقی منتهی می شود.
- ۲۶۵- کدام عبارت، از ویژگی های رشد در طی دوره کودکی است؟
 (۱) در اوایل بازی های مشترک و گروهی انجام می دهند، اما به تدریج به بازی های انفرادی می پردازند.
 (۲) بعد از نشان دادن هیجانات ساده پشیمانی و ترحم، هیجانات مرکب ترس و محبت را نشان می دهند.
 (۳) بعد از دستیابی به مهارت های حرکتی ظریف بلافاصله می توانند حرکات درشت را با مهارت انجام دهند.
 (۴) در اوایل درکی از اخلاق ندارند، اما به تدریج اصول و قوانین تعیین کننده رفتار با دیگران را یاد می گیرند.
- ۲۶۶- در بین جنبه های مختلف رشد، پدیده «ریش یا پختگی» در کدام جنبه مؤثرتر است؟
 (۱) اخلاقی (۲) جسمانی (۳) شناختی (۴) رفتاری
- ۲۶۷- فرهاد جهت ارتقای پیشرفت تحصیلی تصمیم می گیرد احتمال های مختلف را بررسی کند تا با اجرای یکایک آن ها نمرات درسی افزایش یابد. به نظر شما تصمیم فرهاد بیانگر کدام جنبه رشد و مخصوص کدام یک از دوره های رشدی است؟
 (۱) هیجانی - نوجوانی (۲) شناختی - نوجوانی
 (۳) اخلاقی - کودکی (۴) اجتماعی - کودکی
- ۲۶۸- کدام عبارت، در خصوص فرایندهای شناختی درست است؟
 (۱) درگیری حواس پنجگانه با محرک های مختلف آزردهنده است.
 (۲) ادراک، فرایند تحریک گیرنده های حسی اندام های حسی است.
 (۳) تمرکز، توجه به یک محرک از بین محرک های مختلف به صورت مداوم است.
 (۴) آگاهی نسبت به همه محرک هایی که در دامنه توجه قرار می گیرند، کامل است.
- ۲۶۹- در کدام مورد، کیفیت و کارایی عملکرد در انجام هم زمان چند تکلیف کاهش بیشتری می یابد؟
 (۱) تکالیف ساده و منحصر به فردی که فرد توانایی بالایی در انجام آن ها برخوردار است.
 (۲) تکالیف دشوار و مشابهی که فرد از یک حس برای انجام دادن آن ها استفاده می کند.
 (۳) تکالیف دشوار و منحصر به فردی که فرد از توانایی کمی در انجام آن ها برخوردار است.
 (۴) تکالیف ساده و مشابهی که فرد از حواس مختلف برای انجام دادن آن ها استفاده می کند.
- ۲۷۰- «چیزی را ادراک می کنیم که احساس نشده است»، این پدیده چه نام دارد؟
 (۱) توهم (۲) علامت انحرافی (۳) خطای ادراکی (۴) هشدار کاذب

- ۲۷۱- چه عاملی باعث می‌شود که محرک‌های بیرونی به اطلاعات روان‌شناختی معنا دار تبدیل شوند؟
 (۱) ادراک (۲) جست‌وجو (۳) انگیزندگی ذهنی (۴) ردیابی درست
- ۲۷۲- کدام مورد، در خصوص «حافظه‌کاری» درست است؟
 (۱) حافظه‌کاری در استدلال و قضاوت نقش دارد.
 (۲) در حافظه‌کاری اطلاعات برای مدت نامحدودی ذخیره می‌شود.
 (۳) جایگزینی اطلاعات جدید یا گذشت زمان باعث فراموشی در این حافظه نمی‌شود.
 (۴) از طریق تمرین و بازگویی می‌توان اطلاعات این حافظه را به حافظه کوتاه‌مدت منتقل کرد.
- ۲۷۳- بهترین شیوه کنترل اثر گذشت زمان در فراموشی، کدام است؟
 (۱) تداخل اطلاعات (۲) استفاده از نشانه‌های حسی
 (۳) مرور اطلاعات در زمان مناسب (۴) کاربرد نشانه‌های غیرمعنایی
- ۲۷۴- مشکل بسیاری از افرادی که احساس شکست می‌کنند، کدام است؟
 (۱) مشکلات عاطفی جدی دارند.
 (۲) مهارت حل مسئله را ندارند.
 (۳) از حمایت اجتماعی کافی برخوردار نیستند.
 (۴) مشکلات جسمانی جدی دارند.
- ۲۷۵- دانش‌آموزی در مواجهه با یک مسئله، با استفاده از روش‌های اکتشافی آن را حل کرده است. کدام مورد، در خصوص این دانش‌آموز درست است؟
 (۱) همه دانش‌آموزان راه‌حل او را قبول دارند.
 (۲) زمان کمی را برای حل مسئله صرف کرده است.
 (۳) با کمترین خطا به راه‌حل مسئله دست پیدا کرده است.
 (۴) براساس پردازش دقیق اطلاعات و قواعد مشخص عمل کرده است.
- ۲۷۶- کدام عبارت، در خصوص فردی که دچار تعارض گرایش - گرایش شده درست است؟
 (۱) به روش تصمیم‌گیری خود و نتایج آن اعتماد زیادی دارد.
 (۲) با موقعیتی روبه‌رو است که هم خواستنی و هم ناخواستنی است.
 (۳) قادر به تصمیم‌گیری نیست و حالت ناخوشایندی را تجربه می‌کند.
 (۴) دارای دو اولویت است که یکی ساده و معمولی و یکی پیچیده و مهم است.
- ۲۷۷- کدام سبک‌های تصمیم‌گیری به ترتیب، براساس ملاک‌های زیر است؟
 عواطف و هیجانات زودگذر
 - ناگهانی، عجله‌ای و بدون محاسبه
 - پیروی چشم بسته از دیگران
 (۱) تکانشی، اجتنابی، منطقی
 (۲) وابسته، احساسی، اجتنابی
 (۳) تکانشی، وابسته، احساسی
 (۴) احساسی، تکانشی، وابسته
- ۲۷۸- فرد بزرگسالی که از چاقی مفرط رنج می‌برد، روش‌های مختلفی را برای کاهش وزن امتحان کرده است ولی در همه آن‌ها شکست خورده است و در نهایت به این باور رسیده است که هیچ کاری برای کاهش وزن از او ساخته نیست. این مثال بیانگر کدام مفهوم است؟
 (۱) اسناد پایدار (۲) مقابله ناکارآمد
 (۳) ناهماهنگی شناختی (۴) درماندگی آموخته شده
- ۲۷۹- دانش‌آموزی را در نظر بگیرید که قرار است در کنکور سراسری شرکت کند. این دانش‌آموز وقتی در خانه تست می‌زند، نمره‌های بالایی کسب می‌کند در حالی که نمره‌های آزمون‌های آزمایشی وی به علت استرس زیاد بسیار ضعیف است. کدام عبارت، می‌تواند در مورد این دانش‌آموز درست باشد؟
 (۱) می‌تواند از آرام‌بخش ضعیف قبل از آزمون استفاده کند تا استرس وی کنترل شود به‌عنوان مقابله سازگارانه
 (۲) شناسایی روش‌های کنترل استرس در آزمون و به‌کارگیری آن‌ها در آزمون‌های آزمایشی به‌عنوان مقابله سازگارانه
 (۳) کمک گرفتن از یک مشاور متخصص برای شناسایی روش‌های کنترل استرس در آزمون به‌عنوان مقابله ناسازگارانه
 (۴) منبع استرس را به‌عنوان یک متغیر مزاحم در نظر بگیرد و آن متغیر را از زندگی خود دور کند به‌عنوان مقابله سازگارانه
- ۲۸۰- کدام عبارت، در مورد روش‌های مقابله درست‌تر است؟
 (۱) ورزشکاری که برای فراموشی احساس ضعف در شوتزنی و استرس خود از شوخ‌طبعی استفاده می‌کند.
 (۲) ورزشکاری که برای فراموشی احساس ضعف در شوتزنی و استرس خود، از تمرین آرام‌سازی استفاده می‌کند.
 (۳) کسی که روزانه با موقعیت‌های استرس‌زای زیادی روبه‌رو است و برای حفظ سلامتی خود روزانه فعالیت بدنی می‌کند.
 (۴) کسی که روزانه با موقعیت‌های استرس‌زای زیادی روبه‌رو است و برای حفظ سلامتی خود روزانه دارو مصرف می‌کند.

کد کنترل

331

A



331A



دفترچه فرهنگ و معارف اقلیت‌های
دینی و زبان‌های خارجی غیرانگلیسی
(ضمیمه دفترچه شماره ۱)

جمهوری اسلامی ایران
وزارت علوم، تحقیقات و فناوری
سازمان سنجش آموزش کشور

«اگر دانشگاه اصلاح شود مملکت اصلاح می‌شود.»
امام خمینی (ره)

آزمون سراسری ورودی دانشگاه‌های کشور - ۱۴۰۰

آزمون فرهنگ و معارف اقلیت‌های دینی
و زبان‌های خارجی غیرانگلیسی

صبح پنج‌شنبه

گروه آزمایشی
علوم انسانی

زبان‌های خارجی
آلمانی، فرانسه، روسی، ایتالیایی

فرهنگ و معارف اقلیت‌های دینی
مسیحی، زرتشتی، کلیمی

تعداد: ۲۵ سؤال مدت پاسخ‌گویی: ۲۰ دقیقه

تعداد: ۲۵ سؤال مدت پاسخ‌گویی: ۱۷ دقیقه

سال ۱۴۰۰

* داوطلب گرامی، عدم درج مشخصات و امضاء در مندرجات جدول ذیل، به منزله عدم حضور شما در جلسه آزمون است.

اینجانب..... با شماره داوطلبی..... با آگاهی کامل، یکسان بودن شماره سندلی خود را با شماره داوطلبی مندرج در بالای کارت ورود به جلسه، بالای پاسخنامه و دفترچه سؤالات، نوع و کدکنترل درج شده بر روی دفترچه سؤالات و پائین پاسخنامه ام را تأیید می نمایم.

امضاء:

- ۵۱- در کدام مورد، همواره سه عنصر «آگاهی»، «هدف» و «برنامه» وجود دارد و میان آن‌ها رابطه‌ای محکم برقرار است؟
 (۱) این سه عنصر در کل زندگی همه افراد وجود دارد.
 (۲) در تحقق هر نوع جهان بینی وجود این عناصر اجتناب ناپذیر است.
 (۳) در همه کارهایی که با اراده آدمی و براساس عقل و تدبیر او انجام می شود.
 (۴) اساسی ترین پایه‌هایی که هر جهان بینی بر آن استوار است، عناصر فوق می باشد.
- ۵۲- کدام مورد، صفت مناسبی را برای «هدف» در تعریف نظم ارائه می دهد؟
 (۱) واقعی (۲) اعتباری (۳) مشخص (۴) هماهنگ
- ۵۳- در بررسی نظامات طبیعی و موضوع حسابگری در آن‌ها، کدام مورد، بیان درست و مناسبی پیرامون دستگاه منظم می باشد؟
 (۱) در ساختن یک دستگاه منظم به وسیله انسان، تنها دو عنصر آگاهی و برنامه قابل تشخیص است.
 (۲) نظم موجود در ساختمان موجودات طبیعی همانند مصنوعات انسان بسیار عمیق و پیچیده است.
 (۳) دخالت شعور و حسابگری دقیق در پیدایش یک کامپیوتر، پیچیده تر از نظم موجود در طبیعت است.
 (۴) حکمتی که در یک درخت به کاررفته، بسیار فراتر از شعوری است که نظم در یک کامپیوتر را ایجاد نموده است.
- ۵۴- «شکستناپذیری خداوند» و «تغییر و حرکت در ذات» به ترتیب با مفهوم کدام صفت خداوند در ارتباط می باشند؟
 (۱) ثبوتیه - ثبوتیه (۲) ثبوتیه - سلبیه (۳) سلبیه - سلبیه (۴) سلبیه - ثبوتیه
- ۵۵- با کدام روش انسان همانند سایر جانداران حیات خود را حفظ نموده و امور مفید را به سوی خود جلب و امور مضر را دفع می کند؟
 (۱) توجه به فطرت پاک (۲) از مسیر تمایلات الهی
 (۳) از طریق امیال غریزی (۴) بهره بردن از علم و آگاهی
- ۵۶- چرا علوم تجربی نمی توانند جهان غیرمادی را انکار کنند؟
 (۱) به وسیله حواس، جز پدیده‌های مادی را نمی توان شناخت.
 (۲) به وسیله حواس، جز پدیده‌های غیرمادی را نمی توان شناخت.
 (۳) ابزاری که علوم تجربی از آن استفاده می نماید، حس و روح و تجربه است.
 (۴) موضع علوم تجربی در برابر طبیعت مادی و ماورای طبیعت، «نمی دانم» است.

- ۵۷- رنج دائمی از دیدن آثار فقر و بهره‌کشی در جامعه چه عاقبتی برای فرد خواهد داشت؟
- ۱) ایجاد عقده روانی و جذب در مکاتب و ایدئولوژی‌های انحرافی
 - ۲) آموزش‌های غلط و بیان استدلال‌های فاقد استحکام عقلی و نقلی
 - ۳) برداشت‌های نادرست از خدا و ساختن یک موجود موهوم و خیالی
 - ۴) هوسرانی و مقدم داشتن امیال و آرزوها برای رهایی از فقر و نهادینه شدن خودپرستی
- ۵۸- ثمرهٔ سختی‌ها و شدائد در زندگی برای انسان، کدام است؟
- ۱) از انحرافات انسان در مسیر حق‌پرستی و توحید جلوگیری می‌کند.
 - ۲) متوجه می‌شود که توجه قلبی، سرمایه‌ای بس گرانبه‌تر است.
 - ۳) همیشه انسان را به سوی کمال و سعادت پیش می‌برد.
 - ۴) او را از عالم خودبینی و خودپرستی بیرون می‌آورد.
- ۵۹- ثمرهٔ فعالیت‌های سادهٔ انسان که تحت‌تأثیر مستقیم غریزه و طبیعت و عادت انجام می‌شود، کدام است و نوع دیگر فعالیت‌های او چه نامیده می‌شود؟
- ۱) تعقیب لذت و پیروی از جاذبه غیرلازم - فعالیت‌های تدبیری
 - ۲) تأمین یکی از نیازهای حیاتی انسان - فعالیت‌های تدبیری
 - ۳) تأمین یکی از نیازهای حیاتی انسان - فعالیت‌های لذت‌جویانه
 - ۴) تعقیب لذت و پیروی از جاذبه غیرلازم - فعالیت‌های لذت‌جویانه
- ۶۰- به ترتیب، رسالت و مسئولیت هر انسان از دیدگاه تعالیم آسمانی کدام است؟
- ۱) حرکت به سوی جهان آخرت - ساختن خویش
 - ۲) حرکت به سوی جهان آخرت - فهم علوم بشری
 - ۳) جانشینی خداوند در زمین - فهم علوم بشری
 - ۴) جانشینی خداوند در زمین - ساختن خویش
- ۶۱- از بیت زیر، کدام مفهوم دریافت می‌شود؟
- «ما ز دریا می‌رویم و دریا می‌رویم»
- «ما ز بالائیم و بالا می‌رویم»
- ۱) شرط نجات و تکامل انسان، بازگشت به خویش یا خود آشنایی است.
 - ۲) انسان به‌واسطه دارا بودن مواهب فطری و اتصال به دریای بی‌کران علوم، استعداد بی‌پایان دارد.
 - ۳) در بینش الهی، انسان موجودی است که اتصال به عالم دنیا دارد و بازگشت او نیز به همان جاست.
 - ۴) تنها مکتب‌های آسمانی هستند که به علت اتصال به خالق انسان، می‌توانند از چنین رازی پرده بردارند.

۶۲- هنر، تمدن، دین و فرهنگ در کدام مکتب بازتابی از شرایط اقتصادی است و رابطه آن‌ها با اقتصاد چگونه است؟

(۱) مارکسیسم - زیربنا

(۲) مارکسیسم - روبنا

(۳) ادیان الهی - زیربنا

(۴) ادیان الهی - روبنا

۶۳- کدام مطلب، در مورد رابطه بین ایمان و عمل صحیح است؟

(۱) ایمان ارزش و اعتبار خود را از عمل صالح کسب می‌کند.

(۲) عمل ارزش و اعتبار خود را از ایمان به خدا تحصیل می‌کند.

(۳) عمل وقتی صالح و شایسته است که ریشه درخت ایمان باشد.

(۴) ایمان وقتی معنوی و کمال آفرین است که متکی بر عمل صالح باشد.

۶۴- بیت زیر، به کدام مفهوم اشاره دارد؟

«هم از بامدادان در کلبه بست به از سود و سرمایه دادن ز دست»

(۱) دلپذیری یاد مرگ برای اهل ایمان، هرگز بدان معنی نیست که آن‌ها برای حیات خویش ارزش ویژه‌ای قائل باشند.

(۲) هنگام مرگ انسان چشم به عالمی می‌گشاید و به درک حقایقی نائل می‌شود که چه بسا عمری از آن غفلت داشته است.

(۳) آنچه به هنگام مرگ بر انسان آشکار می‌گردد عبارت از بطلان دل بستگی‌های مادی و معنوی این جهان هستی است.

(۴) عمری که خارج از محور حق سپری شود نه تنها سعادت ندارد، بلکه بزرگ‌ترین نکبت‌ها را به دنبال خواهد داشت.

۶۵- بیت زیر، به کدام موضوع اشاره دارد؟

«خدا یا گر بخوانی و برانی جز انعامت دری دیگر نداریم»

(۱) بندگان واقعی خداوند، تمام تلاششان این است که هرگز گناه نکنند که مجبور به توبه شوند.

(۲) خداشناسان واقعی تا آنجا که در توان دارند بر گرد گناه نمی‌گردند و بندگی خدا می‌کنند.

(۳) توبه دری است از درهای رحمت الهی که هر بنده گنهکاری می‌تواند از آن داخل شود.

(۴) توبه عبارت از گفتن توبه کردم از انجام گناه و تصمیم قاطع بر ترک آن می‌باشد.

- ۶۶- پولی که یهودا در ازای آن به مسیح خیانت کرد، صرف چه کاری شد؟
 (۱) بین شاگردان تقسیم شد.
 (۲) به معبد عودت داده شد تا صرف امور خیر شود.
 (۳) زمینی خریداری شد که به نام حقل دما معروف گشت.
 (۴) کعبه خداوند در آن ساخته شد و مزرعه خونین نامیده شد.
- ۶۷- آنان که از کنیسه برخاستند، با استیفان مباحثه می کردند، چرا یارای مکالمه با او را نداشتند؟
 (۱) زیرا با حکمت و روح سخن می گفت.
 (۲) قدرت مسیح را در وجودش احساس می کردند.
 (۳) به سنت یهود واقف بود و با استدلال سخن می گفت. (۴) زیرا سخنانش کاملاً از فلسفه یونان سرمشق می گرفت.
- ۶۸- در شهر پافوس از جزیره قبرس، به کدام دلیل، پولس و برنابا اعلام کردند که از یهود روبرگردانده، به امتها توجه خواهند کرد؟
 (۱) دستور مستقیم شورای اورشلیم
 (۲) حسد و کفرگویی و مخالفت یهودیان
 (۳) دستور مستقیم از سوی سایر رسولان
 (۴) کفرگویی و پرستش خدایان غیر توسط یونانیان
- ۶۹- بر صلیب کشیده شدن مسیح به کدام یک از کارهای موسی تشبیه شده است؟
 (۱) با ساختن عصای برنجین که با بلند کردن آن قوم یهود از مرگ حتمی نجات یافتند.
 (۲) مجسمه مار مفرغی را بر چوب آویزان کرد و مردم با دیدن آن از مرگ نجات یافتند.
 (۳) با درست کردن آتش و گذراندن قربانی برای خداوند باعث نجات قوم یهود شد.
 (۴) ساختن کشتی و نجات مردم از بلایا
- ۷۰- چه اتفاقی باعث شد که مسیح به فریسیان بگوید: «من شما را قضاوت نمی کنم و اگر چنین کنم، قضاوت من درست است؟»
 (۱) بی ایمانی آنان به خداوند و انجام اعمال گناه آلود.
 (۲) انجام ندادن اوامر خداوند و تبعیت آنان از سنت یهود.
 (۳) هنگامی که دید یهودیان قصد سنگسار کردن زن سامری را دارند.
 (۴) اعتراض آنان به اینکه مسیح فرموده بود: من نور جهان هستم.
- ۷۱- در مثل تاک، تاک حقیقی کیست؟
 (۱) کلیسا (۲) خداوند (۳) عیسی مسیح (۴) روح القدس
- ۷۲- عیسی از چه کسی درخواست کرد که به شاگردان بگوید: خداوند زنده شده است؟
 (۱) مریم مجدلیه (۲) مریم، مادرش (۳) شمعون پطرس (۴) یوسف، پدرش
- ۷۳- منظور پولس از آیه زیر چیست؟
 «اگر چه آزادم و برده کسی نیستم ولی خود را غلام همه ساخته ام.»
 (۱) همانند دیگران شوم.
 (۲) خود را فروتن سازم.
 (۳) وسیله نجات دیگران شوم.
 (۴) در نعمت های دیگران سهیم شوم.
- ۷۴- خانواده خلویی به پولس در مورد مردم قرنتس چه گفتند؟
 (۱) تصمیم به قتل تو را دارند.
 (۲) به وعده های خداوند وفادار هستند.
 (۳) در ایمانشان ثابت قدم می باشند.
 (۴) بین آنان بحث و جدل و تفرقه وجود دارد.
- ۷۵- چه کسی تمام دارایی خود را به رسولان داد تا به نیازمندان کمک کنند؟
 (۱) حنثیا (۲) پطرس (۳) عیسی کاهن (۴) برنابای واعظ

- ۶۶- به کدام علت، اشوزرتشت به کوه اُشیدرنه رفت و به اندیشه و نیایش پرداخت؟
 (۱) پیروی از سنت پدران و نیاکان خویش
 (۲) مخالفت با آیین‌ها و رسوم جامعه آن دوره
 (۳) به دستور شاه گشتاسب و برای مناجات خداوند یکتا
 (۴) نادرست دانستن باورهای جامعه پیرامون خویش و پرسش‌های گوناگون
- ۶۷- کدام زبان جزو زبان‌های فرضی نیست؟
 (۱) اوستایی (۲) هندوایرانی (۳) هندواروپایی (۴) هندی باستان
- ۶۸- در اوستا، واژه اُشه با چه صفتی آمده است؟
 (۱) وُتیریه (۲) وُهیشته (۳) سپننه (۴) رزیشه
- ۶۹- کدام گزینه نادرست است؟
 (۱) همه تقویم‌ها بر ادوار متناوب طبیعی مانند حرکت زمین به دور محورش پایه‌گذاری شده است.
 (۲) چون یک سال خورشیدی یک بار گردش زمین به دور خورشید است، تقریباً ۳۶۵ روز و ۶ ساعت است.
 (۳) گاهشمار دستگاه یا دفتر یا جدولی است که به‌وسیله آن زمان را به سال و ماه و هفته و روز تقسیم می‌کنند.
 (۴) پژوهشگران بر این باورند که ایرانیان از دوره هخامنشیان سال را به ۱۲ ماه سی روزه و ۶ روز اضافه تقسیم می‌کردند.
- ۷۰- در گاهان چند بار واژه سوشیانت به‌کار رفته است؟
 (۱) ۴ (۲) ۵ (۳) ۶ (۴) ۷
- ۷۱- کدام گزینه، از آرمان‌های اصلی برگزاری گهنبار نیست؟
 (۱) حفظ گاه‌شمار زرتشتی
 (۲) شادی راستین و خردمندانه
 (۳) هم‌زوری و همبستگی میان بهدینان
 (۴) داد و دهش و خیرات و بهره‌مند شدن از یاری دیگران
- ۷۲- کدام گزینه، دربارهٔ واژهٔ اوستایی «ویدوآ» درست است؟
 (۱) به معنی «دانا» و از ریشه «وید» به معنی «دانستن» است.
 (۲) به معنی «دانا» و از ریشه «ویدوا» به معنی «آگاه کردن» است.
 (۳) به معنی «آگاهی‌بخش» و از ریشه «وید» به معنی «دانستن» است.
 (۴) به معنی «آگاهی‌بخش» و از ریشه «ویدوا» به معنی «آگاه کردن» است.
- ۷۳- موضوع هات ۵۳ از گاهان که مقام ارزشمند زنان را نشان می‌دهد، چیست؟
 (۱) اهمیت و نقش زنان در تربیت فرزند
 (۲) اندرز گواه‌گیری یا پیمان‌نامهٔ زناشویی
 (۳) گفتگوی اشوزرتشت با دخترش پورچیستا
 (۴) ستایش زنان و مردان پارسا که از دین زرتشتی پشتیبانی می‌کنند.
- ۷۴- کدام واژه اوستایی را «خرد مخرب» باید معنا کرد؟
 (۱) اُویدوآ (۲) آنگره مینیو (۳) اُچیشتم منو (۴) درِگوئنت
- ۷۵- نماد مادی کدام امشاسپند درست نوشته نشده است؟
 (۱) سپندارمذ - زمین
 (۲) اردیبهشت - آتش
 (۳) امرداد - آب
 (۴) بهمن - حیوانات سودمند

- ۶۶- مراحل آفرینش اولیه جهان چگونه انجام شده است؟
 (۱) با کلام و اراده خد - ا
 (۲) با کلام و عدالت خد - ا
 (۳) با اراده و رحمت خد - ا
 (۴) با اراده و عدالت خد - ا
- ۶۷- مجموعه هلاخاها و قوانین و توضیحات روی آن به ترتیب چگونه کامل شد؟
 (۱) تلمود بابلی، تلمود یروشلمی سپس میشنا
 (۲) تلمود یروشلمی، تلمود بابلی سپس میشنا
 (۳) میشنا، تلمود یروشلمی سپس تلمود بابلی
 (۴) میشنا، تلمود بابلی سپس تلمود یروشلمی
- ۶۸- کدام موضوع نشانه نظارت دایمی خد - اوند بر پدیده‌ها و سرنوشت جهان است؟
 (۱) سوکا
 (۲) دریافت تورا
 (۳) خروج از مصر
 (۴) مراسم گشایش میشکان
- ۶۹- سعید ابن سینا (شاعر عرب) می‌گوید: جالینوس فقط جسم را شفا می‌دهد ولی جسم و روح را با هم درمان می‌کند.
 (۱) ابن داوید
 (۲) ابن میمون
 (۳) ابن مشه
 (۴) ابن رشد
- ۷۰- پس از شحیطای گوساله متوجه شدیم که مری کلاً بریده شده ولی بیش از نیمی از نای بریده شده است. شرایط ذبح چگونه است؟
 (۱) حلال است.
 (۲) حرام است.
 (۳) بهتر است خورده نشود.
 (۴) این مورد فقط در پرندگان حلال می‌باشد.
- ۷۱- در زمان تدوین تلمود مرکز اصلی یهودیان کدام کشور بود؟
 (۱) بابل
 (۲) اسپانیا
 (۳) فلسطین
 (۴) امپراطوری عثمانی
- ۷۲- کدام اثر از رمبان (ربی مشه بن نحمان) نشان‌دهنده تواضع و فروتنی او می‌باشد؟
 (۱) موره نووخیم
 (۲) ایگرت هارمیان
 (۳) امونوت و دعوت
 (۴) سفر میلحموت هشتم
- ۷۳- علت رونق و رفاه زندگی یهودیان اروپای غربی در قرن هشتم میلادی چه بود؟
 (۱) عشق و امید به آمدن ماشیح
 (۲) به پرداخت جزیه مجبور نبودند.
 (۳) داشتن اقتصادی روپا در بین کشورهای اروپایی
 (۴) حکومت نیرومند شارلمانی و جمع‌آوری بسیاری از دانشمندان یهود
- ۷۴- تاریخ دریافت توراى مقدس (ده فرمان الهی) در پای کوه سینای، کدام است؟
 (۱) ۱۵ نیسان ۲۴۴۸
 (۲) ۶ نیسان ۲۴۴۸
 (۳) ۱۵ سیوان ۲۴۴۸
 (۴) ۶ سیوان ۲۴۴۸
- ۷۵- کدام مورد، در کتاب نوشته شده است؟
 (۱) تقدیر از خد - اوند به نام آفریدگار و هستی‌بخش جهان
 (۲) اهداف تربیتی فرزند توسط مادر و پدر ذکر گردیده است.
 (۳) سعادت و خوشبختی عروس و داماد از پروردگار طیب می‌شود.
 (۴) تعهدات شوهر در زمان حیات و وضعیت زن در صورت طلاق یا فوت شوهر

Partie A: Grammaire

Complétez les phrases suivantes en cochant la réponse correcte:

- 76- On fait faire ----- exercices pour améliorer l'orthographe des enfants.
1) de 2) les 3) des 4) aux
- 77- J'entends une voiture, c'est sans doute ----- de mon père.
1) celle 2) ceux 3) celui 4) celle-ci
- 78- Elle cherche une montre en argent, elle ----- a très envie.
1) y 2) en 3) la 4) le
- 79- Quand j'étais à l'école mon professeur de maths m' ----- par mon prénom.
1) a appelé 2) appelait 3) appelle 4) avait appelé
- 80- ----- est le dictionnaire que je viens de trouver? Il est à Jean, je crois.
1) A qui 2) Chez qui 3) Sur qui 4) De qui
- 81- C'est le projet sur l'environnement ----- m'a occupé toute la nuit.
1) où 2) que 3) dont 4) qui
- 82- De tous les articles que j'ai lus, ceux-ci parlent ----- du problème.
1) mieux 2) meilleur 3) le mieux 4) le meilleur
- 83- Si les enfants n'étaient pas sages je ne les ----- pas regarder la TV.
1) ai laissé 2) laisserais 3) laisserai 4) laissais
- 84- Je désire que tu ----- ma voiture plutôt que cette vieille moto.
1) prends 2) prenais 3) prennes 4) prendras
- 85- Apportez un parapluie, demain il -----.
1) pleuvra 2) pleuve 3) pleut 4) a plu

Partie B: Vocabulaire:

Complétez les phrases suivantes en cochant la réponse correcte:

- 86- Pendant le confinement, beaucoup de citadins ont fui leur petit appartement pour aller habiter leur -----.
1) résidence secondaire 2) pension
3) caserne 4) couvent
- 87- Pour compléter la vaccination de son bébé, elle a demandé un rendez-vous au -----.
1) pédiatre 2) psychologue 3) dermatologue 4) généraliste
- 88- L'héritage qu'il vient de recevoir lui ----- assez d'argent pour acheter un petit appartement.
1) emmène 2) rapporte 3) apporte 4) amène
- 89- La lecture est mon passe-temps -----.
1) content 2) favori 3) agréable 4) ennuyeux
- 90- Elle a mis ses ----- en caoutchouc pour aller faire du jardinage.
1) baskets 2) bottes 3) sandales 4) pantoufles

Partie C: Texte à Compléter:

La lune vicille du mois de mars était (91) ----- depuis plus d'un an, mais la jambe de la mère (92) ----- sans vie.

Qu'ai-je donc fait pour mériter un tel (93) -----?

Rien, mère, avait grogné Abel. Chaque soir Marie retrouvait sa mère allongée, ses yeux que nulle vie n'habitait plus. Les longs mois passés (94) ----- cette blessure ne l'avaient pas rendue plus supportable, et ce soir de mai (95) ----- le cri des hirondelles annonçait un autre été plein de lumière.

- | | | | | |
|-----|------------|--------------|------------------|--------------|
| 91- | 1) passé | 2) passés | 3) passée | 4) passées |
| 92- | 1) demeure | 2) demeurait | 3) avait demeuré | 4) a demeuré |
| 93- | 1) péché | 2) sanction | 3) punition | 4) châiment |
| 94- | 1) dès | 2) pour | 3) depuis | 4) pendant |
| 95- | 1) où | 2) qui | 3) que | 4) dont |

Partie D: Compréhension de Texte:

Lisez le texte suivant et répondez aux questions:

Beaucoup de personnes négligent ou oublient de prendre leur petit-déjeuner. Pourtant cet acte est essentiel pour bien débiter la journée, notamment pour les enfants encore en pleine croissance. Pourquoi ce repas est-il si important?

Le petit-déjeuner est le repas le plus important de la journée: lorsqu'il est pris correctement il doit apporter au corps un quart des besoins énergétiques dont il aura besoin au cours de la journée. Il est également essentiel car il permet de récupérer après le long jeûne de la nuit.

Un petit-déjeuner équilibré doit comporter un produit laitier, un fruit, un jus de fruit: ils permettent de vous apporter des besoins en vitamine C et en sucre, un produit céréalier, une boisson chaude ou froide pour se réhydrater. Il est tout à fait possible d'intégrer des produits gras et / ou sucré comme le beurre, les pâtes à tartiner, le miel ou encore les confitures.

Prendre un petit-déjeuner améliore les performances intellectuelles et améliore et augmente la concentration avant midi.

- 96- **L'auteur de ce texte -----.**
- | | |
|---------------------------------------|---------------------------------------|
| 1) informe le lecteur | 2) raconte une histoire |
| 3) critique le menu de petit-déjeuner | 4) décrit une scène de petit-déjeuner |
- 97- **Le petit-déjeuner nous donne -----.**
- | | |
|-----------------|----------------------------|
| 1) de la joie | 2) de l'énergie |
| 3) du bien-être | 4) un sentiment de fatigue |
- 98- **Choisissez le vrai:**
- 1) on peut sauter le petit-déjeuner
 - 2) le petit-déjeuner est nocif pour les enfants
 - 3) le petit-déjeuner est le dernier repas du jour
 - 4) le petit-déjeuner équilibré apporte beaucoup de vitamines
- 99- **Il ne faut pas oublier le petit-déjeuner car -----.**
- 1) il fait grossir
 - 2) il fait perdre du poids
 - 3) il améliore les relations sociales
 - 4) il améliore les performances intellectuelles
- 100- **Au petit-déjeuner, prendre une boisson chaude ou froide est utile pour -----.**
- | | |
|------------------|---------------------------|
| 1) la diabète | 2) la tension |
| 3) se réhydrater | 4) le régime amaigrissant |

А. Выберите правильный вариант ответа:

- 76- В магазине он купил журналы -----.
1) спорт 2) о спорте 3) спортом 4) спорта
- 77- ----- интересуется только литература.
1) У нее 2) От нее 3) Ей 4) Ее
- 78- Тебе надо поговорить -----.
1) с зубным врачом 2) у зубного врача
3) к зубному врачу 4) зубного врача
- 79- Я дал ----- свой фотоаппарат.
1) нашему другу 2) нашего друга 3) нашему другу 4) наш друг
- 80- Я никогда не был -----.
1) в большой театр 2) в большом театре
3) большой театр 4) большому театру
- 81- У Ирины 7 -----.
1) братья 2) братьям 3) братьях 4) братьев
- 82- Я занимаюсь -----, что меня интересует.
1) тем 2) тому 3) то 4) о том
- 83- Вчера я опять встретил -----.
1) с Ниной 2) у Нины 3) Нину 4) Нина
- 84- Сегодня вечером позвонили родственники, ----- мы должны встретиться на вокзале.
1) которые 2) с которыми 3) которым 4) которая
- 85- Я знаю девушку, ----- читает книгу.
1) который 2) о котором 3) которую 4) которая
- 86- Вчера Виктор ----- на лекцию на 5 минут.
1) опаздывает 2) опоздает 3) опоздал 4) опаздывал
- 87- Я не знаю, ----- доехать до центра.
1) как 2) почему 3) когда 4) откуда
- 88- Куда Наталия ----- каждый день?
1) едет 2) пойдет 3) ездит 4) идти
- 89- В зал вошла преподавательница, ----- нам лекции по литературе.
1) читающий 2) читающая 3) читающего 4) читающей
- 90- ----- школу, он получил в подарок от отца велосипед.
1) Окончивший 2) Окончившую 3) Окончившего 4) Окончив
- 91- Иван ----- домой поздно.
1) пришел 2) подошел 3) вошел 4) вышел

Б. Дополните текст, используя подходящее по смыслу слово.

Вот кто-то вышел из дома и остановился (92) -----: это Александр Тимофеев, или, попросту, Саша, гость, приехавший (93) ----- Москвы дней десять назад. Когда-то давно к (94) ----- хаживала за подаянием ее дальняя родственница, Марья Петровна. У нее был сын Саша. Почему-то про (95) ----- говорили, что он (96) ----- художник.

- 92- 1) в крыльце 2) на крыльцу 3) на крыльце 4) в крыльцу
 93- 1) с 2) из 3) от 4) к
 94- 1) бабушке 2) бабушка 3) бабушку 4) бабушки
 95- 1) пем 2) пим 3) пему 4) него
 96- 1) прекрасного 2) прекрасным 3) прекрасный 4) прекрасному

В. Прочитайте текст и выполните задания после него:

Один раз мы (Денис с Мишкой) вошли в зал, где у нас бывают уроки пения. Борис Сергеевич сидел за своим роялем и что-то играл потихоньку. Мы с Мишкой сели на подоконник и не стали ему мешать, да он нас и не заметил вовсе, а продолжал себе играть, и из-под пальцев у него очень быстро выскакивали разные звуки. Они разбрызгивались, и получалось что-то очень приветливое и радостное. Мне очень понравилось, и я бы мог долго так сидеть и слушать, но Борис Сергеевич скоро перестал играть. Он закрыл крышку рояля, и увидел нас, и весело сказал: О! Какие люди! Сидят, как два воробья на веточке! Ну, так что скажете?

Я спросил: – Это вы что играли, Борис Сергеевич?

Он ответил: – Это Шопен. Я его очень люблю.

Я сказал: – Конечно, раз вы учитель пения, вот вы и любите разные песенки.

Он сказал: – Это не песенка. Хотя я и песенки люблю, но это не песенка. То, что я играл, называется гораздо большим словом, чем просто «песенка».

Я сказал: – Каким же? Словом-то?

Он серьезно и ясно ответил: – Му-зы-ка. Шопен – великий композитор. Он сочинил чудесную музыку. А я люблю музыку больше всего на свете.

Тут он посмотрел на меня внимательно и сказал: – Ну, а ты что любишь? Больше всего на свете?

Я ответил: – Я много чего люблю. И я рассказал ему, что я люблю. ...

97- Куда пришли Денис с Мишкой?

- 1) в класс, где стоял рояль
 2) в зал, где у них были уроки пения
 3) в зал, где у них были уроки физкультуры
 4) в класс, где у них были уроки рисования

98- Что делал Борис Сергеевич?

- 1) отжимался 2) рисовал 3) тихонько пел 4) играл на рояле

99- О каком композиторе говорил Борис Сергеевич?

- 1) о Шопене 2) о Бахе 3) о Чайковском 4) о Моцарте

100- Что Борис Сергеевич любил больше всего на свете?

- 1) поэзию 2) спорт 3) музыку 4) живопись

Capitolo A: Indicate la risposta corretta

- 76- **Alessandro decide di parlare ----- professore di matematica.**
1) di 2) con 3) col 4) con la
- 77- **Rabat e Tripoli sono -----Africa.**
1) a 2) in 3) nell' 4) all'
- 78- **Roberto e Sandro sono rimasti a dormire fino a -----.**
1) ieri 2) tardi 3) presto 4) domani
- 79- **Adalgisa e Ada si sono laureate ----- quattro anni.**
1) a 2) per 3) in 4) di
- 80- **Chi rappresenta una parte in un'opera teatrale e'-----.**
1) attrice 2) insegnante 3) professoressa 4) cantante
- 81- **L'autoveicolo pubblico per trasporto urbano o interurbano di persone e'-----.**
1) macchina 2) aeroplano 3) treno 4) autobus
- 82- **Mi dispaice ----- che Rafaello non sta bene.**
1) sentire 2) ascoltare 3) capire 4) portare
- 83- **Oggi fa freddo e Dario si mette ----- pesante.**
1) un veste 2) un panno 3) una maglia 4) un calzino
- 84- **E' probabile che -----stasera.**
1) piova 2) piove 3) piovi 4) piovo
- 85- **Luigi, permetto che tu ----- la sua macchina.**
1) prende 2) prendi 3) prendesti 4) prenda
- 86- **Alice se ne parte senza che sua madre -----.**
1) sai 2) lo sappi 3) lo sappia 4) sappeste
- 87- **Antonio, dove hai trovato questi libri usati? ----- ho ----- al mercato.**
1) Li-comprato 2) Li-comprati 3) Lo-comprati 4) L'-comprato
- 88- **Durante il suo soggiorno a Londra, Angelo andava in biblioteca -----.**
1) ieri 2) oggi 3) stamattina 4) tutti i giorni
- 89- **Teresa e' cosi brava -----Giovanna.**
1) cosi 2) come 3) come che 4) cosi che
- 90- **Ero sicuro che Francesco mi ----- una notizia.**
1) mandi 2) mandera`
3) manderebbe 4) avrebbe mandato

Capitolo B: Completate il seguente testo con le parole proposte

'Vorresti venire alla partita oggi?' mi domando` il mio amico italiano Roberto."
(91) ----- partita stai parlando?' gli dissi, 'di una partita tennis, golf, o ping pong?'
(92) ----- che Roberto mi stava guardando con un sorriso di commiserazione. 'Come sei ignorante!' disse, pensavo che tu sapessi almeno il significato della parola "partita" quando, come oggi, e` una domenica d'inverno.' 'Ah,' risposi, 'non sapevo che il significato delle parole (93) ----- dalla stagione dell'anno. Che strana lingua parlate voi italiani!' Roberto disse 'E' molto semplice, qui, in Italia, il gioco (94) ----- popolare durante la stagione fredda e` il calcio, e la domenica tutti vanno (95) ----- vedere la partita. Così non c'e` bisogno di dire quale partita, perché tutti sanno che tu parli della partita di calcio.

- | | | | | |
|-----|--------------|------------|------------|---------------|
| 91- | 1) di quale | 2) da che | 3) come | 4) del quale |
| 92- | 1) Noti | 2) Notai | 3) Note` | 4) Noto` |
| 93- | 1) dipenda | 2) dipende | 3) dipendi | 4) dipendesse |
| 94- | 1) veramente | 2) vero | 3) giusto | 4) esatto |
| 95- | 1) a | 2) di | 3) tra | 4) con |

Capitolo C: Leggete il testo e rispondete alle domande seguenti:

Michele e Marco sono due bambini di 10 anni. Loro non si conoscono: Marco abita in città mentre Michele vive in provincia.

Michele ha la scuola, la chiesa e una bicicletta per correre su e giù nel paese. Marco ha la scuola, il catechismo e il nuoto.

Marco ha tanti giocattoli e invita spesso i compagni di scuola a casa sua. A Marco, però, non piace leggere le istruzioni e così spesso non si può giocare, qualche volta perde pure qualcosa: un dado, un segnapunti... "pazienza!", dice, "tanto la prossima settimana mi comprano un gioco nuovo!".

Michele non ha tanti giocattoli e nemmeno tanti amici con cui passare il pomeriggio. Così Michele se ne sta sempre per conto suo. Fa i compiti e poi esce, prende la bici e corre in giro per il paese.

- 96- **Michele e Marco sono due -----.**
 1) stranieri 2) amici 3) piccolini 4) vicini di casa
- 97- **La casa di Marco si trova in un luogo -----.**
 1) caro 2) alto 3) tranquillo 4) rumoroso
- 98- **Marco di solito gioca con -----.**
 1) Michele 2) i cugini
 3) i compagni di classe 4) i vicini di casa
- 99- **Chi ha tanti giocattoli?**
 1) Marco 2) Michele
 3) Gli amici di Marco 4) Gli amici di Michele
- 100- **Michele corre in giro per il paese con -----.**
 1) un automobile 2) una bicicletta
 3) una macchian 4) una motocicletta